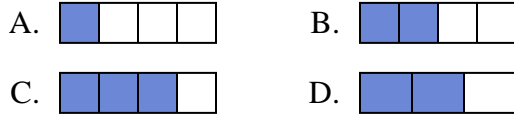
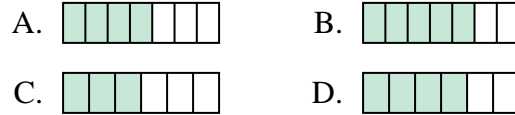


**Determina cuál opción mejor responde a cada pregunta.****Respuestas**

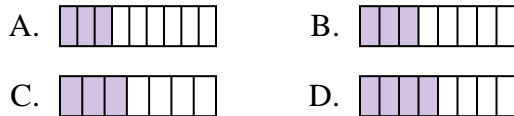
- 1) ¿Cuál de las figuras de abajo está sombreada para representar $\frac{2}{4}$?



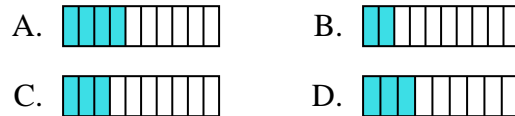
- 2) ¿Cuál de las figuras de abajo está sombreada para representar $\frac{4}{6}$?



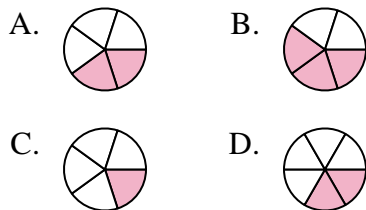
- 3) ¿Cuál de las figuras de abajo está sombreada para representar $\frac{3}{8}$?



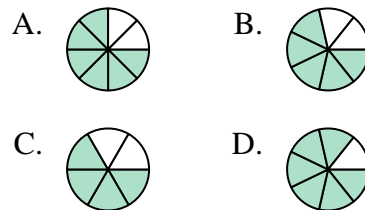
- 4) ¿Cuál de las figuras de abajo está sombreada para representar $\frac{3}{10}$?



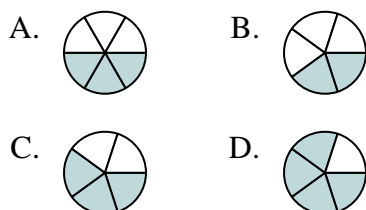
- 5) ¿Cuál de las figuras de abajo está sombreada para representar $\frac{2}{5}$?



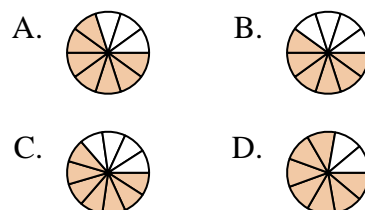
- 6) ¿Cuál de las figuras de abajo está sombreada para representar $\frac{5}{7}$?



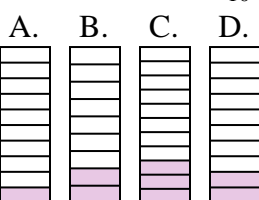
- 7) ¿Cuál de las figuras de abajo está sombreada para representar $\frac{3}{5}$?



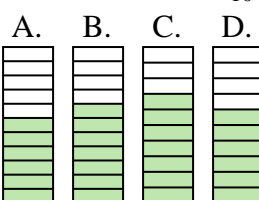
- 8) ¿Cuál de las figuras de abajo está sombreada para representar $\frac{7}{10}$?



- 9) ¿Cuál de las figuras de abajo está sombreada para representar $\frac{2}{10}$?



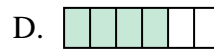
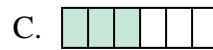
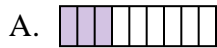



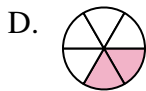
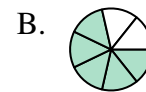

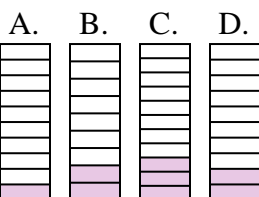



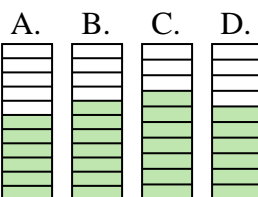
- 10) ¿Cuál de las figuras de abajo está sombreada para representar $\frac{6}{10}$?



1. _____
2. _____
3. _____
4. _____
5. _____
6. _____
7. _____
8. _____
9. _____
10. _____



Determina cuál opción mejor responde a cada pregunta.

Respuestas1) ¿Cuál de las figuras de abajo está sombreada para representar $\frac{2}{4}$?2) ¿Cuál de las figuras de abajo está sombreada para representar $\frac{4}{6}$?3) ¿Cuál de las figuras de abajo está sombreada para representar $\frac{3}{8}$?4) ¿Cuál de las figuras de abajo está sombreada para representar $\frac{3}{10}$?5) ¿Cuál de las figuras de abajo está sombreada para representar $\frac{2}{5}$?6) ¿Cuál de las figuras de abajo está sombreada para representar $\frac{5}{7}$?7) ¿Cuál de las figuras de abajo está sombreada para representar $\frac{3}{5}$?8) ¿Cuál de las figuras de abajo está sombreada para representar $\frac{7}{10}$?9) ¿Cuál de las figuras de abajo está sombreada para representar $\frac{2}{10}$?10) ¿Cuál de las figuras de abajo está sombreada para representar $\frac{6}{10}$?1. **B**2. **D**3. **B**4. **C**5. **A**6. **B**7. **C**8. **A**9. **D**10. **D**