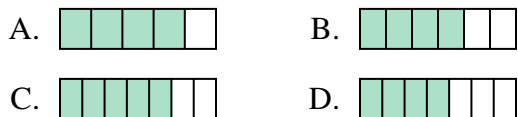




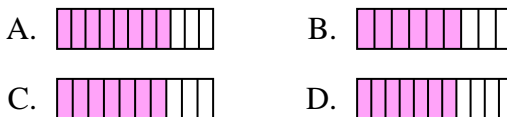
Determina cuál opción mejor responde a cada pregunta.

Respuestas

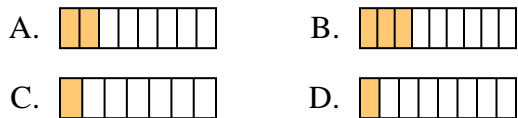
1) ¿Cuál de las figuras de abajo está sombreada para representar $\frac{4}{6}$?



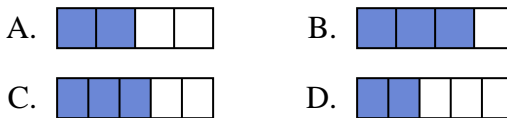
2) ¿Cuál de las figuras de abajo está sombreada para representar $\frac{7}{10}$?



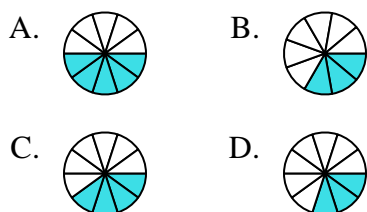
3) ¿Cuál de las figuras de abajo está sombreada para representar $\frac{2}{8}$?



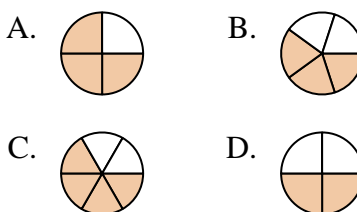
4) ¿Cuál de las figuras de abajo está sombreada para representar $\frac{2}{4}$?



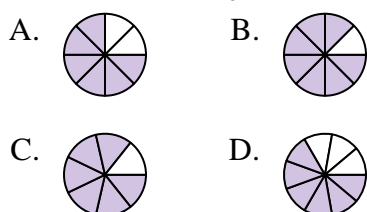
5) ¿Cuál de las figuras de abajo está sombreada para representar $\frac{4}{10}$?



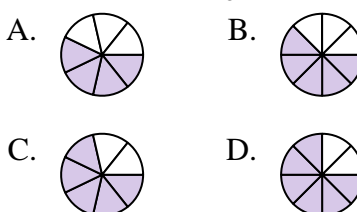
6) ¿Cuál de las figuras de abajo está sombreada para representar $\frac{3}{5}$?



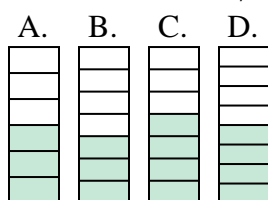
7) ¿Cuál de las figuras de abajo está sombreada para representar $\frac{6}{8}$?



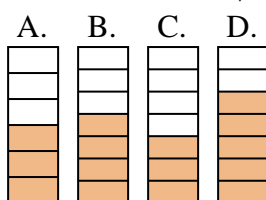
8) ¿Cuál de las figuras de abajo está sombreada para representar $\frac{5}{8}$?



9) ¿Cuál de las figuras de abajo está sombreada para representar $\frac{3}{7}$?



10) ¿Cuál de las figuras de abajo está sombreada para representar $\frac{4}{7}$?



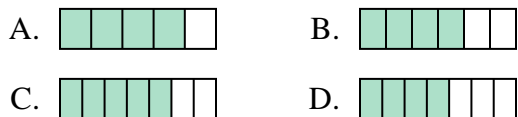
1. _____
2. _____
3. _____
4. _____
5. _____
6. _____
7. _____
8. _____
9. _____
10. _____



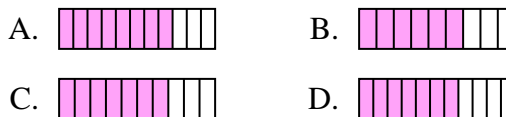
Determina cuál opción mejor responde a cada pregunta.

Respuestas

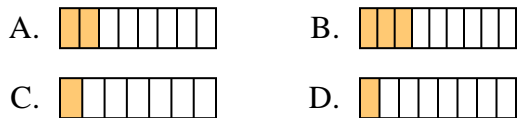
1) ¿Cuál de las figuras de abajo está sombreada para representar $\frac{4}{6}$?



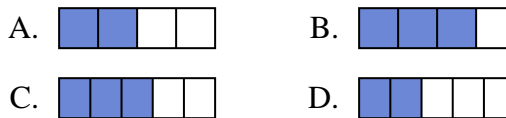
2) ¿Cuál de las figuras de abajo está sombreada para representar $\frac{7}{10}$?



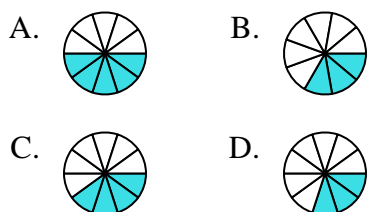
3) ¿Cuál de las figuras de abajo está sombreada para representar $\frac{2}{8}$?



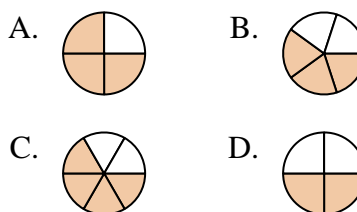
4) ¿Cuál de las figuras de abajo está sombreada para representar $\frac{2}{4}$?



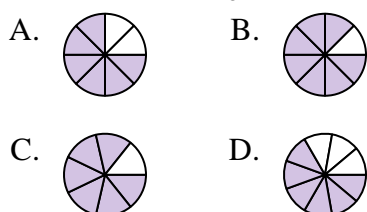
5) ¿Cuál de las figuras de abajo está sombreada para representar $\frac{4}{10}$?



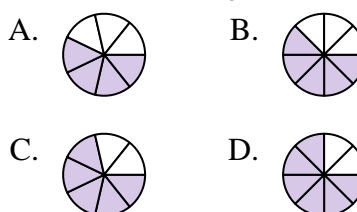
6) ¿Cuál de las figuras de abajo está sombreada para representar $\frac{3}{5}$?



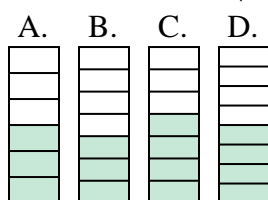
7) ¿Cuál de las figuras de abajo está sombreada para representar $\frac{6}{8}$?



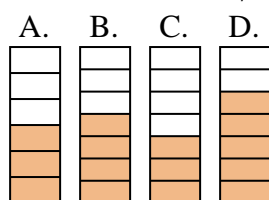
8) ¿Cuál de las figuras de abajo está sombreada para representar $\frac{5}{8}$?



9) ¿Cuál de las figuras de abajo está sombreada para representar $\frac{3}{7}$?



10) ¿Cuál de las figuras de abajo está sombreada para representar $\frac{4}{7}$?



1. **B**

2. **C**

3. **A**

4. **A**

5. **C**

6. **B**

7. **A**

8. **B**

9. **B**

10. **B**