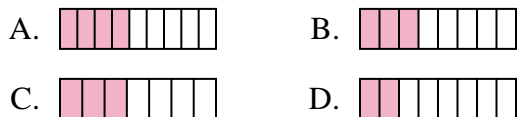




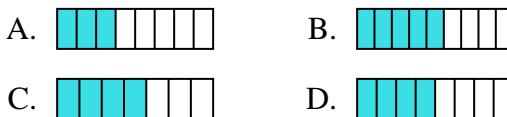
**Determina cuál opción mejor responde a cada pregunta.**

**Respuestas**

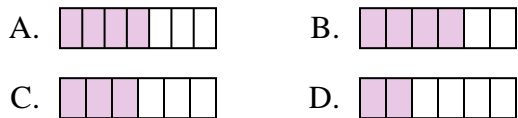
1) ¿Cuál de las figuras de abajo está sombreada para representar  $\frac{3}{8}$ ?



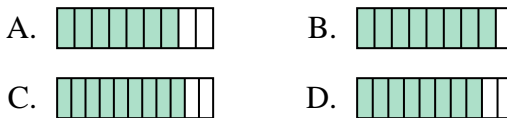
2) ¿Cuál de las figuras de abajo está sombreada para representar  $\frac{4}{8}$ ?



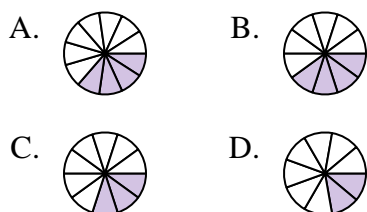
3) ¿Cuál de las figuras de abajo está sombreada para representar  $\frac{3}{6}$ ?



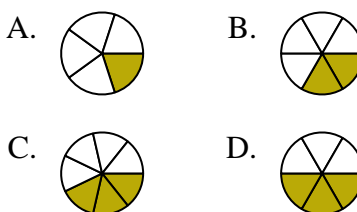
4) ¿Cuál de las figuras de abajo está sombreada para representar  $\frac{8}{10}$ ?



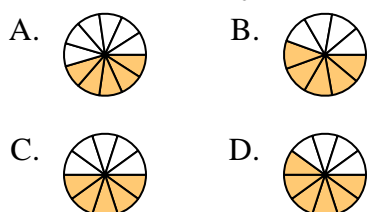
5) ¿Cuál de las figuras de abajo está sombreada para representar  $\frac{3}{10}$ ?



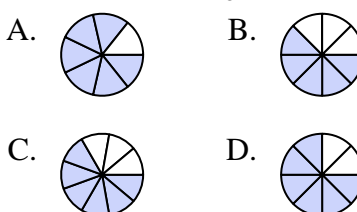
6) ¿Cuál de las figuras de abajo está sombreada para representar  $\frac{2}{6}$ ?




7) ¿Cuál de las figuras de abajo está sombreada para representar  $\frac{5}{10}$ ?



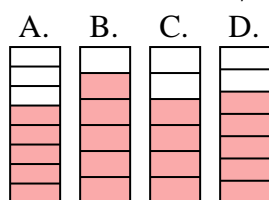
8) ¿Cuál de las figuras de abajo está sombreada para representar  $\frac{6}{8}$ ?



9) ¿Cuál de las figuras de abajo está sombreada para representar  $\frac{2}{4}$ ?



10) ¿Cuál de las figuras de abajo está sombreada para representar  $\frac{5}{7}$ ?



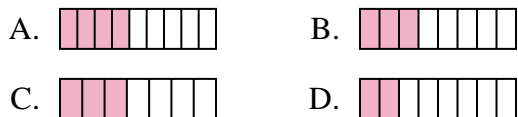
1. \_\_\_\_\_
2. \_\_\_\_\_
3. \_\_\_\_\_
4. \_\_\_\_\_
5. \_\_\_\_\_
6. \_\_\_\_\_
7. \_\_\_\_\_
8. \_\_\_\_\_
9. \_\_\_\_\_
10. \_\_\_\_\_



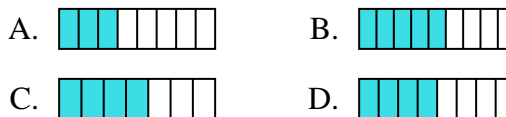
Determina cuál opción mejor responde a cada pregunta.

**Respuestas**

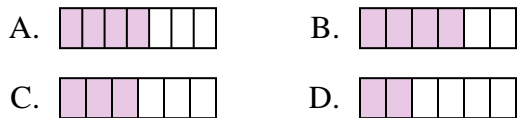
1) ¿Cuál de las figuras de abajo está sombreada para representar  $\frac{3}{8}$ ?



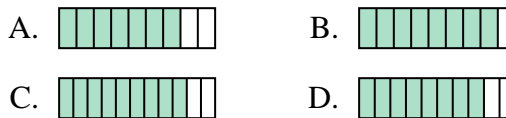
2) ¿Cuál de las figuras de abajo está sombreada para representar  $\frac{4}{8}$ ?



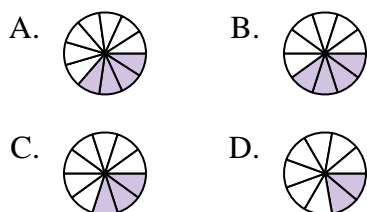
3) ¿Cuál de las figuras de abajo está sombreada para representar  $\frac{3}{6}$ ?



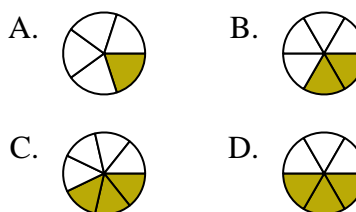
4) ¿Cuál de las figuras de abajo está sombreada para representar  $\frac{8}{10}$ ?



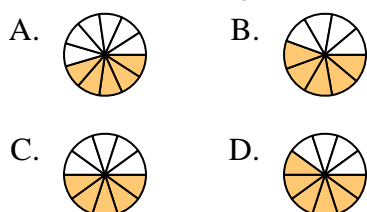
5) ¿Cuál de las figuras de abajo está sombreada para representar  $\frac{3}{10}$ ?



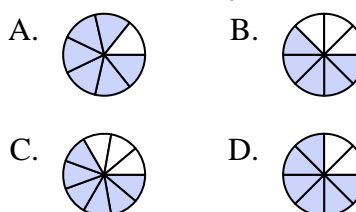
6) ¿Cuál de las figuras de abajo está sombreada para representar  $\frac{2}{6}$ ?




7) ¿Cuál de las figuras de abajo está sombreada para representar  $\frac{5}{10}$ ?



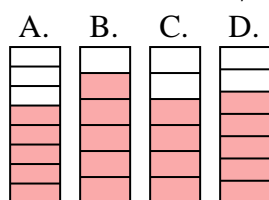
8) ¿Cuál de las figuras de abajo está sombreada para representar  $\frac{6}{8}$ ?



9) ¿Cuál de las figuras de abajo está sombreada para representar  $\frac{2}{4}$ ?



10) ¿Cuál de las figuras de abajo está sombreada para representar  $\frac{5}{7}$ ?



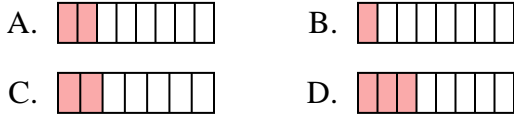
- 1.     **B**
- 2.     **D**
- 3.     **C**
- 4.     **D**
- 5.     **C**
- 6.     **B**
- 7.     **C**
- 8.     **D**
- 9.     **D**
- 10.     **D**



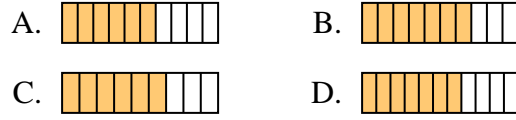
**Determina cuál opción mejor responde a cada pregunta.**

**Respuestas**

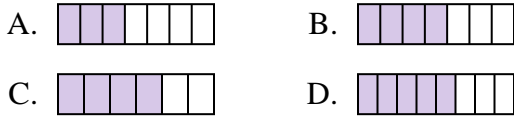
1) ¿Cuál de las figuras de abajo está sombreada para representar  $\frac{2}{8}$ ?



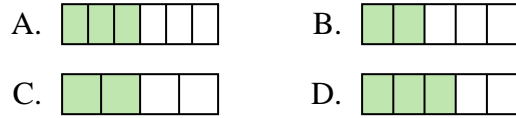
2) ¿Cuál de las figuras de abajo está sombreada para representar  $\frac{6}{10}$ ?



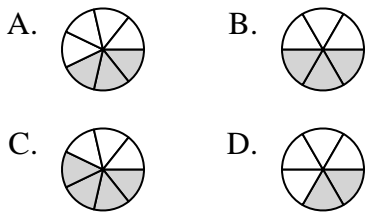
3) ¿Cuál de las figuras de abajo está sombreada para representar  $\frac{4}{7}$ ?



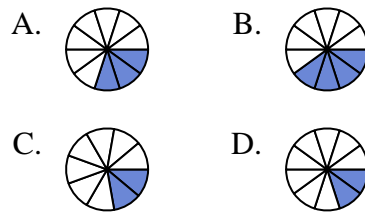
4) ¿Cuál de las figuras de abajo está sombreada para representar  $\frac{3}{5}$ ?



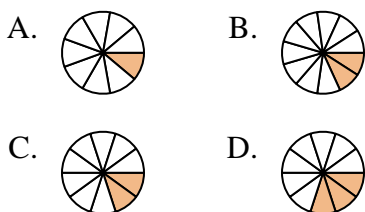
5) ¿Cuál de las figuras de abajo está sombreada para representar  $\frac{3}{7}$ ?



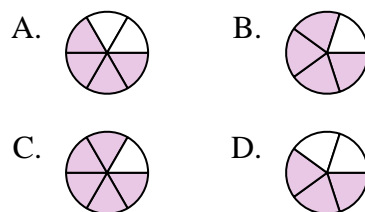
6) ¿Cuál de las figuras de abajo está sombreada para representar  $\frac{3}{10}$ ?



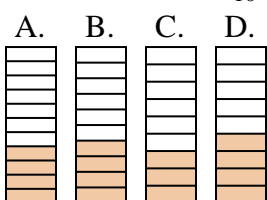
7) ¿Cuál de las figuras de abajo está sombreada para representar  $\frac{2}{10}$ ?



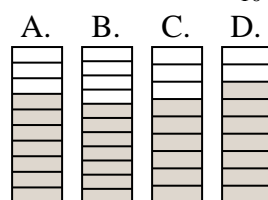
8) ¿Cuál de las figuras de abajo está sombreada para representar  $\frac{4}{6}$ ?



9) ¿Cuál de las figuras de abajo está sombreada para representar  $\frac{4}{10}$ ?



10) ¿Cuál de las figuras de abajo está sombreada para representar  $\frac{7}{10}$ ?



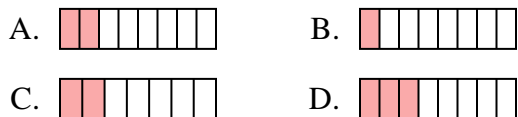
1. \_\_\_\_\_
2. \_\_\_\_\_
3. \_\_\_\_\_
4. \_\_\_\_\_
5. \_\_\_\_\_
6. \_\_\_\_\_
7. \_\_\_\_\_
8. \_\_\_\_\_
9. \_\_\_\_\_
10. \_\_\_\_\_



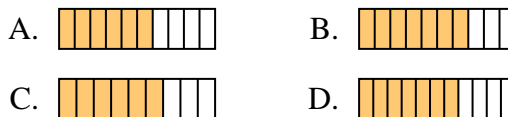
Determina cuál opción mejor responde a cada pregunta.

**Respuestas**

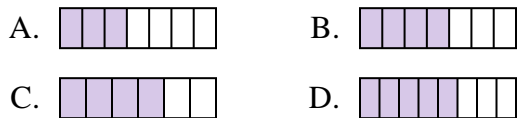
1) ¿Cuál de las figuras de abajo está sombreada para representar  $\frac{2}{8}$ ?



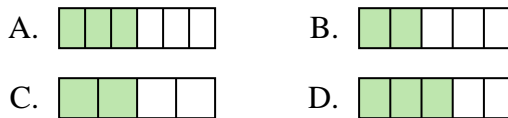
2) ¿Cuál de las figuras de abajo está sombreada para representar  $\frac{6}{10}$ ?



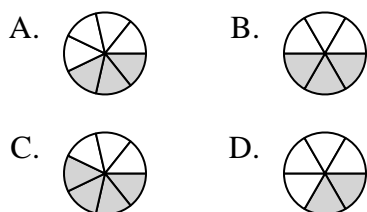
3) ¿Cuál de las figuras de abajo está sombreada para representar  $\frac{4}{7}$ ?



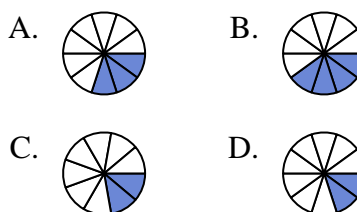
4) ¿Cuál de las figuras de abajo está sombreada para representar  $\frac{3}{5}$ ?



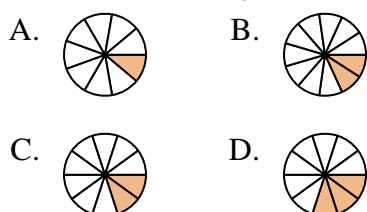
5) ¿Cuál de las figuras de abajo está sombreada para representar  $\frac{3}{7}$ ?



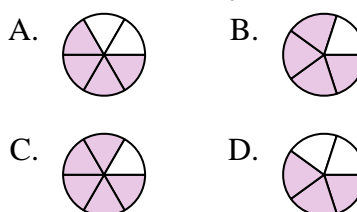
6) ¿Cuál de las figuras de abajo está sombreada para representar  $\frac{3}{10}$ ?



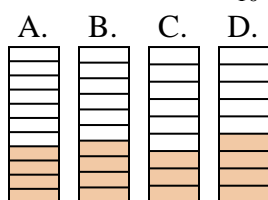
7) ¿Cuál de las figuras de abajo está sombreada para representar  $\frac{2}{10}$ ?



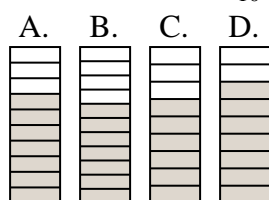
8) ¿Cuál de las figuras de abajo está sombreada para representar  $\frac{4}{6}$ ?



9) ¿Cuál de las figuras de abajo está sombreada para representar  $\frac{4}{10}$ ?



10) ¿Cuál de las figuras de abajo está sombreada para representar  $\frac{7}{10}$ ?



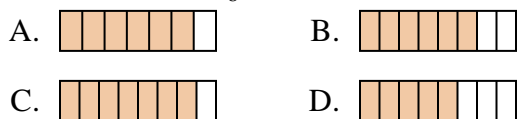
- 1.     **A**
- 2.     **A**
- 3.     **B**
- 4.     **D**
- 5.     **A**
- 6.     **A**
- 7.     **C**
- 8.     **A**
- 9.     **B**
- 10.     **A**



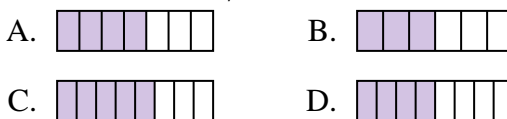
**Determina cuál opción mejor responde a cada pregunta.**

**Respuestas**

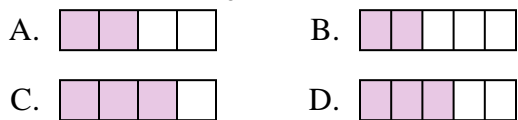
1) ¿Cuál de las figuras de abajo está sombreada para representar  $\frac{6}{8}$ ?



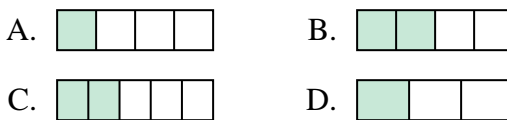
2) ¿Cuál de las figuras de abajo está sombreada para representar  $\frac{4}{7}$ ?



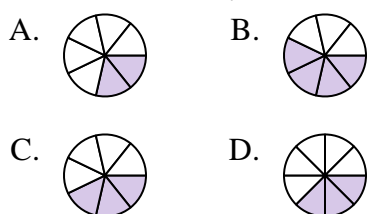
3) ¿Cuál de las figuras de abajo está sombreada para representar  $\frac{3}{5}$ ?



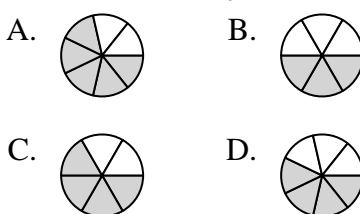
4) ¿Cuál de las figuras de abajo está sombreada para representar  $\frac{2}{4}$ ?



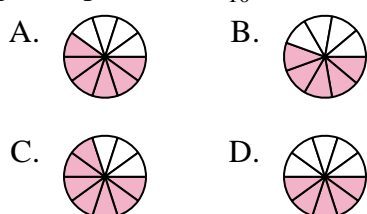
5) ¿Cuál de las figuras de abajo está sombreada para representar  $\frac{3}{7}$ ?



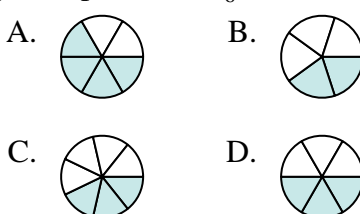
6) ¿Cuál de las figuras de abajo está sombreada para representar  $\frac{4}{6}$ ?



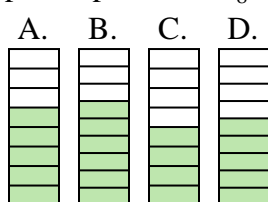
7) ¿Cuál de las figuras de abajo está sombreada para representar  $\frac{6}{10}$ ?



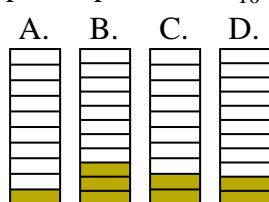
8) ¿Cuál de las figuras de abajo está sombreada para representar  $\frac{3}{6}$ ?



9) ¿Cuál de las figuras de abajo está sombreada para representar  $\frac{5}{8}$ ?



10) ¿Cuál de las figuras de abajo está sombreada para representar  $\frac{2}{10}$ ?



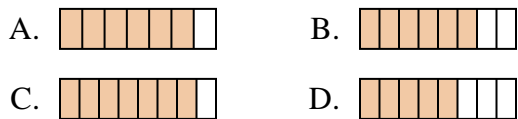
1. \_\_\_\_\_
2. \_\_\_\_\_
3. \_\_\_\_\_
4. \_\_\_\_\_
5. \_\_\_\_\_
6. \_\_\_\_\_
7. \_\_\_\_\_
8. \_\_\_\_\_
9. \_\_\_\_\_
10. \_\_\_\_\_



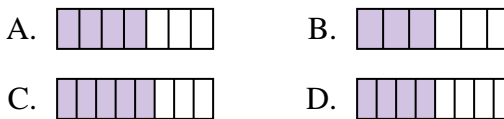
Determina cuál opción mejor responde a cada pregunta.

**Respuestas**

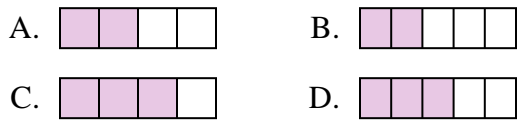
1) ¿Cuál de las figuras de abajo está sombreada para representar  $\frac{6}{8}$ ?



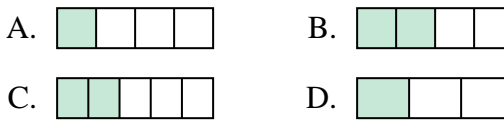
2) ¿Cuál de las figuras de abajo está sombreada para representar  $\frac{4}{7}$ ?



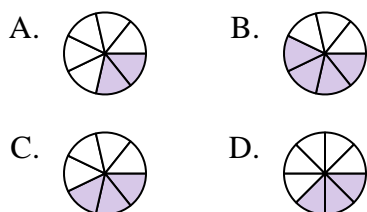
3) ¿Cuál de las figuras de abajo está sombreada para representar  $\frac{3}{5}$ ?



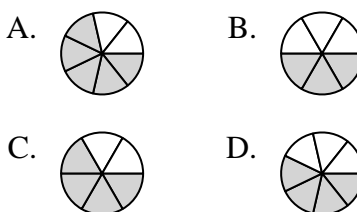
4) ¿Cuál de las figuras de abajo está sombreada para representar  $\frac{2}{4}$ ?



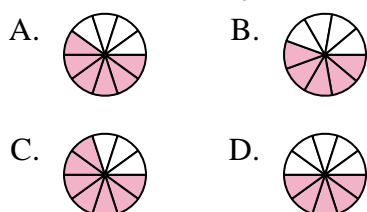
5) ¿Cuál de las figuras de abajo está sombreada para representar  $\frac{3}{7}$ ?



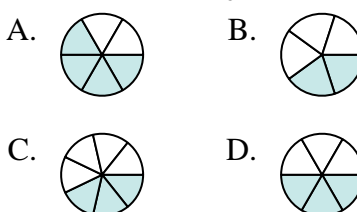
6) ¿Cuál de las figuras de abajo está sombreada para representar  $\frac{4}{6}$ ?



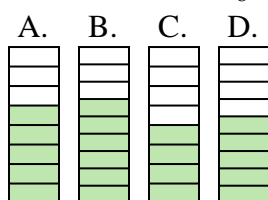
7) ¿Cuál de las figuras de abajo está sombreada para representar  $\frac{6}{10}$ ?



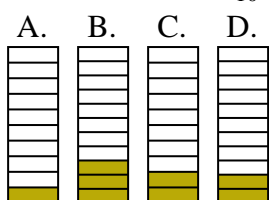
8) ¿Cuál de las figuras de abajo está sombreada para representar  $\frac{3}{6}$ ?



9) ¿Cuál de las figuras de abajo está sombreada para representar  $\frac{5}{8}$ ?



10) ¿Cuál de las figuras de abajo está sombreada para representar  $\frac{2}{10}$ ?



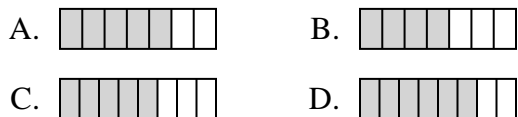
- 1.     **B**
- 2.     **A**
- 3.     **D**
- 4.     **B**
- 5.     **C**
- 6.     **C**
- 7.     **A**
- 8.     **D**
- 9.     **A**
- 10.     **C**



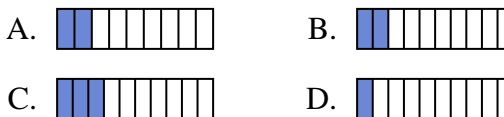
Determina cuál opción mejor responde a cada pregunta.

**Respuestas**

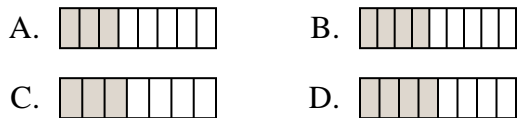
1) ¿Cuál de las figuras de abajo está sombreada para representar  $\frac{5}{8}$ ?



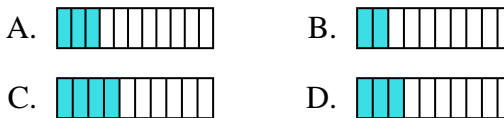
2) ¿Cuál de las figuras de abajo está sombreada para representar  $\frac{2}{10}$ ?



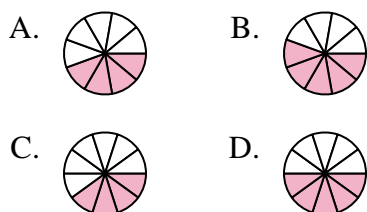
3) ¿Cuál de las figuras de abajo está sombreada para representar  $\frac{4}{8}$ ?



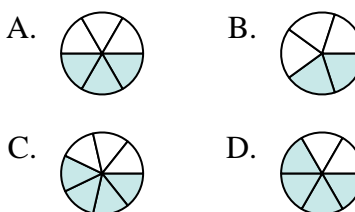
4) ¿Cuál de las figuras de abajo está sombreada para representar  $\frac{3}{10}$ ?



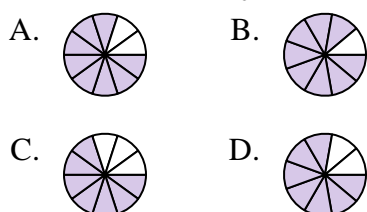
5) ¿Cuál de las figuras de abajo está sombreada para representar  $\frac{5}{10}$ ?



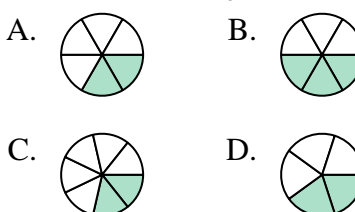
6) ¿Cuál de las figuras de abajo está sombreada para representar  $\frac{3}{6}$ ?



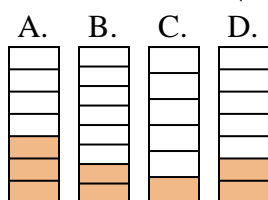
7) ¿Cuál de las figuras de abajo está sombreada para representar  $\frac{8}{10}$ ?



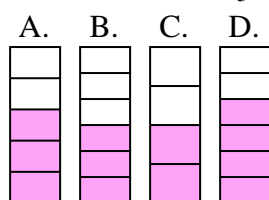
8) ¿Cuál de las figuras de abajo está sombreada para representar  $\frac{2}{6}$ ?



9) ¿Cuál de las figuras de abajo está sombreada para representar  $\frac{2}{7}$ ?



10) ¿Cuál de las figuras de abajo está sombreada para representar  $\frac{3}{5}$ ?



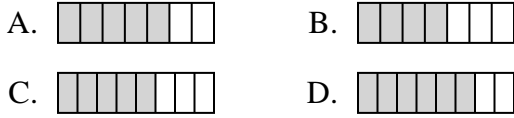
1. \_\_\_\_\_
2. \_\_\_\_\_
3. \_\_\_\_\_
4. \_\_\_\_\_
5. \_\_\_\_\_
6. \_\_\_\_\_
7. \_\_\_\_\_
8. \_\_\_\_\_
9. \_\_\_\_\_
10. \_\_\_\_\_



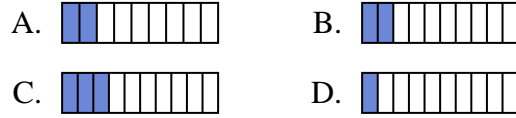
Determina cuál opción mejor responde a cada pregunta.

**Respuestas**

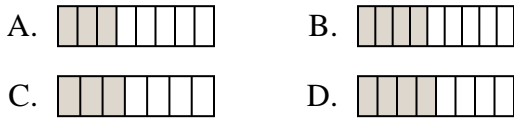
1) ¿Cuál de las figuras de abajo está sombreada para representar  $\frac{5}{8}$ ?



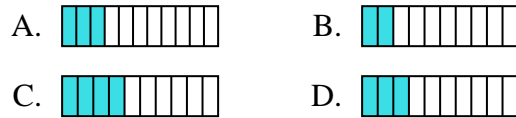
2) ¿Cuál de las figuras de abajo está sombreada para representar  $\frac{2}{10}$ ?



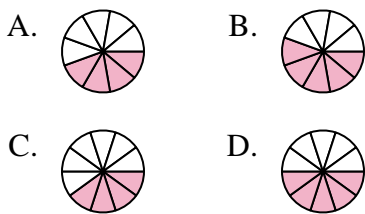
3) ¿Cuál de las figuras de abajo está sombreada para representar  $\frac{4}{8}$ ?



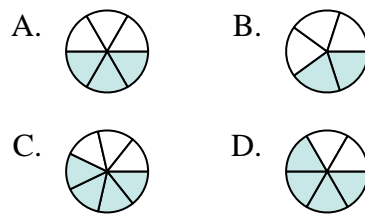
4) ¿Cuál de las figuras de abajo está sombreada para representar  $\frac{3}{10}$ ?



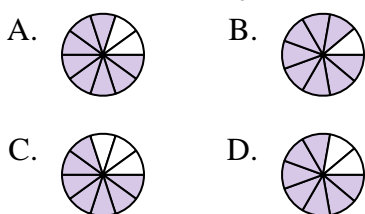
5) ¿Cuál de las figuras de abajo está sombreada para representar  $\frac{5}{10}$ ?



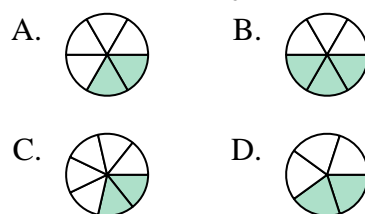
6) ¿Cuál de las figuras de abajo está sombreada para representar  $\frac{3}{6}$ ?



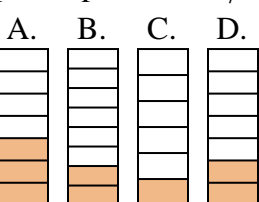
7) ¿Cuál de las figuras de abajo está sombreada para representar  $\frac{8}{10}$ ?



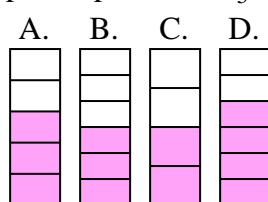
8) ¿Cuál de las figuras de abajo está sombreada para representar  $\frac{2}{6}$ ?



9) ¿Cuál de las figuras de abajo está sombreada para representar  $\frac{2}{7}$ ?



10) ¿Cuál de las figuras de abajo está sombreada para representar  $\frac{3}{5}$ ?



1. **C**

2. **B**

3. **D**

4. **D**

5. **D**

6. **A**

7. **A**

8. **A**

9. **D**

10. **A**

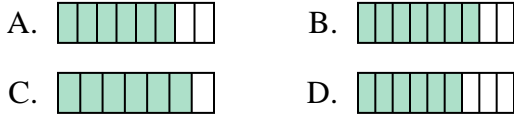




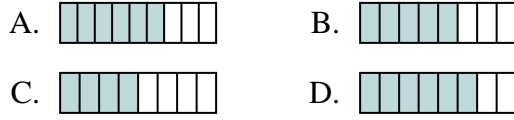
Determina cuál opción mejor responde a cada pregunta.

**Respuestas**

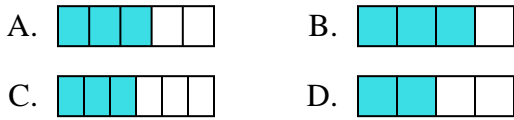
1) ¿Cuál de las figuras de abajo está sombreada para representar  $\frac{6}{8}$ ?



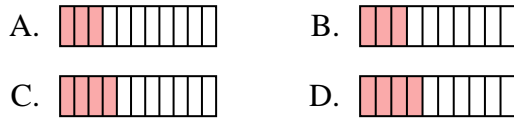
2) ¿Cuál de las figuras de abajo está sombreada para representar  $\frac{5}{8}$ ?



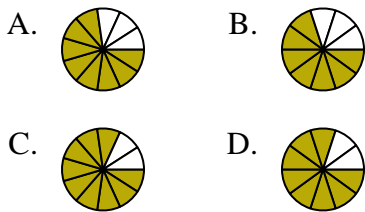
3) ¿Cuál de las figuras de abajo está sombreada para representar  $\frac{3}{5}$ ?



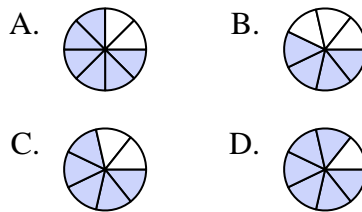
4) ¿Cuál de las figuras de abajo está sombreada para representar  $\frac{3}{10}$ ?



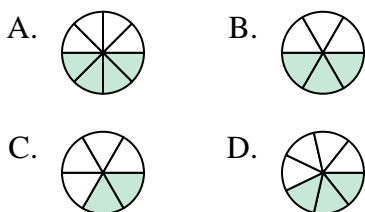
5) ¿Cuál de las figuras de abajo está sombreada para representar  $\frac{8}{10}$ ?



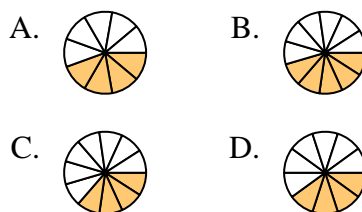
6) ¿Cuál de las figuras de abajo está sombreada para representar  $\frac{5}{7}$ ?



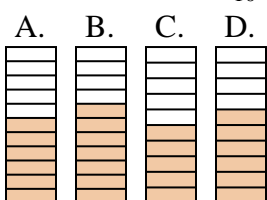
7) ¿Cuál de las figuras de abajo está sombreada para representar  $\frac{3}{7}$ ?



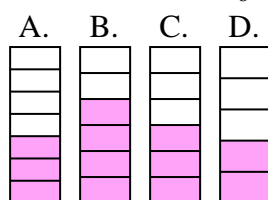
8) ¿Cuál de las figuras de abajo está sombreada para representar  $\frac{4}{10}$ ?



9) ¿Cuál de las figuras de abajo está sombreada para representar  $\frac{6}{10}$ ?



10) ¿Cuál de las figuras de abajo está sombreada para representar  $\frac{3}{6}$ ?



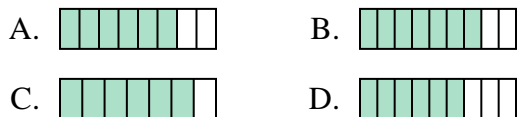
1. \_\_\_\_\_
2. \_\_\_\_\_
3. \_\_\_\_\_
4. \_\_\_\_\_
5. \_\_\_\_\_
6. \_\_\_\_\_
7. \_\_\_\_\_
8. \_\_\_\_\_
9. \_\_\_\_\_
10. \_\_\_\_\_



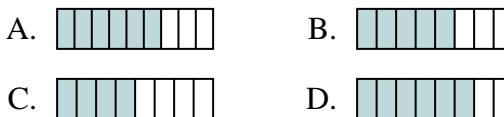
Determina cuál opción mejor responde a cada pregunta.

**Respuestas**

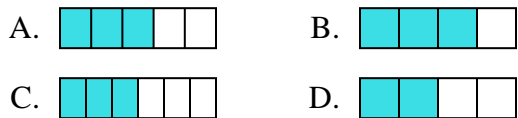
1) ¿Cuál de las figuras de abajo está sombreada para representar  $\frac{6}{8}$ ?



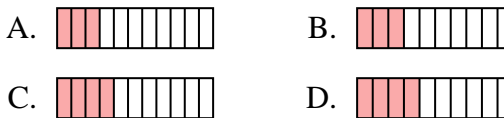
2) ¿Cuál de las figuras de abajo está sombreada para representar  $\frac{5}{8}$ ?



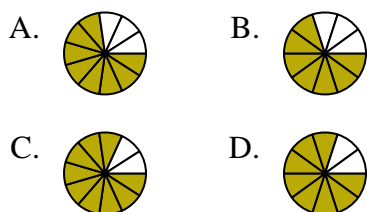
3) ¿Cuál de las figuras de abajo está sombreada para representar  $\frac{3}{5}$ ?



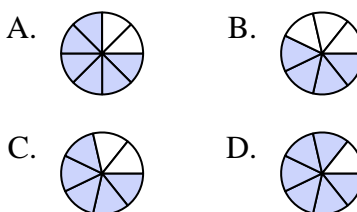
4) ¿Cuál de las figuras de abajo está sombreada para representar  $\frac{3}{10}$ ?



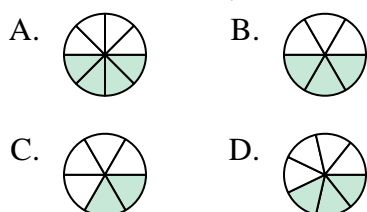
5) ¿Cuál de las figuras de abajo está sombreada para representar  $\frac{8}{10}$ ?



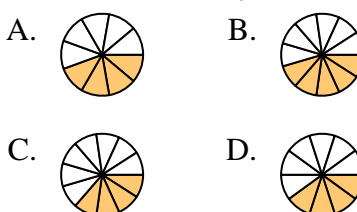
6) ¿Cuál de las figuras de abajo está sombreada para representar  $\frac{5}{7}$ ?



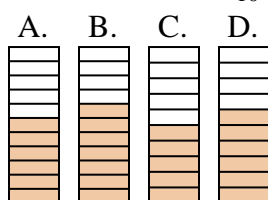
7) ¿Cuál de las figuras de abajo está sombreada para representar  $\frac{3}{7}$ ?



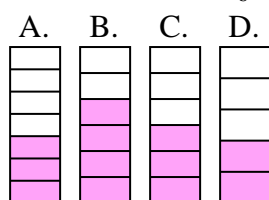
8) ¿Cuál de las figuras de abajo está sombreada para representar  $\frac{4}{10}$ ?



9) ¿Cuál de las figuras de abajo está sombreada para representar  $\frac{6}{10}$ ?



10) ¿Cuál de las figuras de abajo está sombreada para representar  $\frac{3}{6}$ ?



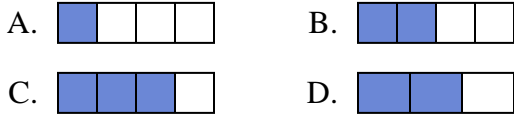
- 1.     **A**
- 2.     **B**
- 3.     **A**
- 4.     **B**
- 5.     **D**
- 6.     **C**
- 7.     **D**
- 8.     **D**
- 9.     **D**
- 10.     **C**



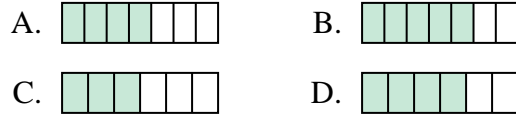
**Determina cuál opción mejor responde a cada pregunta.**

**Respuestas**

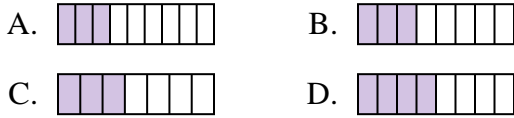
1) ¿Cuál de las figuras de abajo está sombreada para representar  $\frac{2}{4}$ ?



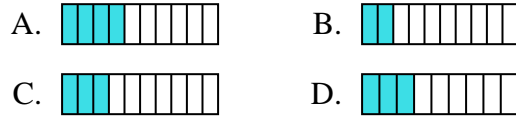
2) ¿Cuál de las figuras de abajo está sombreada para representar  $\frac{4}{6}$ ?



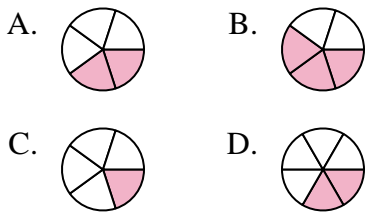
3) ¿Cuál de las figuras de abajo está sombreada para representar  $\frac{3}{8}$ ?



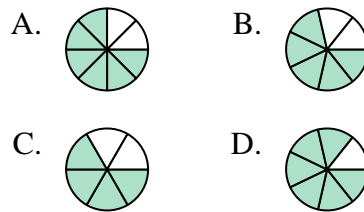
4) ¿Cuál de las figuras de abajo está sombreada para representar  $\frac{3}{10}$ ?



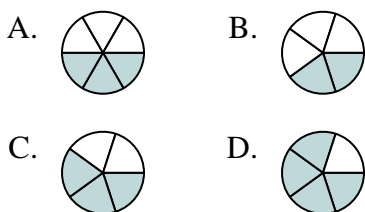
5) ¿Cuál de las figuras de abajo está sombreada para representar  $\frac{2}{5}$ ?



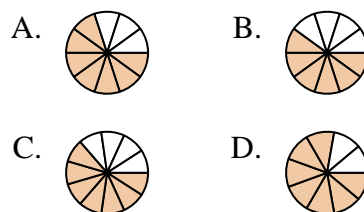
6) ¿Cuál de las figuras de abajo está sombreada para representar  $\frac{5}{7}$ ?



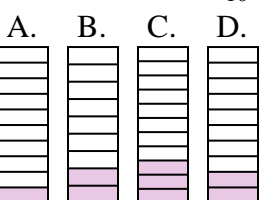
7) ¿Cuál de las figuras de abajo está sombreada para representar  $\frac{3}{5}$ ?



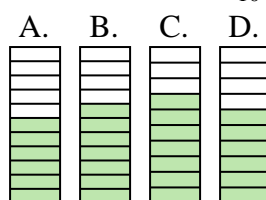
8) ¿Cuál de las figuras de abajo está sombreada para representar  $\frac{7}{10}$ ?



9) ¿Cuál de las figuras de abajo está sombreada para representar  $\frac{2}{10}$ ?



10) ¿Cuál de las figuras de abajo está sombreada para representar  $\frac{6}{10}$ ?



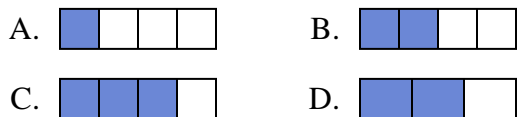
1. \_\_\_\_\_
2. \_\_\_\_\_
3. \_\_\_\_\_
4. \_\_\_\_\_
5. \_\_\_\_\_
6. \_\_\_\_\_
7. \_\_\_\_\_
8. \_\_\_\_\_
9. \_\_\_\_\_
10. \_\_\_\_\_



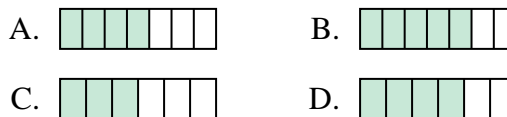
Determina cuál opción mejor responde a cada pregunta.

**Respuestas**

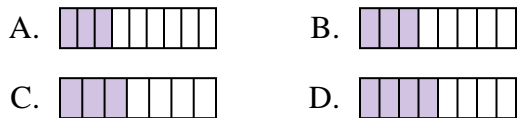
1) ¿Cuál de las figuras de abajo está sombreada para representar  $\frac{2}{4}$ ?



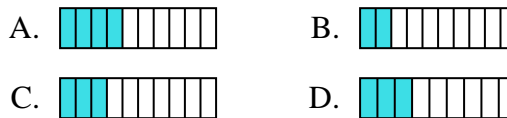
2) ¿Cuál de las figuras de abajo está sombreada para representar  $\frac{4}{6}$ ?



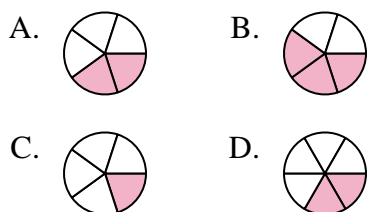
3) ¿Cuál de las figuras de abajo está sombreada para representar  $\frac{3}{8}$ ?



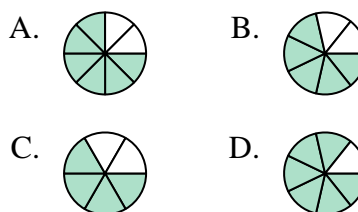
4) ¿Cuál de las figuras de abajo está sombreada para representar  $\frac{3}{10}$ ?



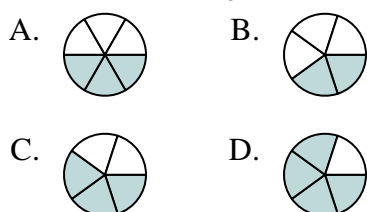
5) ¿Cuál de las figuras de abajo está sombreada para representar  $\frac{2}{5}$ ?



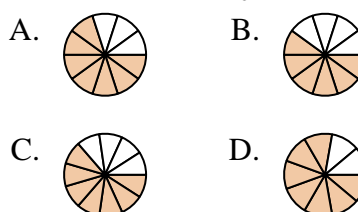
6) ¿Cuál de las figuras de abajo está sombreada para representar  $\frac{5}{7}$ ?



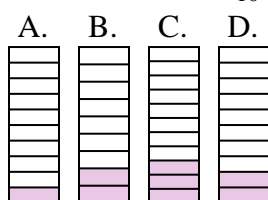
7) ¿Cuál de las figuras de abajo está sombreada para representar  $\frac{3}{5}$ ?



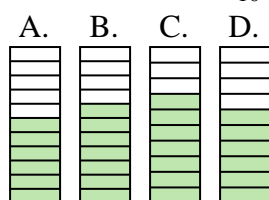
8) ¿Cuál de las figuras de abajo está sombreada para representar  $\frac{7}{10}$ ?



9) ¿Cuál de las figuras de abajo está sombreada para representar  $\frac{2}{10}$ ?



10) ¿Cuál de las figuras de abajo está sombreada para representar  $\frac{6}{10}$ ?



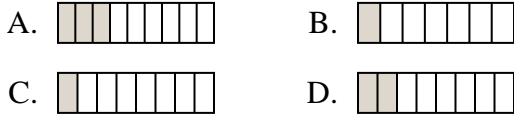
1.     **B**
2.     **D**
3.     **B**
4.     **C**
5.     **A**
6.     **B**
7.     **C**
8.     **A**
9.     **D**
10.     **D**



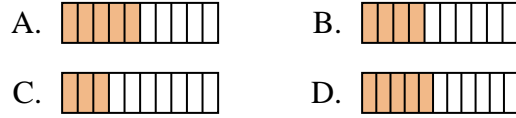
**Determina cuál opción mejor responde a cada pregunta.**

**Respuestas**

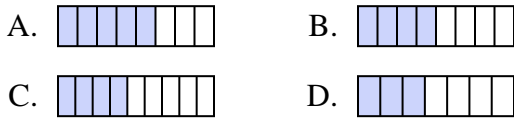
1) ¿Cuál de las figuras de abajo está sombreada para representar  $\frac{2}{8}$ ?



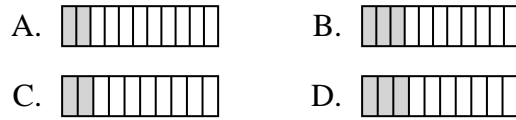
2) ¿Cuál de las figuras de abajo está sombreada para representar  $\frac{4}{10}$ ?



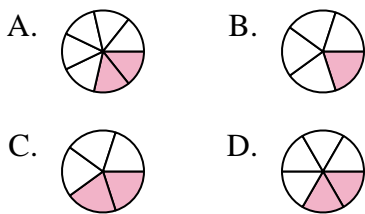
3) ¿Cuál de las figuras de abajo está sombreada para representar  $\frac{4}{8}$ ?



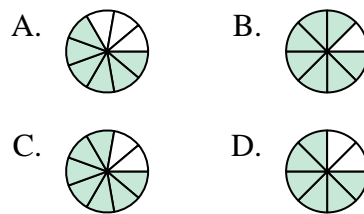
4) ¿Cuál de las figuras de abajo está sombreada para representar  $\frac{2}{10}$ ?



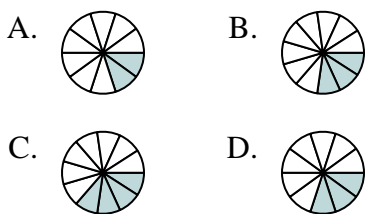
5) ¿Cuál de las figuras de abajo está sombreada para representar  $\frac{2}{6}$ ?



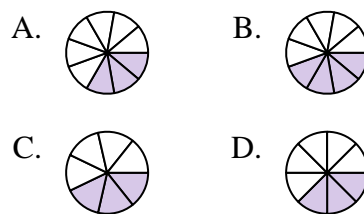
6) ¿Cuál de las figuras de abajo está sombreada para representar  $\frac{6}{8}$ ?



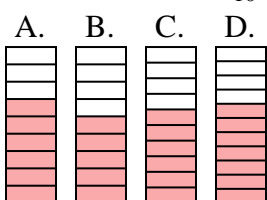
7) ¿Cuál de las figuras de abajo está sombreada para representar  $\frac{3}{10}$ ?



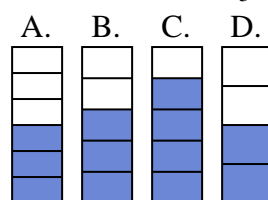
8) ¿Cuál de las figuras de abajo está sombreada para representar  $\frac{3}{8}$ ?



9) ¿Cuál de las figuras de abajo está sombreada para representar  $\frac{6}{10}$ ?



10) ¿Cuál de las figuras de abajo está sombreada para representar  $\frac{3}{5}$ ?



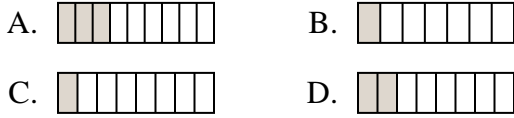
1. \_\_\_\_\_
2. \_\_\_\_\_
3. \_\_\_\_\_
4. \_\_\_\_\_
5. \_\_\_\_\_
6. \_\_\_\_\_
7. \_\_\_\_\_
8. \_\_\_\_\_
9. \_\_\_\_\_
10. \_\_\_\_\_



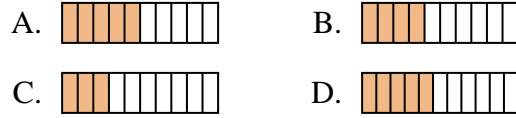
Determina cuál opción mejor responde a cada pregunta.

**Respuestas**

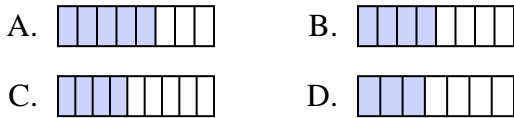
1) ¿Cuál de las figuras de abajo está sombreada para representar  $\frac{2}{8}$ ?



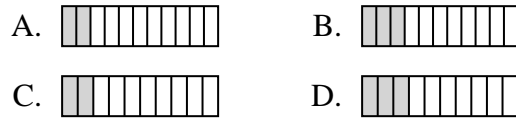
2) ¿Cuál de las figuras de abajo está sombreada para representar  $\frac{4}{10}$ ?



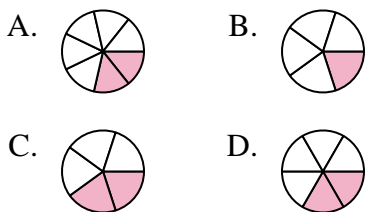
3) ¿Cuál de las figuras de abajo está sombreada para representar  $\frac{4}{8}$ ?



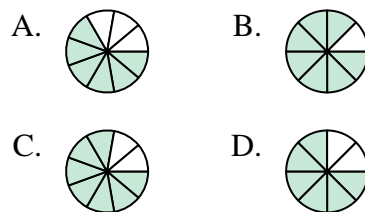
4) ¿Cuál de las figuras de abajo está sombreada para representar  $\frac{2}{10}$ ?



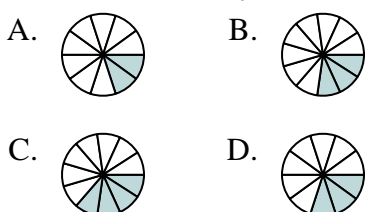
5) ¿Cuál de las figuras de abajo está sombreada para representar  $\frac{2}{6}$ ?



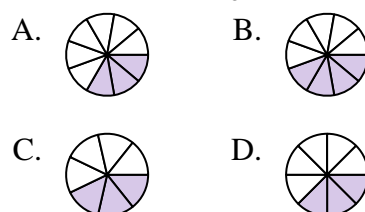
6) ¿Cuál de las figuras de abajo está sombreada para representar  $\frac{6}{8}$ ?



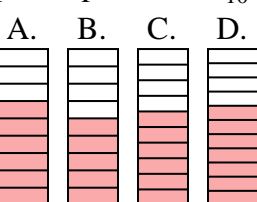
7) ¿Cuál de las figuras de abajo está sombreada para representar  $\frac{3}{10}$ ?



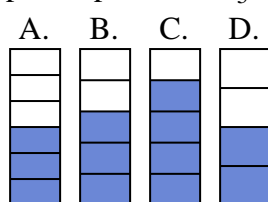
8) ¿Cuál de las figuras de abajo está sombreada para representar  $\frac{3}{8}$ ?



9) ¿Cuál de las figuras de abajo está sombreada para representar  $\frac{6}{10}$ ?



10) ¿Cuál de las figuras de abajo está sombreada para representar  $\frac{3}{5}$ ?



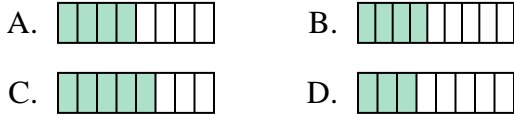
- 1.     **D**
- 2.     **B**
- 3.     **B**
- 4.     **C**
- 5.     **D**
- 6.     **D**
- 7.     **D**
- 8.     **D**
- 9.     **C**
- 10.     **B**



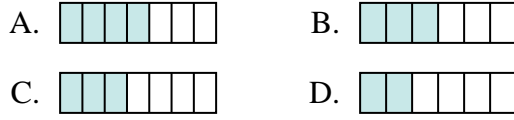
**Determina cuál opción mejor responde a cada pregunta.**

**Respuestas**

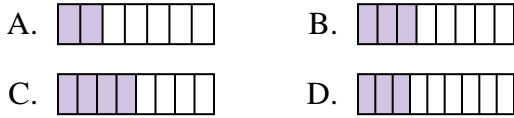
1) ¿Cuál de las figuras de abajo está sombreada para representar  $\frac{4}{8}$ ?



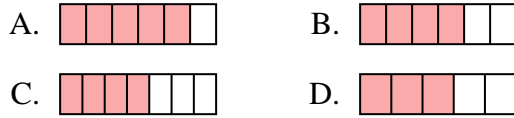
2) ¿Cuál de las figuras de abajo está sombreada para representar  $\frac{3}{6}$ ?



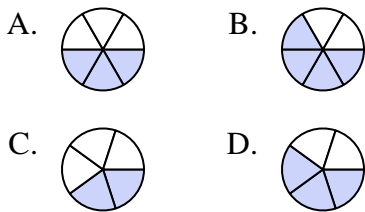
3) ¿Cuál de las figuras de abajo está sombreada para representar  $\frac{3}{8}$ ?



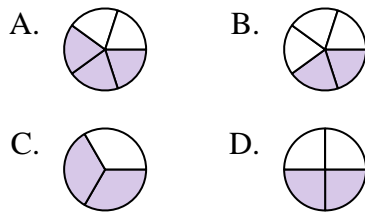
4) ¿Cuál de las figuras de abajo está sombreada para representar  $\frac{4}{6}$ ?



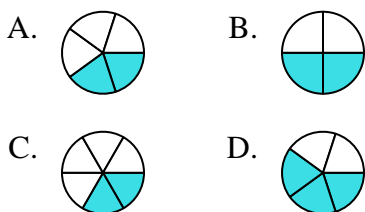
5) ¿Cuál de las figuras de abajo está sombreada para representar  $\frac{3}{5}$ ?



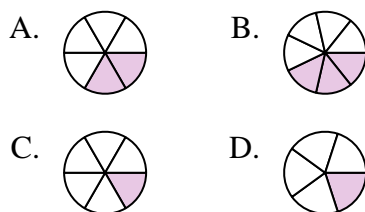
6) ¿Cuál de las figuras de abajo está sombreada para representar  $\frac{2}{4}$ ?



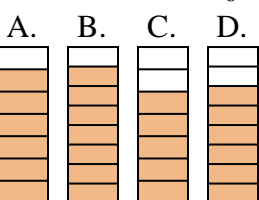
7) ¿Cuál de las figuras de abajo está sombreada para representar  $\frac{2}{5}$ ?



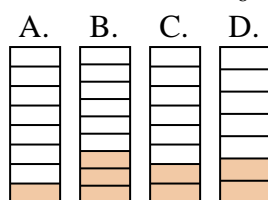
8) ¿Cuál de las figuras de abajo está sombreada para representar  $\frac{2}{6}$ ?



9) ¿Cuál de las figuras de abajo está sombreada para representar  $\frac{6}{8}$ ?



10) ¿Cuál de las figuras de abajo está sombreada para representar  $\frac{2}{8}$ ?



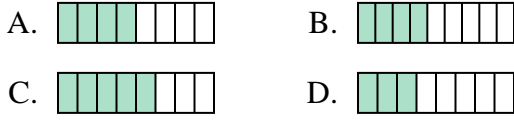
1. \_\_\_\_\_
2. \_\_\_\_\_
3. \_\_\_\_\_
4. \_\_\_\_\_
5. \_\_\_\_\_
6. \_\_\_\_\_
7. \_\_\_\_\_
8. \_\_\_\_\_
9. \_\_\_\_\_
10. \_\_\_\_\_



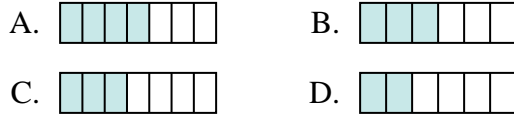
Determina cuál opción mejor responde a cada pregunta.

**Respuestas**

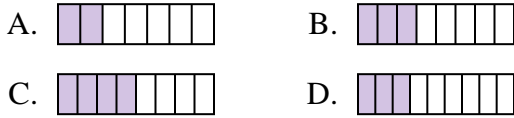
1) ¿Cuál de las figuras de abajo está sombreada para representar  $\frac{4}{8}$ ?



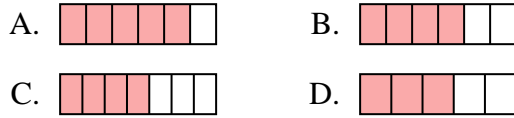
2) ¿Cuál de las figuras de abajo está sombreada para representar  $\frac{3}{6}$ ?



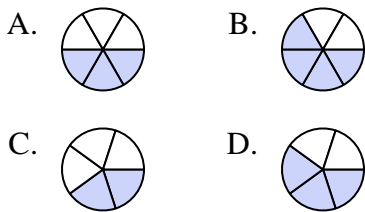
3) ¿Cuál de las figuras de abajo está sombreada para representar  $\frac{3}{8}$ ?



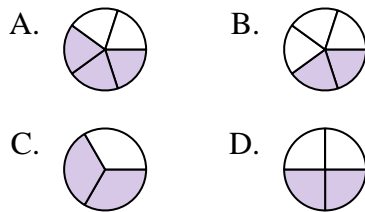
4) ¿Cuál de las figuras de abajo está sombreada para representar  $\frac{4}{6}$ ?



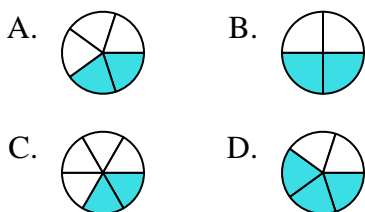
5) ¿Cuál de las figuras de abajo está sombreada para representar  $\frac{3}{5}$ ?



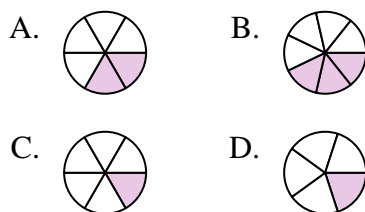
6) ¿Cuál de las figuras de abajo está sombreada para representar  $\frac{2}{4}$ ?



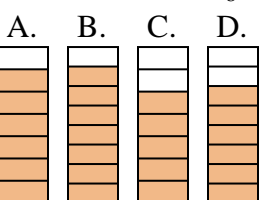
7) ¿Cuál de las figuras de abajo está sombreada para representar  $\frac{2}{5}$ ?



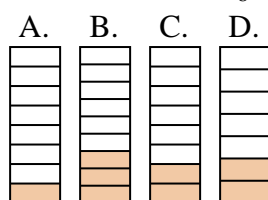
8) ¿Cuál de las figuras de abajo está sombreada para representar  $\frac{2}{6}$ ?



9) ¿Cuál de las figuras de abajo está sombreada para representar  $\frac{6}{8}$ ?



10) ¿Cuál de las figuras de abajo está sombreada para representar  $\frac{2}{8}$ ?



- 1.     **A**
- 2.     **B**
- 3.     **B**
- 4.     **B**
- 5.     **D**
- 6.     **D**
- 7.     **A**
- 8.     **A**
- 9.     **D**
- 10.     **C**

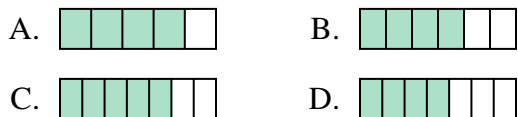




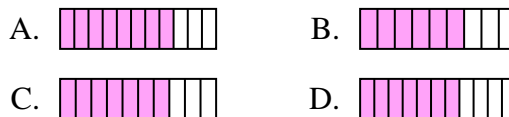
**Determina cuál opción mejor responde a cada pregunta.**

**Respuestas**

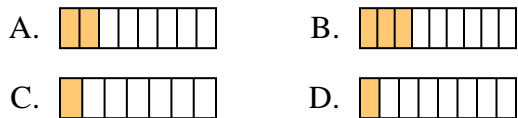
1) ¿Cuál de las figuras de abajo está sombreada para representar  $\frac{4}{6}$ ?



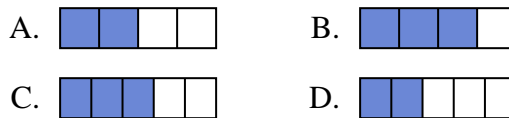
2) ¿Cuál de las figuras de abajo está sombreada para representar  $\frac{7}{10}$ ?



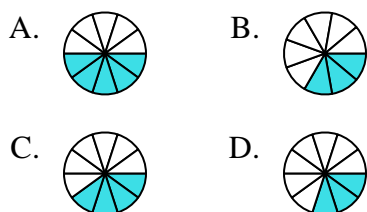
3) ¿Cuál de las figuras de abajo está sombreada para representar  $\frac{2}{8}$ ?



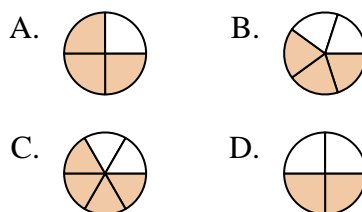
4) ¿Cuál de las figuras de abajo está sombreada para representar  $\frac{2}{4}$ ?



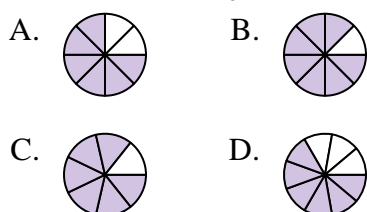
5) ¿Cuál de las figuras de abajo está sombreada para representar  $\frac{4}{10}$ ?



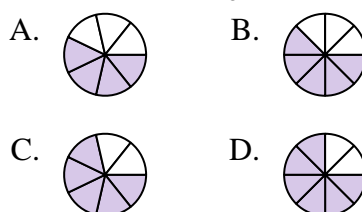
6) ¿Cuál de las figuras de abajo está sombreada para representar  $\frac{3}{5}$ ?



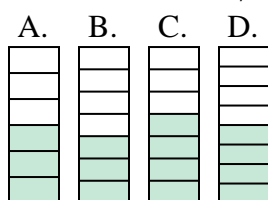
7) ¿Cuál de las figuras de abajo está sombreada para representar  $\frac{6}{8}$ ?



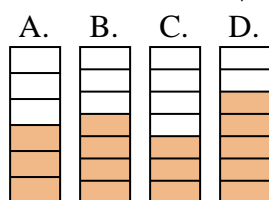
8) ¿Cuál de las figuras de abajo está sombreada para representar  $\frac{5}{8}$ ?



9) ¿Cuál de las figuras de abajo está sombreada para representar  $\frac{3}{7}$ ?



10) ¿Cuál de las figuras de abajo está sombreada para representar  $\frac{4}{7}$ ?



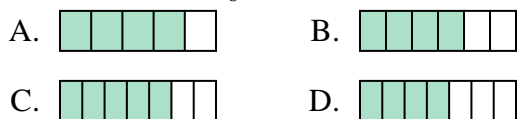
1. \_\_\_\_\_
2. \_\_\_\_\_
3. \_\_\_\_\_
4. \_\_\_\_\_
5. \_\_\_\_\_
6. \_\_\_\_\_
7. \_\_\_\_\_
8. \_\_\_\_\_
9. \_\_\_\_\_
10. \_\_\_\_\_



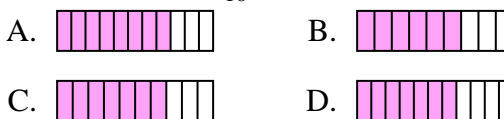
Determina cuál opción mejor responde a cada pregunta.

**Respuestas**

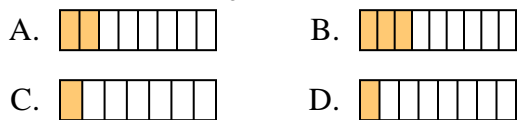
1) ¿Cuál de las figuras de abajo está sombreada para representar  $\frac{4}{6}$ ?



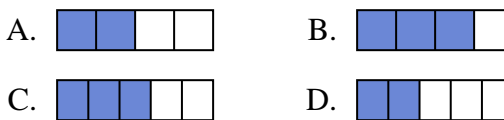
2) ¿Cuál de las figuras de abajo está sombreada para representar  $\frac{7}{10}$ ?



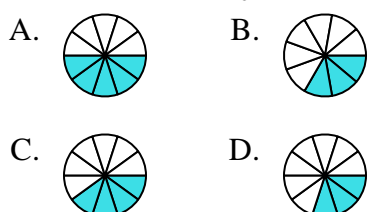
3) ¿Cuál de las figuras de abajo está sombreada para representar  $\frac{2}{8}$ ?



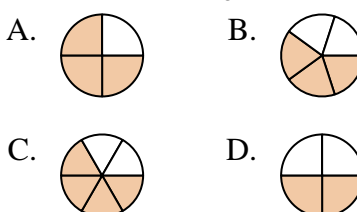
4) ¿Cuál de las figuras de abajo está sombreada para representar  $\frac{2}{4}$ ?



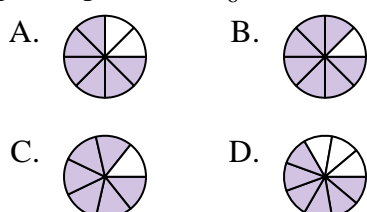
5) ¿Cuál de las figuras de abajo está sombreada para representar  $\frac{4}{10}$ ?



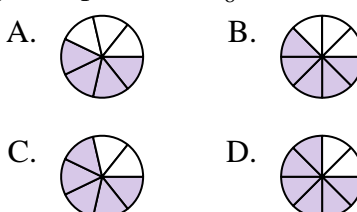
6) ¿Cuál de las figuras de abajo está sombreada para representar  $\frac{3}{5}$ ?



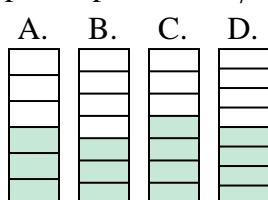
7) ¿Cuál de las figuras de abajo está sombreada para representar  $\frac{6}{8}$ ?



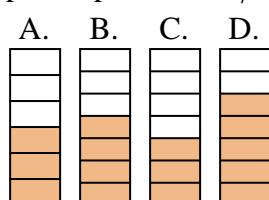
8) ¿Cuál de las figuras de abajo está sombreada para representar  $\frac{5}{8}$ ?



9) ¿Cuál de las figuras de abajo está sombreada para representar  $\frac{3}{7}$ ?



10) ¿Cuál de las figuras de abajo está sombreada para representar  $\frac{4}{7}$ ?



1. **B**

2. **C**

3. **A**

4. **A**

5. **C**

6. **B**

7. **A**

8. **B**

9. **B**

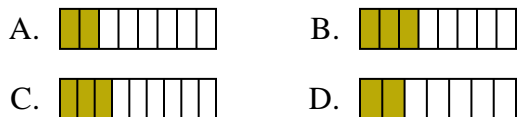
10. **B**



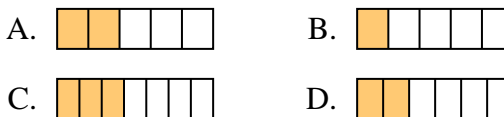
Determina cuál opción mejor responde a cada pregunta.

**Respuestas**

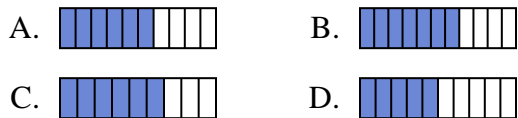
1) ¿Cuál de las figuras de abajo está sombreada para representar  $\frac{3}{8}$ ?



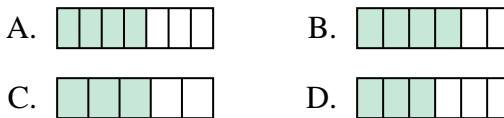
2) ¿Cuál de las figuras de abajo está sombreada para representar  $\frac{2}{6}$ ?



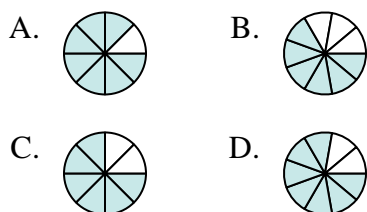
3) ¿Cuál de las figuras de abajo está sombreada para representar  $\frac{6}{10}$ ?



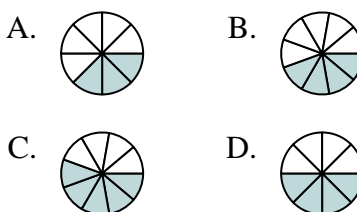
4) ¿Cuál de las figuras de abajo está sombreada para representar  $\frac{4}{6}$ ?



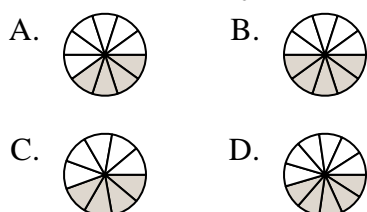
5) ¿Cuál de las figuras de abajo está sombreada para representar  $\frac{6}{8}$ ?



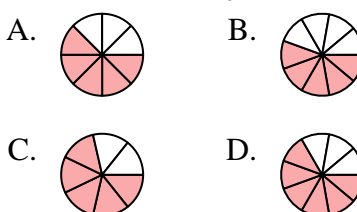
6) ¿Cuál de las figuras de abajo está sombreada para representar  $\frac{4}{8}$ ?



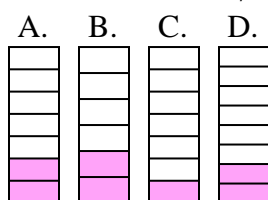
7) ¿Cuál de las figuras de abajo está sombreada para representar  $\frac{4}{10}$ ?



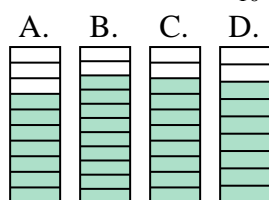
8) ¿Cuál de las figuras de abajo está sombreada para representar  $\frac{5}{8}$ ?



9) ¿Cuál de las figuras de abajo está sombreada para representar  $\frac{2}{7}$ ?



10) ¿Cuál de las figuras de abajo está sombreada para representar  $\frac{8}{10}$ ?



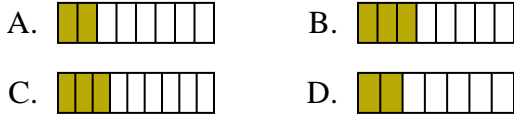
1. \_\_\_\_\_
2. \_\_\_\_\_
3. \_\_\_\_\_
4. \_\_\_\_\_
5. \_\_\_\_\_
6. \_\_\_\_\_
7. \_\_\_\_\_
8. \_\_\_\_\_
9. \_\_\_\_\_
10. \_\_\_\_\_



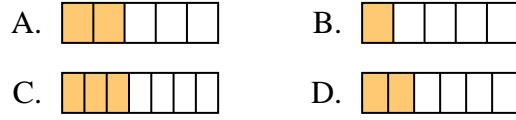
Determina cuál opción mejor responde a cada pregunta.

**Respuestas**

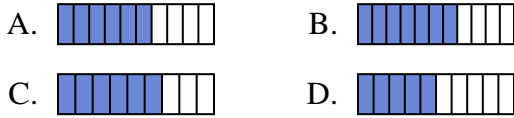
1) ¿Cuál de las figuras de abajo está sombreada para representar  $\frac{3}{8}$ ?



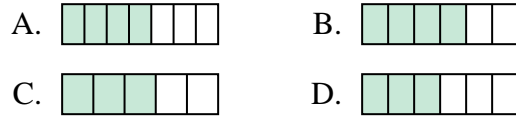
2) ¿Cuál de las figuras de abajo está sombreada para representar  $\frac{2}{6}$ ?



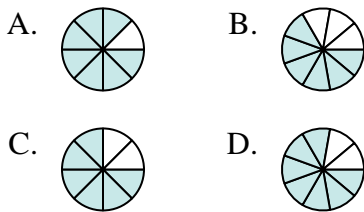
3) ¿Cuál de las figuras de abajo está sombreada para representar  $\frac{6}{10}$ ?



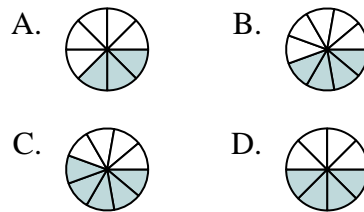
4) ¿Cuál de las figuras de abajo está sombreada para representar  $\frac{4}{6}$ ?



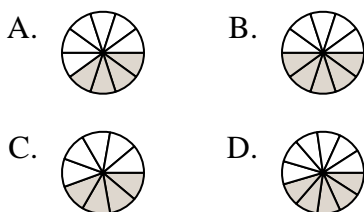
5) ¿Cuál de las figuras de abajo está sombreada para representar  $\frac{6}{8}$ ?



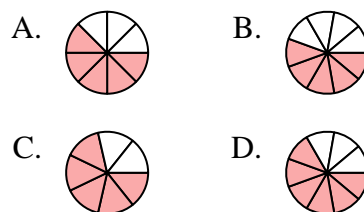
6) ¿Cuál de las figuras de abajo está sombreada para representar  $\frac{4}{8}$ ?



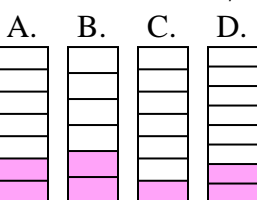
7) ¿Cuál de las figuras de abajo está sombreada para representar  $\frac{4}{10}$ ?



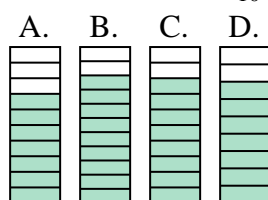
8) ¿Cuál de las figuras de abajo está sombreada para representar  $\frac{5}{8}$ ?



9) ¿Cuál de las figuras de abajo está sombreada para representar  $\frac{2}{7}$ ?



10) ¿Cuál de las figuras de abajo está sombreada para representar  $\frac{8}{10}$ ?



1.     **B**
2.     **D**
3.     **A**
4.     **B**
5.     **C**
6.     **D**
7.     **A**
8.     **A**
9.     **A**
10.     **C**