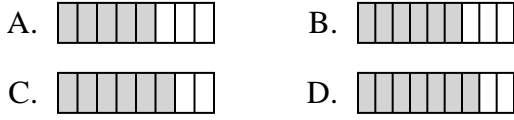




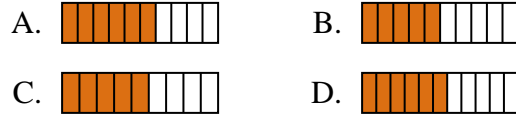
Determina cuál opción mejor responde a cada pregunta.

Respuestas

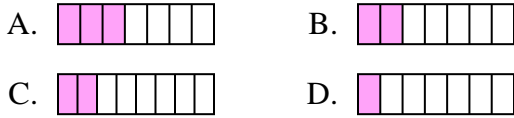
1) ¿Cuál de las figuras de abajo está sombreada para representar $\frac{6}{8}$?



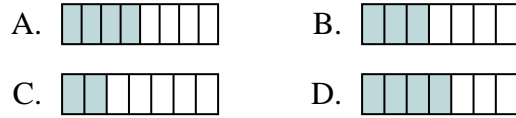
2) ¿Cuál de las figuras de abajo está sombreada para representar $\frac{6}{10}$?



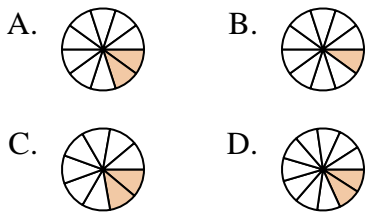
3) ¿Cuál de las figuras de abajo está sombreada para representar $\frac{2}{7}$?



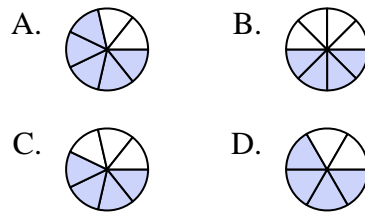
4) ¿Cuál de las figuras de abajo está sombreada para representar $\frac{3}{7}$?



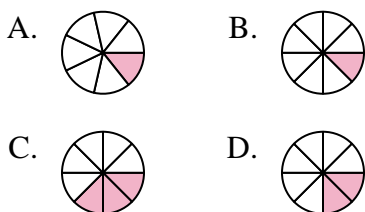
5) ¿Cuál de las figuras de abajo está sombreada para representar $\frac{2}{10}$?



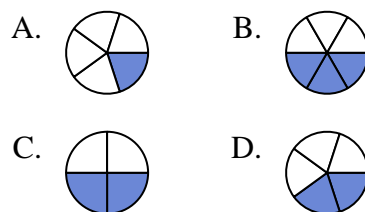
6) ¿Cuál de las figuras de abajo está sombreada para representar $\frac{4}{7}$?



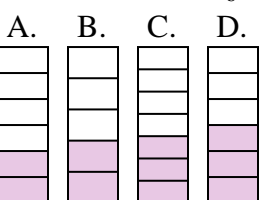
7) ¿Cuál de las figuras de abajo está sombreada para representar $\frac{2}{8}$?



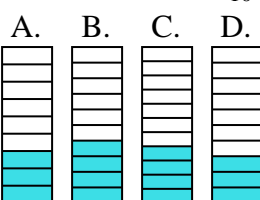
8) ¿Cuál de las figuras de abajo está sombreada para representar $\frac{2}{5}$?



9) ¿Cuál de las figuras de abajo está sombreada para representar $\frac{2}{6}$?



10) ¿Cuál de las figuras de abajo está sombreada para representar $\frac{3}{10}$?



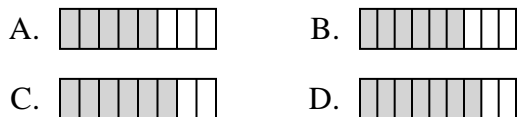
1. _____
2. _____
3. _____
4. _____
5. _____
6. _____
7. _____
8. _____
9. _____
10. _____



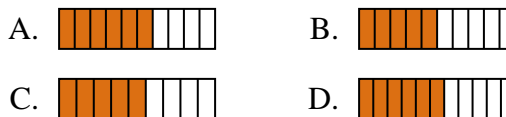
Determina cuál opción mejor responde a cada pregunta.

Respuestas

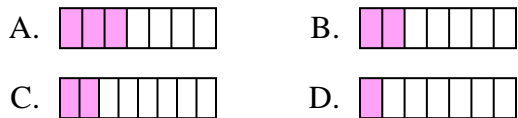
1) ¿Cuál de las figuras de abajo está sombreada para representar $\frac{6}{8}$?



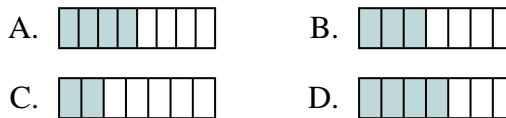
2) ¿Cuál de las figuras de abajo está sombreada para representar $\frac{6}{10}$?



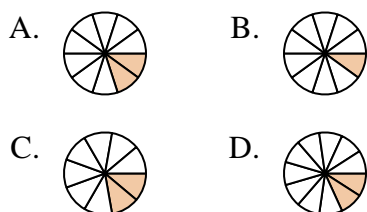
3) ¿Cuál de las figuras de abajo está sombreada para representar $\frac{2}{7}$?



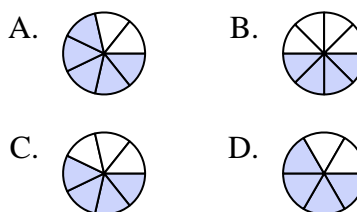
4) ¿Cuál de las figuras de abajo está sombreada para representar $\frac{3}{7}$?



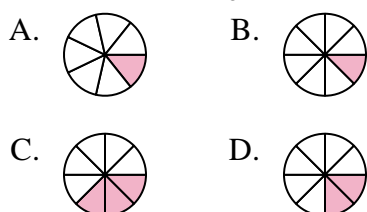
5) ¿Cuál de las figuras de abajo está sombreada para representar $\frac{2}{10}$?



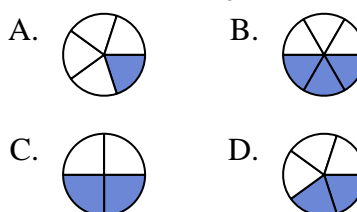
6) ¿Cuál de las figuras de abajo está sombreada para representar $\frac{4}{7}$?



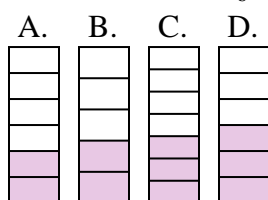
7) ¿Cuál de las figuras de abajo está sombreada para representar $\frac{2}{8}$?



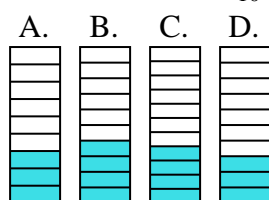
8) ¿Cuál de las figuras de abajo está sombreada para representar $\frac{2}{5}$?



9) ¿Cuál de las figuras de abajo está sombreada para representar $\frac{2}{6}$?



10) ¿Cuál de las figuras de abajo está sombreada para representar $\frac{3}{10}$?



1. **C**

2. **A**

3. **B**

4. **B**

5. **A**

6. **C**

7. **D**

8. **D**

9. **A**

10. **D**