



Resuelve cada problema marcando las fracciones. El primer ejercicio ha sido resuelto como ejemplo.

**Respuestas**

Ej)  $2 \div \frac{1}{6} = ?$  Esto es lo mismo que decir: ¿Cuántas  $\frac{1}{6}$  hay en 2 enteros?

|          |  |  |  |  |  |          |  |  |  |  |  |
|----------|--|--|--|--|--|----------|--|--|--|--|--|
| 1 Entero |  |  |  |  |  | 1 Entero |  |  |  |  |  |
|          |  |  |  |  |  |          |  |  |  |  |  |

1)  $5 \div \frac{1}{3} =$

|          |          |          |          |          |
|----------|----------|----------|----------|----------|
| 1 Entero | 1 Entero | 1 Entero | 1 Entero | 1 Entero |
|          |          |          |          |          |

2)  $5 \div \frac{1}{5} =$

|          |          |          |          |          |
|----------|----------|----------|----------|----------|
| 1 Entero | 1 Entero | 1 Entero | 1 Entero | 1 Entero |
|          |          |          |          |          |

3)  $3 \div \frac{1}{5} =$

|          |          |          |
|----------|----------|----------|
| 1 Entero | 1 Entero | 1 Entero |
|          |          |          |

4)  $4 \div \frac{1}{7} =$

|          |          |          |          |
|----------|----------|----------|----------|
| 1 Entero | 1 Entero | 1 Entero | 1 Entero |
|          |          |          |          |

5)  $2 \div \frac{1}{7} =$

|          |          |
|----------|----------|
| 1 Entero | 1 Entero |
|          |          |

6)  $5 \div \frac{1}{4} =$

|          |          |          |          |          |
|----------|----------|----------|----------|----------|
| 1 Entero | 1 Entero | 1 Entero | 1 Entero | 1 Entero |
|          |          |          |          |          |

7)  $4 \div \frac{1}{3} =$

|          |          |          |          |
|----------|----------|----------|----------|
| 1 Entero | 1 Entero | 1 Entero | 1 Entero |
|          |          |          |          |

8)  $4 \div \frac{1}{4} =$

|          |          |          |          |
|----------|----------|----------|----------|
| 1 Entero | 1 Entero | 1 Entero | 1 Entero |
|          |          |          |          |

9)  $3 \div \frac{1}{3} =$

|          |          |          |
|----------|----------|----------|
| 1 Entero | 1 Entero | 1 Entero |
|          |          |          |

Ej. **12**

1. \_\_\_\_\_

2. \_\_\_\_\_

3. \_\_\_\_\_

4. \_\_\_\_\_

5. \_\_\_\_\_

6. \_\_\_\_\_

7. \_\_\_\_\_

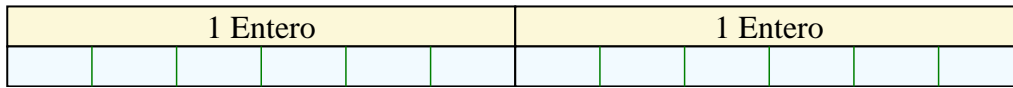
8. \_\_\_\_\_

9. \_\_\_\_\_

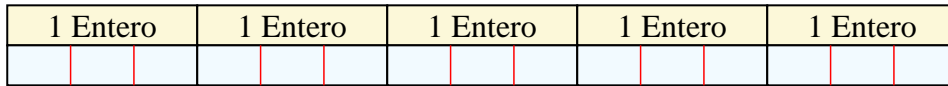


Resuelve cada problema marcando las fracciones. El primer ejercicio ha sido resuelto como ejemplo.

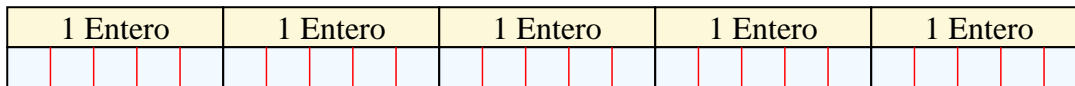
Ej)  $2 \div \frac{1}{6} = ?$  Esto es lo mismo que decir: ¿Cuántas  $\frac{1}{6}$  hay en 2 enteros?



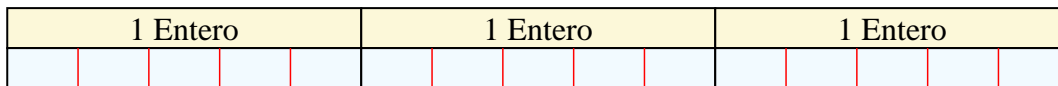
1)  $5 \div \frac{1}{3} =$  Esto es lo mismo que decir: ¿Cuántas  $\frac{1}{3}$  hay en 5 enteros?



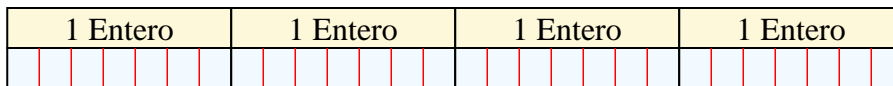
2)  $5 \div \frac{1}{5} =$  Esto es lo mismo que decir: ¿Cuántas  $\frac{1}{5}$  hay en 5 enteros?



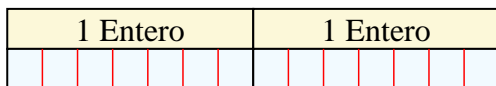
3)  $3 \div \frac{1}{5} =$  Esto es lo mismo que decir: ¿Cuántas  $\frac{1}{5}$  hay en 3 enteros?



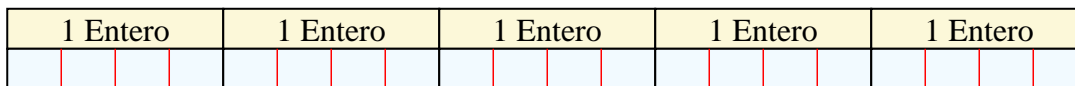
4)  $4 \div \frac{1}{7} =$  Esto es lo mismo que decir: ¿Cuántas  $\frac{1}{7}$  hay en 4 enteros?



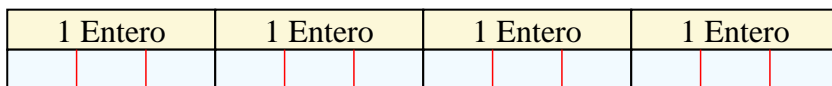
5)  $2 \div \frac{1}{7} =$  Esto es lo mismo que decir: ¿Cuántas  $\frac{1}{7}$  hay en 2 enteros?




6)  $5 \div \frac{1}{4} =$  Esto es lo mismo que decir: ¿Cuántas  $\frac{1}{4}$  hay en 5 enteros?



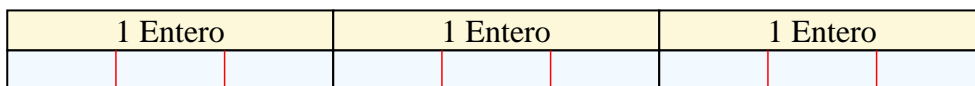
7)  $4 \div \frac{1}{3} =$  Esto es lo mismo que decir: ¿Cuántas  $\frac{1}{3}$  hay en 4 enteros?



8)  $4 \div \frac{1}{4} =$  Esto es lo mismo que decir: ¿Cuántas  $\frac{1}{4}$  hay en 4 enteros?



9)  $3 \div \frac{1}{3} =$  Esto es lo mismo que decir: ¿Cuántas  $\frac{1}{3}$  hay en 3 enteros?



**Respuestas**

Ej. 12

1. 15

2. 25

3. 15

4. 28

5. 14

6. 20

7. 12

8. 16

9. 9