



Resuelve cada problema marcando las fracciones. El primer ejercicio ha sido resuelto como ejemplo.

Respuestas

Ej) $2 \div \frac{1}{3} = ?$ Esto es lo mismo que decir: ¿Cuántas $\frac{1}{3}$ hay en 2 enteros?

1 Entero			1 Entero		

1) $3 \div \frac{1}{2} =$

1 Entero		1 Entero		1 Entero	

2) $3 \div \frac{1}{5} =$

1 Entero		1 Entero		1 Entero	

3) $2 \div \frac{1}{7} =$

1 Entero			1 Entero		

4) $4 \div \frac{1}{2} =$

1 Entero	1 Entero	1 Entero	1 Entero

5) $4 \div \frac{1}{7} =$

1 Entero	1 Entero	1 Entero	1 Entero

6) $5 \div \frac{1}{4} =$

1 Entero	1 Entero	1 Entero	1 Entero	1 Entero

7) $2 \div \frac{1}{6} =$

1 Entero		1 Entero	

8) $6 \div \frac{1}{4} =$

1 Entero	1 Entero	1 Entero	1 Entero	1 Entero	1 Entero

9) $3 \div \frac{1}{3} =$

1 Entero	1 Entero	1 Entero

Ej. **6**

1. _____

2. _____

3. _____

4. _____

5. _____

6. _____

7. _____

8. _____

9. _____



Resuelve cada problema marcando las fracciones. El primer ejercicio ha sido resuelto como ejemplo.

Ej) $2 \div \frac{1}{3} = ?$ Esto es lo mismo que decir: ¿Cuántas $\frac{1}{3}$ hay en 2 enteros?

1 Entero			1 Entero		

1) $3 \div \frac{1}{2} =$ Esto es lo mismo que decir: ¿Cuántas $\frac{1}{2}$ hay en 3 enteros?

1 Entero		1 Entero		1 Entero	

2) $3 \div \frac{1}{5} =$ Esto es lo mismo que decir: ¿Cuántas $\frac{1}{5}$ hay en 3 enteros?

1 Entero			1 Entero			1 Entero		

3) $2 \div \frac{1}{7} =$ Esto es lo mismo que decir: ¿Cuántas $\frac{1}{7}$ hay en 2 enteros?

1 Entero							1 Entero							

4) $4 \div \frac{1}{2} =$ Esto es lo mismo que decir: ¿Cuántas $\frac{1}{2}$ hay en 4 enteros?

1 Entero		1 Entero		1 Entero		1 Entero	

5) $4 \div \frac{1}{7} =$ Esto es lo mismo que decir: ¿Cuántas $\frac{1}{7}$ hay en 4 enteros?

1 Entero			1 Entero			1 Entero			1 Entero		

6) $5 \div \frac{1}{4} =$ Esto es lo mismo que decir: ¿Cuántas $\frac{1}{4}$ hay en 5 enteros?

1 Entero			1 Entero			1 Entero			1 Entero			1 Entero		

7) $2 \div \frac{1}{6} =$ Esto es lo mismo que decir: ¿Cuántas $\frac{1}{6}$ hay en 2 enteros?

1 Entero					1 Entero				

8) $6 \div \frac{1}{4} =$ Esto es lo mismo que decir: ¿Cuántas $\frac{1}{4}$ hay en 6 enteros?

1 Entero		1 Entero		1 Entero		1 Entero		1 Entero		1 Entero	

9) $3 \div \frac{1}{3} =$ Esto es lo mismo que decir: ¿Cuántas $\frac{1}{3}$ hay en 3 enteros?

1 Entero			1 Entero			1 Entero		

Respuestas

Ej. 6

1. 6

2. 15

3. 14

4. 8

5. 28

6. 20

7. 12

8. 24

9. 9



Resuelve cada problema marcando las fracciones. El primer ejercicio ha sido resuelto como ejemplo.

Respuestas

Ej) $3 \div \frac{1}{2} = ?$ Esto es lo mismo que decir: ¿Cuántas $\frac{1}{2}$ hay en 3 enteros?

1 Entero	1 Entero	1 Entero

Ej. **6**

1) $6 \div \frac{1}{5} =$

1 Entero	1 Entero	1 Entero	1 Entero	1 Entero	1 Entero

1. _____

2. _____

2) $5 \div \frac{1}{2} =$

1 Entero	1 Entero	1 Entero	1 Entero	1 Entero

3. _____

4. _____

3) $4 \div \frac{1}{7} =$

1 Entero	1 Entero	1 Entero	1 Entero

5. _____

6. _____

4) $6 \div \frac{1}{3} =$

1 Entero	1 Entero	1 Entero	1 Entero	1 Entero	1 Entero

7. _____

8. _____

9. _____

5) $2 \div \frac{1}{7} =$

1 Entero	1 Entero

6) $2 \div \frac{1}{4} =$

1 Entero	1 Entero

7) $2 \div \frac{1}{5} =$

1 Entero	1 Entero

8) $5 \div \frac{1}{5} =$

1 Entero	1 Entero	1 Entero	1 Entero	1 Entero

9) $5 \div \frac{1}{6} =$

1 Entero	1 Entero	1 Entero	1 Entero	1 Entero



Resuelve cada problema marcando las fracciones. El primer ejercicio ha sido resuelto como ejemplo.

Ej) $3 \div \frac{1}{2} = ?$ Esto es lo mismo que decir: ¿Cuántas $\frac{1}{2}$ hay en 3 enteros?

1 Entero	1 Entero	1 Entero

1) $6 \div \frac{1}{5} =$ Esto es lo mismo que decir: ¿Cuántas $\frac{1}{5}$ hay en 6 enteros?

1 Entero	1 Entero	1 Entero	1 Entero	1 Entero	1 Entero

2) $5 \div \frac{1}{2} =$ Esto es lo mismo que decir: ¿Cuántas $\frac{1}{2}$ hay en 5 enteros?

1 Entero	1 Entero	1 Entero	1 Entero	1 Entero

3) $4 \div \frac{1}{7} =$ Esto es lo mismo que decir: ¿Cuántas $\frac{1}{7}$ hay en 4 enteros?

1 Entero	1 Entero	1 Entero	1 Entero

4) $6 \div \frac{1}{3} =$ Esto es lo mismo que decir: ¿Cuántas $\frac{1}{3}$ hay en 6 enteros?

1 Entero	1 Entero	1 Entero	1 Entero	1 Entero	1 Entero

5) $2 \div \frac{1}{7} =$ Esto es lo mismo que decir: ¿Cuántas $\frac{1}{7}$ hay en 2 enteros?

1 Entero	1 Entero

6) $2 \div \frac{1}{4} =$ Esto es lo mismo que decir: ¿Cuántas $\frac{1}{4}$ hay en 2 enteros?

1 Entero	1 Entero

7) $2 \div \frac{1}{5} =$ Esto es lo mismo que decir: ¿Cuántas $\frac{1}{5}$ hay en 2 enteros?

1 Entero	1 Entero

8) $5 \div \frac{1}{5} =$ Esto es lo mismo que decir: ¿Cuántas $\frac{1}{5}$ hay en 5 enteros?

1 Entero	1 Entero	1 Entero	1 Entero	1 Entero

9) $5 \div \frac{1}{6} =$ Esto es lo mismo que decir: ¿Cuántas $\frac{1}{6}$ hay en 5 enteros?

1 Entero	1 Entero	1 Entero	1 Entero	1 Entero

Respuestas

Ej. 6

1. 30

2. 10

3. 28

4. 18

5. 14

6. 8

7. 10

8. 25

9. 30



Resuelve cada problema marcando las fracciones. El primer ejercicio ha sido resuelto como ejemplo.

Respuestas

Ej) $3 \div \frac{1}{5} = ?$ Esto es lo mismo que decir: ¿Cuántas $\frac{1}{5}$ hay en 3 enteros?

1 Entero	1 Entero	1 Entero
<input type="checkbox"/>	<input type="checkbox"/>	<input type="checkbox"/>

1) $4 \div \frac{1}{4} =$

1 Entero	1 Entero	1 Entero	1 Entero
<input type="checkbox"/>	<input type="checkbox"/>	<input type="checkbox"/>	<input type="checkbox"/>

2) $2 \div \frac{1}{3} =$

1 Entero	1 Entero
<input type="checkbox"/>	<input type="checkbox"/>

3) $3 \div \frac{1}{3} =$

1 Entero	1 Entero	1 Entero
<input type="checkbox"/>	<input type="checkbox"/>	<input type="checkbox"/>

4) $3 \div \frac{1}{4} =$

1 Entero	1 Entero	1 Entero
<input type="checkbox"/>	<input type="checkbox"/>	<input type="checkbox"/>

5) $2 \div \frac{1}{6} =$

1 Entero	1 Entero
<input type="checkbox"/>	<input type="checkbox"/>

6) $6 \div \frac{1}{2} =$

1 Entero	1 Entero	1 Entero	1 Entero	1 Entero	1 Entero
<input type="checkbox"/>	<input type="checkbox"/>	<input type="checkbox"/>	<input type="checkbox"/>	<input type="checkbox"/>	<input type="checkbox"/>

7) $5 \div \frac{1}{6} =$

1 Entero	1 Entero	1 Entero	1 Entero	1 Entero
<input type="checkbox"/>	<input type="checkbox"/>	<input type="checkbox"/>	<input type="checkbox"/>	<input type="checkbox"/>

8) $6 \div \frac{1}{4} =$

1 Entero	1 Entero	1 Entero	1 Entero	1 Entero	1 Entero
<input type="checkbox"/>	<input type="checkbox"/>	<input type="checkbox"/>	<input type="checkbox"/>	<input type="checkbox"/>	<input type="checkbox"/>

9) $5 \div \frac{1}{3} =$

1 Entero	1 Entero	1 Entero	1 Entero	1 Entero
<input type="checkbox"/>	<input type="checkbox"/>	<input type="checkbox"/>	<input type="checkbox"/>	<input type="checkbox"/>

Ej. **15**

1. _____

2. _____

3. _____

4. _____

5. _____

6. _____

7. _____

8. _____

9. _____



Resuelve cada problema marcando las fracciones. El primer ejercicio ha sido resuelto como ejemplo.

Ej) $3 \div \frac{1}{5} = ?$ Esto es lo mismo que decir: ¿Cuántas $\frac{1}{5}$ hay en 3 enteros?

1 Entero	1 Entero	1 Entero

1) $4 \div \frac{1}{4} =$ Esto es lo mismo que decir: ¿Cuántas $\frac{1}{4}$ hay en 4 enteros?

1 Entero	1 Entero	1 Entero	1 Entero

2) $2 \div \frac{1}{3} =$ Esto es lo mismo que decir: ¿Cuántas $\frac{1}{3}$ hay en 2 enteros?

1 Entero	1 Entero

3) $3 \div \frac{1}{3} =$ Esto es lo mismo que decir: ¿Cuántas $\frac{1}{3}$ hay en 3 enteros?

1 Entero	1 Entero	1 Entero

4) $3 \div \frac{1}{4} =$ Esto es lo mismo que decir: ¿Cuántas $\frac{1}{4}$ hay en 3 enteros?

1 Entero	1 Entero	1 Entero

5) $2 \div \frac{1}{6} =$ Esto es lo mismo que decir: ¿Cuántas $\frac{1}{6}$ hay en 2 enteros?

1 Entero	1 Entero

6) $6 \div \frac{1}{2} =$ Esto es lo mismo que decir: ¿Cuántas $\frac{1}{2}$ hay en 6 enteros?

1 Entero	1 Entero	1 Entero	1 Entero	1 Entero	1 Entero

7) $5 \div \frac{1}{6} =$ Esto es lo mismo que decir: ¿Cuántas $\frac{1}{6}$ hay en 5 enteros?

1 Entero	1 Entero	1 Entero	1 Entero	1 Entero

8) $6 \div \frac{1}{4} =$ Esto es lo mismo que decir: ¿Cuántas $\frac{1}{4}$ hay en 6 enteros?

1 Entero	1 Entero	1 Entero	1 Entero	1 Entero	1 Entero

9) $5 \div \frac{1}{3} =$ Esto es lo mismo que decir: ¿Cuántas $\frac{1}{3}$ hay en 5 enteros?

1 Entero	1 Entero	1 Entero	1 Entero	1 Entero

Respuestas

Ej. 15

1. 16

2. 6

3. 9

4. 12

5. 12

6. 12

7. 30

8. 24

9. 15



Resuelve cada problema marcando las fracciones. El primer ejercicio ha sido resuelto como ejemplo.

Ej) $4 \div \frac{1}{5} = ?$ Esto es lo mismo que decir: ¿Cuántas $\frac{1}{5}$ hay en 4 enteros?

1 Entero	1 Entero	1 Entero	1 Entero
<input type="checkbox"/>	<input type="checkbox"/>	<input type="checkbox"/>	<input type="checkbox"/>

1) $3 \div \frac{1}{3} =$

1 Entero	1 Entero	1 Entero
<input type="checkbox"/>	<input type="checkbox"/>	<input type="checkbox"/>

2) $5 \div \frac{1}{5} =$

1 Entero	1 Entero	1 Entero	1 Entero	1 Entero
<input type="checkbox"/>	<input type="checkbox"/>	<input type="checkbox"/>	<input type="checkbox"/>	<input type="checkbox"/>

3) $3 \div \frac{1}{2} =$

1 Entero	1 Entero	1 Entero
<input type="checkbox"/>	<input type="checkbox"/>	<input type="checkbox"/>

4) $6 \div \frac{1}{5} =$

1 Entero	1 Entero	1 Entero	1 Entero	1 Entero	1 Entero
<input type="checkbox"/>	<input type="checkbox"/>	<input type="checkbox"/>	<input type="checkbox"/>	<input type="checkbox"/>	<input type="checkbox"/>

5) $2 \div \frac{1}{6} =$

1 Entero	1 Entero
<input type="checkbox"/>	<input type="checkbox"/>

6) $4 \div \frac{1}{2} =$

1 Entero	1 Entero	1 Entero	1 Entero
<input type="checkbox"/>	<input type="checkbox"/>	<input type="checkbox"/>	<input type="checkbox"/>

7) $2 \div \frac{1}{4} =$

1 Entero	1 Entero
<input type="checkbox"/>	<input type="checkbox"/>

8) $6 \div \frac{1}{7} =$

1 Entero	1 Entero	1 Entero	1 Entero	1 Entero	1 Entero
<input type="checkbox"/>	<input type="checkbox"/>	<input type="checkbox"/>	<input type="checkbox"/>	<input type="checkbox"/>	<input type="checkbox"/>

9) $3 \div \frac{1}{7} =$

1 Entero	1 Entero	1 Entero
<input type="checkbox"/>	<input type="checkbox"/>	<input type="checkbox"/>

Respuestas

Ej. 20

1. _____

2. _____

3. _____

4. _____

5. _____

6. _____

7. _____

8. _____

9. _____



Resuelve cada problema marcando las fracciones. El primer ejercicio ha sido resuelto como ejemplo.

Ej) $4 \div \frac{1}{5} = ?$ Esto es lo mismo que decir: ¿Cuántas $\frac{1}{5}$ hay en 4 enteros?

1 Entero	1 Entero	1 Entero	1 Entero
<input type="checkbox"/>	<input type="checkbox"/>	<input type="checkbox"/>	<input type="checkbox"/>

1) $3 \div \frac{1}{3} =$ Esto es lo mismo que decir: ¿Cuántas $\frac{1}{3}$ hay en 3 enteros?

1 Entero	1 Entero	1 Entero
<input type="checkbox"/>	<input type="checkbox"/>	<input type="checkbox"/>

2) $5 \div \frac{1}{5} =$ Esto es lo mismo que decir: ¿Cuántas $\frac{1}{5}$ hay en 5 enteros?

1 Entero	1 Entero	1 Entero	1 Entero	1 Entero
<input type="checkbox"/>	<input type="checkbox"/>	<input type="checkbox"/>	<input type="checkbox"/>	<input type="checkbox"/>

3) $3 \div \frac{1}{2} =$ Esto es lo mismo que decir: ¿Cuántas $\frac{1}{2}$ hay en 3 enteros?

1 Entero	1 Entero	1 Entero
<input type="checkbox"/>	<input type="checkbox"/>	<input type="checkbox"/>

4) $6 \div \frac{1}{5} =$ Esto es lo mismo que decir: ¿Cuántas $\frac{1}{5}$ hay en 6 enteros?

1 Entero	1 Entero	1 Entero	1 Entero	1 Entero	1 Entero
<input type="checkbox"/>	<input type="checkbox"/>	<input type="checkbox"/>	<input type="checkbox"/>	<input type="checkbox"/>	<input type="checkbox"/>

5) $2 \div \frac{1}{6} =$ Esto es lo mismo que decir: ¿Cuántas $\frac{1}{6}$ hay en 2 enteros?

1 Entero	1 Entero
<input type="checkbox"/>	<input type="checkbox"/>

6) $4 \div \frac{1}{2} =$ Esto es lo mismo que decir: ¿Cuántas $\frac{1}{2}$ hay en 4 enteros?

1 Entero	1 Entero	1 Entero	1 Entero
<input type="checkbox"/>	<input type="checkbox"/>	<input type="checkbox"/>	<input type="checkbox"/>

7) $2 \div \frac{1}{4} =$ Esto es lo mismo que decir: ¿Cuántas $\frac{1}{4}$ hay en 2 enteros?

1 Entero	1 Entero
<input type="checkbox"/>	<input type="checkbox"/>

8) $6 \div \frac{1}{7} =$ Esto es lo mismo que decir: ¿Cuántas $\frac{1}{7}$ hay en 6 enteros?

1 Entero	1 Entero	1 Entero	1 Entero	1 Entero	1 Entero
<input type="checkbox"/>	<input type="checkbox"/>	<input type="checkbox"/>	<input type="checkbox"/>	<input type="checkbox"/>	<input type="checkbox"/>

9) $3 \div \frac{1}{7} =$ Esto es lo mismo que decir: ¿Cuántas $\frac{1}{7}$ hay en 3 enteros?

1 Entero	1 Entero	1 Entero
<input type="checkbox"/>	<input type="checkbox"/>	<input type="checkbox"/>

Respuestas

Ej. 20

1. 9

2. 25

3. 6

4. 30

5. 12

6. 8

7. 8

8. 42

9. 21



Resuelve cada problema marcando las fracciones. El primer ejercicio ha sido resuelto como ejemplo.

Respuestas

Ej) $3 \div \frac{1}{4} = ?$ Esto es lo mismo que decir: ¿Cuántas $\frac{1}{4}$ hay en 3 enteros?

1 Entero				1 Entero				1 Entero			

1) $4 \div \frac{1}{4} =$

1 Entero			1 Entero			1 Entero			1 Entero		

2) $6 \div \frac{1}{7} =$

1 Entero		1 Entero		1 Entero		1 Entero		1 Entero		1 Entero	

3) $6 \div \frac{1}{3} =$

1 Entero		1 Entero		1 Entero		1 Entero		1 Entero		1 Entero	

4) $6 \div \frac{1}{2} =$

1 Entero		1 Entero		1 Entero		1 Entero		1 Entero		1 Entero	

5) $3 \div \frac{1}{6} =$

1 Entero		1 Entero		1 Entero	

6) $5 \div \frac{1}{2} =$

1 Entero		1 Entero		1 Entero		1 Entero		1 Entero	

7) $2 \div \frac{1}{3} =$

1 Entero		1 Entero	

8) $3 \div \frac{1}{3} =$

1 Entero		1 Entero		1 Entero	

9) $4 \div \frac{1}{5} =$

1 Entero		1 Entero		1 Entero		1 Entero	

Ej. **12**

1. _____

2. _____

3. _____

4. _____

5. _____

6. _____

7. _____

8. _____

9. _____



Resuelve cada problema marcando las fracciones. El primer ejercicio ha sido resuelto como ejemplo.

Ej) $3 \div \frac{1}{4} = ?$ Esto es lo mismo que decir: ¿Cuántas $\frac{1}{4}$ hay en 3 enteros?

1 Entero				1 Entero				1 Entero			

1) $4 \div \frac{1}{4} =$ Esto es lo mismo que decir: ¿Cuántas $\frac{1}{4}$ hay en 4 enteros?

1 Entero				1 Entero				1 Entero				1 Entero			

2) $6 \div \frac{1}{7} =$ Esto es lo mismo que decir: ¿Cuántas $\frac{1}{7}$ hay en 6 enteros?

1 Entero				1 Entero				1 Entero				1 Entero				1 Entero				1 Entero											

3) $6 \div \frac{1}{3} =$ Esto es lo mismo que decir: ¿Cuántas $\frac{1}{3}$ hay en 6 enteros?

1 Entero			1 Entero			1 Entero			1 Entero			1 Entero			1 Entero		

4) $6 \div \frac{1}{2} =$ Esto es lo mismo que decir: ¿Cuántas $\frac{1}{2}$ hay en 6 enteros?

1 Entero		1 Entero		1 Entero		1 Entero		1 Entero		1 Entero	

5) $3 \div \frac{1}{6} =$ Esto es lo mismo que decir: ¿Cuántas $\frac{1}{6}$ hay en 3 enteros?

1 Entero			1 Entero			1 Entero		

6) $5 \div \frac{1}{2} =$ Esto es lo mismo que decir: ¿Cuántas $\frac{1}{2}$ hay en 5 enteros?

1 Entero		1 Entero		1 Entero		1 Entero		1 Entero	

7) $2 \div \frac{1}{3} =$ Esto es lo mismo que decir: ¿Cuántas $\frac{1}{3}$ hay en 2 enteros?

1 Entero			1 Entero		

8) $3 \div \frac{1}{3} =$ Esto es lo mismo que decir: ¿Cuántas $\frac{1}{3}$ hay en 3 enteros?

1 Entero			1 Entero			1 Entero		

9) $4 \div \frac{1}{5} =$ Esto es lo mismo que decir: ¿Cuántas $\frac{1}{5}$ hay en 4 enteros?

1 Entero				1 Entero				1 Entero				1 Entero			

Respuestas

Ej. 12

1. 16

2. 42

3. 18

4. 12

5. 18

6. 10

7. 6

8. 9

9. 20



Resuelve cada problema marcando las fracciones. El primer ejercicio ha sido resuelto como ejemplo.

Ej) $6 \div \frac{1}{6} = ?$ Esto es lo mismo que decir: ¿Cuántas $\frac{1}{6}$ hay en 6 enteros?

1 Entero	1 Entero	1 Entero	1 Entero	1 Entero	1 Entero
<input type="checkbox"/>	<input type="checkbox"/>	<input type="checkbox"/>	<input type="checkbox"/>	<input type="checkbox"/>	<input type="checkbox"/>

1) $3 \div \frac{1}{6} =$

1 Entero	1 Entero	1 Entero
<input type="checkbox"/>	<input type="checkbox"/>	<input type="checkbox"/>

2) $6 \div \frac{1}{4} =$

1 Entero	1 Entero	1 Entero	1 Entero	1 Entero	1 Entero
<input type="checkbox"/>	<input type="checkbox"/>	<input type="checkbox"/>	<input type="checkbox"/>	<input type="checkbox"/>	<input type="checkbox"/>

3) $4 \div \frac{1}{2} =$

1 Entero	1 Entero	1 Entero	1 Entero
<input type="checkbox"/>	<input type="checkbox"/>	<input type="checkbox"/>	<input type="checkbox"/>

4) $2 \div \frac{1}{5} =$

1 Entero	1 Entero
<input type="checkbox"/>	<input type="checkbox"/>

5) $5 \div \frac{1}{5} =$

1 Entero	1 Entero	1 Entero	1 Entero	1 Entero
<input type="checkbox"/>	<input type="checkbox"/>	<input type="checkbox"/>	<input type="checkbox"/>	<input type="checkbox"/>

6) $3 \div \frac{1}{5} =$

1 Entero	1 Entero	1 Entero
<input type="checkbox"/>	<input type="checkbox"/>	<input type="checkbox"/>

7) $2 \div \frac{1}{7} =$

1 Entero	1 Entero
<input type="checkbox"/>	<input type="checkbox"/>

8) $6 \div \frac{1}{7} =$

1 Entero	1 Entero	1 Entero	1 Entero	1 Entero	1 Entero
<input type="checkbox"/>	<input type="checkbox"/>	<input type="checkbox"/>	<input type="checkbox"/>	<input type="checkbox"/>	<input type="checkbox"/>

9) $6 \div \frac{1}{3} =$

1 Entero	1 Entero	1 Entero	1 Entero	1 Entero	1 Entero
<input type="checkbox"/>	<input type="checkbox"/>	<input type="checkbox"/>	<input type="checkbox"/>	<input type="checkbox"/>	<input type="checkbox"/>

Respuestas

Ej. **36**

1. _____

2. _____

3. _____

4. _____

5. _____

6. _____

7. _____

8. _____

9. _____



Resuelve cada problema marcando las fracciones. El primer ejercicio ha sido resuelto como ejemplo.

Ej) $6 \div \frac{1}{6} = ?$ Esto es lo mismo que decir: ¿Cuántas $\frac{1}{6}$ hay en 6 enteros?

1 Entero	1 Entero	1 Entero	1 Entero	1 Entero	1 Entero

1) $3 \div \frac{1}{6} =$ Esto es lo mismo que decir: ¿Cuántas $\frac{1}{6}$ hay en 3 enteros?

1 Entero	1 Entero	1 Entero

2) $6 \div \frac{1}{4} =$ Esto es lo mismo que decir: ¿Cuántas $\frac{1}{4}$ hay en 6 enteros?

1 Entero	1 Entero	1 Entero	1 Entero	1 Entero	1 Entero

3) $4 \div \frac{1}{2} =$ Esto es lo mismo que decir: ¿Cuántas $\frac{1}{2}$ hay en 4 enteros?

1 Entero	1 Entero	1 Entero	1 Entero

4) $2 \div \frac{1}{5} =$ Esto es lo mismo que decir: ¿Cuántas $\frac{1}{5}$ hay en 2 enteros?

1 Entero	1 Entero

5) $5 \div \frac{1}{5} =$ Esto es lo mismo que decir: ¿Cuántas $\frac{1}{5}$ hay en 5 enteros?

1 Entero	1 Entero	1 Entero	1 Entero	1 Entero

6) $3 \div \frac{1}{5} =$ Esto es lo mismo que decir: ¿Cuántas $\frac{1}{5}$ hay en 3 enteros?

1 Entero	1 Entero	1 Entero

7) $2 \div \frac{1}{7} =$ Esto es lo mismo que decir: ¿Cuántas $\frac{1}{7}$ hay en 2 enteros?

1 Entero	1 Entero

8) $6 \div \frac{1}{7} =$ Esto es lo mismo que decir: ¿Cuántas $\frac{1}{7}$ hay en 6 enteros?

1 Entero	1 Entero	1 Entero	1 Entero	1 Entero	1 Entero

9) $6 \div \frac{1}{3} =$ Esto es lo mismo que decir: ¿Cuántas $\frac{1}{3}$ hay en 6 enteros?

1 Entero	1 Entero	1 Entero	1 Entero	1 Entero	1 Entero

Respuestas

Ej. 36

1. 18

2. 24

3. 8

4. 10

5. 25

6. 15

7. 14

8. 42

9. 18



Resuelve cada problema marcando las fracciones. El primer ejercicio ha sido resuelto como ejemplo.

Respuestas

Ej) $3 \div \frac{1}{4} = ?$ Esto es lo mismo que decir: ¿Cuántas $\frac{1}{4}$ hay en 3 enteros?

1 Entero				1 Entero				1 Entero			

1) $5 \div \frac{1}{6} =$

1 Entero			1 Entero			1 Entero			1 Entero			1 Entero					

2) $5 \div \frac{1}{2} =$

1 Entero		1 Entero		1 Entero		1 Entero		1 Entero	

3) $5 \div \frac{1}{5} =$

1 Entero		1 Entero		1 Entero		1 Entero		1 Entero	

4) $3 \div \frac{1}{2} =$

1 Entero			1 Entero			1 Entero		

5) $2 \div \frac{1}{2} =$

1 Entero		1 Entero	

6) $6 \div \frac{1}{7} =$

1 Entero		1 Entero		1 Entero		1 Entero		1 Entero		1 Entero	

7) $4 \div \frac{1}{4} =$

1 Entero		1 Entero		1 Entero		1 Entero	

8) $6 \div \frac{1}{6} =$

1 Entero		1 Entero		1 Entero		1 Entero		1 Entero		1 Entero	

9) $3 \div \frac{1}{3} =$

1 Entero			1 Entero			1 Entero		

Ej. **12**

1. _____

2. _____

3. _____

4. _____

5. _____

6. _____

7. _____

8. _____

9. _____



Resuelve cada problema marcando las fracciones. El primer ejercicio ha sido resuelto como ejemplo.

Ej) $3 \div \frac{1}{4} = ?$ Esto es lo mismo que decir: ¿Cuántas $\frac{1}{4}$ hay en 3 enteros?

1 Entero	1 Entero	1 Entero
<input type="checkbox"/>	<input type="checkbox"/>	<input type="checkbox"/>

1) $5 \div \frac{1}{6} =$ Esto es lo mismo que decir: ¿Cuántas $\frac{1}{6}$ hay en 5 enteros?

1 Entero	1 Entero	1 Entero	1 Entero	1 Entero
<input type="checkbox"/>	<input type="checkbox"/>	<input type="checkbox"/>	<input type="checkbox"/>	<input type="checkbox"/>

2) $5 \div \frac{1}{2} =$ Esto es lo mismo que decir: ¿Cuántas $\frac{1}{2}$ hay en 5 enteros?

1 Entero	1 Entero	1 Entero	1 Entero	1 Entero
<input type="checkbox"/>	<input type="checkbox"/>	<input type="checkbox"/>	<input type="checkbox"/>	<input type="checkbox"/>

3) $5 \div \frac{1}{5} =$ Esto es lo mismo que decir: ¿Cuántas $\frac{1}{5}$ hay en 5 enteros?

1 Entero	1 Entero	1 Entero	1 Entero	1 Entero
<input type="checkbox"/>	<input type="checkbox"/>	<input type="checkbox"/>	<input type="checkbox"/>	<input type="checkbox"/>

4) $3 \div \frac{1}{2} =$ Esto es lo mismo que decir: ¿Cuántas $\frac{1}{2}$ hay en 3 enteros?

1 Entero	1 Entero	1 Entero
<input type="checkbox"/>	<input type="checkbox"/>	<input type="checkbox"/>

5) $2 \div \frac{1}{2} =$ Esto es lo mismo que decir: ¿Cuántas $\frac{1}{2}$ hay en 2 enteros?

1 Entero	1 Entero
<input type="checkbox"/>	<input type="checkbox"/>

6) $6 \div \frac{1}{7} =$ Esto es lo mismo que decir: ¿Cuántas $\frac{1}{7}$ hay en 6 enteros?

1 Entero	1 Entero	1 Entero	1 Entero	1 Entero	1 Entero
<input type="checkbox"/>	<input type="checkbox"/>	<input type="checkbox"/>	<input type="checkbox"/>	<input type="checkbox"/>	<input type="checkbox"/>

7) $4 \div \frac{1}{4} =$ Esto es lo mismo que decir: ¿Cuántas $\frac{1}{4}$ hay en 4 enteros?

1 Entero	1 Entero	1 Entero	1 Entero
<input type="checkbox"/>	<input type="checkbox"/>	<input type="checkbox"/>	<input type="checkbox"/>

8) $6 \div \frac{1}{6} =$ Esto es lo mismo que decir: ¿Cuántas $\frac{1}{6}$ hay en 6 enteros?

1 Entero	1 Entero	1 Entero	1 Entero	1 Entero	1 Entero
<input type="checkbox"/>	<input type="checkbox"/>	<input type="checkbox"/>	<input type="checkbox"/>	<input type="checkbox"/>	<input type="checkbox"/>

9) $3 \div \frac{1}{3} =$ Esto es lo mismo que decir: ¿Cuántas $\frac{1}{3}$ hay en 3 enteros?

1 Entero	1 Entero	1 Entero
<input type="checkbox"/>	<input type="checkbox"/>	<input type="checkbox"/>

Respuestas

Ej. 12

1. 30

2. 10

3. 25

4. 6

5. 4

6. 42

7. 16

8. 36

9. 9



Resuelve cada problema marcando las fracciones. El primer ejercicio ha sido resuelto como ejemplo.

Respuestas

Ej) $4 \div \frac{1}{4} = ?$ Esto es lo mismo que decir: ¿Cuántas $\frac{1}{4}$ hay en 4 enteros?

Ej. **16**

1 Entero				1 Entero				1 Entero				1 Entero			

1. _____

1) $3 \div \frac{1}{4} =$

2. _____

1 Entero				1 Entero				1 Entero			

3. _____

2) $4 \div \frac{1}{7} =$

4. _____

1 Entero			1 Entero			1 Entero			1 Entero		

5. _____

3) $6 \div \frac{1}{7} =$

6. _____

1 Entero		1 Entero		1 Entero		1 Entero		1 Entero		1 Entero	

7. _____

4) $5 \div \frac{1}{7} =$

8. _____

1 Entero		1 Entero		1 Entero		1 Entero		1 Entero	

9. _____

5) $5 \div \frac{1}{2} =$

1 Entero		1 Entero		1 Entero		1 Entero		1 Entero	

6) $3 \div \frac{1}{3} =$

1 Entero		1 Entero		1 Entero	

7) $3 \div \frac{1}{7} =$

1 Entero			1 Entero			1 Entero		

8) $5 \div \frac{1}{5} =$

1 Entero		1 Entero		1 Entero		1 Entero		1 Entero	

9) $4 \div \frac{1}{6} =$

1 Entero			1 Entero			1 Entero			1 Entero		



Resuelve cada problema marcando las fracciones. El primer ejercicio ha sido resuelto como ejemplo.

Ej) $4 \div \frac{1}{4} = ?$ Esto es lo mismo que decir: ¿Cuántas $\frac{1}{4}$ hay en 4 enteros?

1 Entero				1 Entero				1 Entero				1 Entero			

1) $3 \div \frac{1}{4} =$ Esto es lo mismo que decir: ¿Cuántas $\frac{1}{4}$ hay en 3 enteros?

1 Entero				1 Entero				1 Entero			

2) $4 \div \frac{1}{7} =$ Esto es lo mismo que decir: ¿Cuántas $\frac{1}{7}$ hay en 4 enteros?

1 Entero				1 Entero				1 Entero				1 Entero			

3) $6 \div \frac{1}{7} =$ Esto es lo mismo que decir: ¿Cuántas $\frac{1}{7}$ hay en 6 enteros?

1 Entero				1 Entero				1 Entero				1 Entero				1 Entero							

4) $5 \div \frac{1}{7} =$ Esto es lo mismo que decir: ¿Cuántas $\frac{1}{7}$ hay en 5 enteros?

1 Entero				1 Entero				1 Entero				1 Entero				1 Entero							

5) $5 \div \frac{1}{2} =$ Esto es lo mismo que decir: ¿Cuántas $\frac{1}{2}$ hay en 5 enteros?

1 Entero				1 Entero				1 Entero				1 Entero			

6) $3 \div \frac{1}{3} =$ Esto es lo mismo que decir: ¿Cuántas $\frac{1}{3}$ hay en 3 enteros?

1 Entero				1 Entero				1 Entero			

7) $3 \div \frac{1}{7} =$ Esto es lo mismo que decir: ¿Cuántas $\frac{1}{7}$ hay en 3 enteros?

1 Entero				1 Entero				1 Entero			

8) $5 \div \frac{1}{5} =$ Esto es lo mismo que decir: ¿Cuántas $\frac{1}{5}$ hay en 5 enteros?

1 Entero				1 Entero				1 Entero				1 Entero			

9) $4 \div \frac{1}{6} =$ Esto es lo mismo que decir: ¿Cuántas $\frac{1}{6}$ hay en 4 enteros?

1 Entero				1 Entero				1 Entero				1 Entero			

Respuestas

Ej. 16

1. 12

2. 28

3. 42

4. 35

5. 10

6. 9

7. 21

8. 25

9. 24



Resuelve cada problema marcando las fracciones. El primer ejercicio ha sido resuelto como ejemplo.

Ej) $3 \div \frac{1}{5} = ?$ Esto es lo mismo que decir: ¿Cuántas $\frac{1}{5}$ hay en 3 enteros?

1 Entero					1 Entero					1 Entero				

1) $5 \div \frac{1}{5} =$

1 Entero					1 Entero					1 Entero					1 Entero					1 Entero									

2) $2 \div \frac{1}{3} =$

1 Entero						1 Entero					

3) $4 \div \frac{1}{7} =$

1 Entero							1 Entero							1 Entero							1 Entero													

4) $5 \div \frac{1}{6} =$

1 Entero						1 Entero						1 Entero						1 Entero						1 Entero											

5) $2 \div \frac{1}{7} =$

1 Entero							1 Entero								

6) $4 \div \frac{1}{4} =$

1 Entero								1 Entero								1 Entero								1 Entero											

7) $3 \div \frac{1}{6} =$

1 Entero						1 Entero						1 Entero					

8) $3 \div \frac{1}{4} =$

1 Entero				1 Entero				1 Entero			

9) $5 \div \frac{1}{3} =$

1 Entero						1 Entero						1 Entero						1 Entero						1 Entero											

Respuestas

Ej. **15**

1. _____

2. _____

3. _____

4. _____

5. _____

6. _____

7. _____

8. _____

9. _____



Resuelve cada problema marcando las fracciones. El primer ejercicio ha sido resuelto como ejemplo.

Ej) $3 \div \frac{1}{5} = ?$ Esto es lo mismo que decir: ¿Cuántas $\frac{1}{5}$ hay en 3 enteros?

1 Entero					1 Entero					1 Entero				

1) $5 \div \frac{1}{5} =$ Esto es lo mismo que decir: ¿Cuántas $\frac{1}{5}$ hay en 5 enteros?

1 Entero				1 Entero				1 Entero				1 Entero				1 Entero							

2) $2 \div \frac{1}{3} =$ Esto es lo mismo que decir: ¿Cuántas $\frac{1}{3}$ hay en 2 enteros?

1 Entero						1 Entero					

3) $4 \div \frac{1}{7} =$ Esto es lo mismo que decir: ¿Cuántas $\frac{1}{7}$ hay en 4 enteros?

1 Entero							1 Entero							1 Entero							1 Entero									

4) $5 \div \frac{1}{6} =$ Esto es lo mismo que decir: ¿Cuántas $\frac{1}{6}$ hay en 5 enteros?

1 Entero					1 Entero					1 Entero					1 Entero					1 Entero									

5) $2 \div \frac{1}{7} =$ Esto es lo mismo que decir: ¿Cuántas $\frac{1}{7}$ hay en 2 enteros?

1 Entero							1 Entero						

6) $4 \div \frac{1}{4} =$ Esto es lo mismo que decir: ¿Cuántas $\frac{1}{4}$ hay en 4 enteros?

1 Entero				1 Entero				1 Entero				1 Entero			

7) $3 \div \frac{1}{6} =$ Esto es lo mismo que decir: ¿Cuántas $\frac{1}{6}$ hay en 3 enteros?

1 Entero						1 Entero						1 Entero					

8) $3 \div \frac{1}{4} =$ Esto es lo mismo que decir: ¿Cuántas $\frac{1}{4}$ hay en 3 enteros?

1 Entero				1 Entero				1 Entero			

9) $5 \div \frac{1}{3} =$ Esto es lo mismo que decir: ¿Cuántas $\frac{1}{3}$ hay en 5 enteros?

1 Entero					1 Entero					1 Entero					1 Entero					1 Entero									

Respuestas

Ej. 15

1. 25

2. 6

3. 28

4. 30

5. 14

6. 16

7. 18

8. 12

9. 15



Resuelve cada problema marcando las fracciones. El primer ejercicio ha sido resuelto como ejemplo.

Respuestas

Ej) $2 \div \frac{1}{6} = ?$ Esto es lo mismo que decir: ¿Cuántas $\frac{1}{6}$ hay en 2 enteros?

1 Entero						1 Entero					

1) $5 \div \frac{1}{3} =$

1 Entero	1 Entero	1 Entero	1 Entero	1 Entero

2) $5 \div \frac{1}{5} =$

1 Entero	1 Entero	1 Entero	1 Entero	1 Entero

3) $3 \div \frac{1}{5} =$

1 Entero	1 Entero	1 Entero

4) $4 \div \frac{1}{7} =$

1 Entero	1 Entero	1 Entero	1 Entero

5) $2 \div \frac{1}{7} =$

1 Entero	1 Entero

6) $5 \div \frac{1}{4} =$

1 Entero	1 Entero	1 Entero	1 Entero	1 Entero

7) $4 \div \frac{1}{3} =$

1 Entero	1 Entero	1 Entero	1 Entero

8) $4 \div \frac{1}{4} =$

1 Entero	1 Entero	1 Entero	1 Entero

9) $3 \div \frac{1}{3} =$

1 Entero	1 Entero	1 Entero

Ej. **12**

1. _____

2. _____

3. _____

4. _____

5. _____

6. _____

7. _____

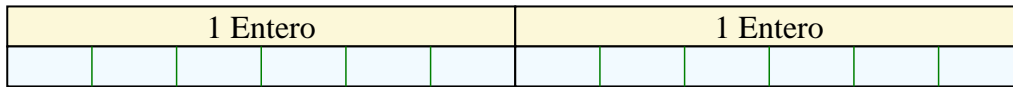
8. _____

9. _____

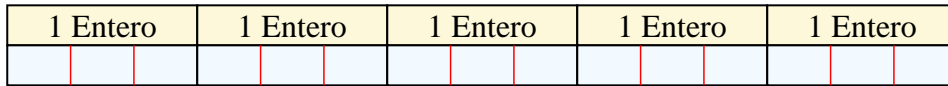


Resuelve cada problema marcando las fracciones. El primer ejercicio ha sido resuelto como ejemplo.

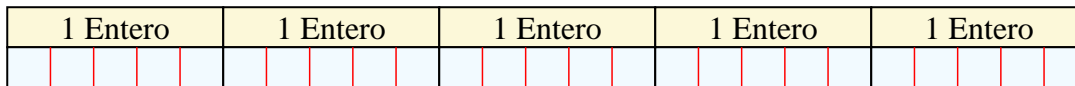
Ej) $2 \div \frac{1}{6} = ?$ Esto es lo mismo que decir: ¿Cuántas $\frac{1}{6}$ hay en 2 enteros?



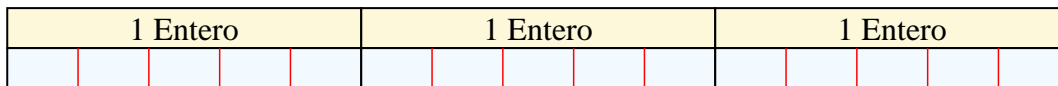
1) $5 \div \frac{1}{3} =$ Esto es lo mismo que decir: ¿Cuántas $\frac{1}{3}$ hay en 5 enteros?



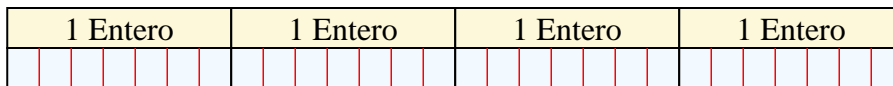
2) $5 \div \frac{1}{5} =$ Esto es lo mismo que decir: ¿Cuántas $\frac{1}{5}$ hay en 5 enteros?



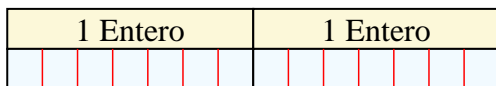
3) $3 \div \frac{1}{5} =$ Esto es lo mismo que decir: ¿Cuántas $\frac{1}{5}$ hay en 3 enteros?



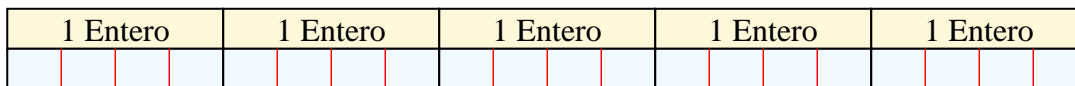
4) $4 \div \frac{1}{7} =$ Esto es lo mismo que decir: ¿Cuántas $\frac{1}{7}$ hay en 4 enteros?



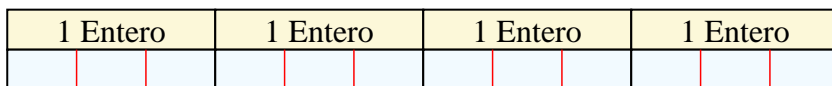
5) $2 \div \frac{1}{7} =$ Esto es lo mismo que decir: ¿Cuántas $\frac{1}{7}$ hay en 2 enteros?




6) $5 \div \frac{1}{4} =$ Esto es lo mismo que decir: ¿Cuántas $\frac{1}{4}$ hay en 5 enteros?



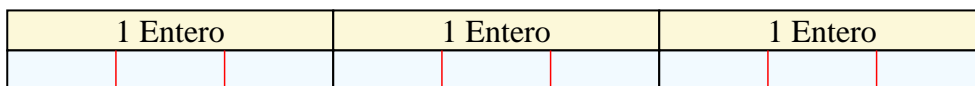
7) $4 \div \frac{1}{3} =$ Esto es lo mismo que decir: ¿Cuántas $\frac{1}{3}$ hay en 4 enteros?



8) $4 \div \frac{1}{4} =$ Esto es lo mismo que decir: ¿Cuántas $\frac{1}{4}$ hay en 4 enteros?



9) $3 \div \frac{1}{3} =$ Esto es lo mismo que decir: ¿Cuántas $\frac{1}{3}$ hay en 3 enteros?



Respuestas

Ej. 12

1. 15

2. 25

3. 15

4. 28

5. 14

6. 20

7. 12

8. 16

9. 9