




Usa la caja para mostrar un ejemplo visual de cómo dividir una fracción y un número entero.

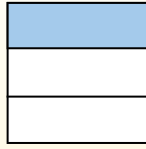
**Respuestas**

$\frac{1}{3} \div 4 = ?$



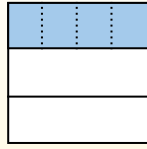
Para resolverlo, comience con un todo.

Divida el conjunto en 3 piezas y complete 1 sección.



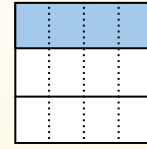
Ahora puedes ver el tamaño de  $\frac{1}{3}$

Em seguida, divida a  $\frac{1}{3}$  en 4 grupos.



Esto muestra el tamaño de cada pieza.

Para calcular el tamaño de cada pieza en comparación con el conjunto, divida el conjunto en 4 grupos.




Each piece is  $\frac{1}{12}$  of the whole.  
Or:


$\frac{1}{3} \div 4 = \frac{1}{12}$

1. \_\_\_\_\_
2. \_\_\_\_\_
3. \_\_\_\_\_
4. \_\_\_\_\_
5. \_\_\_\_\_
6. \_\_\_\_\_
7. \_\_\_\_\_
8. \_\_\_\_\_
9. \_\_\_\_\_
10. \_\_\_\_\_
11. \_\_\_\_\_
12. \_\_\_\_\_


1)  $\frac{1}{3} \div 9 =$




2)  $\frac{1}{3} \div 7 =$




3)  $\frac{1}{7} \div 3 =$




4)  $\frac{1}{7} \div 2 =$




5)  $\frac{1}{8} \div 3 =$




6)  $\frac{1}{4} \div 4 =$




7)  $\frac{1}{8} \div 4 =$




8)  $\frac{1}{7} \div 4 =$




9)  $\frac{1}{5} \div 5 =$




10)  $\frac{1}{4} \div 5 =$



11)  $\frac{1}{7} \div 7 =$



12)  $\frac{1}{8} \div 6 =$





Usa la caja para mostrar un ejemplo visual de cómo dividir una fracción y un número entero.

$\frac{1}{3} \div 4 = ?$

Divida el conjunto en 3 piezas y complete 1 sección.

Em seguida, divida a  $\frac{1}{3}$  em 4 grupos.

Para calcular el tamaño de cada pieza en comparación con el conjunto, divida el conjunto en 4 grupos.

Para resolverlo, comience con un todo.

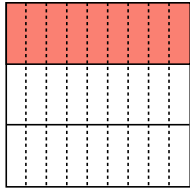
Ahora puedes ver el tamaño de  $\frac{1}{3}$

Esto muestra el tamaño de cada pieza.

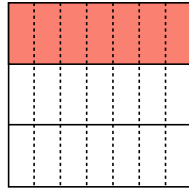
Each piece is  $\frac{1}{12}$  of the whole.  
Or:  
 $\frac{1}{3} \div 4 = \frac{1}{12}$

**Respuestas**

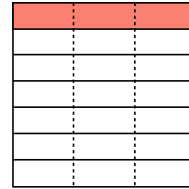
1)  $\frac{1}{3} \div 9 =$



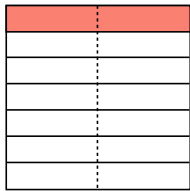
2)  $\frac{1}{3} \div 7 =$



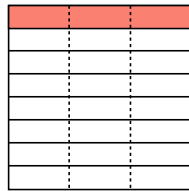
3)  $\frac{1}{7} \div 3 =$



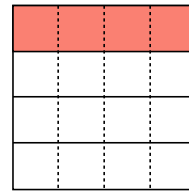
4)  $\frac{1}{7} \div 2 =$



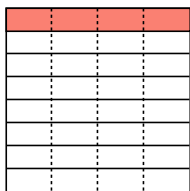
5)  $\frac{1}{8} \div 3 =$



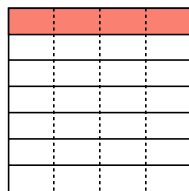
6)  $\frac{1}{4} \div 4 =$



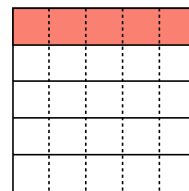
7)  $\frac{1}{8} \div 4 =$



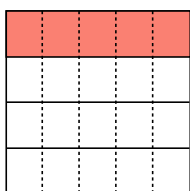
8)  $\frac{1}{7} \div 4 =$




9)  $\frac{1}{5} \div 5 =$



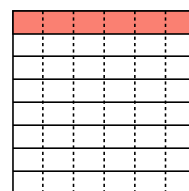
10)  $\frac{1}{4} \div 5 =$



11)  $\frac{1}{7} \div 7 =$



12)  $\frac{1}{8} \div 6 =$



1.  $\frac{1}{27}$
2.  $\frac{1}{21}$
3.  $\frac{1}{21}$
4.  $\frac{1}{14}$
5.  $\frac{1}{24}$
6.  $\frac{1}{16}$
7.  $\frac{1}{32}$
8.  $\frac{1}{28}$
9.  $\frac{1}{25}$
10.  $\frac{1}{20}$
11.  $\frac{1}{49}$
12.  $\frac{1}{48}$



Usa la caja para mostrar un ejemplo visual de cómo dividir una fracción y un número entero.

**Respuestas**

$\frac{1}{3} \div 4 = ?$

Divida el conjunto en 3 piezas y complete 1 sección.

Em seguida, divida a  $\frac{1}{3}$  en 4 grupos.

Para calcular el tamaño de cada pieza en comparación con el conjunto, divida el conjunto en 4 grupos.

Para resolverlo, comience con un todo.


Ahora puedes ver el tamaño de  $\frac{1}{3}$

Esto muestra el tamaño de cada pieza.


Each piece is  $\frac{1}{12}$  of the whole.  
Or:  
 $\frac{1}{3} \div 4 = \frac{1}{12}$

1. \_\_\_\_\_
2. \_\_\_\_\_
3. \_\_\_\_\_
4. \_\_\_\_\_
5. \_\_\_\_\_
6. \_\_\_\_\_
7. \_\_\_\_\_
8. \_\_\_\_\_
9. \_\_\_\_\_
10. \_\_\_\_\_
11. \_\_\_\_\_
12. \_\_\_\_\_


1)  $\frac{1}{7} \div 3 =$




2)  $\frac{1}{3} \div 6 =$




3)  $\frac{1}{6} \div 2 =$




4)  $\frac{1}{8} \div 3 =$




5)  $\frac{1}{8} \div 2 =$




6)  $\frac{1}{4} \div 4 =$




7)  $\frac{1}{7} \div 9 =$




8)  $\frac{1}{3} \div 9 =$



9)  $\frac{1}{2} \div 8 =$



10)  $\frac{1}{4} \div 8 =$



11)  $\frac{1}{7} \div 2 =$




12)  $\frac{1}{2} \div 6 =$






Usa la caja para mostrar un ejemplo visual de cómo dividir una fracción y un número entero.

$\frac{1}{3} \div 4 = ?$



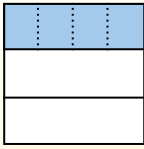
Para resolverlo, comience con un todo.

Divida el conjunto en 3 piezas y complete 1 sección.



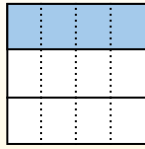
Ahora puedes ver el tamaño de  $\frac{1}{3}$

Em seguida, divide a  $\frac{1}{3}$  em 4 grupos.



Esto muestra el tamaño de cada pieza.

Para calcular el tamaño de cada pieza en comparación con el conjunto, divida el conjunto en 4 grupos.

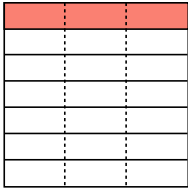


Each piece is  $\frac{1}{12}$  of the whole.  
Or:  
 $\frac{1}{3} \div 4 = \frac{1}{12}$

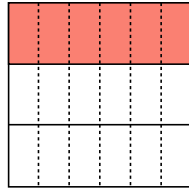
**Respuestas**

1.  $\frac{1}{21}$
2.  $\frac{1}{18}$
3.  $\frac{1}{12}$
4.  $\frac{1}{24}$
5.  $\frac{1}{16}$
6.  $\frac{1}{16}$
7.  $\frac{1}{63}$
8.  $\frac{1}{27}$
9.  $\frac{1}{16}$
10.  $\frac{1}{32}$
11.  $\frac{1}{14}$
12.  $\frac{1}{12}$

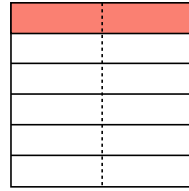
1)  $\frac{1}{7} \div 3 =$



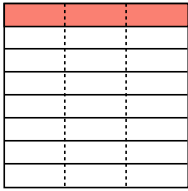
2)  $\frac{1}{3} \div 6 =$



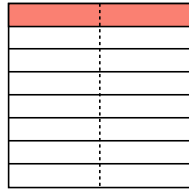
3)  $\frac{1}{6} \div 2 =$



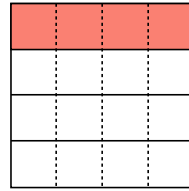
4)  $\frac{1}{8} \div 3 =$



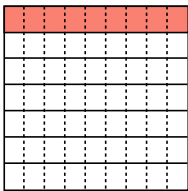
5)  $\frac{1}{8} \div 2 =$



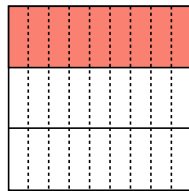
6)  $\frac{1}{4} \div 4 =$



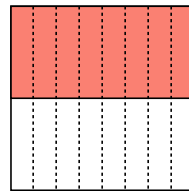
7)  $\frac{1}{7} \div 9 =$



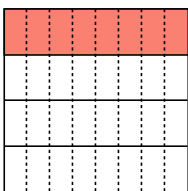
8)  $\frac{1}{3} \div 9 =$



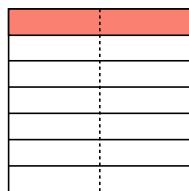
9)  $\frac{1}{2} \div 8 =$



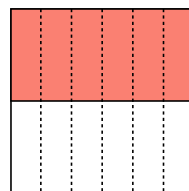
10)  $\frac{1}{4} \div 8 =$



11)  $\frac{1}{7} \div 2 =$



12)  $\frac{1}{2} \div 6 =$






Usa la caja para mostrar un ejemplo visual de cómo dividir una fracción y un número entero.

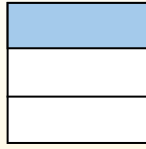
**Respuestas**

$\frac{1}{3} \div 4 = ?$



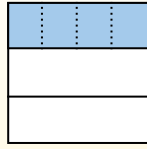
Para resolverlo, comience con un todo.

Divida el conjunto en 3 piezas y complete 1 sección.



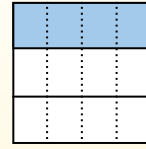
Ahora puedes ver el tamaño de  $\frac{1}{3}$

Em seguida, divide a  $\frac{1}{3}$  en 4 grupos.



Esto muestra el tamaño de cada pieza.

Para calcular el tamaño de cada pieza en comparación con el conjunto, divida el conjunto en 4 grupos.




Each piece is  $\frac{1}{12}$  of the whole.  
Or:


$\frac{1}{3} \div 4 = \frac{1}{12}$

1. \_\_\_\_\_
2. \_\_\_\_\_
3. \_\_\_\_\_
4. \_\_\_\_\_
5. \_\_\_\_\_
6. \_\_\_\_\_
7. \_\_\_\_\_
8. \_\_\_\_\_
9. \_\_\_\_\_
10. \_\_\_\_\_
11. \_\_\_\_\_
12. \_\_\_\_\_


1)  $\frac{1}{3} \div 2 =$




2)  $\frac{1}{4} \div 6 =$




3)  $\frac{1}{2} \div 3 =$




4)  $\frac{1}{4} \div 5 =$




5)  $\frac{1}{9} \div 2 =$




6)  $\frac{1}{6} \div 2 =$




7)  $\frac{1}{3} \div 4 =$




8)  $\frac{1}{6} \div 6 =$



9)  $\frac{1}{4} \div 7 =$




10)  $\frac{1}{2} \div 5 =$



11)  $\frac{1}{7} \div 6 =$




12)  $\frac{1}{4} \div 2 =$






Usa la caja para mostrar un ejemplo visual de cómo dividir una fracción y un número entero.

$\frac{1}{3} \div 4 = ?$



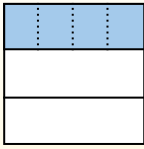
Para resolverlo, comience con un todo.

Divida el conjunto en 3 piezas y complete 1 sección.



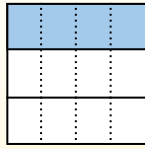
Ahora puedes ver el tamaño de  $\frac{1}{3}$

Em seguida, divide a  $\frac{1}{3}$  en 4 grupos.



Esto muestra el tamaño de cada pieza.

Para calcular el tamaño de cada pieza en comparación con el conjunto, divide el conjunto en 4 grupos.

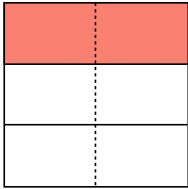


Each piece is  $\frac{1}{12}$  of the whole.  
Or:  
 $\frac{1}{3} \div 4 = \frac{1}{12}$

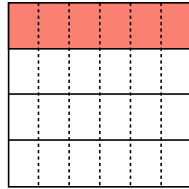
**Respuestas**

1.  $\frac{1}{6}$
2.  $\frac{1}{24}$
3.  $\frac{1}{6}$
4.  $\frac{1}{20}$
5.  $\frac{1}{18}$
6.  $\frac{1}{12}$
7.  $\frac{1}{12}$
8.  $\frac{1}{36}$
9.  $\frac{1}{28}$
10.  $\frac{1}{10}$
11.  $\frac{1}{42}$
12.  $\frac{1}{8}$

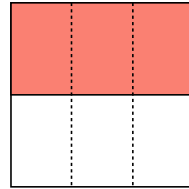
1)  $\frac{1}{3} \div 2 =$



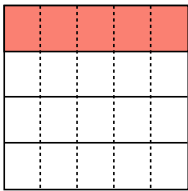
2)  $\frac{1}{4} \div 6 =$



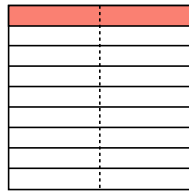
3)  $\frac{1}{2} \div 3 =$



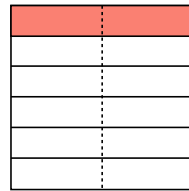
4)  $\frac{1}{4} \div 5 =$



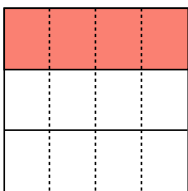
5)  $\frac{1}{9} \div 2 =$



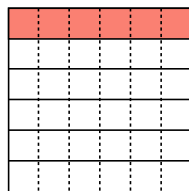
6)  $\frac{1}{6} \div 2 =$



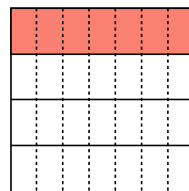
7)  $\frac{1}{3} \div 4 =$



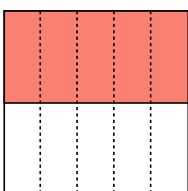
8)  $\frac{1}{6} \div 6 =$



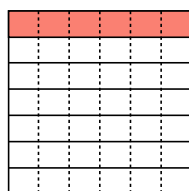
9)  $\frac{1}{4} \div 7 =$



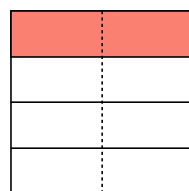
10)  $\frac{1}{2} \div 5 =$



11)  $\frac{1}{7} \div 6 =$



12)  $\frac{1}{4} \div 2 =$





Usa la caja para mostrar un ejemplo visual de cómo dividir una fracción y un número entero.

**Respuestas**

$\frac{1}{3} \div 4 = ?$

Divida el conjunto en 3 piezas y complete 1 sección.

Em seguida, divida a  $\frac{1}{3}$  en 4 grupos.

Para calcular el tamaño de cada pieza en comparación con el conjunto, divida el conjunto en 4 grupos.

Para resolverlo, comience con un todo.


Ahora puedes ver el tamaño de  $\frac{1}{3}$

Esto muestra el tamaño de cada pieza.


Each piece is  $\frac{1}{12}$  of the whole.  
Or:  
 $\frac{1}{3} \div 4 = \frac{1}{12}$

1. \_\_\_\_\_
2. \_\_\_\_\_
3. \_\_\_\_\_
4. \_\_\_\_\_
5. \_\_\_\_\_
6. \_\_\_\_\_
7. \_\_\_\_\_
8. \_\_\_\_\_
9. \_\_\_\_\_
10. \_\_\_\_\_
11. \_\_\_\_\_
12. \_\_\_\_\_


1)  $\frac{1}{3} \div 3 =$




2)  $\frac{1}{6} \div 7 =$




3)  $\frac{1}{8} \div 6 =$




4)  $\frac{1}{4} \div 4 =$




5)  $\frac{1}{6} \div 5 =$




6)  $\frac{1}{2} \div 4 =$




7)  $\frac{1}{2} \div 3 =$




8)  $\frac{1}{9} \div 4 =$




9)  $\frac{1}{9} \div 3 =$



10)  $\frac{1}{3} \div 2 =$



11)  $\frac{1}{3} \div 5 =$




12)  $\frac{1}{8} \div 9 =$






Usa la caja para mostrar un ejemplo visual de cómo dividir una fracción y un número entero.

$\frac{1}{3} \div 4 = ?$



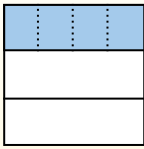
Para resolverlo, comience con un todo.

Divida el conjunto en 3 piezas y complete 1 sección.



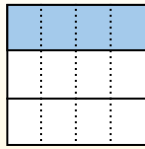
Ahora puedes ver el tamaño de  $\frac{1}{3}$

Em seguida, divida a  $\frac{1}{3}$  em 4 grupos.



Esto muestra el tamaño de cada pieza.

Para calcular el tamaño de cada pieza en comparación con el conjunto, divida el conjunto en 4 grupos.

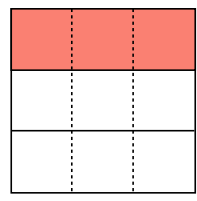


Each piece is  $\frac{1}{12}$  of the whole.  
Or:  
 $\frac{1}{3} \div 4 = \frac{1}{12}$

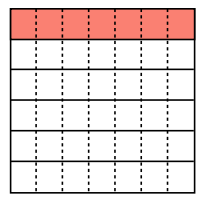
**Respuestas**

1.  $\frac{1}{9}$
2.  $\frac{1}{42}$
3.  $\frac{1}{48}$
4.  $\frac{1}{16}$
5.  $\frac{1}{30}$
6.  $\frac{1}{8}$
7.  $\frac{1}{6}$
8.  $\frac{1}{36}$
9.  $\frac{1}{27}$
10.  $\frac{1}{6}$
11.  $\frac{1}{15}$
12.  $\frac{1}{72}$

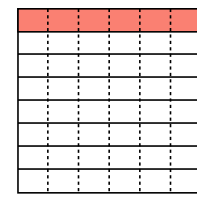
1)  $\frac{1}{3} \div 3 =$



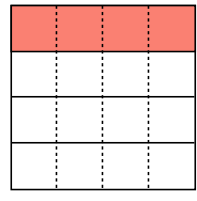
2)  $\frac{1}{6} \div 7 =$



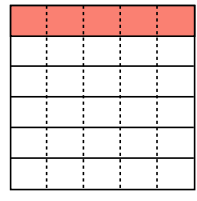
3)  $\frac{1}{8} \div 6 =$



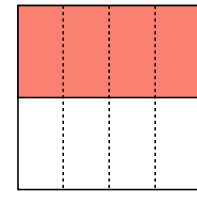
4)  $\frac{1}{4} \div 4 =$



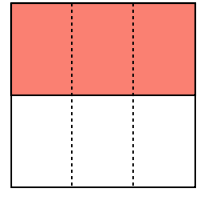
5)  $\frac{1}{6} \div 5 =$



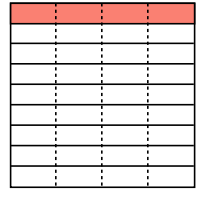
6)  $\frac{1}{2} \div 4 =$



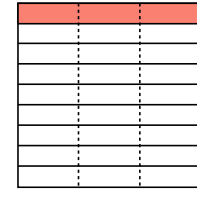
7)  $\frac{1}{2} \div 3 =$



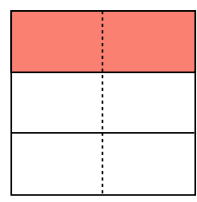
8)  $\frac{1}{9} \div 4 =$



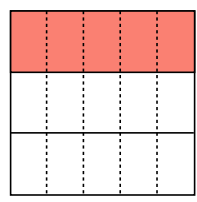
9)  $\frac{1}{9} \div 3 =$



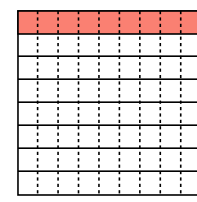
10)  $\frac{1}{3} \div 2 =$



11)  $\frac{1}{3} \div 5 =$



12)  $\frac{1}{8} \div 9 =$








Usa la caja para mostrar un ejemplo visual de cómo dividir una fracción y un número entero.

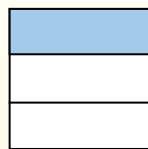
**Respuestas**

$\frac{1}{3} \div 4 = ?$



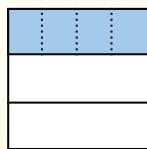
Para resolverlo, comience con un todo.

Divida el conjunto en 3 piezas y complete 1 sección.



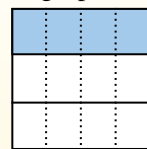
Ahora puedes ver el tamaño de  $\frac{1}{3}$

Em seguida, divide a  $\frac{1}{3}$  em 4 grupos.



Esto muestra el tamaño de cada pieza.

Para calcular el tamaño de cada pieza en comparación con el conjunto, divida el conjunto en 4 grupos.




Each piece is  $\frac{1}{12}$  of the whole.  
Or:

$\frac{1}{3} \div 4 = \frac{1}{12}$

1. \_\_\_\_\_
2. \_\_\_\_\_
3. \_\_\_\_\_
4. \_\_\_\_\_
5. \_\_\_\_\_
6. \_\_\_\_\_
7. \_\_\_\_\_
8. \_\_\_\_\_
9. \_\_\_\_\_
10. \_\_\_\_\_
11. \_\_\_\_\_
12. \_\_\_\_\_


1)  $\frac{1}{5} \div 2 =$




2)  $\frac{1}{7} \div 3 =$




3)  $\frac{1}{6} \div 7 =$




4)  $\frac{1}{3} \div 4 =$




5)  $\frac{1}{2} \div 6 =$




6)  $\frac{1}{5} \div 4 =$



7)  $\frac{1}{9} \div 8 =$




8)  $\frac{1}{9} \div 7 =$



9)  $\frac{1}{2} \div 9 =$




10)  $\frac{1}{2} \div 3 =$



11)  $\frac{1}{8} \div 3 =$




12)  $\frac{1}{9} \div 3 =$






Usa la caja para mostrar un ejemplo visual de cómo dividir una fracción y un número entero.

$\frac{1}{3} \div 4 = ?$



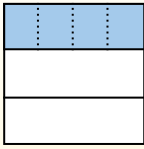
Para resolverlo, comience con un todo.

Divida el conjunto en 3 piezas y complete 1 sección.



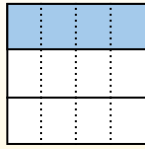
Ahora puedes ver el tamaño de  $\frac{1}{3}$

Em seguida, divida a  $\frac{1}{3}$  em 4 grupos.



Esto muestra el tamaño de cada pieza.

Para calcular el tamaño de cada pieza en comparación con el conjunto, divida el conjunto en 4 grupos.

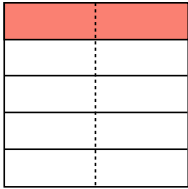


Each piece is  $\frac{1}{12}$  of the whole.  
Or:  
 $\frac{1}{3} \div 4 = \frac{1}{12}$

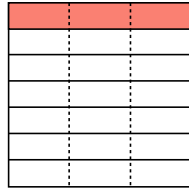
**Respuestas**

1.  $\frac{1}{10}$
2.  $\frac{1}{21}$
3.  $\frac{1}{42}$
4.  $\frac{1}{12}$
5.  $\frac{1}{12}$
6.  $\frac{1}{20}$
7.  $\frac{1}{72}$
8.  $\frac{1}{63}$
9.  $\frac{1}{18}$
10.  $\frac{1}{6}$
11.  $\frac{1}{24}$
12.  $\frac{1}{27}$

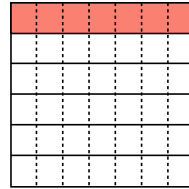
1)  $\frac{1}{5} \div 2 =$



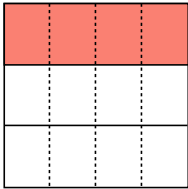
2)  $\frac{1}{7} \div 3 =$



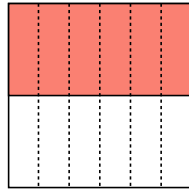
3)  $\frac{1}{6} \div 7 =$



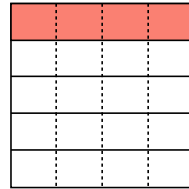
4)  $\frac{1}{3} \div 4 =$



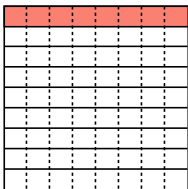
5)  $\frac{1}{2} \div 6 =$



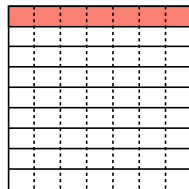
6)  $\frac{1}{5} \div 4 =$



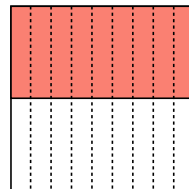
7)  $\frac{1}{9} \div 8 =$



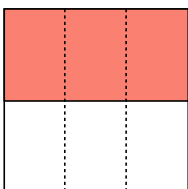
8)  $\frac{1}{9} \div 7 =$



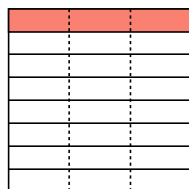
9)  $\frac{1}{2} \div 9 =$



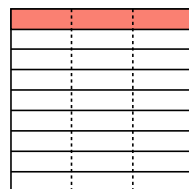
10)  $\frac{1}{2} \div 3 =$



11)  $\frac{1}{8} \div 3 =$



12)  $\frac{1}{9} \div 3 =$






Usa la caja para mostrar un ejemplo visual de cómo dividir una fracción y un número entero.

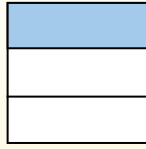
**Respuestas**

$\frac{1}{3} \div 4 = ?$



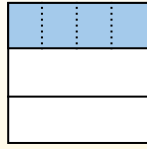
Para resolverlo, comience con un todo.

Divida el conjunto en 3 piezas y complete 1 sección.



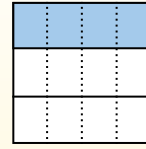
Ahora puedes ver el tamaño de  $\frac{1}{3}$

Em seguida, divide a  $\frac{1}{3}$  en 4 grupos.



Esto muestra el tamaño de cada pieza.

Para calcular el tamaño de cada pieza en comparación con el conjunto, divida el conjunto en 4 grupos.




Each piece is  $\frac{1}{12}$  of the whole.  
Or:


$\frac{1}{3} \div 4 = \frac{1}{12}$

1. \_\_\_\_\_
2. \_\_\_\_\_
3. \_\_\_\_\_
4. \_\_\_\_\_
5. \_\_\_\_\_
6. \_\_\_\_\_
7. \_\_\_\_\_
8. \_\_\_\_\_
9. \_\_\_\_\_
10. \_\_\_\_\_
11. \_\_\_\_\_
12. \_\_\_\_\_


1)  $\frac{1}{2} \div 8 =$




2)  $\frac{1}{9} \div 6 =$




3)  $\frac{1}{3} \div 8 =$




4)  $\frac{1}{7} \div 9 =$




5)  $\frac{1}{2} \div 3 =$



6)  $\frac{1}{8} \div 9 =$




7)  $\frac{1}{9} \div 3 =$




8)  $\frac{1}{4} \div 5 =$




9)  $\frac{1}{3} \div 9 =$



10)  $\frac{1}{5} \div 6 =$



11)  $\frac{1}{7} \div 6 =$




12)  $\frac{1}{7} \div 5 =$






Usa la caja para mostrar un ejemplo visual de cómo dividir una fracción y un número entero.

$\frac{1}{3} \div 4 = ?$




Para resolverlo, comience con un todo.

Divida el conjunto en 3 piezas y complete 1 sección.




Ahora puedes ver el tamaño de  $\frac{1}{3}$

Em seguida, divida a  $\frac{1}{3}$  en 4 grupos.



Esto muestra el tamaño de cada pieza.

Para calcular el tamaño de cada pieza en comparación con el conjunto, divida el conjunto en 4 grupos.

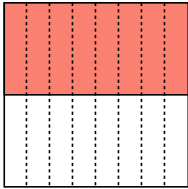


Each piece is  $\frac{1}{12}$  of the whole.  
Or:  
 $\frac{1}{3} \div 4 = \frac{1}{12}$

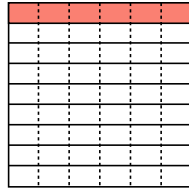
**Respuestas**

1.  $\frac{1}{16}$
2.  $\frac{1}{54}$
3.  $\frac{1}{24}$
4.  $\frac{1}{63}$
5.  $\frac{1}{6}$
6.  $\frac{1}{72}$
7.  $\frac{1}{27}$
8.  $\frac{1}{20}$
9.  $\frac{1}{27}$
10.  $\frac{1}{30}$
11.  $\frac{1}{42}$
12.  $\frac{1}{35}$

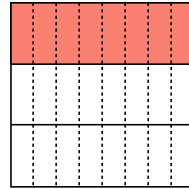
1)  $\frac{1}{2} \div 8 =$



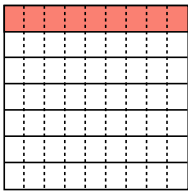
2)  $\frac{1}{9} \div 6 =$



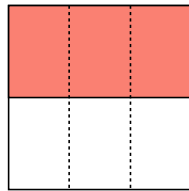
3)  $\frac{1}{3} \div 8 =$



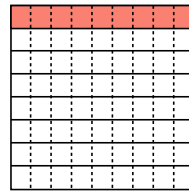
4)  $\frac{1}{7} \div 9 =$



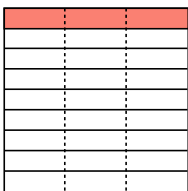
5)  $\frac{1}{2} \div 3 =$



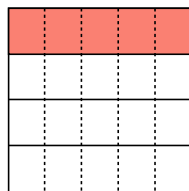
6)  $\frac{1}{8} \div 9 =$



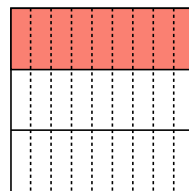
7)  $\frac{1}{9} \div 3 =$



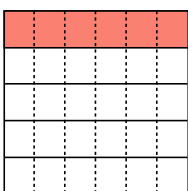
8)  $\frac{1}{4} \div 5 =$



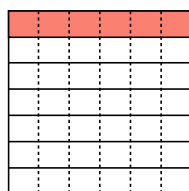
9)  $\frac{1}{3} \div 9 =$



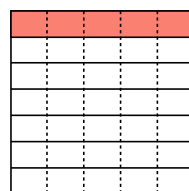
10)  $\frac{1}{5} \div 6 =$



11)  $\frac{1}{7} \div 6 =$



12)  $\frac{1}{7} \div 5 =$






Usa la caja para mostrar un ejemplo visual de cómo dividir una fracción y un número entero.

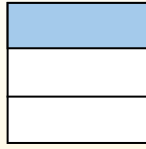
**Respuestas**

$\frac{1}{3} \div 4 = ?$



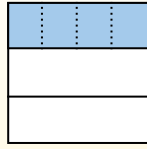
Para resolverlo, comience con un todo.

Divida el conjunto en 3 piezas y complete 1 sección.



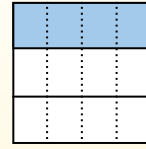
Ahora puedes ver el tamaño de  $\frac{1}{3}$

Em seguida, divida a  $\frac{1}{3}$  en 4 grupos.



Esto muestra el tamaño de cada pieza.

Para calcular el tamaño de cada pieza en comparación con el conjunto, divida el conjunto en 4 grupos.




Each piece is  $\frac{1}{12}$  of the whole.  
Or:


$\frac{1}{3} \div 4 = \frac{1}{12}$

1. \_\_\_\_\_
2. \_\_\_\_\_
3. \_\_\_\_\_
4. \_\_\_\_\_
5. \_\_\_\_\_
6. \_\_\_\_\_
7. \_\_\_\_\_
8. \_\_\_\_\_
9. \_\_\_\_\_
10. \_\_\_\_\_
11. \_\_\_\_\_
12. \_\_\_\_\_


1)  $\frac{1}{8} \div 6 =$




2)  $\frac{1}{6} \div 2 =$




3)  $\frac{1}{5} \div 7 =$




4)  $\frac{1}{5} \div 4 =$




5)  $\frac{1}{3} \div 6 =$




6)  $\frac{1}{4} \div 7 =$




7)  $\frac{1}{2} \div 6 =$




8)  $\frac{1}{4} \div 3 =$



9)  $\frac{1}{7} \div 7 =$




10)  $\frac{1}{8} \div 3 =$



11)  $\frac{1}{2} \div 9 =$




12)  $\frac{1}{5} \div 3 =$






Usa la caja para mostrar un ejemplo visual de cómo dividir una fracción y un número entero.

$\frac{1}{3} \div 4 = ?$




Para resolverlo, comience con un todo.

Divida el conjunto en 3 piezas y complete 1 sección.




Ahora puedes ver el tamaño de  $\frac{1}{3}$

Em seguida, divide a  $\frac{1}{3}$  em 4 grupos.



Esto muestra el tamaño de cada pieza.

Para calcular el tamaño de cada pieza en comparación con el conjunto, divida el conjunto en 4 grupos.

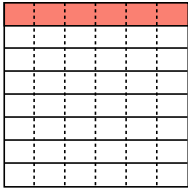


Each piece is  $\frac{1}{12}$  of the whole.  
Or:  
 $\frac{1}{3} \div 4 = \frac{1}{12}$

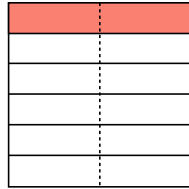
**Respuestas**

1.  $\frac{1}{48}$
2.  $\frac{1}{12}$
3.  $\frac{1}{35}$
4.  $\frac{1}{20}$
5.  $\frac{1}{18}$
6.  $\frac{1}{28}$
7.  $\frac{1}{12}$
8.  $\frac{1}{12}$
9.  $\frac{1}{49}$
10.  $\frac{1}{24}$
11.  $\frac{1}{18}$
12.  $\frac{1}{15}$

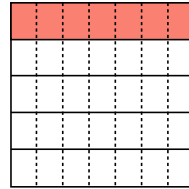
1)  $\frac{1}{8} \div 6 =$



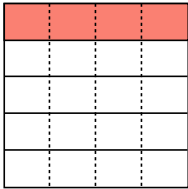
2)  $\frac{1}{6} \div 2 =$



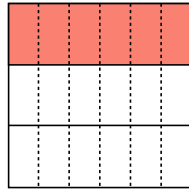
3)  $\frac{1}{5} \div 7 =$



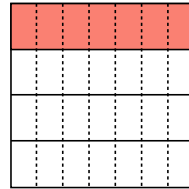
4)  $\frac{1}{5} \div 4 =$



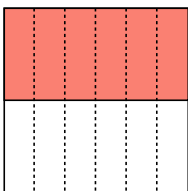
5)  $\frac{1}{3} \div 6 =$



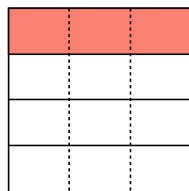
6)  $\frac{1}{4} \div 7 =$




7)  $\frac{1}{2} \div 6 =$



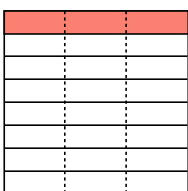
8)  $\frac{1}{4} \div 3 =$



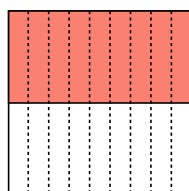
9)  $\frac{1}{7} \div 7 =$



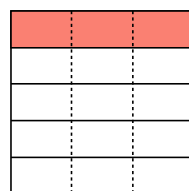
10)  $\frac{1}{8} \div 3 =$



11)  $\frac{1}{2} \div 9 =$



12)  $\frac{1}{5} \div 3 =$






Usa la caja para mostrar un ejemplo visual de cómo dividir una fracción y un número entero.

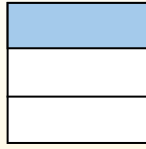
**Respuestas**

$\frac{1}{3} \div 4 = ?$



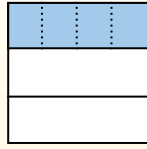
Para resolverlo, comience con un todo.

Divida el conjunto en 3 piezas y complete 1 sección.



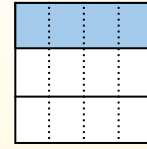
Ahora puedes ver el tamaño de  $\frac{1}{3}$

Em seguida, divide a  $\frac{1}{3}$  en 4 grupos.



Esto muestra el tamaño de cada pieza.


Para calcular el tamaño de cada pieza en comparación con el conjunto, divida el conjunto en 4 grupos.




Each piece is  $\frac{1}{12}$  of the whole.  
Or:

$\frac{1}{3} \div 4 = \frac{1}{12}$


1)  $\frac{1}{5} \div 8 =$




2)  $\frac{1}{4} \div 5 =$




3)  $\frac{1}{2} \div 3 =$




4)  $\frac{1}{4} \div 7 =$




5)  $\frac{1}{9} \div 9 =$




6)  $\frac{1}{9} \div 5 =$




7)  $\frac{1}{6} \div 3 =$




8)  $\frac{1}{2} \div 5 =$



9)  $\frac{1}{9} \div 8 =$




10)  $\frac{1}{5} \div 4 =$



11)  $\frac{1}{4} \div 6 =$



12)  $\frac{1}{2} \div 6 =$



1. \_\_\_\_\_
2. \_\_\_\_\_
3. \_\_\_\_\_
4. \_\_\_\_\_
5. \_\_\_\_\_
6. \_\_\_\_\_
7. \_\_\_\_\_
8. \_\_\_\_\_
9. \_\_\_\_\_
10. \_\_\_\_\_
11. \_\_\_\_\_
12. \_\_\_\_\_



Usa la caja para mostrar un ejemplo visual de cómo dividir una fracción y un número entero.

$\frac{1}{3} \div 4 = ?$

Divida el conjunto en 3 piezas y complete 1 sección.

Em seguida, divida a  $\frac{1}{3}$  en 4 grupos.

Para calcular el tamaño de cada pieza en comparación con el conjunto, divida el conjunto en 4 grupos.

Para resolverlo, comience con un todo.

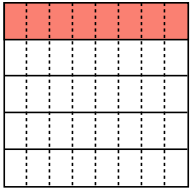
Ahora puedes ver el tamaño de  $\frac{1}{3}$

Esto muestra el tamaño de cada pieza.

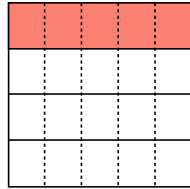
Each piece is  $\frac{1}{12}$  of the whole.  
Or:  
 $\frac{1}{3} \div 4 = \frac{1}{12}$

**Respuestas**

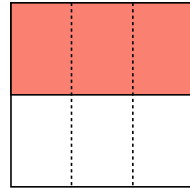
1)  $\frac{1}{5} \div 8 =$



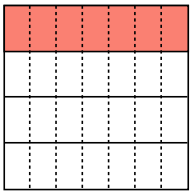
2)  $\frac{1}{4} \div 5 =$



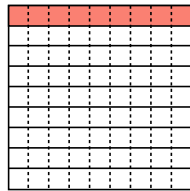
3)  $\frac{1}{2} \div 3 =$



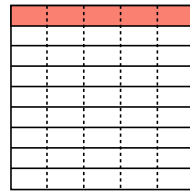
4)  $\frac{1}{4} \div 7 =$



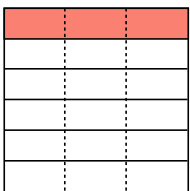
5)  $\frac{1}{9} \div 9 =$



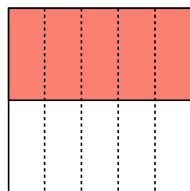
6)  $\frac{1}{9} \div 5 =$



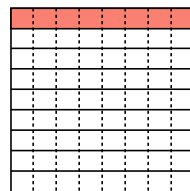
7)  $\frac{1}{6} \div 3 =$



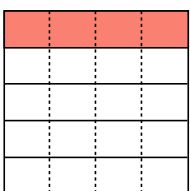
8)  $\frac{1}{2} \div 5 =$



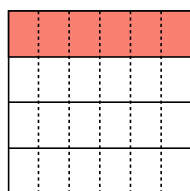
9)  $\frac{1}{9} \div 8 =$



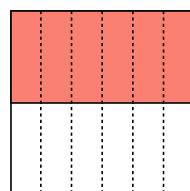
10)  $\frac{1}{5} \div 4 =$



11)  $\frac{1}{4} \div 6 =$



12)  $\frac{1}{2} \div 6 =$



1.  $\frac{1}{40}$
2.  $\frac{1}{20}$
3.  $\frac{1}{6}$
4.  $\frac{1}{28}$
5.  $\frac{1}{81}$
6.  $\frac{1}{45}$
7.  $\frac{1}{18}$
8.  $\frac{1}{10}$
9.  $\frac{1}{72}$
10.  $\frac{1}{20}$
11.  $\frac{1}{24}$
12.  $\frac{1}{12}$





Usa la caja para mostrar un ejemplo visual de cómo dividir una fracción y un número entero.

**Respuestas**

$\frac{1}{3} \div 4 = ?$

Divida el conjunto en 3 piezas y complete 1 sección.

Em seguida, divida a  $\frac{1}{3}$  en 4 grupos.

Para calcular el tamaño de cada pieza en comparación con el conjunto, divida el conjunto en 4 grupos.

Para resolverlo, comience con un todo.


Ahora puedes ver el tamaño de  $\frac{1}{3}$

Esto muestra el tamaño de cada pieza.


Each piece is  $\frac{1}{12}$  of the whole.  
Or:  
 $\frac{1}{3} \div 4 = \frac{1}{12}$

1. \_\_\_\_\_
2. \_\_\_\_\_
3. \_\_\_\_\_
4. \_\_\_\_\_
5. \_\_\_\_\_
6. \_\_\_\_\_
7. \_\_\_\_\_
8. \_\_\_\_\_
9. \_\_\_\_\_
10. \_\_\_\_\_
11. \_\_\_\_\_
12. \_\_\_\_\_


1)  $\frac{1}{7} \div 3 =$




2)  $\frac{1}{6} \div 7 =$




3)  $\frac{1}{4} \div 3 =$




4)  $\frac{1}{9} \div 4 =$




5)  $\frac{1}{6} \div 9 =$




6)  $\frac{1}{3} \div 6 =$




7)  $\frac{1}{5} \div 8 =$




8)  $\frac{1}{7} \div 2 =$



9)  $\frac{1}{5} \div 3 =$



10)  $\frac{1}{2} \div 3 =$



11)  $\frac{1}{5} \div 4 =$



12)  $\frac{1}{8} \div 9 =$





Usa la caja para mostrar un ejemplo visual de cómo dividir una fracción y un número entero.

$\frac{1}{3} \div 4 = ?$

Divida el conjunto en 3 piezas y complete 1 sección.

Em seguida, divida a  $\frac{1}{3}$  en 4 grupos.

Para calcular el tamaño de cada pieza en comparación con el conjunto, divida el conjunto en 4 grupos.

Para resolverlo, comience con un todo.

Ahora puedes ver el tamaño de  $\frac{1}{3}$

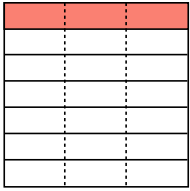
Esto muestra el tamaño de cada pieza.

Each piece is  $\frac{1}{12}$  of the whole.  
Or:  
 $\frac{1}{3} \div 4 = \frac{1}{12}$

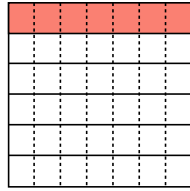
**Respuestas**

1.  $\frac{1}{21}$
2.  $\frac{1}{42}$
3.  $\frac{1}{12}$
4.  $\frac{1}{36}$
5.  $\frac{1}{54}$
6.  $\frac{1}{18}$
7.  $\frac{1}{40}$
8.  $\frac{1}{14}$
9.  $\frac{1}{15}$
10.  $\frac{1}{6}$
11.  $\frac{1}{20}$
12.  $\frac{1}{72}$

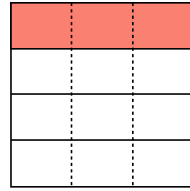
1)  $\frac{1}{7} \div 3 =$



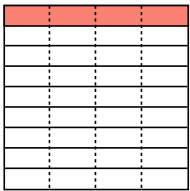
2)  $\frac{1}{6} \div 7 =$



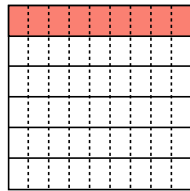
3)  $\frac{1}{4} \div 3 =$



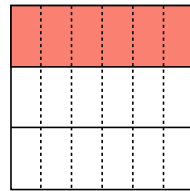
4)  $\frac{1}{9} \div 4 =$



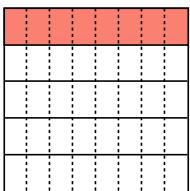
5)  $\frac{1}{6} \div 9 =$



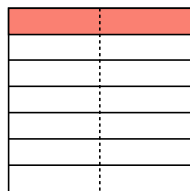
6)  $\frac{1}{3} \div 6 =$



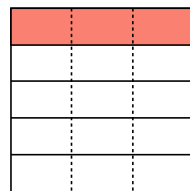
7)  $\frac{1}{5} \div 8 =$



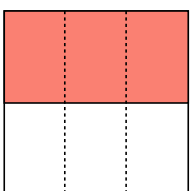
8)  $\frac{1}{7} \div 2 =$



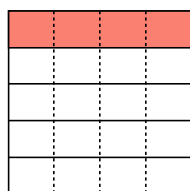
9)  $\frac{1}{5} \div 3 =$




10)  $\frac{1}{2} \div 3 =$



11)  $\frac{1}{5} \div 4 =$



12)  $\frac{1}{8} \div 9 =$





Usa la caja para mostrar un ejemplo visual de cómo dividir una fracción y un número entero.

**Respuestas**

$\frac{1}{3} \div 4 = ?$

Divida el conjunto en 3 piezas y complete 1 sección.

Em seguida, divida a  $\frac{1}{3}$  en 4 grupos.

Para calcular el tamaño de cada pieza en comparación con el conjunto, divida el conjunto en 4 grupos.

Para resolverlo, comience con un todo.


Ahora puedes ver el tamaño de  $\frac{1}{3}$

Esto muestra el tamaño de cada pieza.


Each piece is  $\frac{1}{12}$  of the whole.  
Or:  
 $\frac{1}{3} \div 4 = \frac{1}{12}$

1. \_\_\_\_\_
2. \_\_\_\_\_
3. \_\_\_\_\_
4. \_\_\_\_\_
5. \_\_\_\_\_
6. \_\_\_\_\_
7. \_\_\_\_\_
8. \_\_\_\_\_
9. \_\_\_\_\_
10. \_\_\_\_\_
11. \_\_\_\_\_
12. \_\_\_\_\_


1)  $\frac{1}{6} \div 5 =$




2)  $\frac{1}{7} \div 9 =$




3)  $\frac{1}{4} \div 9 =$




4)  $\frac{1}{8} \div 7 =$




5)  $\frac{1}{4} \div 7 =$




6)  $\frac{1}{6} \div 7 =$




7)  $\frac{1}{5} \div 5 =$




8)  $\frac{1}{9} \div 9 =$




9)  $\frac{1}{8} \div 4 =$



10)  $\frac{1}{6} \div 6 =$



11)  $\frac{1}{2} \div 3 =$



12)  $\frac{1}{3} \div 2 =$





Usa la caja para mostrar un ejemplo visual de cómo dividir una fracción y un número entero.

$\frac{1}{3} \div 4 = ?$

Divida el conjunto en 3 piezas y complete 1 sección.

Em seguida, divida a  $\frac{1}{3}$  em 4 grupos.

Para calcular el tamaño de cada pieza en comparación con el conjunto, divida el conjunto en 4 grupos.

Para resolverlo, comience con un todo.

Ahora puedes ver el tamaño de  $\frac{1}{3}$

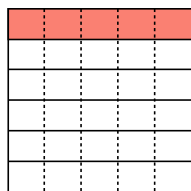
Esto muestra el tamaño de cada pieza.

Each piece is  $\frac{1}{12}$  of the whole.  
Or:  
 $\frac{1}{3} \div 4 = \frac{1}{12}$

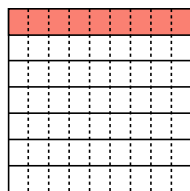
**Respuestas**

1.  $\frac{1}{30}$
2.  $\frac{1}{63}$
3.  $\frac{1}{36}$
4.  $\frac{1}{56}$
5.  $\frac{1}{28}$
6.  $\frac{1}{42}$
7.  $\frac{1}{25}$
8.  $\frac{1}{81}$
9.  $\frac{1}{32}$
10.  $\frac{1}{36}$
11.  $\frac{1}{6}$
12.  $\frac{1}{6}$

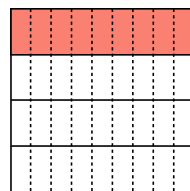
1)  $\frac{1}{6} \div 5 =$



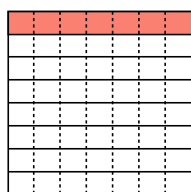
2)  $\frac{1}{7} \div 9 =$



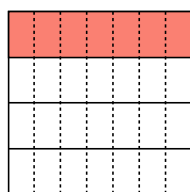
3)  $\frac{1}{4} \div 9 =$



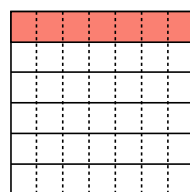
4)  $\frac{1}{8} \div 7 =$



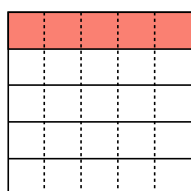
5)  $\frac{1}{4} \div 7 =$



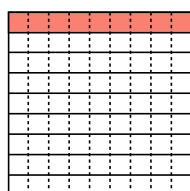
6)  $\frac{1}{6} \div 7 =$



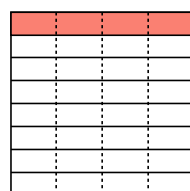
7)  $\frac{1}{5} \div 5 =$



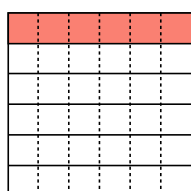
8)  $\frac{1}{9} \div 9 =$



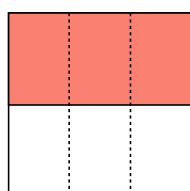
9)  $\frac{1}{8} \div 4 =$



10)  $\frac{1}{6} \div 6 =$



11)  $\frac{1}{2} \div 3 =$



12)  $\frac{1}{3} \div 2 =$

