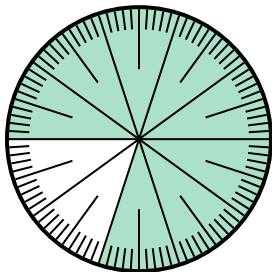


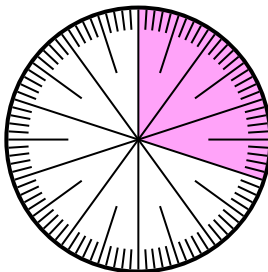


Resuelve cada problema.

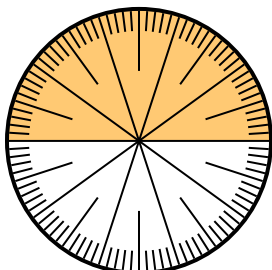
- 1) Expresa la porción de {PALABRA} como un decimal del entero.



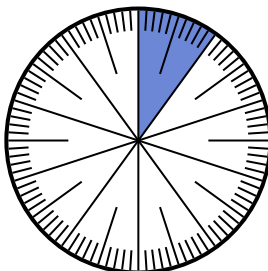
- 2) Expresa la porción de {PALABRA} como una fracción del todo con un 100 como denominador.



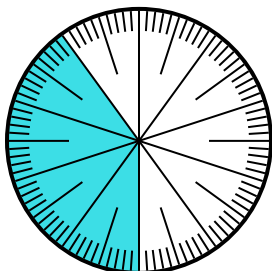
- 3) Expresa la porción de {PALABRA} como una fracción del todo con un 100 como denominador.



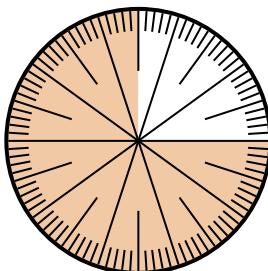
- 4) Expresa la porción de {PALABRA} como un decimal del entero.



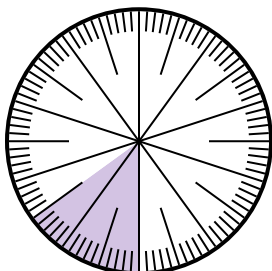
- 5) Expresa la porción de {PALABRA} como un decimal del entero.



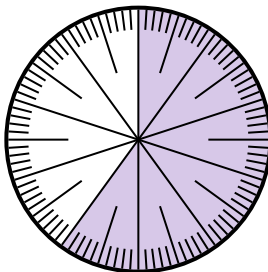
- 6) Expresa la porción de {PALABRA} como un decimal del entero.



- 7) Expresa la porción de {PALABRA} como un decimal del entero.



- 8) Expresa la porción de {PALABRA} como una fracción del todo con un 100 como denominador.




Respuestas

1. _____
2. _____
3. _____
4. _____
5. _____
6. _____
7. _____
8. _____

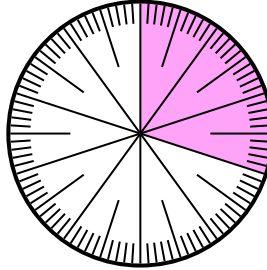


Resuelve cada problema.

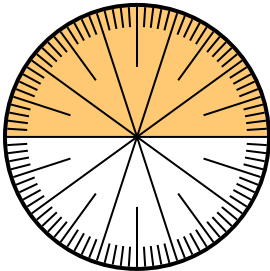
- 1) Expresa la porción de {PALABRA} como un decimal del entero.



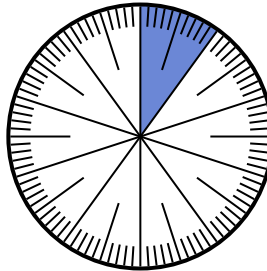
- 2) Expresa la porción de {PALABRA} como una fracción del todo con un 100 como denominador.



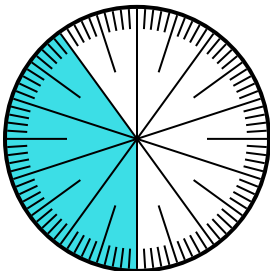
- 3) Expresa la porción de {PALABRA} como una fracción del todo con un 100 como denominador.



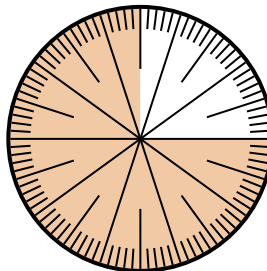
- 4) Expresa la porción de {PALABRA} como un decimal del entero.



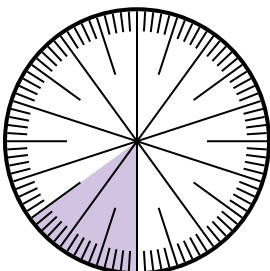
- 5) Expresa la porción de {PALABRA} como un decimal del entero.



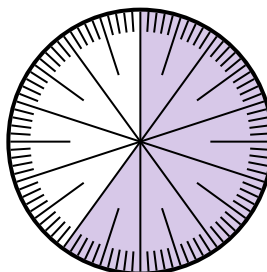
- 6) Expresa la porción de {PALABRA} como un decimal del entero.



- 7) Expresa la porción de {PALABRA} como un decimal del entero.



- 8) Expresa la porción de {PALABRA} como una fracción del todo con un 100 como denominador.



Respuestas

1. 0.8

2. $\frac{30}{100}$

3. $\frac{50}{100}$

4. 0.9

5. 0.4

6. 0.25

7. 0.85

8. $\frac{40}{100}$