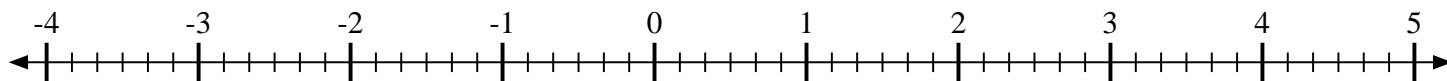


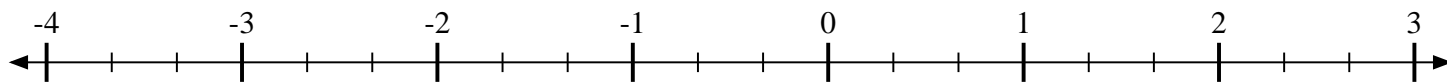


Marca cada ubicación descrita.

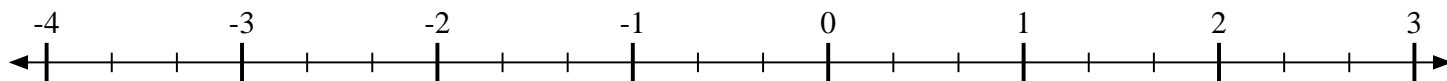
1) Marque la ubicación de  $3\frac{5}{6}$



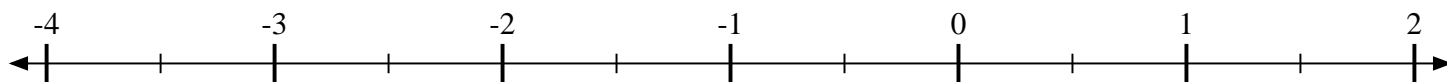
2) Marque la ubicación de  $\frac{1}{3}$



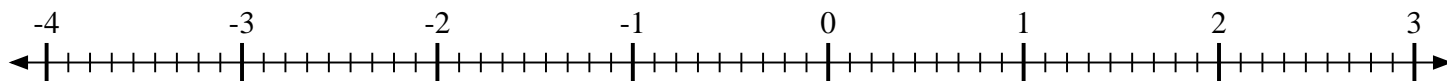
3) Marque la ubicación de  $1\frac{1}{3}$



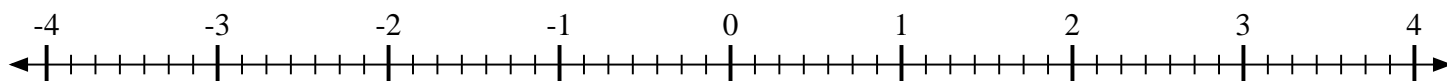
4) Marque la ubicación de  $-1\frac{1}{2}$



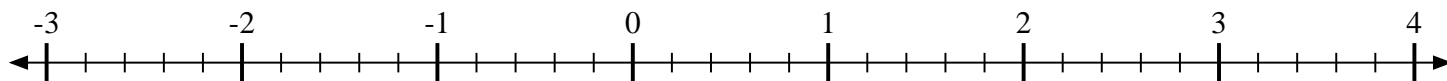
5) Marque la ubicación de  $1\frac{7}{9}$



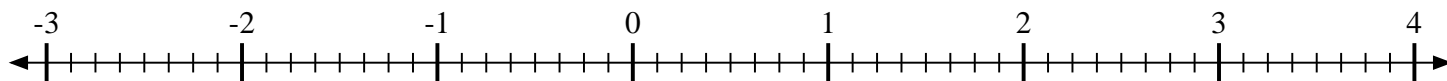
6) Marque la ubicación de  $-1\frac{3}{7}$



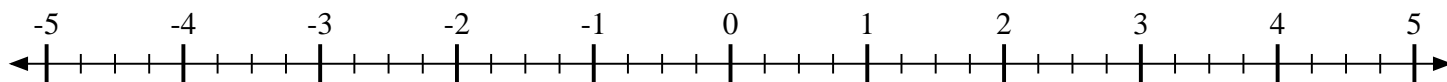
7) Marque la ubicación de  $1\frac{1}{5}$



8) Marque la ubicación de  $-1\frac{6}{8}$



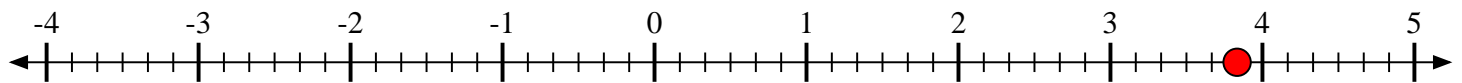
9) Marque la ubicación de  $-4\frac{3}{4}$



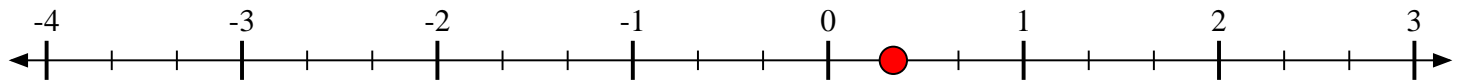


Marca cada ubicación descrita.

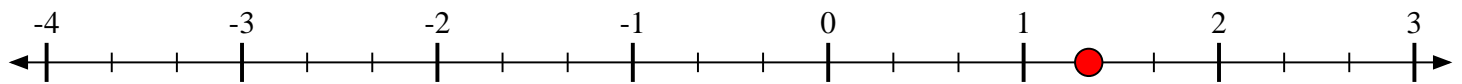
1) Marque la ubicación de  $3\frac{5}{6}$



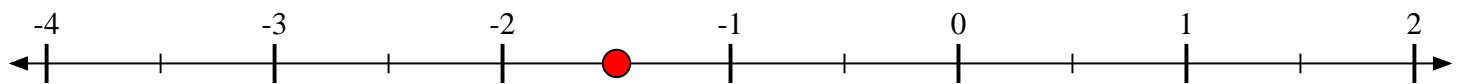
2) Marque la ubicación de  $\frac{1}{3}$



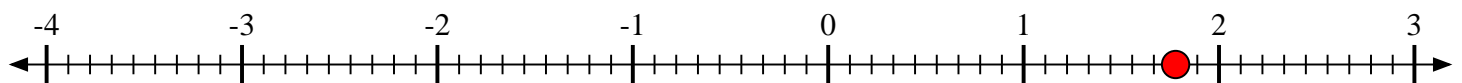
3) Marque la ubicación de  $1\frac{1}{3}$



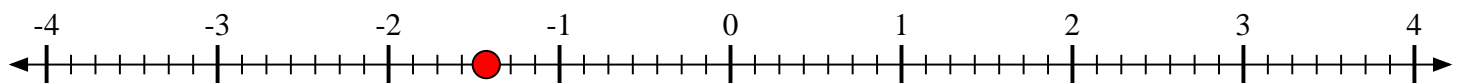
4) Marque la ubicación de  $-1\frac{1}{2}$



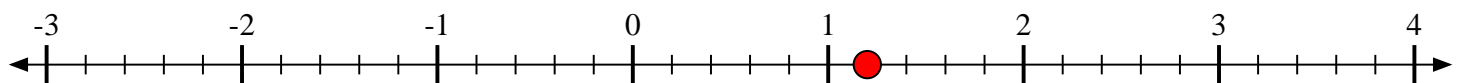
5) Marque la ubicación de  $1\frac{7}{9}$



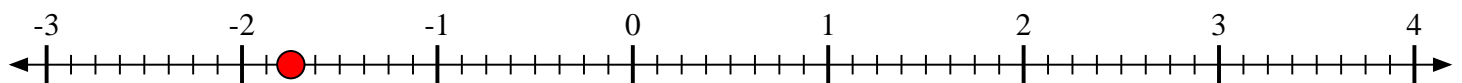
6) Marque la ubicación de  $-1\frac{3}{7}$



7) Marque la ubicación de  $1\frac{1}{5}$



8) Marque la ubicación de  $-1\frac{6}{8}$



9) Marque la ubicación de  $-4\frac{3}{4}$

