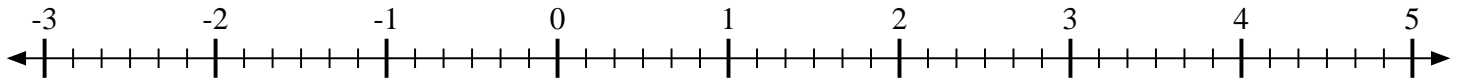


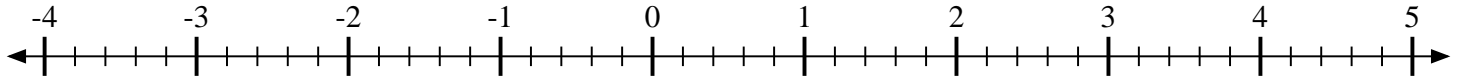


Marca cada ubicación descrita.

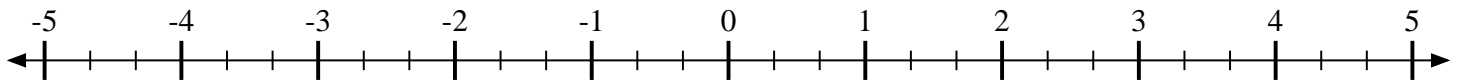
- 1) Marque la ubicación de $1\frac{5}{6}$



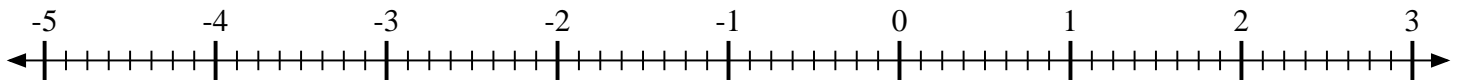
- 2) Marque la ubicación de $4\frac{2}{5}$



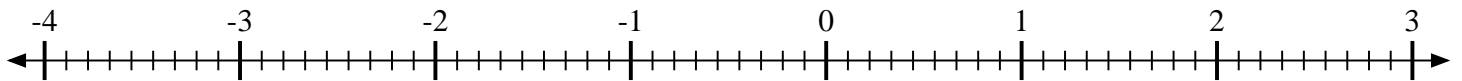
- 3) Marque la ubicación de $-3\frac{1}{3}$



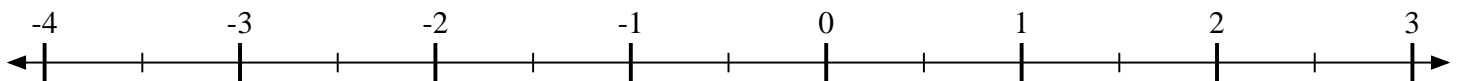
- 4) Marque la ubicación de $\frac{3}{8}$



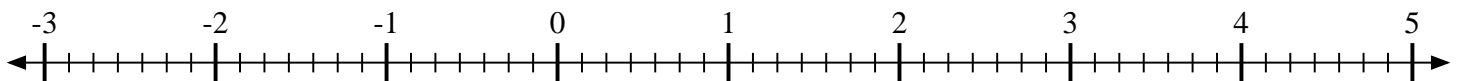
- 5) Marque la ubicación de $-1\frac{4}{9}$



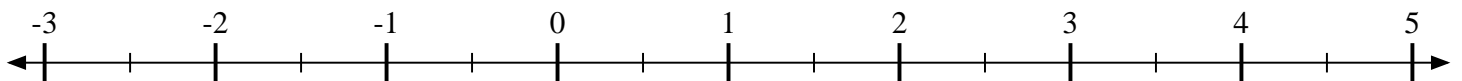
- 6) Marque la ubicación de $-1\frac{1}{2}$



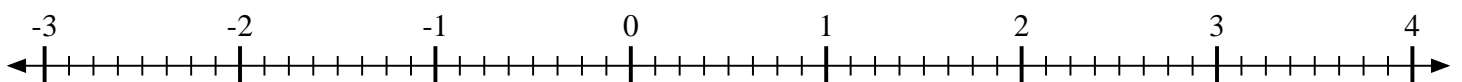
- 7) Marque la ubicación de $-2\frac{6}{7}$



- 8) Marque la ubicación de $4\frac{1}{2}$



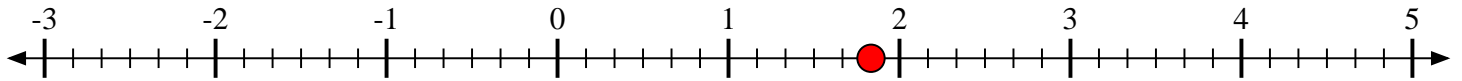
- 9) Marque la ubicación de $-1\frac{3}{8}$



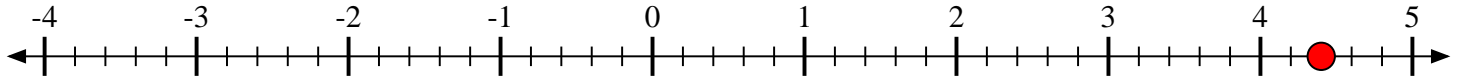


Marca cada ubicación descrita.

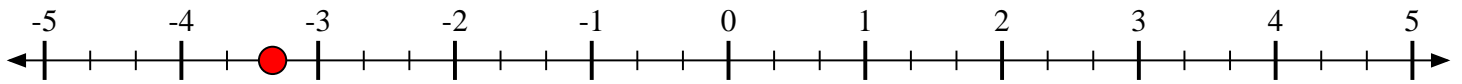
- 1) Marque la ubicación de $1\frac{5}{6}$



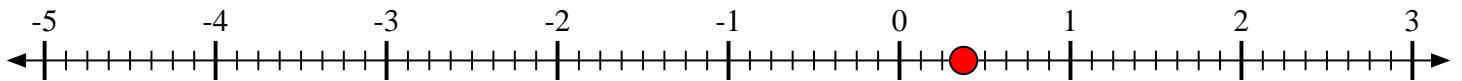
- 2) Marque la ubicación de $4\frac{2}{5}$



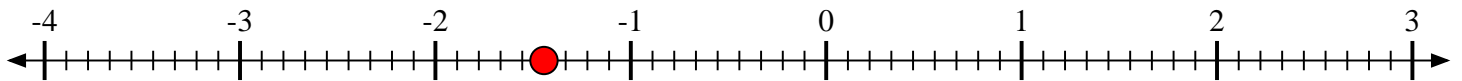
- 3) Marque la ubicación de $-3\frac{1}{3}$



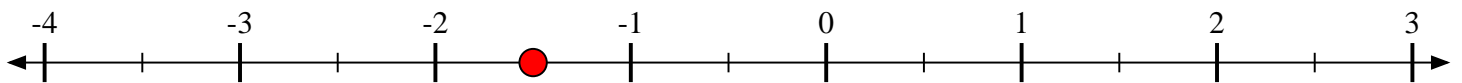
- 4) Marque la ubicación de $\frac{3}{8}$



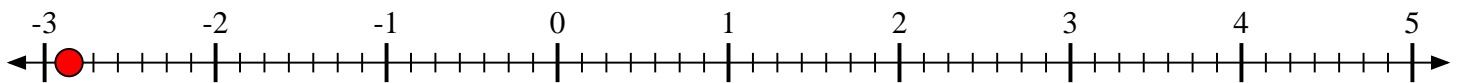
- 5) Marque la ubicación de $-1\frac{4}{9}$



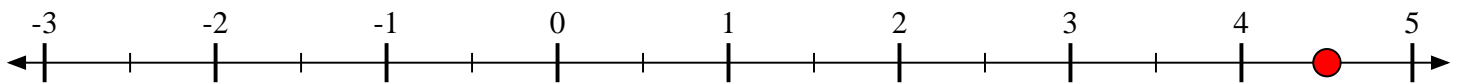
- 6) Marque la ubicación de $-1\frac{1}{2}$



- 7) Marque la ubicación de $-2\frac{6}{7}$



- 8) Marque la ubicación de $4\frac{1}{2}$



- 9) Marque la ubicación de $-1\frac{3}{8}$

