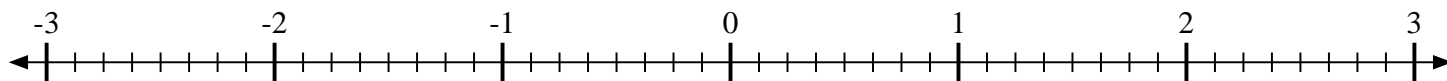


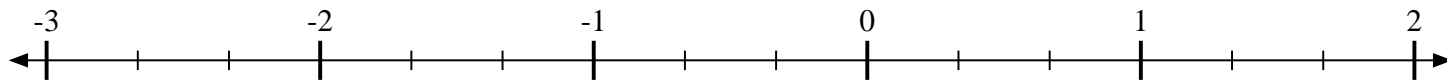


Marca cada ubicación descrita.

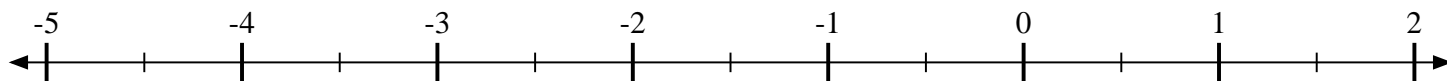
1) Marque la ubicación de $-2\frac{6}{8}$



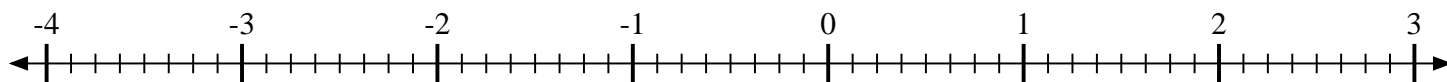
2) Marque la ubicación de $-1\frac{2}{3}$



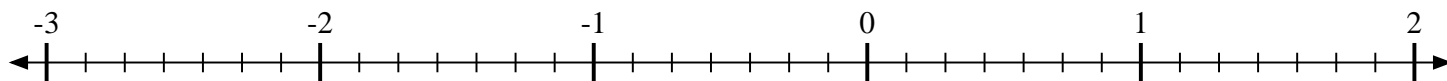
3) Marque la ubicación de $1\frac{1}{2}$



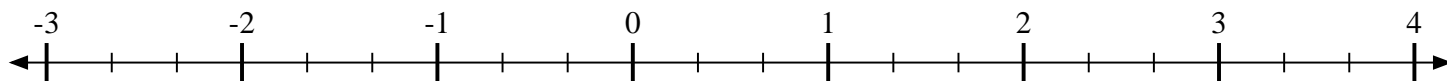
4) Marque la ubicación de $-3\frac{6}{8}$



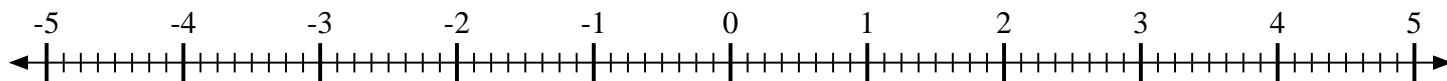
5) Marque la ubicación de $1\frac{5}{7}$



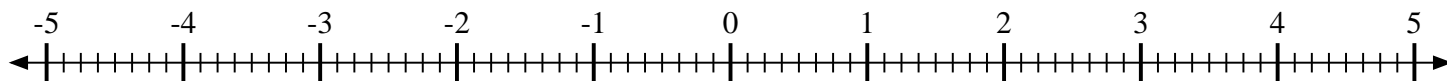
6) Marque la ubicación de $2\frac{2}{3}$



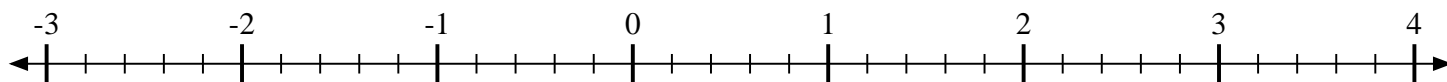
7) Marque la ubicación de $2\frac{3}{8}$



8) Marque la ubicación de $-2\frac{5}{8}$



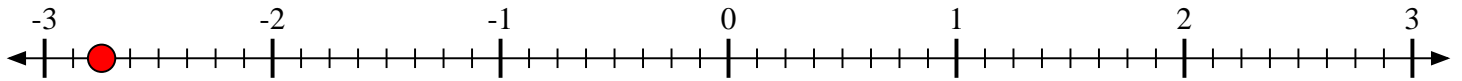
9) Marque la ubicación de $-2\frac{1}{5}$






Marca cada ubicación descrita.

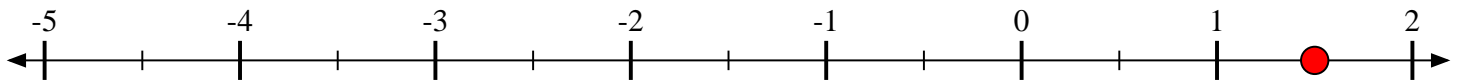
1) Marque la ubicación de $-2\frac{6}{8}$



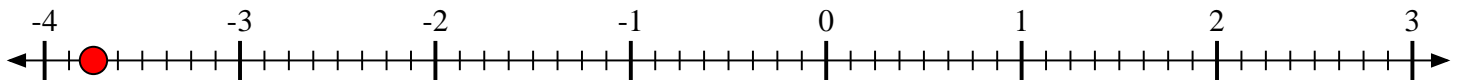
2) Marque la ubicación de $-1\frac{2}{3}$



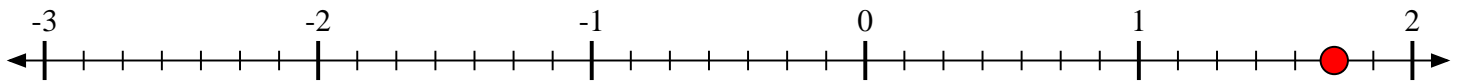
3) Marque la ubicación de $1\frac{1}{2}$



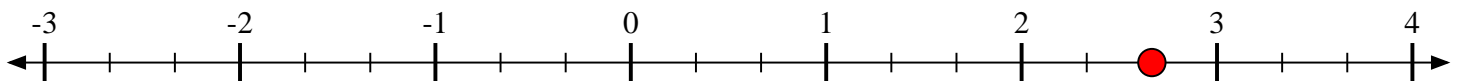
4) Marque la ubicación de $-3\frac{6}{8}$



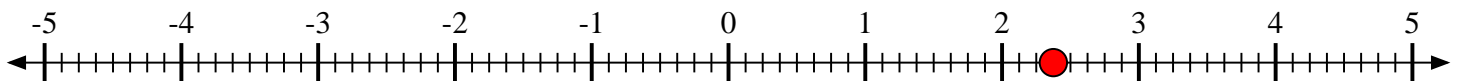
5) Marque la ubicación de $1\frac{5}{7}$



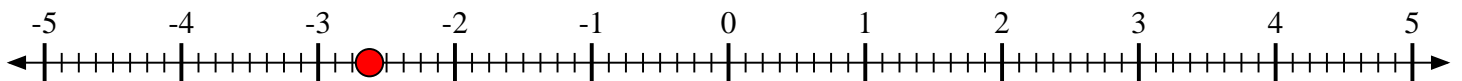
6) Marque la ubicación de $2\frac{2}{3}$



7) Marque la ubicación de $2\frac{3}{8}$



8) Marque la ubicación de $-2\frac{5}{8}$



9) Marque la ubicación de $-2\frac{1}{5}$

