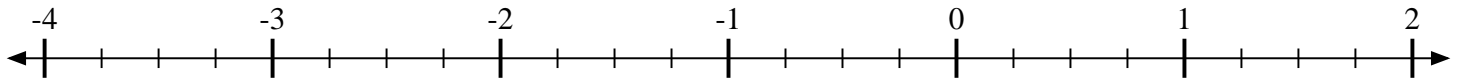


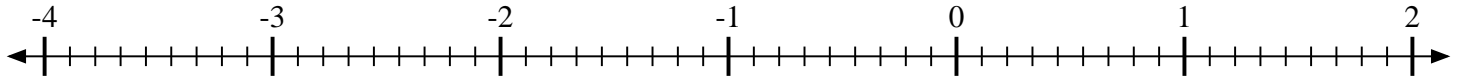


Marca cada ubicación descrita.

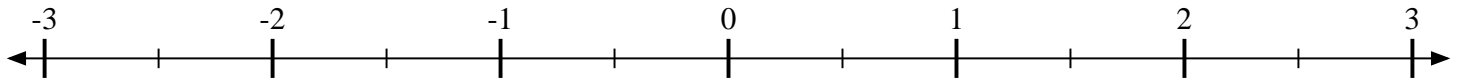
1) Marque la ubicación de  $-1\frac{2}{4}$



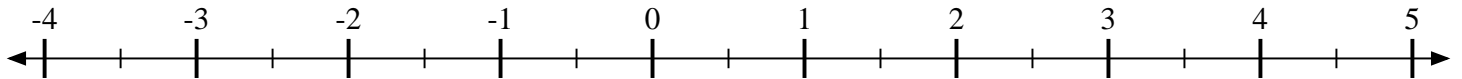
2) Marque la ubicación de  $\frac{2}{9}$



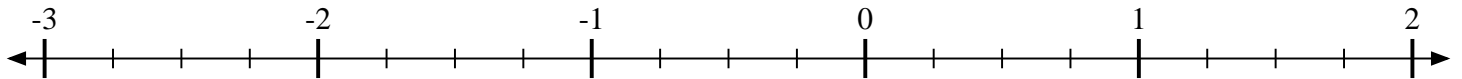
3) Marque la ubicación de  $\frac{1}{2}$



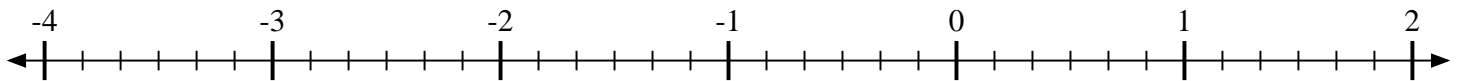
4) Marque la ubicación de  $3\frac{1}{2}$



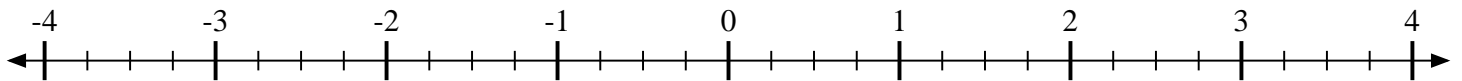
5) Marque la ubicación de  $-1\frac{2}{4}$



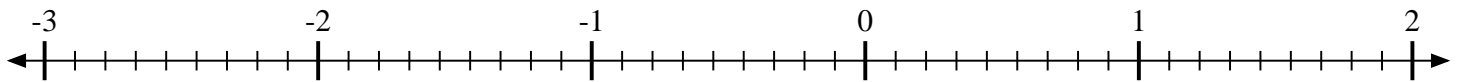
6) Marque la ubicación de  $-3\frac{2}{6}$



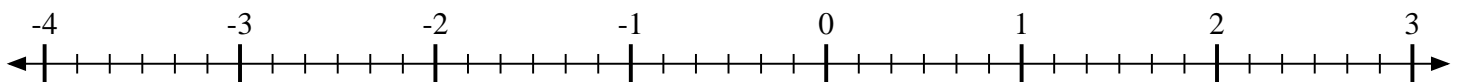
7) Marque la ubicación de  $-2\frac{2}{4}$



8) Marque la ubicación de  $\frac{8}{9}$



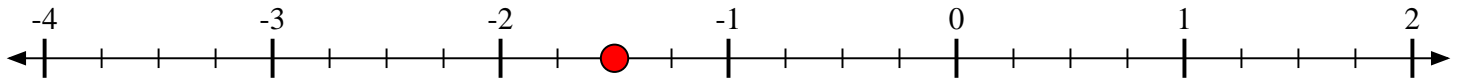
9) Marque la ubicación de  $-2\frac{3}{6}$



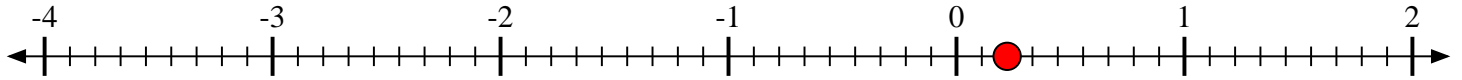


Marca cada ubicación descrita.

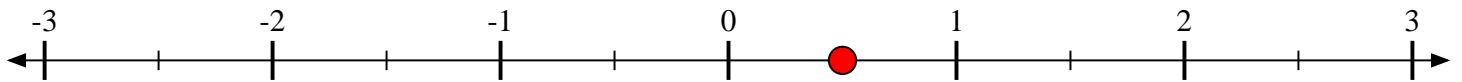
- 1) Marque la ubicación de  $-1\frac{2}{4}$



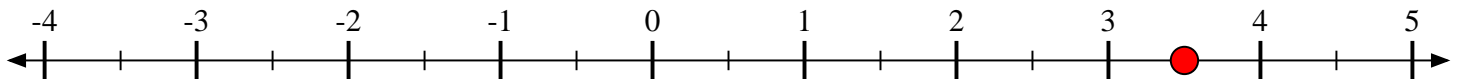
- 2) Marque la ubicación de  $\frac{2}{9}$



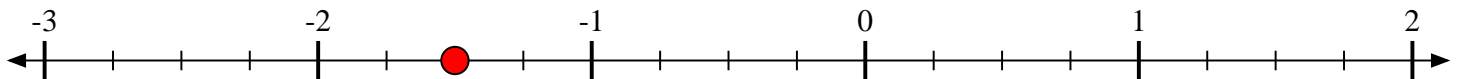
- 3) Marque la ubicación de  $\frac{1}{2}$



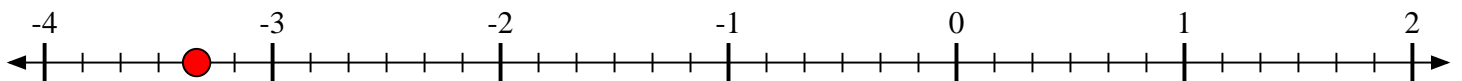
- 4) Marque la ubicación de  $3\frac{1}{2}$



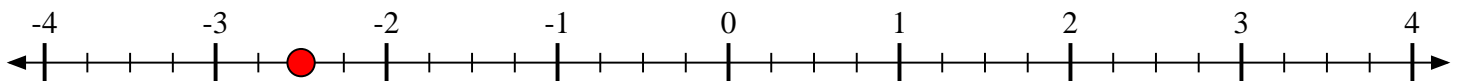
- 5) Marque la ubicación de  $-1\frac{2}{4}$



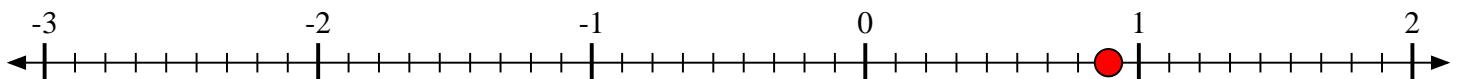
- 6) Marque la ubicación de  $-3\frac{2}{6}$



- 7) Marque la ubicación de  $-2\frac{2}{4}$



- 8) Marque la ubicación de  $\frac{8}{9}$



- 9) Marque la ubicación de  $-2\frac{3}{6}$

