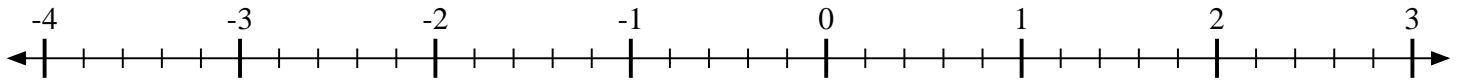


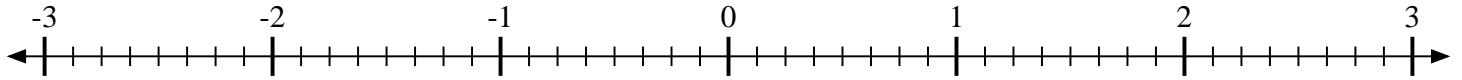


Marca cada ubicación descrita.

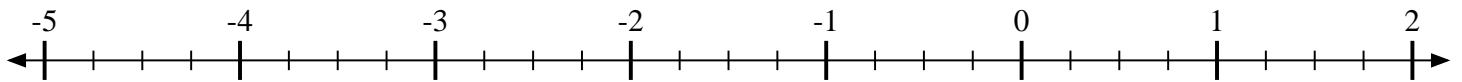
1) Marque la ubicación de  $-3\frac{4}{5}$



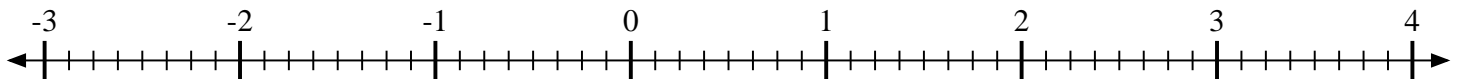
2) Marque la ubicación de  $2\frac{6}{8}$



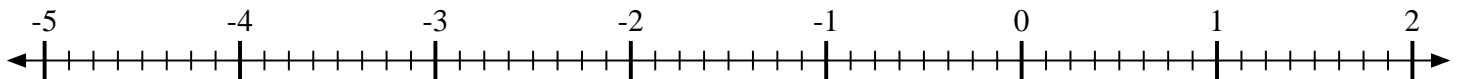
3) Marque la ubicación de  $-4\frac{2}{4}$



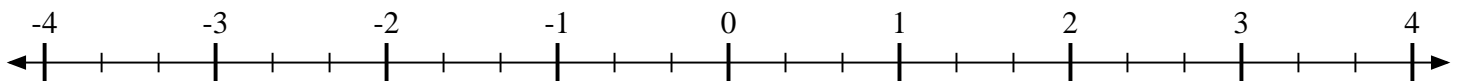
4) Marque la ubicación de  $1\frac{5}{8}$



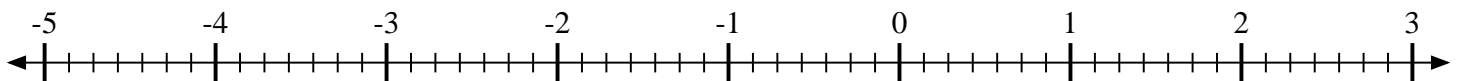
5) Marque la ubicación de  $-2\frac{6}{8}$



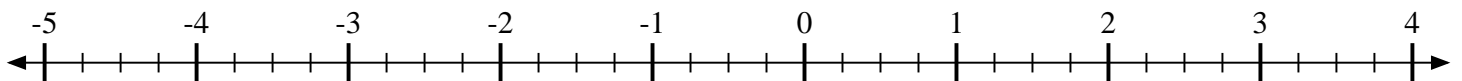
6) Marque la ubicación de  $-1\frac{1}{3}$



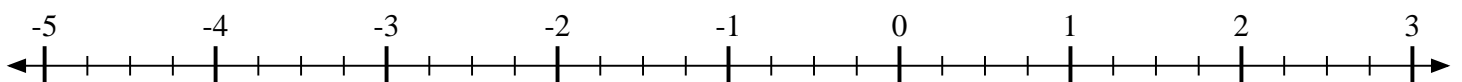
7) Marque la ubicación de  $-3\frac{2}{7}$



8) Marque la ubicación de  $3\frac{1}{4}$



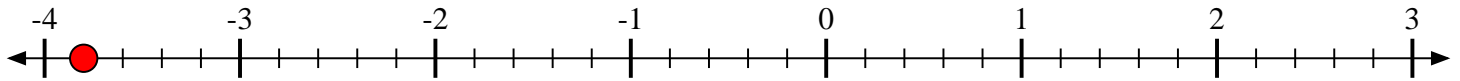
9) Marque la ubicación de  $-3\frac{3}{4}$



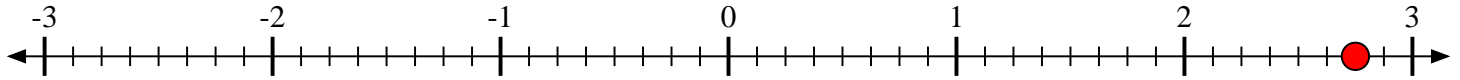


Marca cada ubicación descrita.

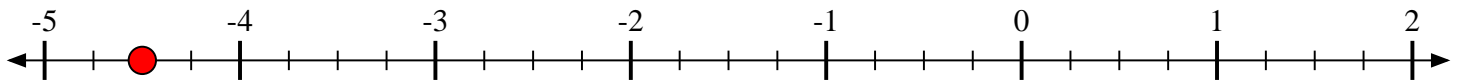
1) Marque la ubicación de  $-3\frac{4}{5}$



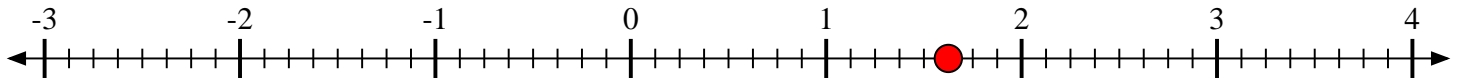
2) Marque la ubicación de  $2\frac{6}{8}$



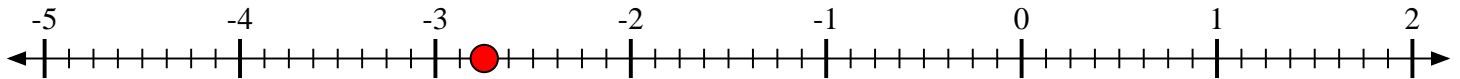
3) Marque la ubicación de  $-4\frac{2}{4}$



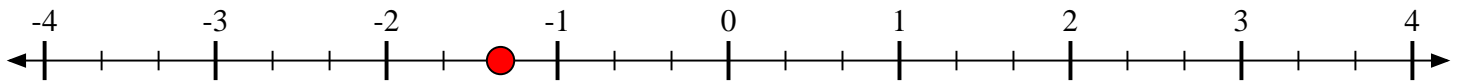
4) Marque la ubicación de  $1\frac{5}{8}$



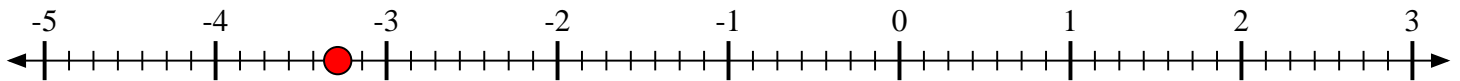
5) Marque la ubicación de  $-2\frac{6}{8}$



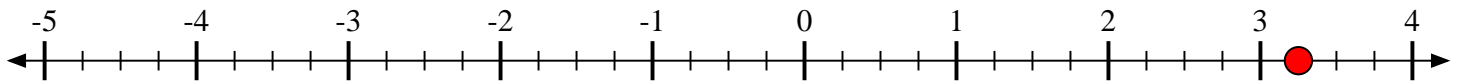
6) Marque la ubicación de  $-1\frac{1}{3}$



7) Marque la ubicación de  $-3\frac{2}{7}$



8) Marque la ubicación de  $3\frac{1}{4}$



9) Marque la ubicación de  $-3\frac{3}{4}$

