


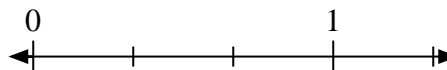


Resuelve cada problema.

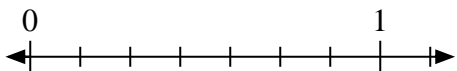
- 1) Escribe
- $\frac{3}{3}$
- como un número entero.



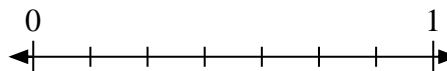
- 2) Escribe
- $\frac{1}{3}$
- como un número entero.



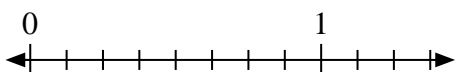
- 3) Escribe
- $\frac{1}{7}$
- como un número entero.



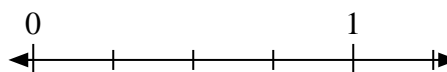
- 4) Escribe
- $\frac{0}{7}$
- como un número entero.



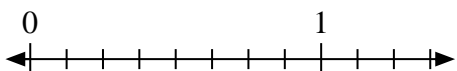
- 5) Escribe
- $\frac{5}{8}$
- como un número entero.



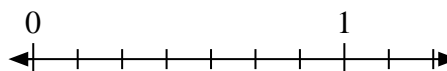
- 6) Escribe
- $\frac{3}{4}$
- como un número entero.



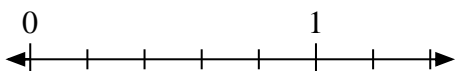
- 7) Escribe
- $\frac{4}{8}$
- como un número entero.



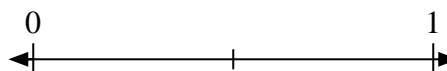
- 8) Escribe
- $\frac{2}{7}$
- como un número entero.



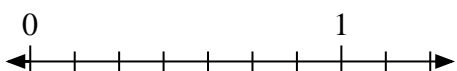
- 9) Escribe
- $\frac{1}{5}$
- como un número entero.



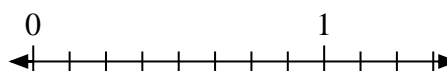
- 10) Escribe
- $\frac{2}{2}$
- como un número entero.



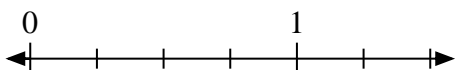
- 11) Escribe
- $\frac{5}{7}$
- como un número entero.



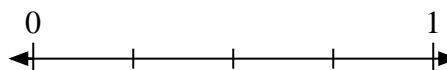
- 12) Escribe
- $\frac{7}{8}$
- como un número entero.



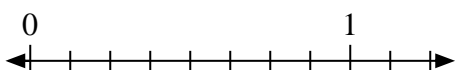
- 13) Escribe
- $\frac{2}{4}$
- como un número entero.



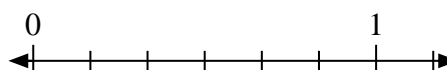
- 14) Escribe
- $\frac{1}{4}$
- como un número entero.



- 15) Escribe
- $\frac{8}{8}$
- como un número entero.




- 16) Escribe
- $\frac{2}{6}$
- como un número entero.



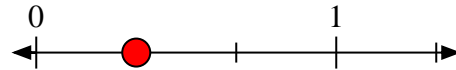


Resuelve cada problema.

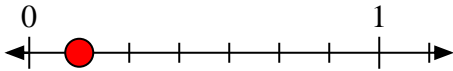
- 1) Escribe
- $\frac{3}{3}$
- como un número entero.



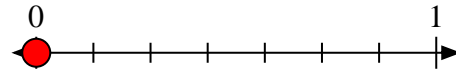
- 2) Escribe
- $\frac{1}{3}$
- como un número entero.



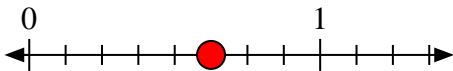
- 3) Escribe
- $\frac{1}{7}$
- como un número entero.



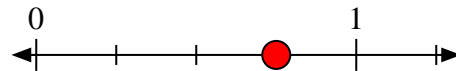
- 4) Escribe
- $\frac{0}{7}$
- como un número entero.



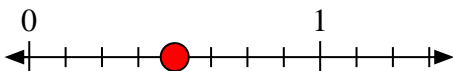
- 5) Escribe
- $\frac{5}{8}$
- como un número entero.



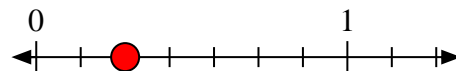
- 6) Escribe
- $\frac{3}{4}$
- como un número entero.



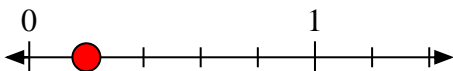
- 7) Escribe
- $\frac{4}{8}$
- como un número entero.



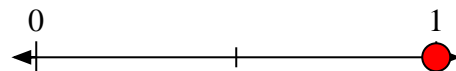
- 8) Escribe
- $\frac{2}{7}$
- como un número entero.



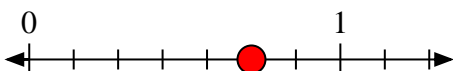
- 9) Escribe
- $\frac{1}{5}$
- como un número entero.



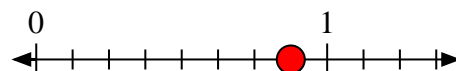
- 10) Escribe
- $\frac{2}{2}$
- como un número entero.



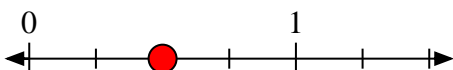
- 11) Escribe
- $\frac{5}{7}$
- como un número entero.



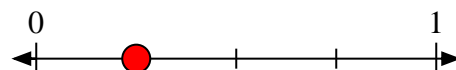
- 12) Escribe
- $\frac{7}{8}$
- como un número entero.



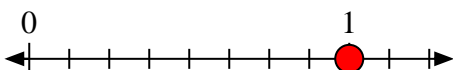
- 13) Escribe
- $\frac{2}{4}$
- como un número entero.



- 14) Escribe
- $\frac{1}{4}$
- como un número entero.



- 15) Escribe
- $\frac{8}{8}$
- como un número entero.



- 16) Escribe
- $\frac{2}{6}$
- como un número entero.

