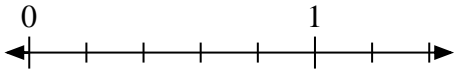
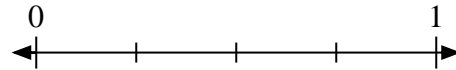
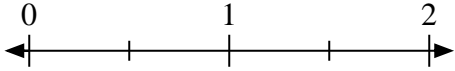
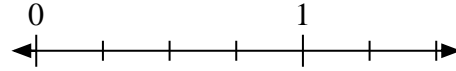
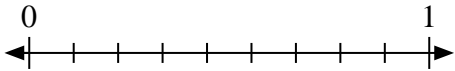
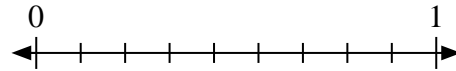
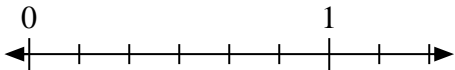

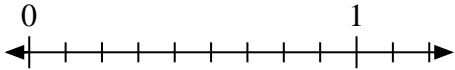
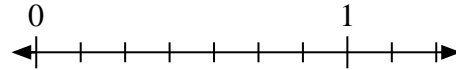
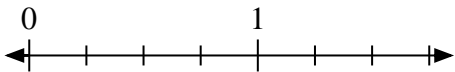
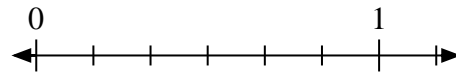

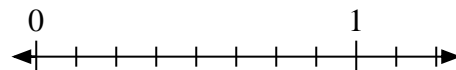

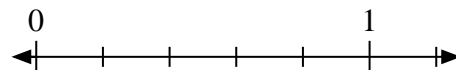




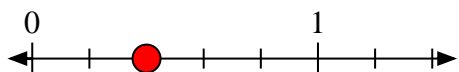
Resuelve cada problema.

1) Escribe $\frac{2}{5}$ como un número entero.2) Escribe $\frac{0}{4}$ como un número entero.3) Escribe $\frac{2}{2}$ como un número entero.4) Escribe $\frac{3}{4}$ como un número entero.5) Escribe $\frac{9}{9}$ como un número entero.6) Escribe $\frac{3}{9}$ como un número entero.7) Escribe $\frac{5}{6}$ como un número entero.8) Escribe $\frac{0}{2}$ como un número entero.9) Escribe $\frac{6}{9}$ como un número entero.10) Escribe $\frac{6}{7}$ como un número entero.11) Escribe $\frac{1}{4}$ como un número entero.12) Escribe $\frac{0}{6}$ como un número entero.13) Escribe $\frac{0}{3}$ como un número entero.14) Escribe $\frac{7}{8}$ como un número entero.15) Escribe $\frac{4}{5}$ como un número entero.16) Escribe $\frac{3}{5}$ como un número entero.

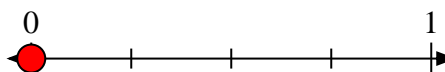


Resuelve cada problema.

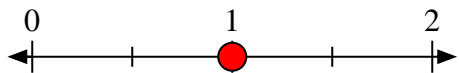
- 1) Escribe
- $\frac{2}{5}$
- como un número entero.



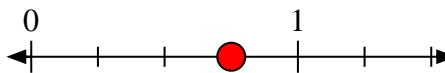
- 2) Escribe
- $\frac{0}{4}$
- como un número entero.



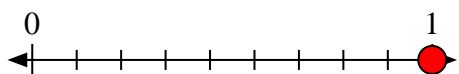
- 3) Escribe
- $\frac{2}{2}$
- como un número entero.



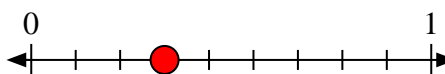
- 4) Escribe
- $\frac{3}{4}$
- como un número entero.



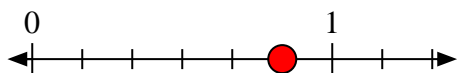
- 5) Escribe
- $\frac{9}{9}$
- como un número entero.




- 6) Escribe
- $\frac{3}{9}$
- como un número entero.



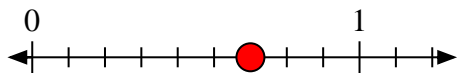
- 7) Escribe
- $\frac{5}{6}$
- como un número entero.



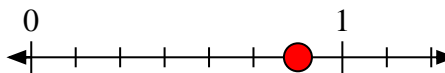
- 8) Escribe
- $\frac{0}{2}$
- como un número entero.



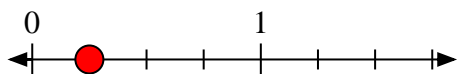
- 9) Escribe
- $\frac{6}{9}$
- como un número entero.



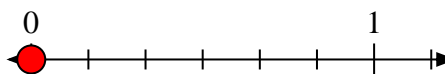
- 10) Escribe
- $\frac{6}{7}$
- como un número entero.



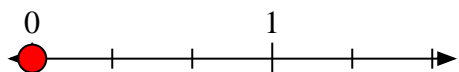
- 11) Escribe
- $\frac{1}{4}$
- como un número entero.



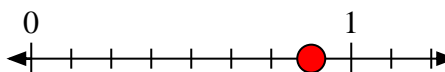
- 12) Escribe
- $\frac{0}{6}$
- como un número entero.



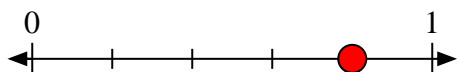
- 13) Escribe
- $\frac{0}{3}$
- como un número entero.



- 14) Escribe
- $\frac{7}{8}$
- como un número entero.



- 15) Escribe
- $\frac{4}{5}$
- como un número entero.



- 16) Escribe
- $\frac{3}{5}$
- como un número entero.

