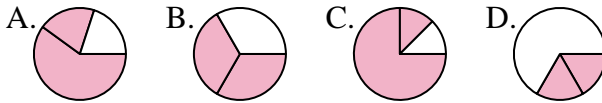




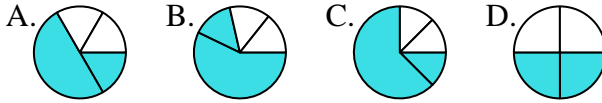
**Determina cuál letra mejor representa a cada fracción**

**Respuestas**

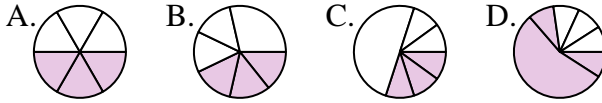
1) ¿Que opción representa mejor  $\frac{2}{3}$ ?



2) ¿Que opción representa mejor  $\frac{2}{4}$ ?



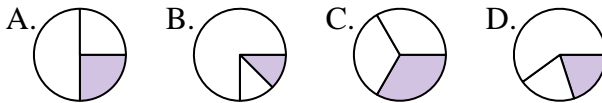
3) ¿Que opción representa mejor  $\frac{3}{6}$ ?



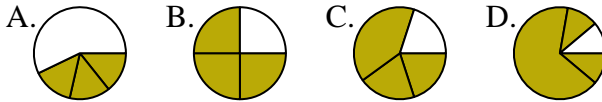
4) ¿Que opción representa mejor  $\frac{6}{8}$ ?



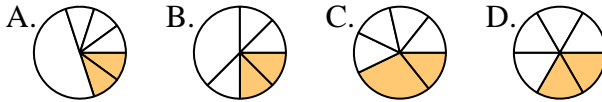
5) ¿Que opción representa mejor  $\frac{1}{3}$ ?



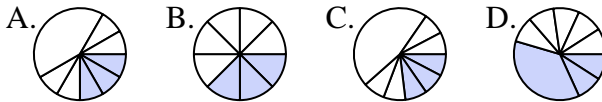
6) ¿Que opción representa mejor  $\frac{3}{4}$ ?



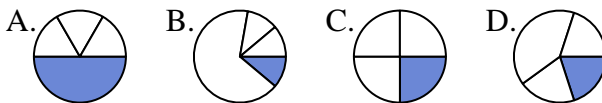
7) ¿Que opción representa mejor  $\frac{2}{6}$ ?



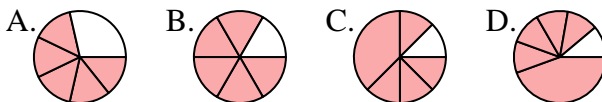
8) ¿Que opción representa mejor  $\frac{3}{8}$ ?



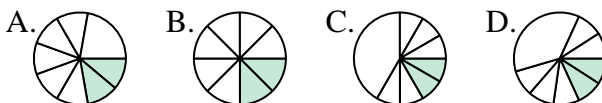
9) ¿Que opción representa mejor  $\frac{1}{4}$ ?



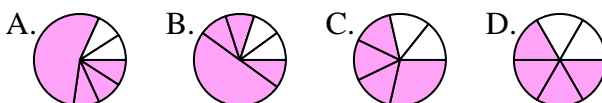
10) ¿Que opción representa mejor  $\frac{5}{6}$ ?



11) ¿Que opción representa mejor  $\frac{2}{8}$ ?



12) ¿Que opción representa mejor  $\frac{4}{6}$ ?



1. \_\_\_\_\_
2. \_\_\_\_\_
3. \_\_\_\_\_
4. \_\_\_\_\_
5. \_\_\_\_\_
6. \_\_\_\_\_
7. \_\_\_\_\_
8. \_\_\_\_\_
9. \_\_\_\_\_
10. \_\_\_\_\_
11. \_\_\_\_\_
12. \_\_\_\_\_

