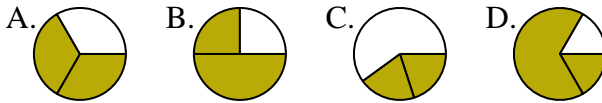




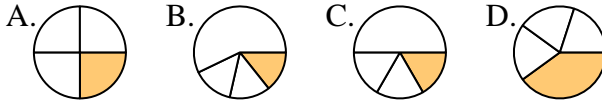
Determina cuál letra mejor representa a cada fracción

Respuestas

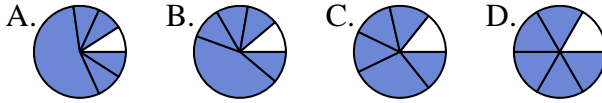
1) ¿Que opción representa mejor $\frac{2}{3}$?



2) ¿Que opción representa mejor $\frac{1}{4}$?



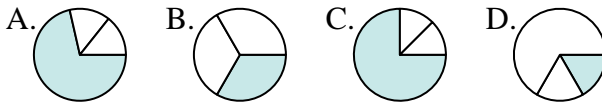
3) ¿Que opción representa mejor $\frac{5}{6}$?



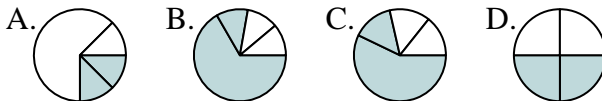
4) ¿Que opción representa mejor $\frac{3}{8}$?



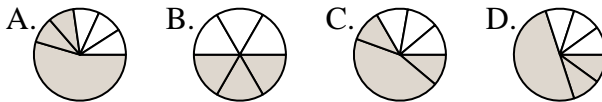
5) ¿Que opción representa mejor $\frac{1}{3}$?



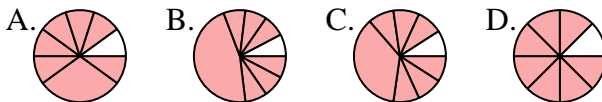
6) ¿Que opción representa mejor $\frac{2}{4}$?



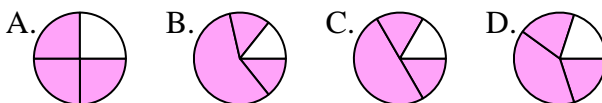
7) ¿Que opción representa mejor $\frac{3}{6}$?



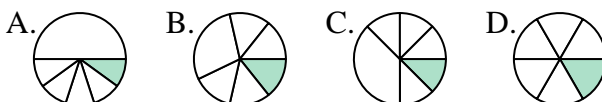
8) ¿Que opción representa mejor $\frac{7}{8}$?



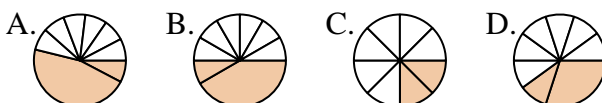
9) ¿Que opción representa mejor $\frac{3}{4}$?



10) ¿Que opción representa mejor $\frac{1}{6}$?



11) ¿Que opción representa mejor $\frac{2}{8}$?



12) ¿Que opción representa mejor $\frac{2}{6}$?



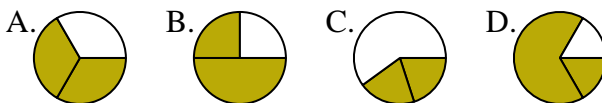
1. _____
2. _____
3. _____
4. _____
5. _____
6. _____
7. _____
8. _____
9. _____
10. _____
11. _____
12. _____



Determina cuál letra mejor representa a cada fracción

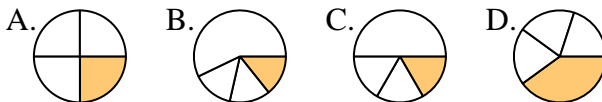
Respuestas

1) ¿Que opción representa mejor $\frac{2}{3}$?



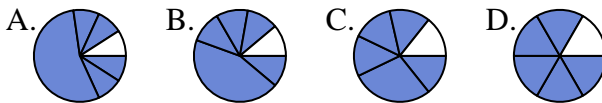
1. **A**

2) ¿Que opción representa mejor $\frac{1}{4}$?



2. **A**

3) ¿Que opción representa mejor $\frac{5}{6}$?



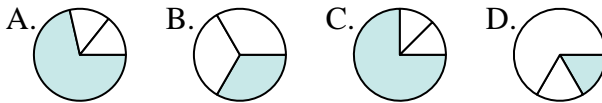
3. **D**

4) ¿Que opción representa mejor $\frac{3}{8}$?



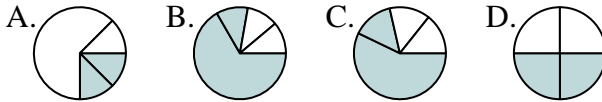
4. **D**

5) ¿Que opción representa mejor $\frac{1}{3}$?



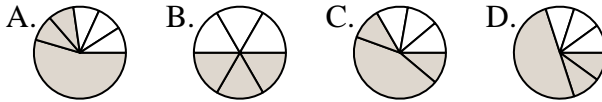
5. **B**

6) ¿Que opción representa mejor $\frac{2}{4}$?



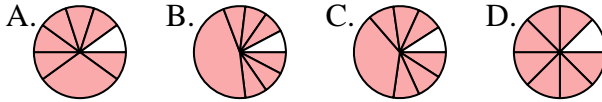
6. **D**

7) ¿Que opción representa mejor $\frac{3}{6}$?



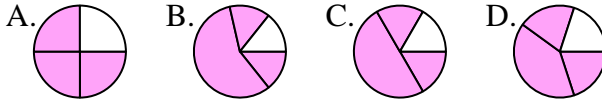
7. **B**

8) ¿Que opción representa mejor $\frac{7}{8}$?



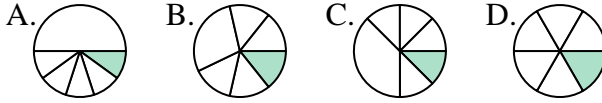
8. **D**

9) ¿Que opción representa mejor $\frac{3}{4}$?



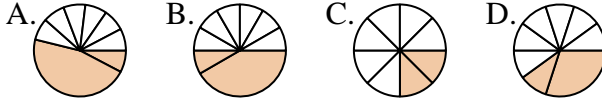
9. **A**

10) ¿Que opción representa mejor $\frac{1}{6}$?



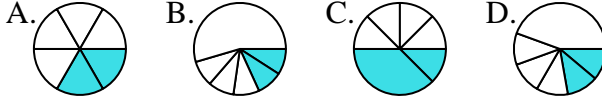
10. **D**

11) ¿Que opción representa mejor $\frac{2}{8}$?



11. **C**

12) ¿Que opción representa mejor $\frac{2}{6}$?



12. **A**