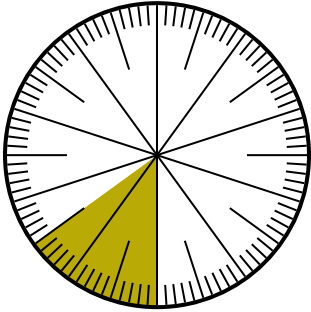




Resuelve cada problema.

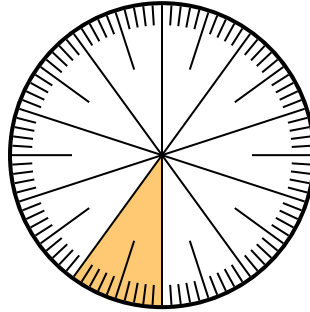
**Respuestas**

- 1) ¿Qué opción representa la parte no sombreada de la rueda numérica?



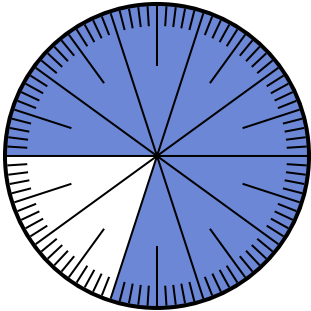
- A.  $\frac{85}{100}$       B.  $\frac{8.5}{100}$   
 C.  $\frac{0.85}{100}$       D.  $\frac{85}{15}$

- 2) ¿Qué opción representa la parte no sombreada de la rueda numérica?



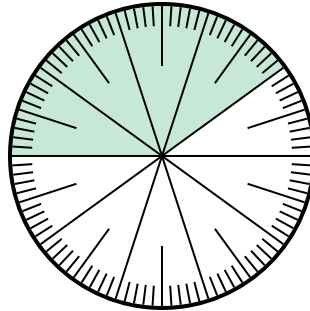
- A. 0.9      B. 90  
 C.  $\frac{1}{100}$       D. 9

- 3) ¿Qué opción representa la parte no sombreada de la rueda numérica?




- A. 20      B.  $\frac{20}{80}$   
 C. 0.2      D.  $\frac{20}{10}$

- 4) ¿Qué opción representa la parte no sombreada de la rueda numérica?



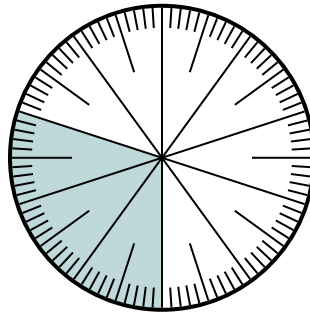
- A. 0.0060      B. 0.6  
 C. 60      D.  $\frac{40}{60}$

- 5) ¿Qué opción representa la parte no sombreada de la rueda numérica?



- A.  $\frac{60}{40}$       B.  $\frac{40}{100}$   
 C.  $\frac{0.4}{100}$       D. 40

- 6) ¿Qué opción representa la parte no sombreada de la rueda numérica?



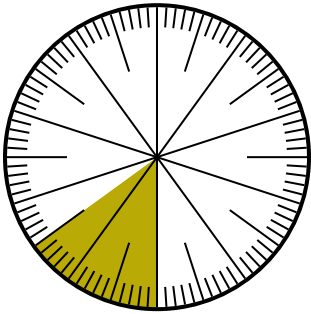
- A.  $\frac{70}{100}$       B.  $\frac{70}{30}$   
 C. 7      D.  $\frac{30}{70}$

1. \_\_\_\_\_  
 2. \_\_\_\_\_  
 3. \_\_\_\_\_  
 4. \_\_\_\_\_  
 5. \_\_\_\_\_  
 6. \_\_\_\_\_



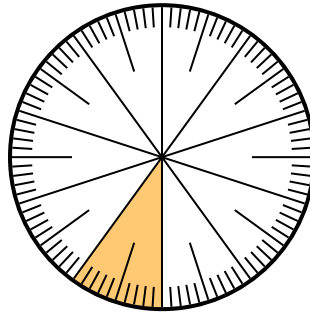
Resuelve cada problema.

- 1) ¿Qué opción representa la parte no sombreada de la rueda numérica?



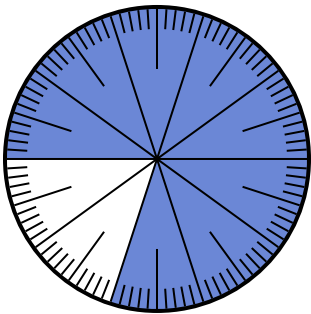
- A.  $\frac{85}{100}$       B.  $\frac{8.5}{100}$   
 C.  $\frac{0.85}{100}$       D.  $\frac{85}{15}$

- 2) ¿Qué opción representa la parte no sombreada de la rueda numérica?



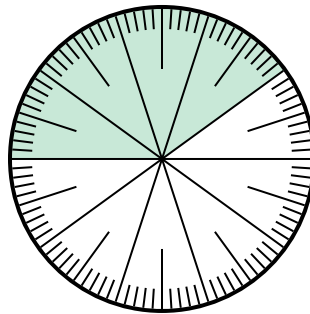
- A. 0.9      B. 90  
 C.  $\frac{1}{100}$       D. 9

- 3) ¿Qué opción representa la parte no sombreada de la rueda numérica?




- A. 20      B.  $\frac{20}{80}$   
 C. 0.2      D.  $\frac{20}{10}$

- 4) ¿Qué opción representa la parte no sombreada de la rueda numérica?



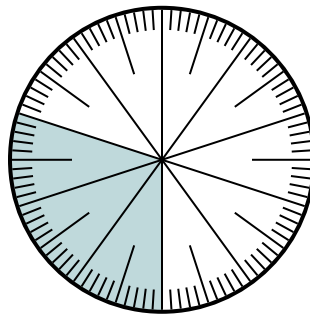
- A. 0.0060      B. 0.6  
 C. 60      D.  $\frac{40}{60}$

- 5) ¿Qué opción representa la parte no sombreada de la rueda numérica?



- A.  $\frac{60}{40}$       B.  $\frac{40}{100}$   
 C.  $\frac{0.4}{100}$       D. 40

- 6) ¿Qué opción representa la parte no sombreada de la rueda numérica?



- A.  $\frac{70}{100}$       B.  $\frac{70}{30}$   
 C. 7      D.  $\frac{30}{70}$

**Respuestas**

1.     **A**      
 2.     **A**      
 3.     **C**      
 4.     **B**      
 5.     **B**      
 6.     **A**