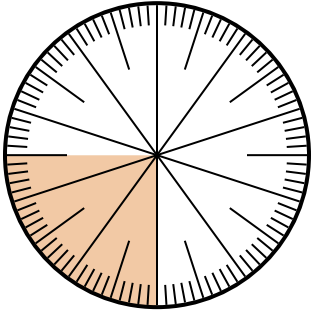




Resuelve cada problema.

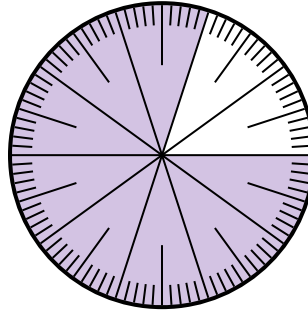
Respuestas

1) ¿Qué opción representa la parte sombreada de la rueda numérica?



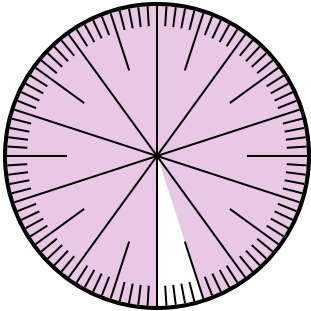
- A. $\frac{25}{75}$ B. $\frac{0.25}{100}$
 C. $\frac{25}{100}$ D. 2.50

2) ¿Qué opción representa la parte sombreada de la rueda numérica?



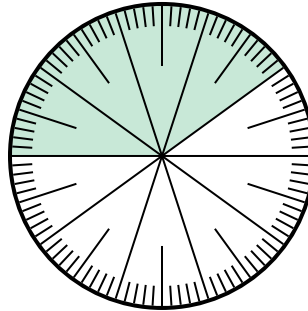
- A. $\frac{8}{100}$ B. 0.080
 C. $\frac{0.8}{100}$ D. $\frac{80}{100}$

3) ¿Qué opción representa la parte no sombreada de la rueda numérica?



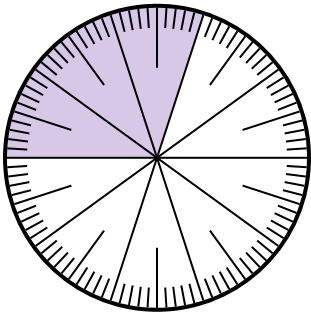
- A. $\frac{5}{100}$ B. 0.5
 C. $\frac{95}{5}$ D. $\frac{5}{95}$

4) ¿Qué opción representa la parte no sombreada de la rueda numérica?



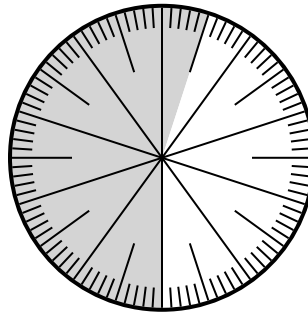
- A. $\frac{0.6}{100}$ B. 0.60
 C. $\frac{40}{60}$ D. 6.00

5) ¿Qué opción representa la parte sombreada de la rueda numérica?



- A. 3 B. 0.30
 C. 30 D. $\frac{30}{70}$

6) ¿Qué opción representa la parte sombreada de la rueda numérica?



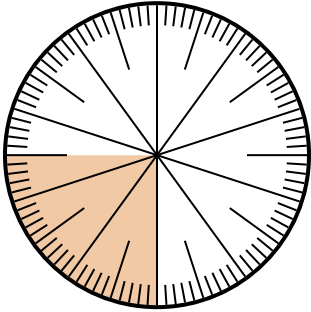
- A. $\frac{55}{100}$ B. 45
 C. 5.5 D. 45.0

1. _____
 2. _____
 3. _____
 4. _____
 5. _____
 6. _____



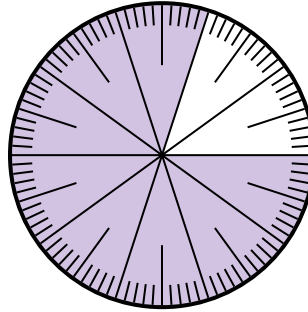
Resuelve cada problema.

1) ¿Qué opción representa la parte sombreada de la rueda numérica?



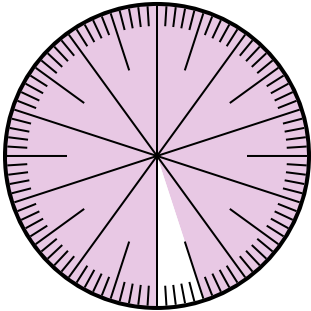
- A. $\frac{25}{75}$ B. $\frac{0.25}{100}$
 C. $\frac{25}{100}$ D. 2.50

2) ¿Qué opción representa la parte sombreada de la rueda numérica?



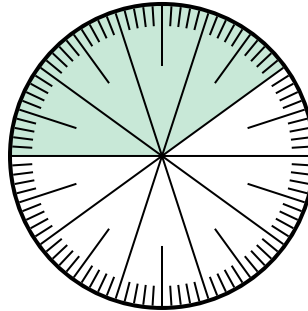
- A. $\frac{8}{100}$ B. 0.080
 C. $\frac{0.8}{100}$ D. $\frac{80}{100}$

3) ¿Qué opción representa la parte no sombreada de la rueda numérica?



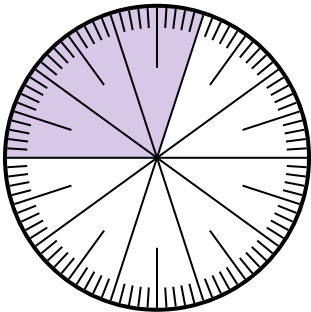
- A. $\frac{5}{100}$ B. 0.5
 C. $\frac{95}{5}$ D. $\frac{5}{95}$

4) ¿Qué opción representa la parte no sombreada de la rueda numérica?



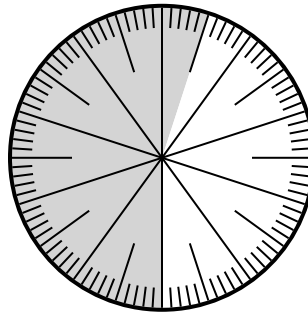
- A. $\frac{0.6}{100}$ B. 0.60
 C. $\frac{40}{60}$ D. 6.00

5) ¿Qué opción representa la parte sombreada de la rueda numérica?



- A. 3 B. 0.30
 C. 30 D. $\frac{30}{70}$

6) ¿Qué opción representa la parte sombreada de la rueda numérica?



- A. $\frac{55}{100}$ B. 45
 C. 5.5 D. 45.0

Respuestas

1. **C**
 2. **D**
 3. **A**
 4. **B**
 5. **B**
 6. **A**