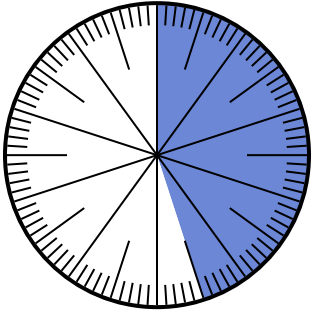




Resuelve cada problema.

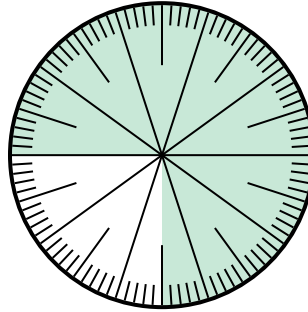
Respuestas

1) ¿Qué opción representa la parte sombreada de la rueda numérica?



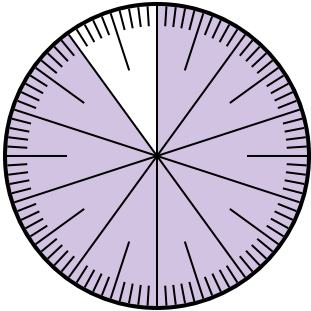
- A. $\frac{45}{100}$ B. $\frac{55}{45}$
 C. $\frac{45}{55}$ D. $\frac{4.5}{100}$

2) ¿Qué opción representa la parte sombreada de la rueda numérica?



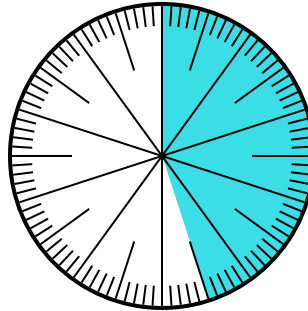
- A. $\frac{0.75}{100}$ B. 0.75
 C. $\frac{7.50}{100}$ D. $\frac{7.5}{100}$

3) ¿Qué opción representa la parte sombreada de la rueda numérica?



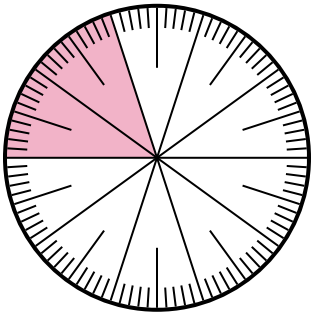
- A. 90 B. 0.090
 C. $\frac{90}{100}$ D. $\frac{9}{100}$

4) ¿Qué opción representa la parte no sombreada de la rueda numérica?



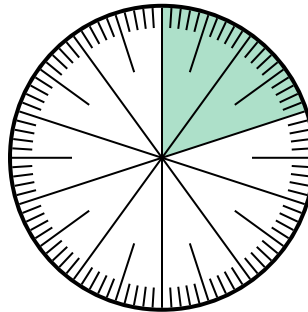
- A. 5.5 B. 55
 C. $\frac{5.5}{100}$ D. $\frac{55}{100}$

5) ¿Qué opción representa la parte no sombreada de la rueda numérica?



- A. $\frac{20}{80}$ B. 0.80
 C. $\frac{8}{100}$ D. 8

6) ¿Qué opción representa la parte no sombreada de la rueda numérica?



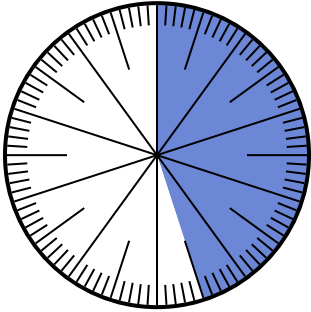
- A. 80 B. 8
 C. $\frac{0.8}{100}$ D. $\frac{80}{100}$

1. _____
 2. _____
 3. _____
 4. _____
 5. _____
 6. _____



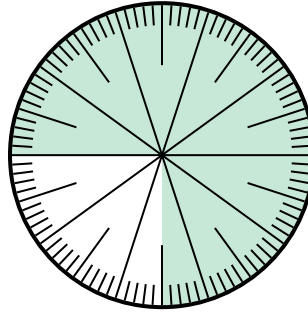
Resuelve cada problema.

1) ¿Qué opción representa la parte sombreada de la rueda numérica?



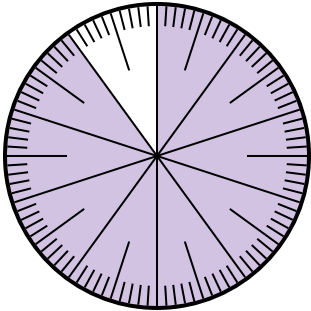
- A. $\frac{45}{100}$ B. $\frac{55}{45}$
 C. $\frac{45}{55}$ D. $\frac{4.5}{100}$

2) ¿Qué opción representa la parte sombreada de la rueda numérica?



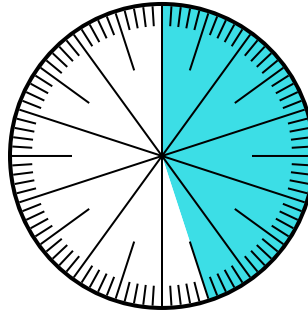
- A. $\frac{0.75}{100}$ B. 0.75
 C. $\frac{7.50}{100}$ D. $\frac{7.5}{100}$

3) ¿Qué opción representa la parte sombreada de la rueda numérica?



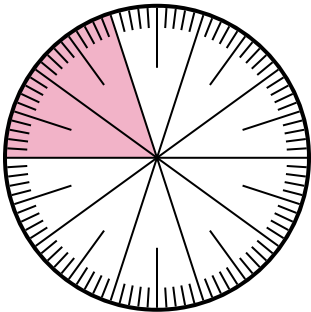
- A. 90 B. 0.090
 C. $\frac{90}{100}$ D. $\frac{9}{100}$

4) ¿Qué opción representa la parte no sombreada de la rueda numérica?



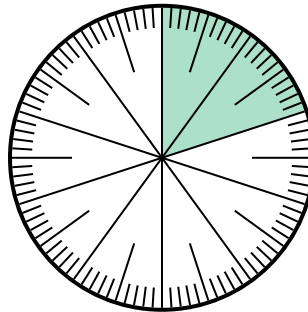
- A. 5.5 B. 55
 C. $\frac{5.5}{100}$ D. $\frac{55}{100}$

5) ¿Qué opción representa la parte no sombreada de la rueda numérica?



- A. $\frac{20}{80}$ B. 0.80
 C. $\frac{8}{100}$ D. 8

6) ¿Qué opción representa la parte no sombreada de la rueda numérica?



- A. 80 B. 8
 C. $\frac{0.8}{100}$ D. $\frac{80}{100}$

Respuestas

1. **A**
 2. **B**
 3. **C**
 4. **D**
 5. **B**
 6. **D**