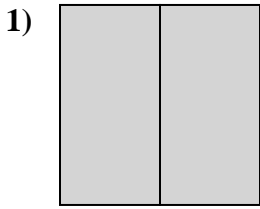


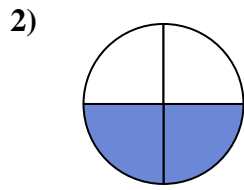


Determina cuál letra mejor describe a la porción sombreada.

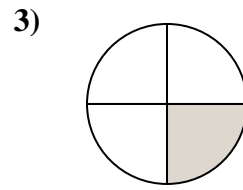
Respuestas



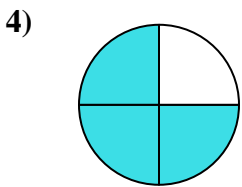
- A. dos cuartos
- B. dos mitades
- C. tres cuartos



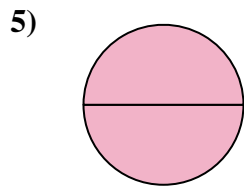
- A. tres cuartos
- B. tres cuartos
- C. dos cuartos



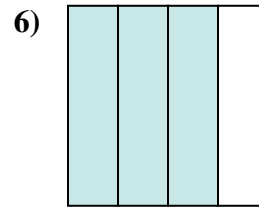
- A. dos cuartos
- B. un cuarto
- C. dos mitades



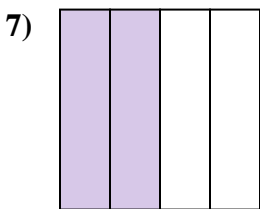
- A. dos cuartos
- B. tres cuartos
- C. dos mitades



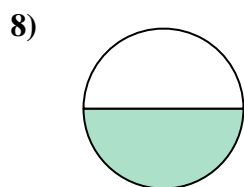
- A. un cuarto
- B. tres cuartos
- C. dos mitades



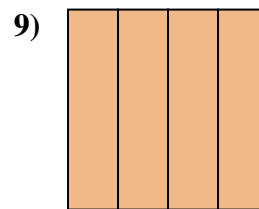
- A. un cuarto
- B. tres cuartos
- C. dos mitades



- A. un cuarto
- B. tres cuartos
- C. dos cuartos



- A. dos mitades
- B. una mitad
- C. dos cuartos



- A. cuatro cuartos
- B. tres cuartos
- C. una mitad

1. _____

2. _____

3. _____

4. _____

5. _____

6. _____

7. _____

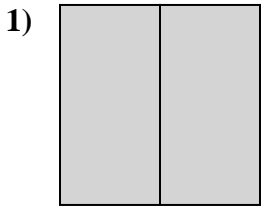
8. _____

9. _____

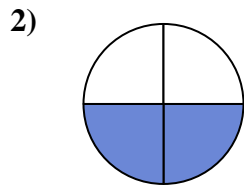


Determina cuál letra mejor describe a la porción sombreada.

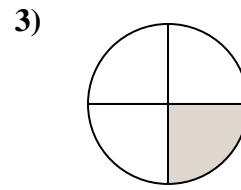
Respuestas



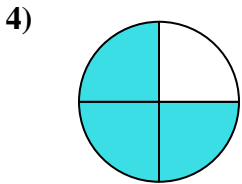
- A. dos cuartos
- B. dos mitades
- C. tres cuartos



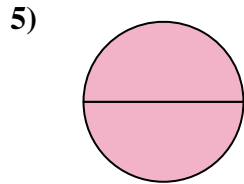
- A. tres cuartos
- B. tres cuartos
- C. dos cuartos



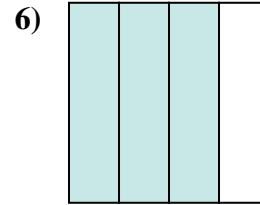
- A. dos cuartos
- B. un cuarto
- C. dos mitades



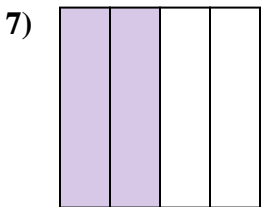
- A. dos cuartos
- B. tres cuartos
- C. dos mitades



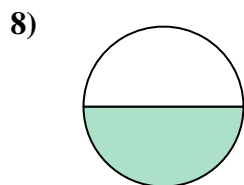
- A. un cuarto
- B. tres cuartos
- C. dos mitades



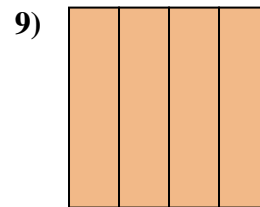
- A. un cuarto
- B. tres cuartos
- C. dos mitades



- A. un cuarto
- B. tres cuartos
- C. dos cuartos



- A. dos mitades
- B. una mitad
- C. dos cuartos



- A. cuatro cuartos
- B. tres cuartos
- C. una mitad

- 1. **B**
- 2. **C**
- 3. **B**
- 4. **B**
- 5. **C**
- 6. **B**
- 7. **C**
- 8. **B**
- 9. **A**