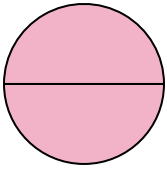




Determina cuál letra mejor describe a la porción sombreada.


**Respuestas**

1)



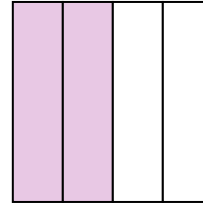
- A. dos mitades
- B. un cuarto
- C. dos cuartos

2)



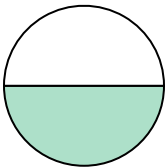
- A. una mitad
- B. tres cuartos
- C. dos mitades

3)



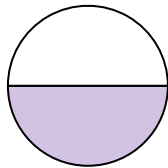
- A. dos cuartos
- B. un cuarto
- C. tres cuartos

4)



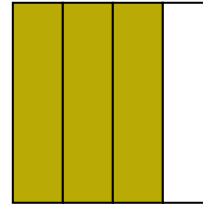
- A. dos cuartos
- B. tres cuartos
- C. una mitad

5)



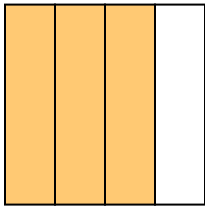
- A. tres cuartos
- B. una mitad
- C. dos cuartos

6)



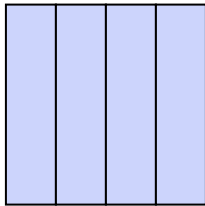
- A. un cuarto
- B. dos cuartos
- C. tres cuartos

7)



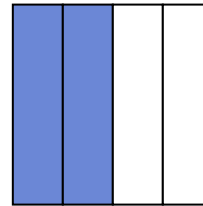
- A. dos cuartos
- B. cuatro cuartos
- C. tres cuartos

8)



- A. dos cuartos
- B. una mitad
- C. cuatro cuartos

9)



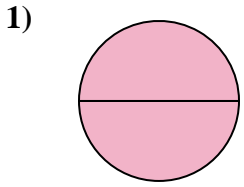
- A. dos mitades
- B. dos cuartos
- C. un cuarto

- 1. \_\_\_\_\_
- 2. \_\_\_\_\_
- 3. \_\_\_\_\_
- 4. \_\_\_\_\_
- 5. \_\_\_\_\_
- 6. \_\_\_\_\_
- 7. \_\_\_\_\_
- 8. \_\_\_\_\_
- 9. \_\_\_\_\_

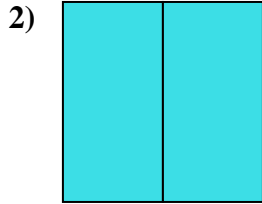


Determina cuál letra mejor describe a la porción sombreada.

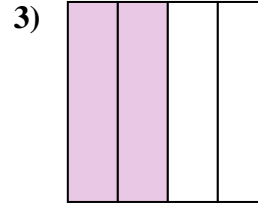
**Respuestas**



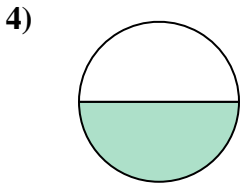
- A. dos mitades
- B. un cuarto
- C. dos cuartos



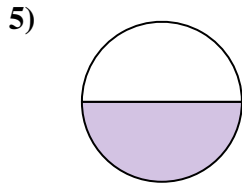
- A. una mitad
- B. tres cuartos
- C. dos mitades



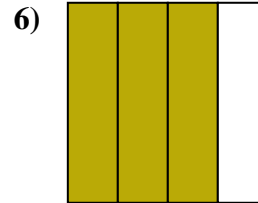
- A. dos cuartos
- B. un cuarto
- C. tres cuartos



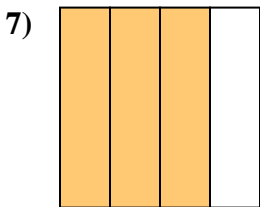
- A. dos cuartos
- B. tres cuartos
- C. una mitad



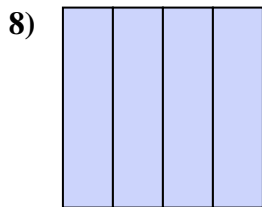
- A. tres cuartos
- B. una mitad
- C. dos cuartos



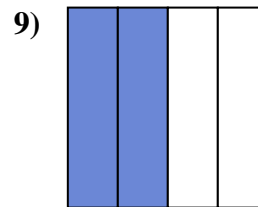
- A. un cuarto
- B. dos cuartos
- C. tres cuartos



- A. dos cuartos
- B. cuatro cuartos
- C. tres cuartos



- A. dos cuartos
- B. una mitad
- C. cuatro cuartos



- A. dos mitades
- B. dos cuartos
- C. un cuarto

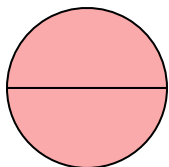
- 1.     **A**
- 2.     **C**
- 3.     **A**
- 4.     **C**
- 5.     **B**
- 6.     **C**
- 7.     **C**
- 8.     **C**
- 9.     **B**



Determina cuál letra mejor describe a la porción sombreada.


**Respuestas**

1)



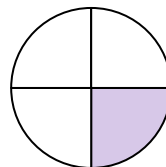
- A. una mitad
- B. dos cuartos
- C. dos mitades

2)



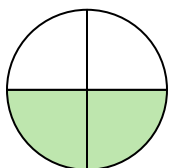
- A. dos cuartos
- B. tres cuartos
- C. una mitad

3)




- A. dos cuartos
- B. un cuarto
- C. una mitad

4)



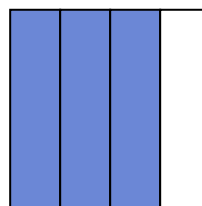
- A. tres cuartos
- B. dos cuartos
- C. una mitad

5)



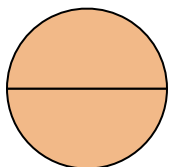
- A. una mitad
- B. tres cuartos
- C. un cuarto

6)



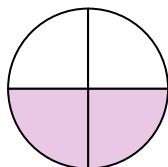
- A. una mitad
- B. tres cuartos
- C. cuatro cuartos

7)



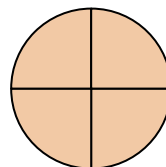
- A. dos cuartos
- B. dos mitades
- C. una mitad

8)



- A. dos cuartos
- B. una mitad
- C. tres cuartos

9)



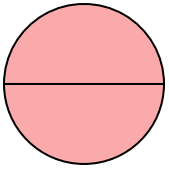
- A. tres cuartos
- B. dos mitades
- C. tres cuartos

- 1. \_\_\_\_\_
- 2. \_\_\_\_\_
- 3. \_\_\_\_\_
- 4. \_\_\_\_\_
- 5. \_\_\_\_\_
- 6. \_\_\_\_\_
- 7. \_\_\_\_\_
- 8. \_\_\_\_\_
- 9. \_\_\_\_\_




Determina cuál letra mejor describe a la porción sombreada.

1)



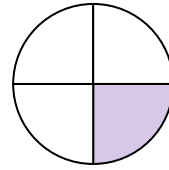
- A. una mitad
- B. dos cuartos
- C. dos mitades

2)



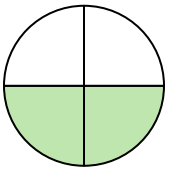
- A. dos cuartos
- B. tres cuartos
- C. una mitad

3)




- A. dos cuartos
- B. un cuarto
- C. una mitad

4)



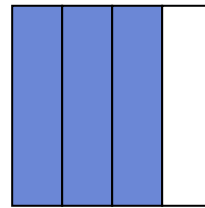
- A. tres cuartos
- B. dos cuartos
- C. una mitad

5)



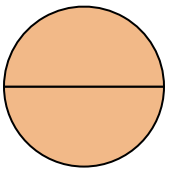
- A. una mitad
- B. tres cuartos
- C. un cuarto

6)



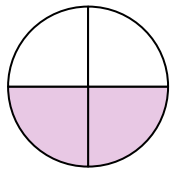
- A. una mitad
- B. tres cuartos
- C. cuatro cuartos

7)



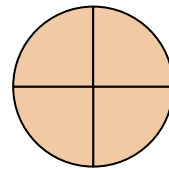
- A. dos cuartos
- B. dos mitades
- C. una mitad

8)



- A. dos cuartos
- B. una mitad
- C. tres cuartos

9)



- A. tres cuartos
- B. dos mitades
- C. tres cuartos

**Respuestas**

1.     **C**    

2.     **C**    

3.     **B**    

4.     **B**    

5.     **A**    

6.     **B**    

7.     **B**    

8.     **A**    

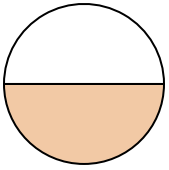
9.     **C**



Determina cuál letra mejor describe a la porción sombreada.

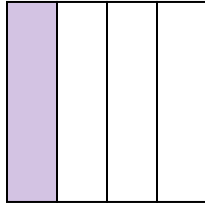
**Respuestas**

1)



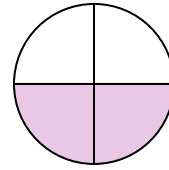
- A. tres cuartos
- B. una mitad
- C. dos cuartos

2)



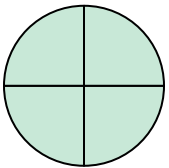
- A. un cuarto
- B. tres cuartos
- C. dos mitades

3)



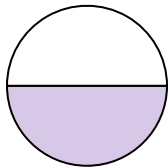
- A. un cuarto
- B. una mitad
- C. dos cuartos

4)




- A. dos mitades
- B. tres cuartos
- C. tres cuartos

5)




- A. una mitad
- B. dos cuartos
- C. tres cuartos

6)



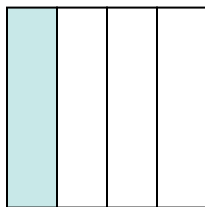
- A. dos mitades
- B. un cuarto
- C. dos cuartos

7)



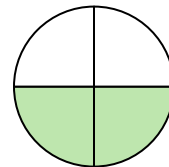
- A. una mitad
- B. dos mitades
- C. un cuarto

8)



- A. un cuarto
- B. tres cuartos
- C. dos mitades

9)



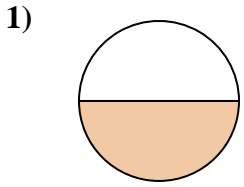
- A. dos cuartos
- B. un cuarto
- C. una mitad

- 1. \_\_\_\_\_
- 2. \_\_\_\_\_
- 3. \_\_\_\_\_
- 4. \_\_\_\_\_
- 5. \_\_\_\_\_
- 6. \_\_\_\_\_
- 7. \_\_\_\_\_
- 8. \_\_\_\_\_
- 9. \_\_\_\_\_

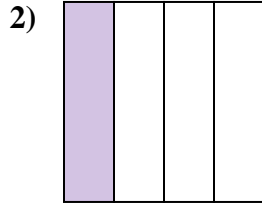


Determina cuál letra mejor describe a la porción sombreada.

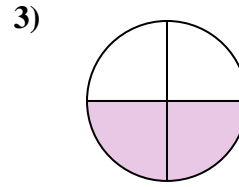
**Respuestas**



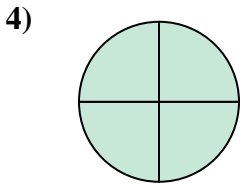
- A. tres cuartos
- B. una mitad
- C. dos cuartos



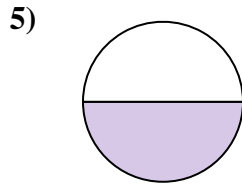
- A. un cuarto
- B. tres cuartos
- C. dos mitades



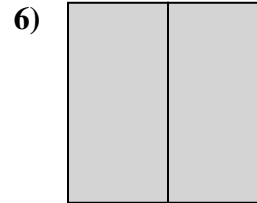
- A. un cuarto
- B. una mitad
- C. dos cuartos



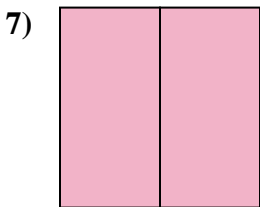
- A. dos mitades
- B. tres cuartos
- C. tres cuartos



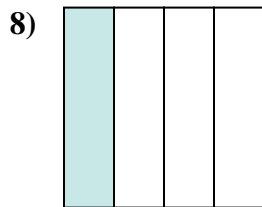
- A. una mitad
- B. dos cuartos
- C. tres cuartos



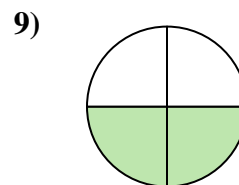
- A. dos mitades
- B. un cuarto
- C. dos cuartos



- A. una mitad
- B. dos mitades
- C. un cuarto



- A. un cuarto
- B. tres cuartos
- C. dos mitades




- A. dos cuartos
- B. un cuarto
- C. una mitad

- 1.     **B**
- 2.     **A**
- 3.     **C**
- 4.     **B**
- 5.     **A**
- 6.     **A**
- 7.     **B**
- 8.     **A**
- 9.     **A**

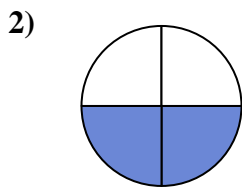


Determina cuál letra mejor describe a la porción sombreada.

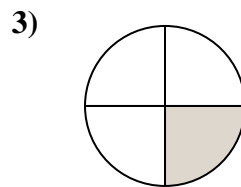
**Respuestas**



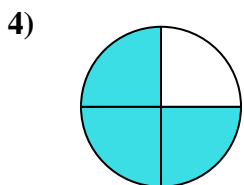
- A. dos cuartos
- B. dos mitades
- C. tres cuartos



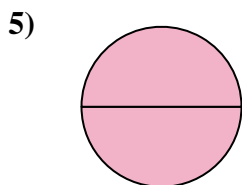
- A. tres cuartos
- B. tres cuartos
- C. dos cuartos



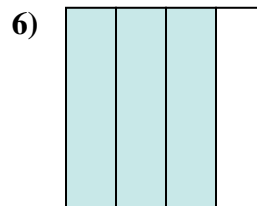
- A. dos cuartos
- B. un cuarto
- C. dos mitades



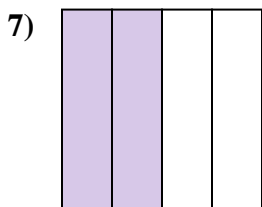
- A. dos cuartos
- B. tres cuartos
- C. dos mitades



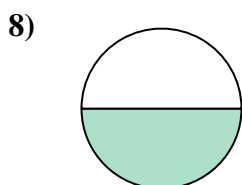
- A. un cuarto
- B. tres cuartos
- C. dos mitades



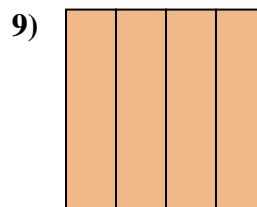
- A. un cuarto
- B. tres cuartos
- C. dos mitades



- A. un cuarto
- B. tres cuartos
- C. dos cuartos



- A. dos mitades
- B. una mitad
- C. dos cuartos



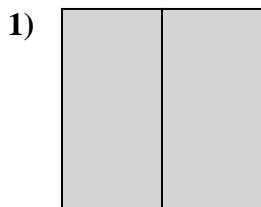
- A. cuatro cuartos
- B. tres cuartos
- C. una mitad

- 1. \_\_\_\_\_
- 2. \_\_\_\_\_
- 3. \_\_\_\_\_
- 4. \_\_\_\_\_
- 5. \_\_\_\_\_
- 6. \_\_\_\_\_
- 7. \_\_\_\_\_
- 8. \_\_\_\_\_
- 9. \_\_\_\_\_

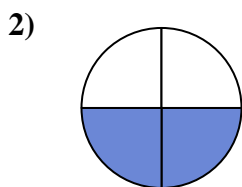


Determina cuál letra mejor describe a la porción sombreada.

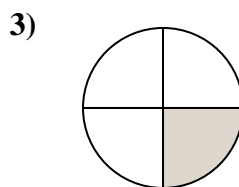
**Respuestas**



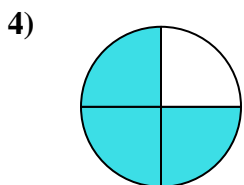
- A. dos cuartos
- B. dos mitades
- C. tres cuartos



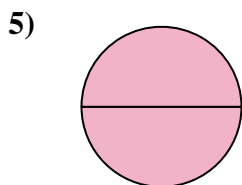
- A. tres cuartos
- B. tres cuartos
- C. dos cuartos



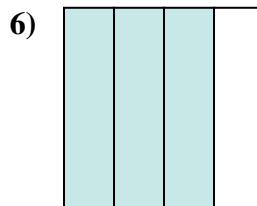
- A. dos cuartos
- B. un cuarto
- C. dos mitades



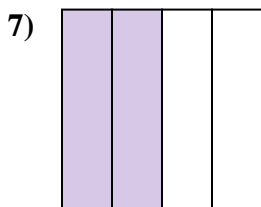
- A. dos cuartos
- B. tres cuartos
- C. dos mitades



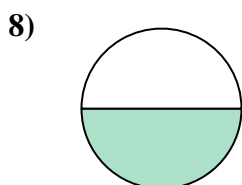
- A. un cuarto
- B. tres cuartos
- C. dos mitades



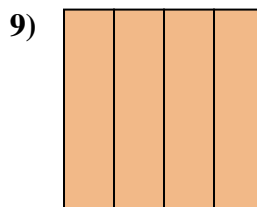
- A. un cuarto
- B. tres cuartos
- C. dos mitades



- A. un cuarto
- B. tres cuartos
- C. dos cuartos



- A. dos mitades
- B. una mitad
- C. dos cuartos



- A. cuatro cuartos
- B. tres cuartos
- C. una mitad

- 1.     **B**
- 2.     **C**
- 3.     **B**
- 4.     **B**
- 5.     **C**
- 6.     **B**
- 7.     **C**
- 8.     **B**
- 9.     **A**

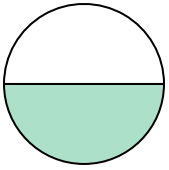




Determina cuál letra mejor describe a la porción sombreada.


**Respuestas**

1)



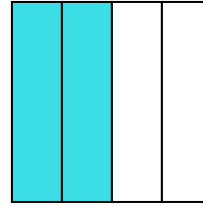
- A. una mitad
- B. dos mitades
- C. cuatro cuartos

2)



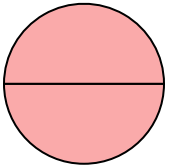
- A. dos mitades
- B. una mitad
- C. un cuarto

3)



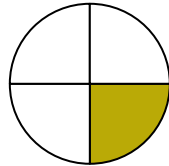
- A. tres cuartos
- B. un cuarto
- C. dos cuartos

4)



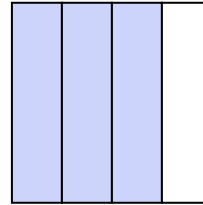
- A. dos mitades
- B. tres cuartos
- C. un cuarto

5)



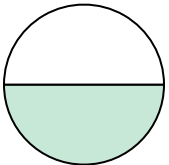
- A. tres cuartos
- B. un cuarto
- C. dos cuartos

6)



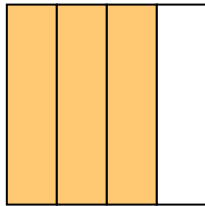
- A. tres cuartos
- B. tres cuartos
- C. una mitad

7)



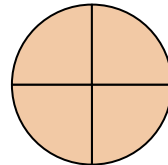
- A. dos cuartos
- B. dos mitades
- C. una mitad

8)



- A. tres cuartos
- B. un cuarto
- C. dos mitades

9)



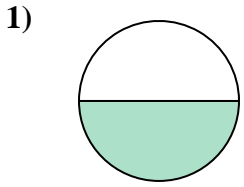
- A. dos mitades
- B. tres cuartos
- C. tres cuartos

- 1. \_\_\_\_\_
- 2. \_\_\_\_\_
- 3. \_\_\_\_\_
- 4. \_\_\_\_\_
- 5. \_\_\_\_\_
- 6. \_\_\_\_\_
- 7. \_\_\_\_\_
- 8. \_\_\_\_\_
- 9. \_\_\_\_\_

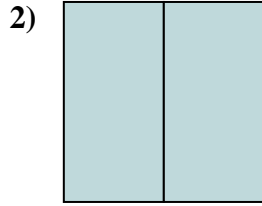


Determina cuál letra mejor describe a la porción sombreada.

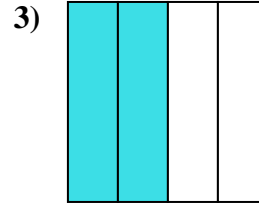
**Respuestas**



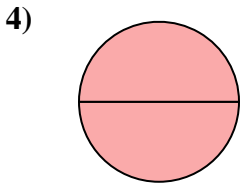
- A. una mitad
- B. dos mitades
- C. cuatro cuartos



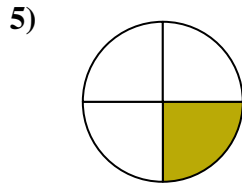
- A. dos mitades
- B. una mitad
- C. un cuarto



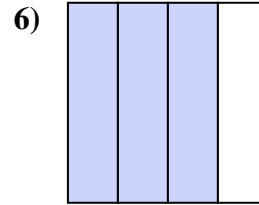
- A. tres cuartos
- B. un cuarto
- C. dos cuartos



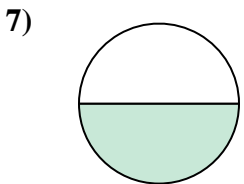
- A. dos mitades
- B. tres cuartos
- C. un cuarto



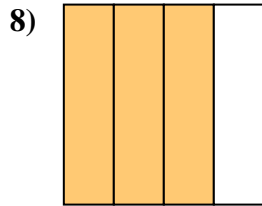
- A. tres cuartos
- B. un cuarto
- C. dos cuartos



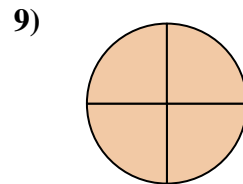
- A. tres cuartos
- B. tres cuartos
- C. una mitad



- A. dos cuartos
- B. dos mitades
- C. una mitad



- A. tres cuartos
- B. un cuarto
- C. dos mitades



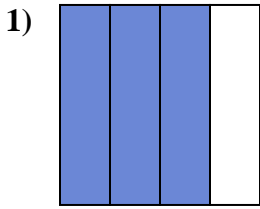
- A. dos mitades
- B. tres cuartos
- C. tres cuartos

- 1.     **A**
- 2.     **A**
- 3.     **C**
- 4.     **A**
- 5.     **B**
- 6.     **A**
- 7.     **C**
- 8.     **A**
- 9.     **C**

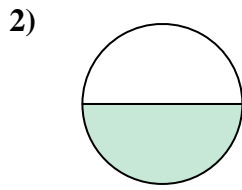


Determina cuál letra mejor describe a la porción sombreada.

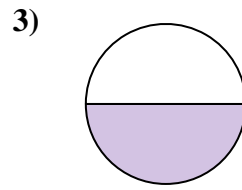
**Respuestas**



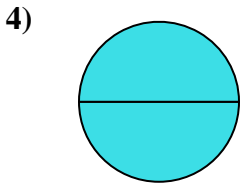
- A. tres cuartos
- B. tres cuartos
- C. un cuarto



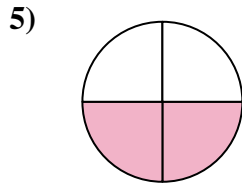
- A. una mitad
- B. dos cuartos
- C. un cuarto



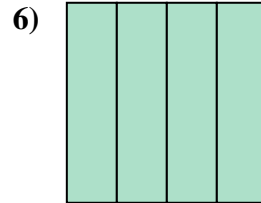
- A. tres cuartos
- B. una mitad
- C. dos mitades



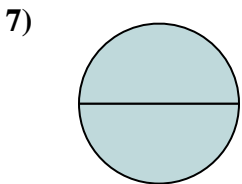
- A. un cuarto
- B. cuatro cuartos
- C. dos mitades



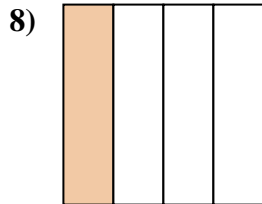
- A. dos cuartos
- B. una mitad
- C. cuatro cuartos



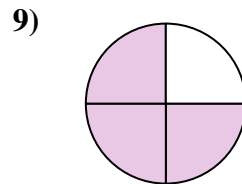
- A. cuatro cuartos
- B. un cuarto
- C. una mitad



- A. dos mitades
- B. una mitad
- C. tres cuartos



- A. dos mitades
- B. un cuarto
- C. dos cuartos



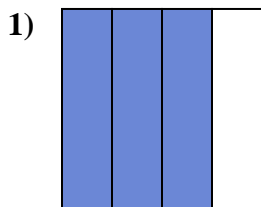
- A. tres cuartos
- B. tres cuartos
- C. dos mitades

- 1. \_\_\_\_\_
- 2. \_\_\_\_\_
- 3. \_\_\_\_\_
- 4. \_\_\_\_\_
- 5. \_\_\_\_\_
- 6. \_\_\_\_\_
- 7. \_\_\_\_\_
- 8. \_\_\_\_\_
- 9. \_\_\_\_\_

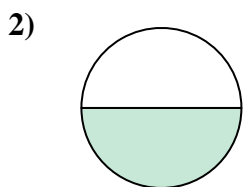


Determina cuál letra mejor describe a la porción sombreada.

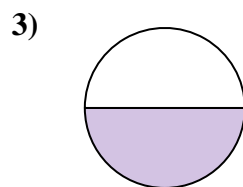
**Respuestas**



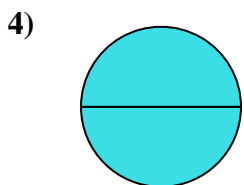
- A. tres cuartos
- B. tres cuartos
- C. un cuarto



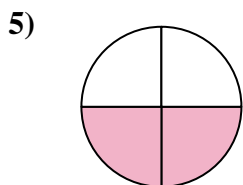
- A. una mitad
- B. dos cuartos
- C. un cuarto



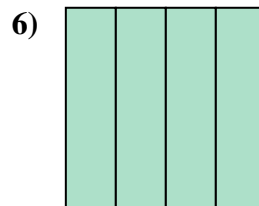
- A. tres cuartos
- B. una mitad
- C. dos mitades



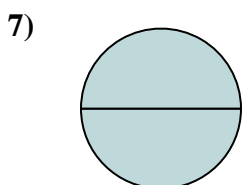
- A. un cuarto
- B. cuatro cuartos
- C. dos mitades



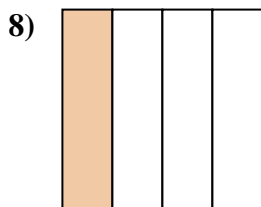
- A. dos cuartos
- B. una mitad
- C. cuatro cuartos



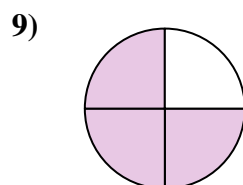
- A. cuatro cuartos
- B. un cuarto
- C. una mitad



- A. dos mitades
- B. una mitad
- C. tres cuartos



- A. dos mitades
- B. un cuarto
- C. dos cuartos



- A. tres cuartos
- B. tres cuartos
- C. dos mitades

- 1.     **B**
- 2.     **A**
- 3.     **B**
- 4.     **C**
- 5.     **A**
- 6.     **A**
- 7.     **A**
- 8.     **B**
- 9.     **B**

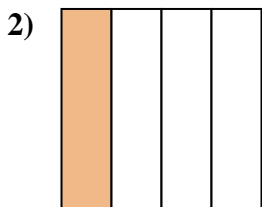


Determina cuál letra mejor describe a la porción sombreada.

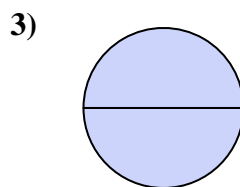
**Respuestas**



- A. un cuarto
- B. tres cuartos
- C. una mitad



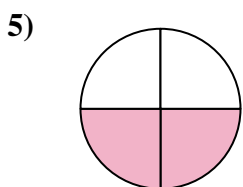
- A. una mitad
- B. un cuarto
- C. dos mitades



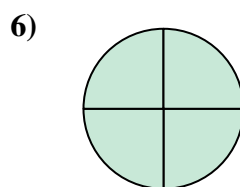
- A. una mitad
- B. un cuarto
- C. dos mitades



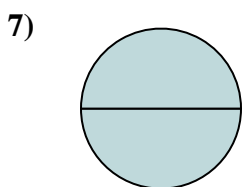
- A. dos mitades
- B. tres cuartos
- C. una mitad



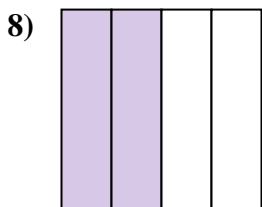
- A. dos cuartos
- B. tres cuartos
- C. dos mitades



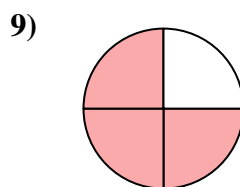
- A. dos cuartos
- B. tres cuartos
- C. una mitad



- A. un cuarto
- B. dos mitades
- C. tres cuartos



- A. cuatro cuartos
- B. dos cuartos
- C. dos mitades



- A. dos mitades
- B. tres cuartos
- C. dos cuartos

- 1. \_\_\_\_\_
- 2. \_\_\_\_\_
- 3. \_\_\_\_\_
- 4. \_\_\_\_\_
- 5. \_\_\_\_\_
- 6. \_\_\_\_\_
- 7. \_\_\_\_\_
- 8. \_\_\_\_\_
- 9. \_\_\_\_\_

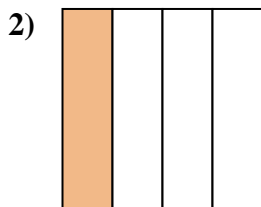


Determina cuál letra mejor describe a la porción sombreada.

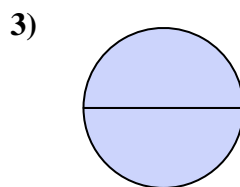
**Respuestas**



- A. un cuarto
- B. tres cuartos
- C. una mitad



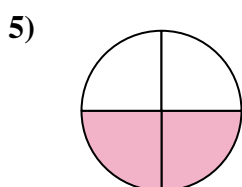
- A. una mitad
- B. un cuarto
- C. dos mitades



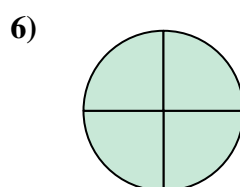
- A. una mitad
- B. un cuarto
- C. dos mitades



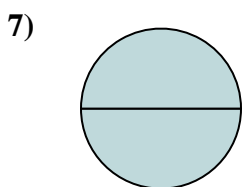
- A. dos mitades
- B. tres cuartos
- C. una mitad



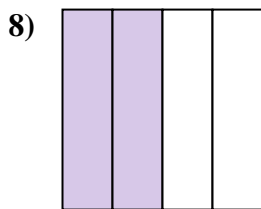
- A. dos cuartos
- B. tres cuartos
- C. dos mitades



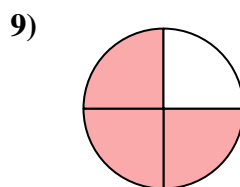
- A. dos cuartos
- B. tres cuartos
- C. una mitad



- A. un cuarto
- B. dos mitades
- C. tres cuartos



- A. cuatro cuartos
- B. dos cuartos
- C. dos mitades



- A. dos mitades
- B. tres cuartos
- C. dos cuartos

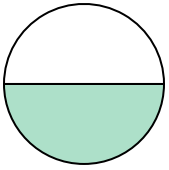
- 1.     **A**
- 2.     **B**
- 3.     **C**
- 4.     **C**
- 5.     **A**
- 6.     **B**
- 7.     **B**
- 8.     **B**
- 9.     **B**



Determina cuál letra mejor describe a la porción sombreada.

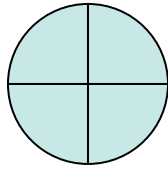
**Respuestas**

1)



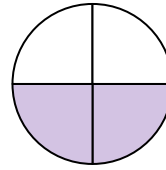
- A. dos cuartos
- B. una mitad
- C. un cuarto

2)



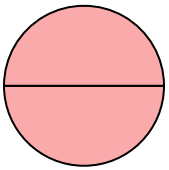
- A. dos mitades
- B. tres cuartos
- C. una mitad

3)



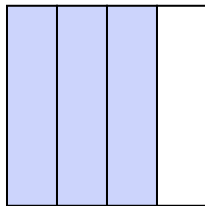
- A. dos cuartos
- B. tres cuartos
- C. un cuarto

4)




- A. cuatro cuartos
- B. dos cuartos
- C. dos mitades

5)




- A. tres cuartos
- B. dos cuartos
- C. tres cuartos

6)



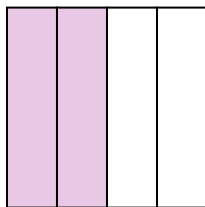
- A. un cuarto
- B. dos mitades
- C. una mitad

7)



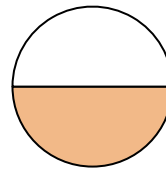
- A. dos cuartos
- B. cuatro cuartos
- C. tres cuartos

8)



- A. una mitad
- B. dos cuartos
- C. tres cuartos

9)



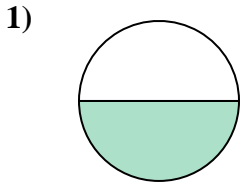
- A. dos mitades
- B. dos cuartos
- C. una mitad

- 1. \_\_\_\_\_
- 2. \_\_\_\_\_
- 3. \_\_\_\_\_
- 4. \_\_\_\_\_
- 5. \_\_\_\_\_
- 6. \_\_\_\_\_
- 7. \_\_\_\_\_
- 8. \_\_\_\_\_
- 9. \_\_\_\_\_

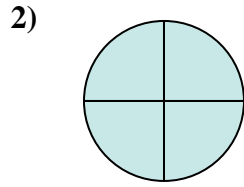


Determina cuál letra mejor describe a la porción sombreada.

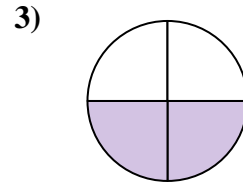
**Respuestas**



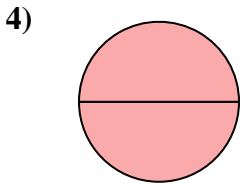
- A. dos cuartos
- B. una mitad
- C. un cuarto



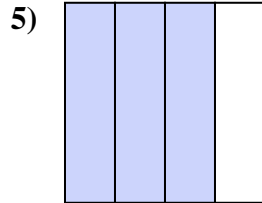
- A. dos mitades
- B. tres cuartos
- C. una mitad



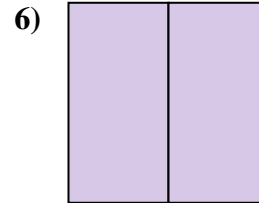
- A. dos cuartos
- B. tres cuartos
- C. un cuarto



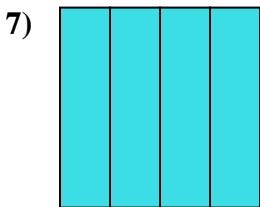
- A. cuatro cuartos
- B. dos cuartos
- C. dos mitades



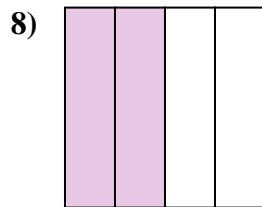
- A. tres cuartos
- B. dos cuartos
- C. tres cuartos



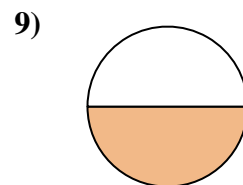
- A. un cuarto
- B. dos mitades
- C. una mitad



- A. dos cuartos
- B. cuatro cuartos
- C. tres cuartos



- A. una mitad
- B. dos cuartos
- C. tres cuartos



- A. dos mitades
- B. dos cuartos
- C. una mitad


- 1.     **B**
- 2.     **B**
- 3.     **A**
- 4.     **C**
- 5.     **A**
- 6.     **B**
- 7.     **B**
- 8.     **B**
- 9.     **C**



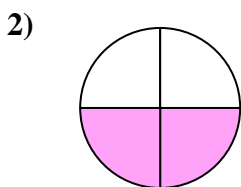


Determina cuál letra mejor describe a la porción sombreada.

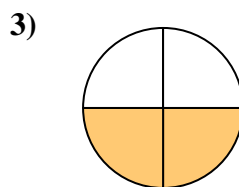
**Respuestas**




- A. dos mitades
- B. un cuarto
- C. una mitad



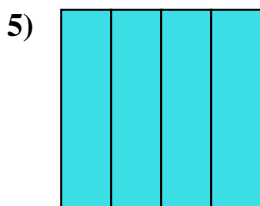
- A. dos cuartos
- B. dos mitades
- C. una mitad



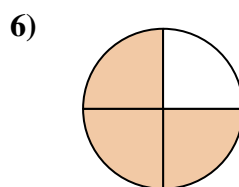
- A. dos cuartos
- B. dos mitades
- C. un cuarto



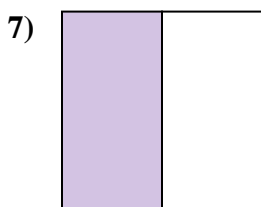
- A. tres cuartos
- B. una mitad
- C. tres cuartos



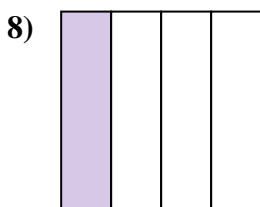
- A. dos cuartos
- B. cuatro cuartos
- C. dos mitades



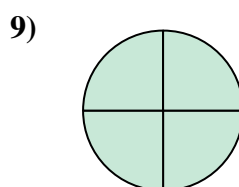
- A. tres cuartos
- B. cuatro cuartos
- C. un cuarto



- A. tres cuartos
- B. tres cuartos
- C. una mitad



- A. dos cuartos
- B. tres cuartos
- C. un cuarto

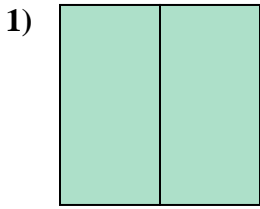


- A. tres cuartos
- B. dos mitades
- C. tres cuartos

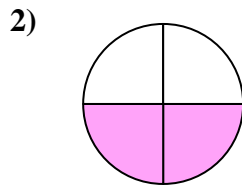
- 1. \_\_\_\_\_
- 2. \_\_\_\_\_
- 3. \_\_\_\_\_
- 4. \_\_\_\_\_
- 5. \_\_\_\_\_
- 6. \_\_\_\_\_
- 7. \_\_\_\_\_
- 8. \_\_\_\_\_
- 9. \_\_\_\_\_



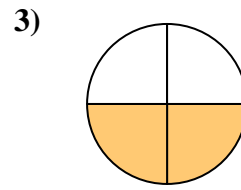
Determina cuál letra mejor describe a la porción sombreada.



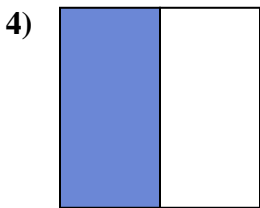
- A. dos mitades
- B. un cuarto
- C. una mitad



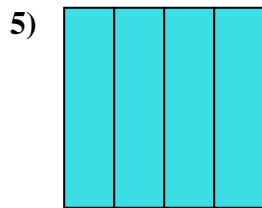
- A. dos cuartos
- B. dos mitades
- C. una mitad



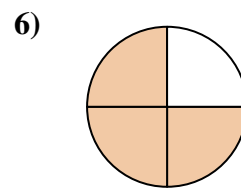
- A. dos cuartos
- B. dos mitades
- C. un cuarto



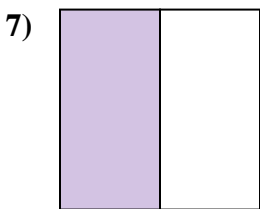
- A. tres cuartos
- B. una mitad
- C. tres cuartos



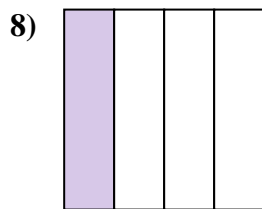
- A. dos cuartos
- B. cuatro cuartos
- C. dos mitades



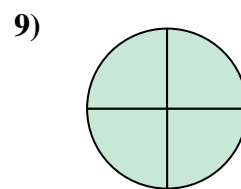
- A. tres cuartos
- B. cuatro cuartos
- C. un cuarto



- A. tres cuartos
- B. tres cuartos
- C. una mitad



- A. dos cuartos
- B. tres cuartos
- C. un cuarto



- A. tres cuartos
- B. dos mitades
- C. tres cuartos

**Respuestas**

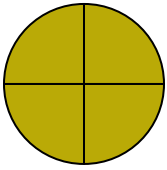
- 1.     **A**
- 2.     **A**
- 3.     **A**
- 4.     **B**
- 5.     **B**
- 6.     **A**
- 7.     **C**
- 8.     **C**
- 9.     **C**



Determina cuál letra mejor describe a la porción sombreada.


**Respuestas**

1)



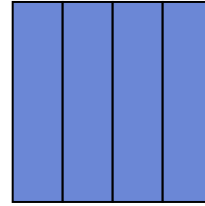
- A. dos mitades
- B. tres cuartos
- C. una mitad

2)



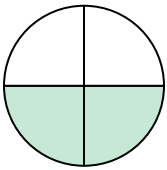
- A. un cuarto
- B. dos cuartos
- C. dos mitades

3)



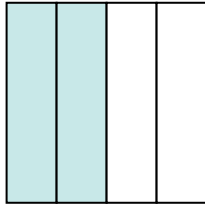
- A. dos mitades
- B. dos cuartos
- C. tres cuartos

4)



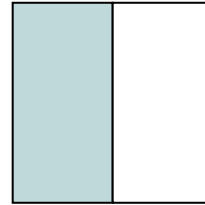
- A. dos cuartos
- B. un cuarto
- C. una mitad

5)




- A. cuatro cuartos
- B. tres cuartos
- C. dos cuartos

6)



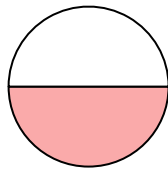
- A. una mitad
- B. dos mitades
- C. tres cuartos

7)



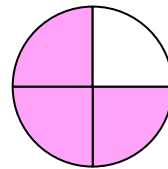
- A. una mitad
- B. un cuarto
- C. dos mitades

8)



- A. una mitad
- B. un cuarto
- C. dos cuartos

9)



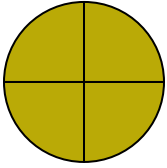
- A. tres cuartos
- B. un cuarto
- C. cuatro cuartos

- 1. \_\_\_\_\_
- 2. \_\_\_\_\_
- 3. \_\_\_\_\_
- 4. \_\_\_\_\_
- 5. \_\_\_\_\_
- 6. \_\_\_\_\_
- 7. \_\_\_\_\_
- 8. \_\_\_\_\_
- 9. \_\_\_\_\_



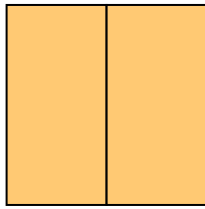
Determina cuál letra mejor describe a la porción sombreada.

1)



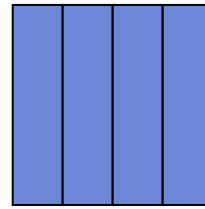
- A. dos mitades
- B. tres cuartos
- C. una mitad

2)



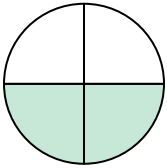
- A. un cuarto
- B. dos cuartos
- C. dos mitades

3)



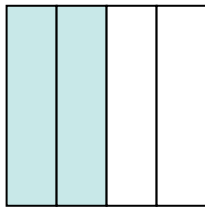
- A. dos mitades
- B. dos cuartos
- C. tres cuartos

4)



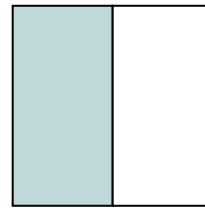
- A. dos cuartos
- B. un cuarto
- C. una mitad

5)




- A. cuatro cuartos
- B. tres cuartos
- C. dos cuartos

6)



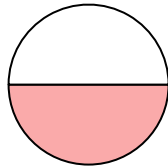
- A. una mitad
- B. dos mitades
- C. tres cuartos

7)



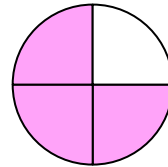
- A. una mitad
- B. un cuarto
- C. dos mitades

8)



- A. una mitad
- B. un cuarto
- C. dos cuartos

9)



- A. tres cuartos
- B. un cuarto
- C. cuatro cuartos

**Respuestas**

- 1.     **B**
- 2.     **C**
- 3.     **C**
- 4.     **A**
- 5.     **C**
- 6.     **A**
- 7.     **C**
- 8.     **A**
- 9.     **A**