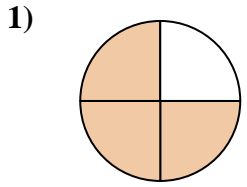


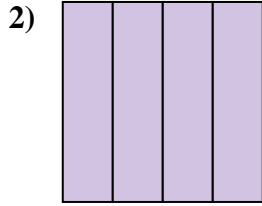


Determina cuál letra mejor describe a la porción sombreada.

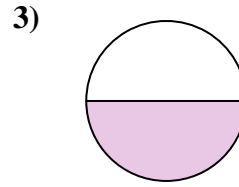
Respuestas



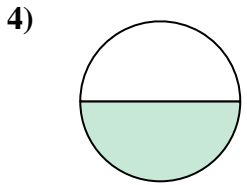
- A. tres cuartos
- B. dos mitades
- C. tres cuartos



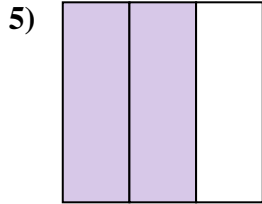
- A. una mitad
- B. tres cuartos
- C. un cuarto



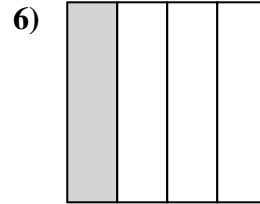
- A. una mitad
- B. dos mitades
- C. tres cuartos



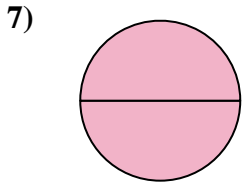
- A. una mitad
- B. dos cuartos
- C. dos mitades



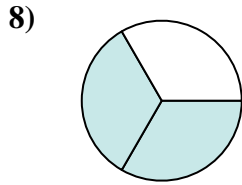
- A. dos cuartos
- B. un cuarto
- C. dos tercios



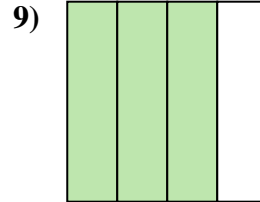
- A. cuatro cuartos
- B. dos mitades
- C. un cuarto



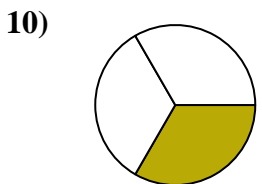
- A. un cuarto
- B. dos mitades
- C. una mitad



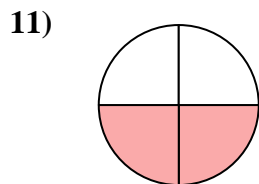
- A. una mitad
- B. dos mitades
- C. dos tercios



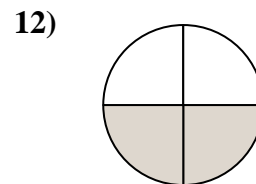
- A. tres cuartos
- B. dos mitades
- C. tres cuartos



- A. un cuarto
- B. una mitad
- C. un tercio



- A. tres cuartos
- B. un cuarto
- C. dos cuartos



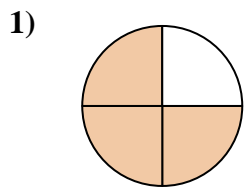
- A. dos cuartos
- B. dos mitades
- C. un cuarto

- 1. _____
- 2. _____
- 3. _____
- 4. _____
- 5. _____
- 6. _____
- 7. _____
- 8. _____
- 9. _____
- 10. _____
- 11. _____
- 12. _____

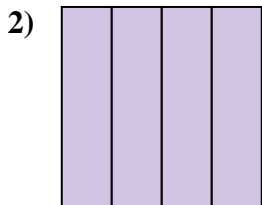


Determina cuál letra mejor describe a la porción sombreada.

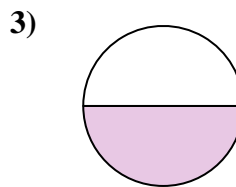
Respuestas



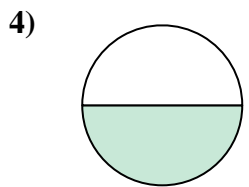
- A. tres cuartos
- B. dos mitades
- C. tres cuartos



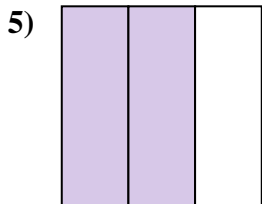
- A. una mitad
- B. tres cuartos
- C. un cuarto



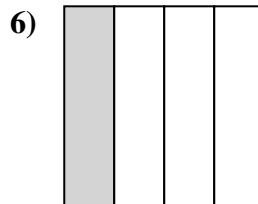
- A. una mitad
- B. dos mitades
- C. tres cuartos



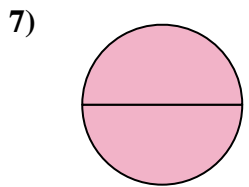
- A. una mitad
- B. dos cuartos
- C. dos mitades



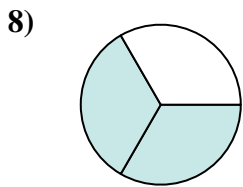
- A. dos cuartos
- B. un cuarto
- C. dos tercios



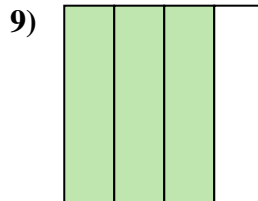
- A. cuatro cuartos
- B. dos mitades
- C. un cuarto



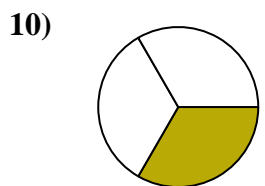
- A. un cuarto
- B. dos mitades
- C. una mitad



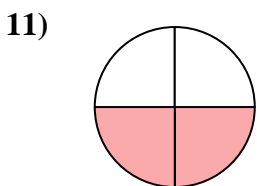
- A. una mitad
- B. dos mitades
- C. dos tercios



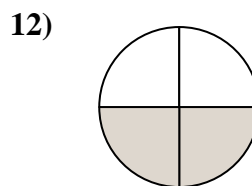
- A. tres cuartos
- B. dos mitades
- C. tres cuartos



- A. un cuarto
- B. una mitad
- C. un tercio



- A. tres cuartos
- B. un cuarto
- C. dos cuartos



- A. dos cuartos
- B. dos mitades
- C. un cuarto

- 1. **C**
- 2. **B**
- 3. **A**
- 4. **A**
- 5. **C**
- 6. **C**
- 7. **B**
- 8. **C**
- 9. **C**
- 10. **C**
- 11. **C**
- 12. **A**