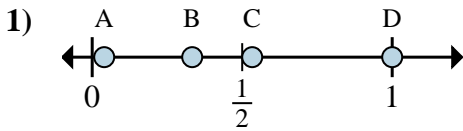




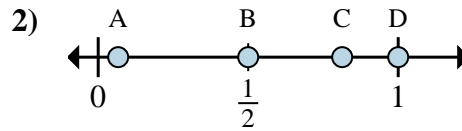
Determina cuál letra mejor muestra la ubicación de la fracción.

Respuestas



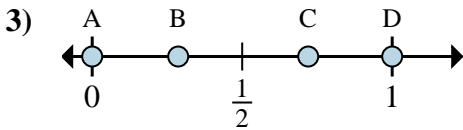
a. ¿Qué letra representa mejor $\frac{1}{3}$

b. ¿Qué letra representa mejor $\frac{3}{3}$



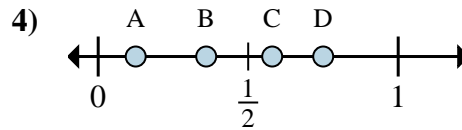
a. ¿Qué letra representa mejor $\frac{1}{2}$

b. ¿Qué letra representa mejor $\frac{2}{2}$



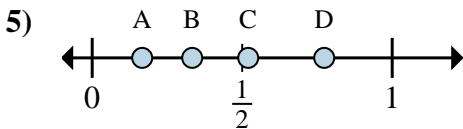
a. ¿Qué letra representa mejor $\frac{0}{6}$

b. ¿Qué letra representa mejor $\frac{6}{6}$



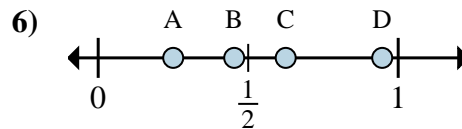
a. ¿Qué letra representa mejor $\frac{1}{8}$

b. ¿Qué letra representa mejor $\frac{6}{8}$



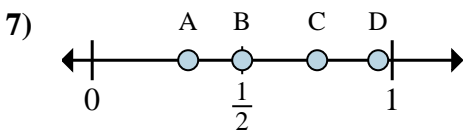
a. ¿Qué letra representa mejor $\frac{2}{6}$

b. ¿Qué letra representa mejor $\frac{1}{6}$



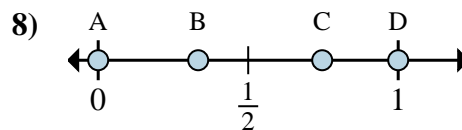
a. ¿Qué letra representa mejor $\frac{5}{8}$

b. ¿Qué letra representa mejor $\frac{2}{8}$



a. ¿Qué letra representa mejor $\frac{3}{4}$

b. ¿Qué letra representa mejor $\frac{2}{4}$



a. ¿Qué letra representa mejor $\frac{0}{6}$

b. ¿Qué letra representa mejor $\frac{6}{6}$

1. _____

2. _____

3. _____

4. _____

5. _____

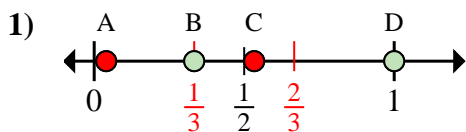
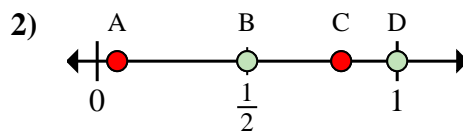
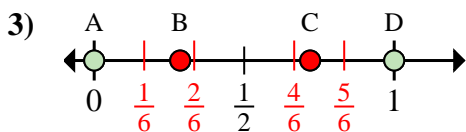
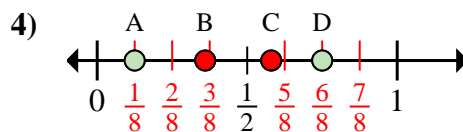
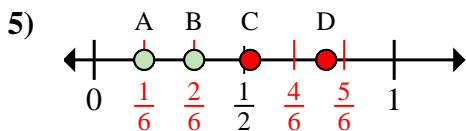
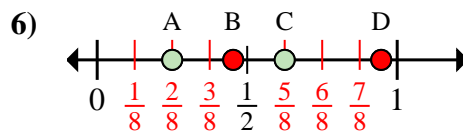
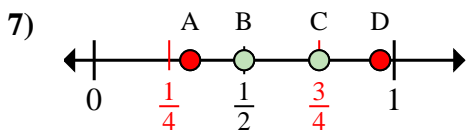
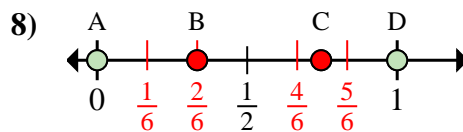
6. _____

7. _____

8. _____



Determina cuál letra mejor muestra la ubicación de la fracción.

Respuestasa. ¿Qué letra representa mejor $\frac{1}{3}$ b. ¿Qué letra representa mejor $\frac{3}{3}$ a. ¿Qué letra representa mejor $\frac{1}{2}$ b. ¿Qué letra representa mejor $\frac{2}{2}$ a. ¿Qué letra representa mejor $\frac{0}{6}$ b. ¿Qué letra representa mejor $\frac{6}{6}$ a. ¿Qué letra representa mejor $\frac{1}{8}$ b. ¿Qué letra representa mejor $\frac{6}{8}$ a. ¿Qué letra representa mejor $\frac{2}{6}$ b. ¿Qué letra representa mejor $\frac{1}{6}$ a. ¿Qué letra representa mejor $\frac{5}{8}$ b. ¿Qué letra representa mejor $\frac{2}{8}$ a. ¿Qué letra representa mejor $\frac{3}{4}$ b. ¿Qué letra representa mejor $\frac{2}{4}$ a. ¿Qué letra representa mejor $\frac{0}{6}$ b. ¿Qué letra representa mejor $\frac{6}{6}$ 1. B D2. B D3. A D4. A D5. B A6. C A7. C B8. A D