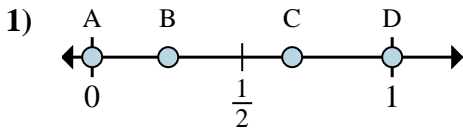




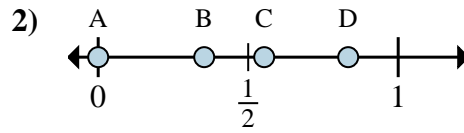
**Determina cuál letra mejor muestra la ubicación de la fracción.**

**Respuestas**



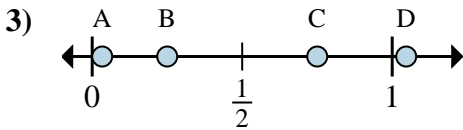
a. ¿Qué letra representa mejor  $\frac{0}{3}$

b. ¿Qué letra representa mejor  $\frac{2}{3}$



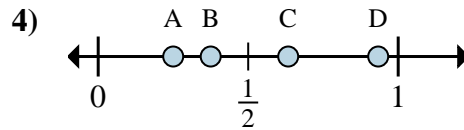
a. ¿Qué letra representa mejor  $\frac{0}{6}$

b. ¿Qué letra representa mejor  $\frac{5}{6}$



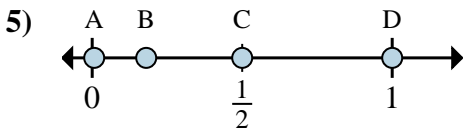
a. ¿Qué letra representa mejor  $\frac{3}{4}$

b. ¿Qué letra representa mejor  $\frac{1}{4}$



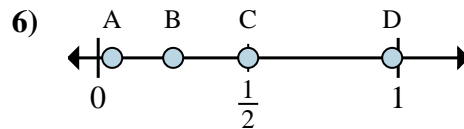
a. ¿Qué letra representa mejor  $\frac{2}{8}$

b. ¿Qué letra representa mejor  $\frac{3}{8}$



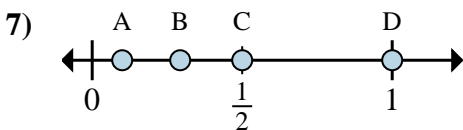
a. ¿Qué letra representa mejor  $\frac{2}{4}$

b. ¿Qué letra representa mejor  $\frac{4}{4}$



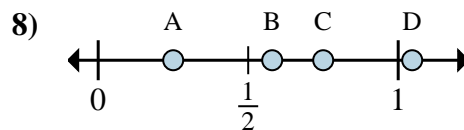
a. ¿Qué letra representa mejor  $\frac{1}{4}$

b. ¿Qué letra representa mejor  $\frac{2}{4}$



a. ¿Qué letra representa mejor  $\frac{1}{2}$

b. ¿Qué letra representa mejor  $\frac{2}{2}$



a. ¿Qué letra representa mejor  $\frac{1}{4}$

b. ¿Qué letra representa mejor  $\frac{3}{4}$

1. \_\_\_\_\_

2. \_\_\_\_\_

3. \_\_\_\_\_

4. \_\_\_\_\_

5. \_\_\_\_\_

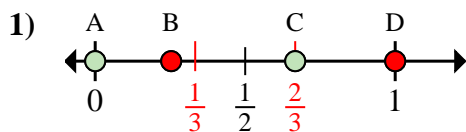
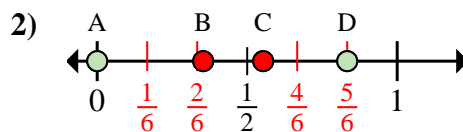
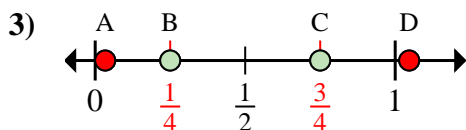
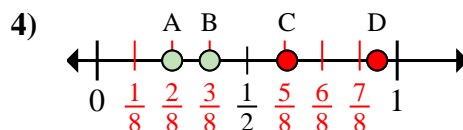
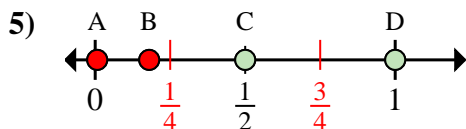
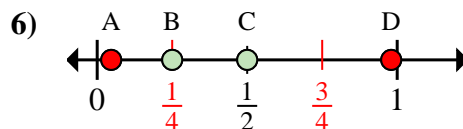
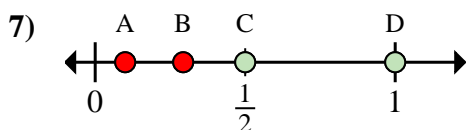
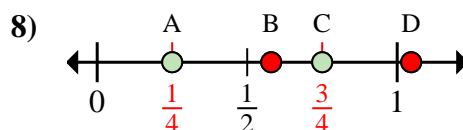
6. \_\_\_\_\_

7. \_\_\_\_\_

8. \_\_\_\_\_



Determina cuál letra mejor muestra la ubicación de la fracción.

**Respuestas**a. ¿Qué letra representa mejor  $\frac{0}{3}$ b. ¿Qué letra representa mejor  $\frac{2}{3}$ a. ¿Qué letra representa mejor  $\frac{0}{6}$ b. ¿Qué letra representa mejor  $\frac{5}{6}$ a. ¿Qué letra representa mejor  $\frac{3}{4}$ b. ¿Qué letra representa mejor  $\frac{1}{4}$ a. ¿Qué letra representa mejor  $\frac{2}{8}$ b. ¿Qué letra representa mejor  $\frac{3}{8}$ a. ¿Qué letra representa mejor  $\frac{2}{4}$ b. ¿Qué letra representa mejor  $\frac{4}{4}$ a. ¿Qué letra representa mejor  $\frac{1}{4}$ b. ¿Qué letra representa mejor  $\frac{2}{4}$ a. ¿Qué letra representa mejor  $\frac{1}{2}$ b. ¿Qué letra representa mejor  $\frac{2}{2}$ a. ¿Qué letra representa mejor  $\frac{1}{4}$ b. ¿Qué letra representa mejor  $\frac{3}{4}$ 1. A C2. A D3. C B4. A B5. C D6. B C7. C D8. A C