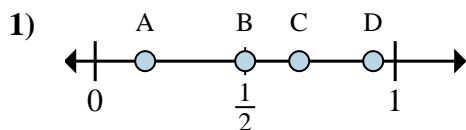
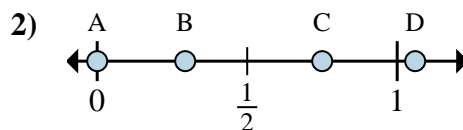
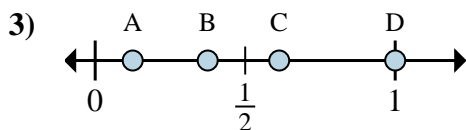
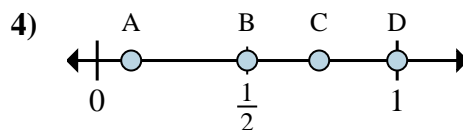
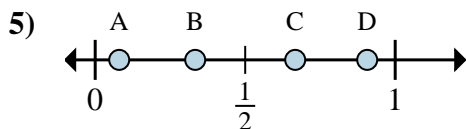
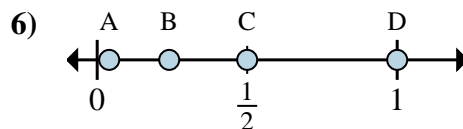
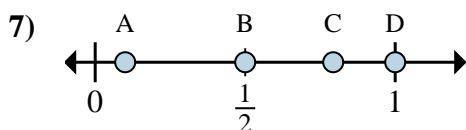
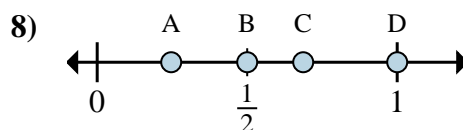


**Determina cuál letra mejor muestra la ubicación de la fracción.****Respuestas**a. ¿Qué letra representa mejor $\frac{1}{6}$ b. ¿Qué letra representa mejor $\frac{3}{6}$ a. ¿Qué letra representa mejor $\frac{0}{4}$ b. ¿Qué letra representa mejor $\frac{3}{4}$ a. ¿Qué letra representa mejor $\frac{1}{8}$ b. ¿Qué letra representa mejor $\frac{3}{8}$ a. ¿Qué letra representa mejor $\frac{2}{2}$ b. ¿Qué letra representa mejor $\frac{1}{2}$ a. ¿Qué letra representa mejor $\frac{1}{3}$ b. ¿Qué letra representa mejor $\frac{2}{3}$ a. ¿Qué letra representa mejor $\frac{2}{2}$ b. ¿Qué letra representa mejor $\frac{1}{2}$ a. ¿Qué letra representa mejor $\frac{1}{2}$ b. ¿Qué letra representa mejor $\frac{2}{2}$ a. ¿Qué letra representa mejor $\frac{1}{2}$ b. ¿Qué letra representa mejor $\frac{2}{2}$

1. _____

2. _____

3. _____

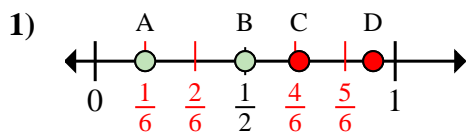
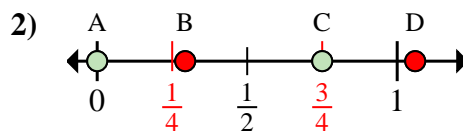
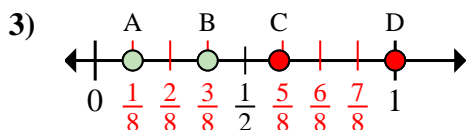
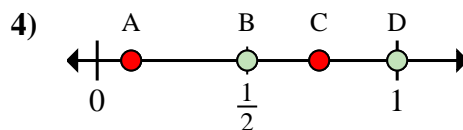
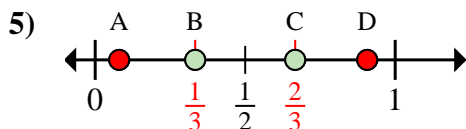
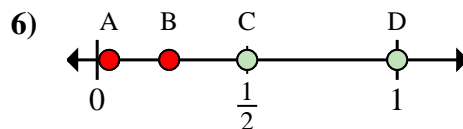
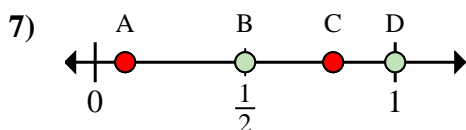
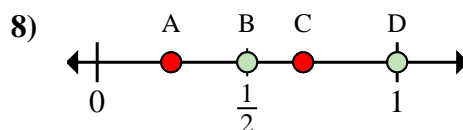
4. _____

5. _____

6. _____

7. _____

8. _____

**Determina cuál letra mejor muestra la ubicación de la fracción.****Respuestas**a. ¿Qué letra representa mejor $\frac{1}{6}$ b. ¿Qué letra representa mejor $\frac{3}{6}$ a. ¿Qué letra representa mejor $\frac{0}{4}$ b. ¿Qué letra representa mejor $\frac{3}{4}$ a. ¿Qué letra representa mejor $\frac{1}{8}$ b. ¿Qué letra representa mejor $\frac{3}{8}$ a. ¿Qué letra representa mejor $\frac{2}{2}$ b. ¿Qué letra representa mejor $\frac{1}{2}$ a. ¿Qué letra representa mejor $\frac{1}{3}$ b. ¿Qué letra representa mejor $\frac{2}{3}$ a. ¿Qué letra representa mejor $\frac{2}{2}$ b. ¿Qué letra representa mejor $\frac{1}{2}$ a. ¿Qué letra representa mejor $\frac{1}{2}$ b. ¿Qué letra representa mejor $\frac{2}{2}$ a. ¿Qué letra representa mejor $\frac{1}{2}$ b. ¿Qué letra representa mejor $\frac{2}{2}$ 1. **A** **B**2. **A** **C**3. **A** **B**4. **D** **B**5. **B** **C**6. **D** **C**7. **B** **D**8. **B** **D**