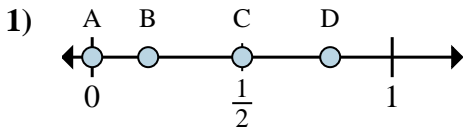
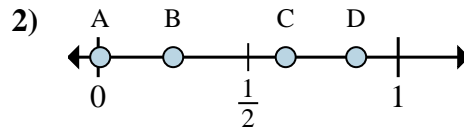
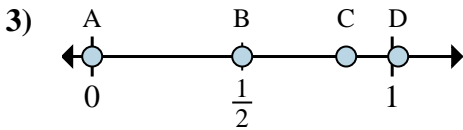
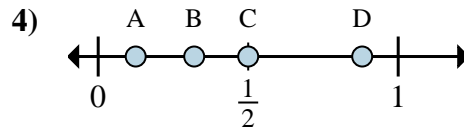
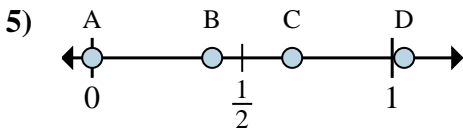
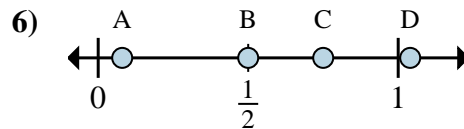
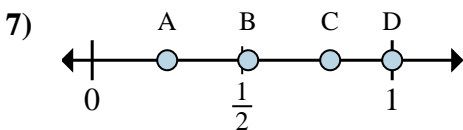
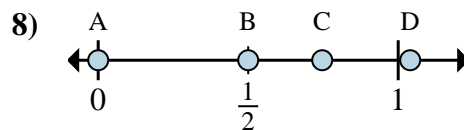


**Determina cuál letra mejor muestra la ubicación de la fracción.****Respuestas**a. ¿Qué letra representa mejor  $\frac{0}{2}$ b. ¿Qué letra representa mejor  $\frac{1}{2}$ a. ¿Qué letra representa mejor  $\frac{2}{8}$ b. ¿Qué letra representa mejor  $\frac{5}{8}$ a. ¿Qué letra representa mejor  $\frac{0}{6}$ b. ¿Qué letra representa mejor  $\frac{3}{6}$ a. ¿Qué letra representa mejor  $\frac{1}{8}$ b. ¿Qué letra representa mejor  $\frac{4}{8}$ a. ¿Qué letra representa mejor  $\frac{0}{3}$ b. ¿Qué letra representa mejor  $\frac{2}{3}$ a. ¿Qué letra representa mejor  $\frac{2}{4}$ b. ¿Qué letra representa mejor  $\frac{3}{4}$ a. ¿Qué letra representa mejor  $\frac{1}{4}$ b. ¿Qué letra representa mejor  $\frac{4}{4}$ a. ¿Qué letra representa mejor  $\frac{0}{2}$ b. ¿Qué letra representa mejor  $\frac{1}{2}$ 

1. \_\_\_\_\_

2. \_\_\_\_\_

3. \_\_\_\_\_

4. \_\_\_\_\_

5. \_\_\_\_\_

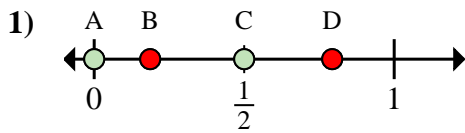
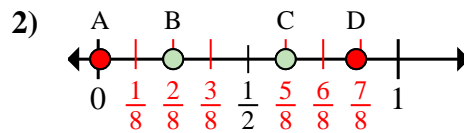
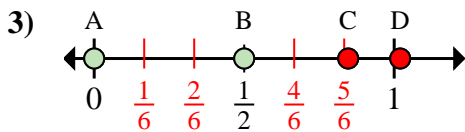
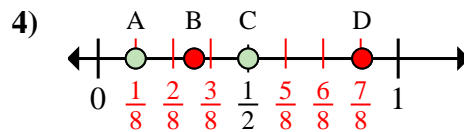
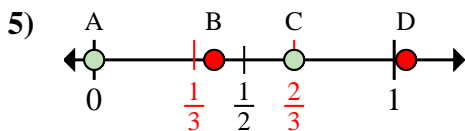
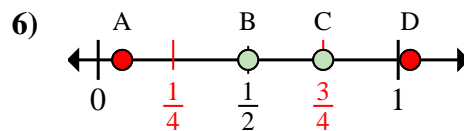
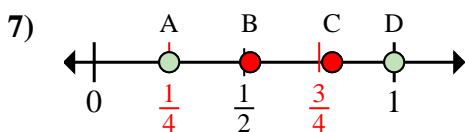
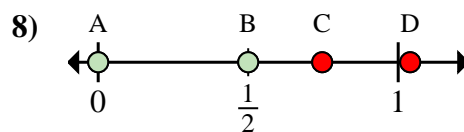
6. \_\_\_\_\_

7. \_\_\_\_\_

8. \_\_\_\_\_



Determina cuál letra mejor muestra la ubicación de la fracción.

**Respuestas**a. ¿Qué letra representa mejor  $\frac{0}{2}$ b. ¿Qué letra representa mejor  $\frac{1}{2}$ a. ¿Qué letra representa mejor  $\frac{2}{8}$ b. ¿Qué letra representa mejor  $\frac{5}{8}$ a. ¿Qué letra representa mejor  $\frac{0}{6}$ b. ¿Qué letra representa mejor  $\frac{3}{6}$ a. ¿Qué letra representa mejor  $\frac{1}{8}$ b. ¿Qué letra representa mejor  $\frac{4}{8}$ a. ¿Qué letra representa mejor  $\frac{0}{3}$ b. ¿Qué letra representa mejor  $\frac{2}{3}$ a. ¿Qué letra representa mejor  $\frac{2}{4}$ b. ¿Qué letra representa mejor  $\frac{3}{4}$ a. ¿Qué letra representa mejor  $\frac{1}{4}$ b. ¿Qué letra representa mejor  $\frac{4}{4}$ a. ¿Qué letra representa mejor  $\frac{0}{2}$ b. ¿Qué letra representa mejor  $\frac{1}{2}$ 1. A C2. B C3. A B4. A C5. A C6. B C7. A D8. A B