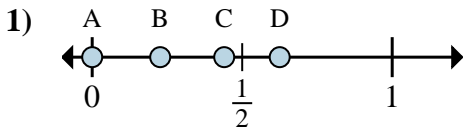
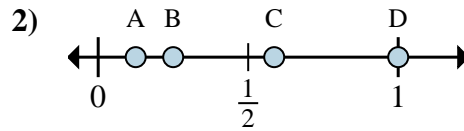
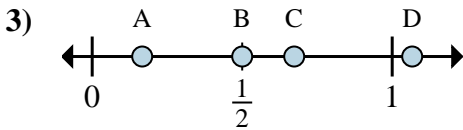
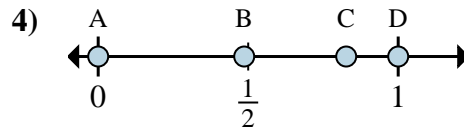
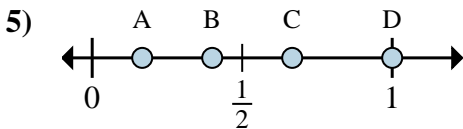
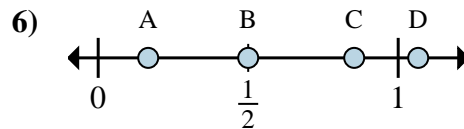
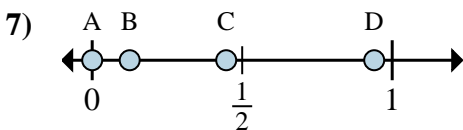
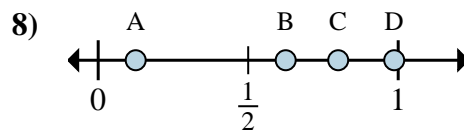


**Determina cuál letra mejor muestra la ubicación de la fracción.****Respuestas**a. ¿Qué letra representa mejor  $\frac{0}{8}$ b. ¿Qué letra representa mejor  $\frac{5}{8}$ a. ¿Qué letra representa mejor  $\frac{1}{8}$ b. ¿Qué letra representa mejor  $\frac{2}{8}$ a. ¿Qué letra representa mejor  $\frac{1}{6}$ b. ¿Qué letra representa mejor  $\frac{3}{6}$ a. ¿Qué letra representa mejor  $\frac{0}{2}$ b. ¿Qué letra representa mejor  $\frac{2}{2}$ a. ¿Qué letra representa mejor  $\frac{3}{3}$ b. ¿Qué letra representa mejor  $\frac{2}{3}$ a. ¿Qué letra representa mejor  $\frac{3}{6}$ b. ¿Qué letra representa mejor  $\frac{1}{6}$ a. ¿Qué letra representa mejor  $\frac{0}{8}$ b. ¿Qué letra representa mejor  $\frac{1}{8}$ a. ¿Qué letra representa mejor  $\frac{5}{8}$ b. ¿Qué letra representa mejor  $\frac{1}{8}$ 

1. \_\_\_\_\_

2. \_\_\_\_\_

3. \_\_\_\_\_

4. \_\_\_\_\_

5. \_\_\_\_\_

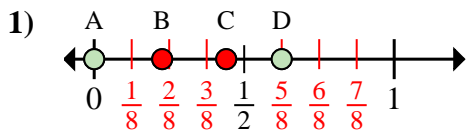
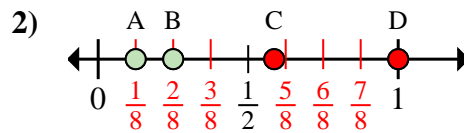
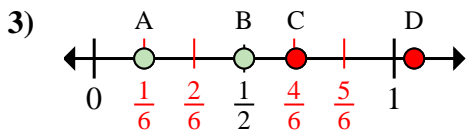
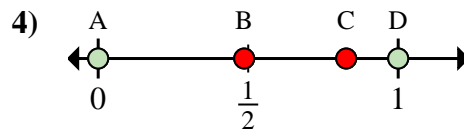
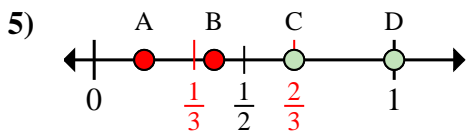
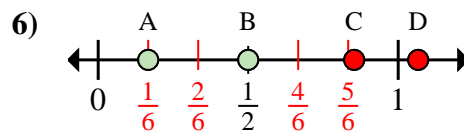
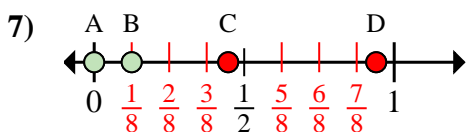
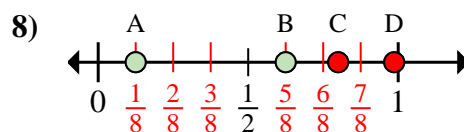
6. \_\_\_\_\_

7. \_\_\_\_\_

8. \_\_\_\_\_



Determina cuál letra mejor muestra la ubicación de la fracción.

**Respuestas**a. ¿Qué letra representa mejor  $\frac{0}{8}$ b. ¿Qué letra representa mejor  $\frac{5}{8}$ a. ¿Qué letra representa mejor  $\frac{1}{8}$ b. ¿Qué letra representa mejor  $\frac{2}{8}$ a. ¿Qué letra representa mejor  $\frac{1}{6}$ b. ¿Qué letra representa mejor  $\frac{3}{6}$ a. ¿Qué letra representa mejor  $\frac{0}{2}$ b. ¿Qué letra representa mejor  $\frac{2}{2}$ a. ¿Qué letra representa mejor  $\frac{3}{3}$ b. ¿Qué letra representa mejor  $\frac{2}{3}$ a. ¿Qué letra representa mejor  $\frac{3}{6}$ b. ¿Qué letra representa mejor  $\frac{1}{6}$ a. ¿Qué letra representa mejor  $\frac{0}{8}$ b. ¿Qué letra representa mejor  $\frac{1}{8}$ a. ¿Qué letra representa mejor  $\frac{5}{8}$ b. ¿Qué letra representa mejor  $\frac{1}{8}$ 1. **A** **D**2. **A** **B**3. **A** **B**4. **A** **D**5. **D** **C**6. **B** **A**7. **A** **B**8. **B** **A**