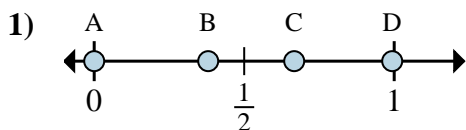




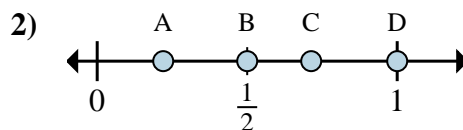
Determina cuál letra mejor muestra la ubicación de la fracción.

Respuestas



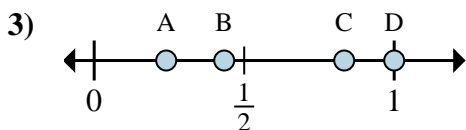
a. ¿Qué letra representa mejor $\frac{0}{3}$

b. ¿Qué letra representa mejor $\frac{2}{3}$



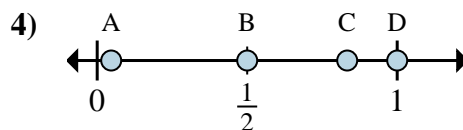
a. ¿Qué letra representa mejor $\frac{2}{2}$

b. ¿Qué letra representa mejor $\frac{1}{2}$



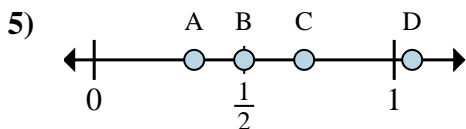
a. ¿Qué letra representa mejor $\frac{6}{6}$

b. ¿Qué letra representa mejor $\frac{5}{6}$



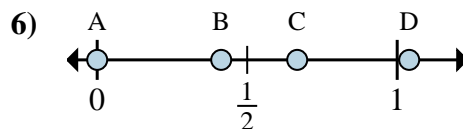
a. ¿Qué letra representa mejor $\frac{6}{6}$

b. ¿Qué letra representa mejor $\frac{5}{6}$



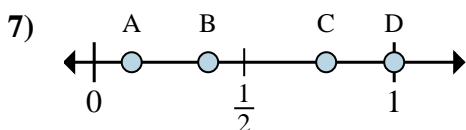
a. ¿Qué letra representa mejor $\frac{2}{6}$

b. ¿Qué letra representa mejor $\frac{3}{6}$



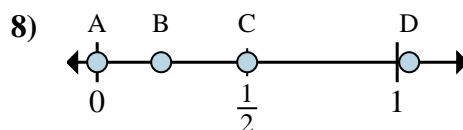
a. ¿Qué letra representa mejor $\frac{0}{3}$

b. ¿Qué letra representa mejor $\frac{2}{3}$



a. ¿Qué letra representa mejor $\frac{8}{8}$

b. ¿Qué letra representa mejor $\frac{1}{8}$



a. ¿Qué letra representa mejor $\frac{0}{4}$

b. ¿Qué letra representa mejor $\frac{2}{4}$

1. _____

2. _____

3. _____

4. _____

5. _____

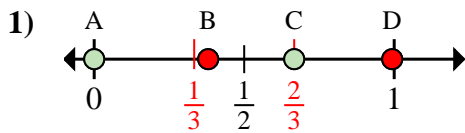
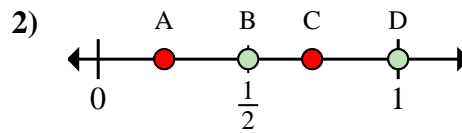
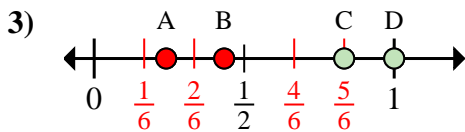
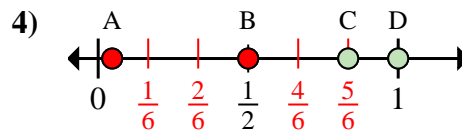
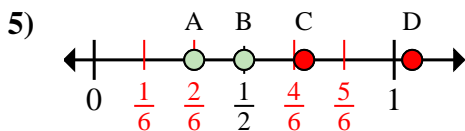
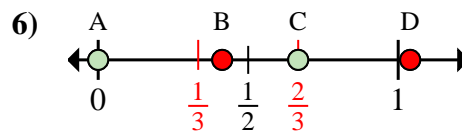
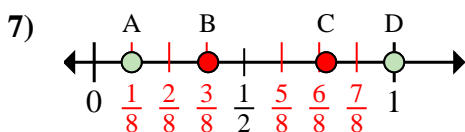
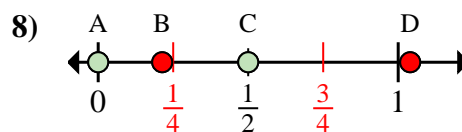
6. _____

7. _____

8. _____



Determina cuál letra mejor muestra la ubicación de la fracción.

Respuestasa. ¿Qué letra representa mejor $\frac{0}{3}$ b. ¿Qué letra representa mejor $\frac{2}{3}$ a. ¿Qué letra representa mejor $\frac{2}{2}$ b. ¿Qué letra representa mejor $\frac{1}{2}$ a. ¿Qué letra representa mejor $\frac{6}{6}$ b. ¿Qué letra representa mejor $\frac{5}{6}$ a. ¿Qué letra representa mejor $\frac{6}{6}$ b. ¿Qué letra representa mejor $\frac{5}{6}$ a. ¿Qué letra representa mejor $\frac{2}{6}$ b. ¿Qué letra representa mejor $\frac{3}{6}$ a. ¿Qué letra representa mejor $\frac{0}{3}$ b. ¿Qué letra representa mejor $\frac{2}{3}$ a. ¿Qué letra representa mejor $\frac{8}{8}$ b. ¿Qué letra representa mejor $\frac{1}{8}$ a. ¿Qué letra representa mejor $\frac{0}{4}$ b. ¿Qué letra representa mejor $\frac{2}{4}$ 1. A C2. D B3. D C4. D C5. A B6. A C7. D A8. A C