



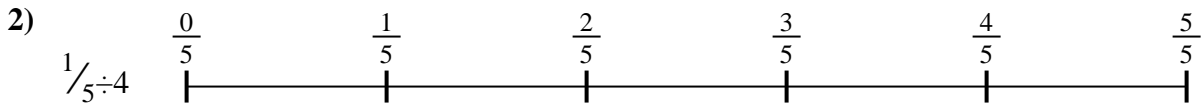
Usa la línea numérica para resolver cada problema. El primero ya está hecho como ejemplo

**Respuestas**



1. \_\_\_\_\_

2. \_\_\_\_\_



3. \_\_\_\_\_

4. \_\_\_\_\_



5. \_\_\_\_\_

6. \_\_\_\_\_

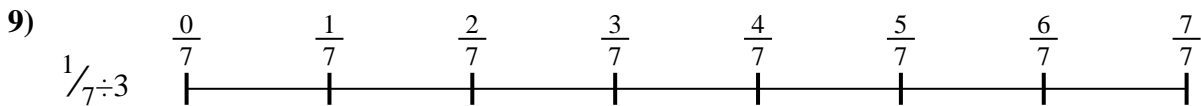


7. \_\_\_\_\_

8. \_\_\_\_\_



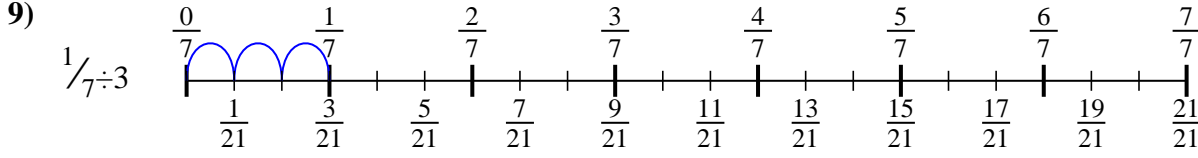
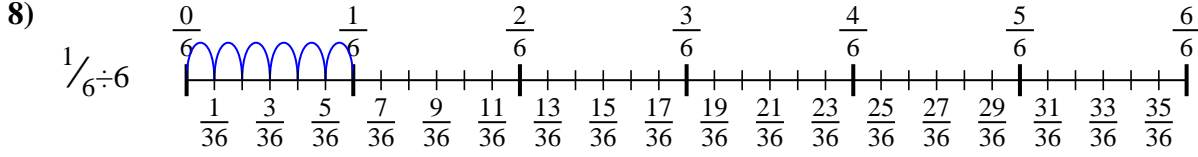
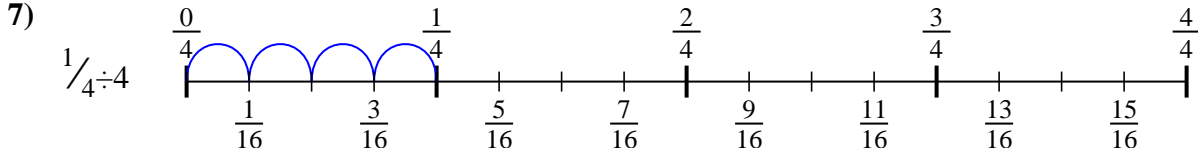
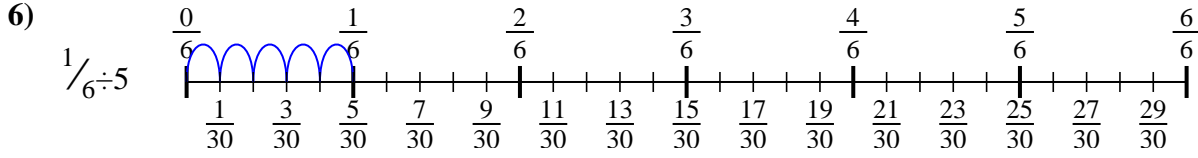
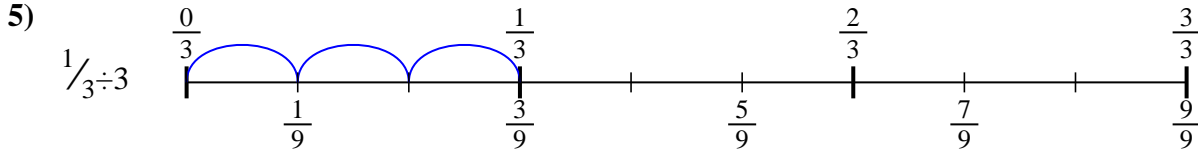
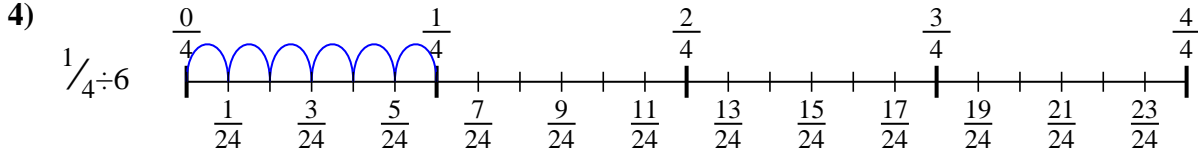
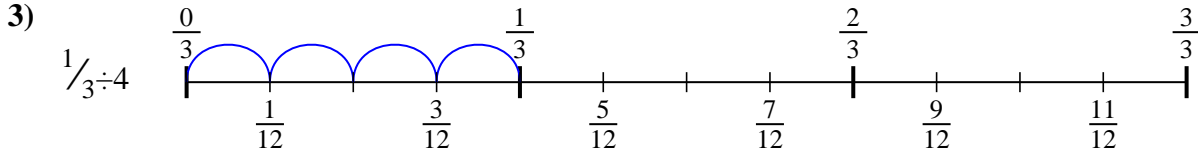
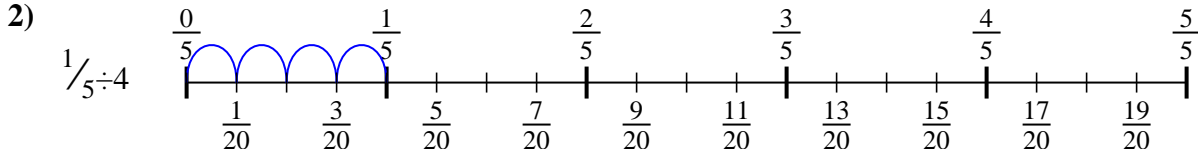
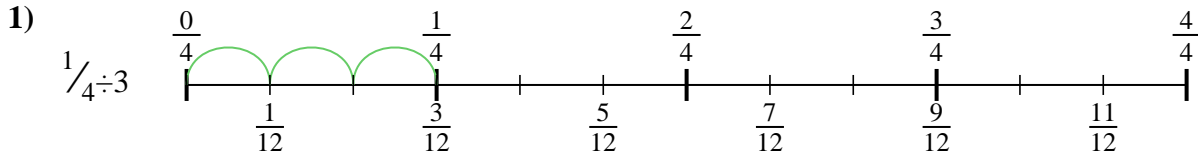
9. \_\_\_\_\_





Usa la línea numérica para resolver cada problema. El primero ya está hecho como ejemplo

**Respuestas**



1.  $\frac{1}{12}$
2.  $\frac{1}{20}$
3.  $\frac{1}{12}$
4.  $\frac{1}{24}$
5.  $\frac{1}{9}$
6.  $\frac{1}{30}$
7.  $\frac{1}{16}$
8.  $\frac{1}{36}$
9.  $\frac{1}{21}$



Usa la línea numérica para resolver cada problema. El primero ya está hecho como ejemplo

**Respuestas**

$\frac{1}{24}$

$\frac{1}{12}$

$\frac{1}{12}$

$\frac{1}{9}$

$\frac{1}{20}$

$\frac{1}{30}$

$\frac{1}{21}$

$\frac{1}{16}$

$\frac{1}{36}$

1. \_\_\_\_\_

2. \_\_\_\_\_

3. \_\_\_\_\_

4. \_\_\_\_\_

5. \_\_\_\_\_

6. \_\_\_\_\_

7. \_\_\_\_\_

8. \_\_\_\_\_

9. \_\_\_\_\_

