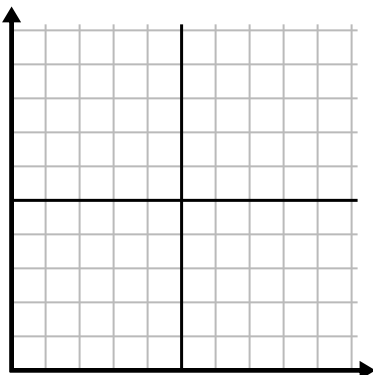




Complete la cuadrícula utilizando la gráfica.

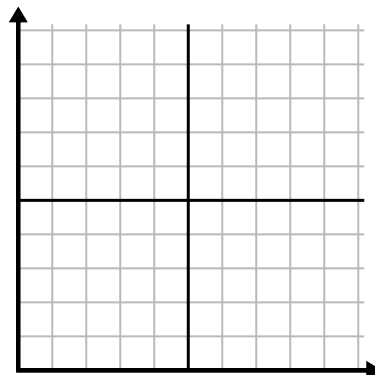
1)

Año	1	2	3	4	5	6	7
Cartuchos de tinta usados	20	12	2	16	10	4	8



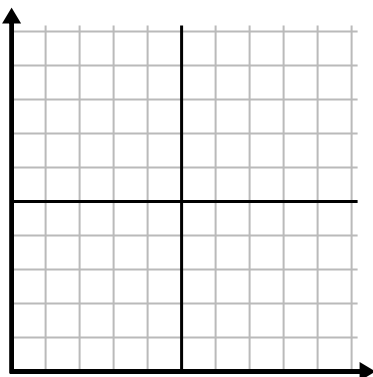
2)

Hora	1	2	3	4	5	6	7
Cantidad vendida	3	4	8	1	7	6	10



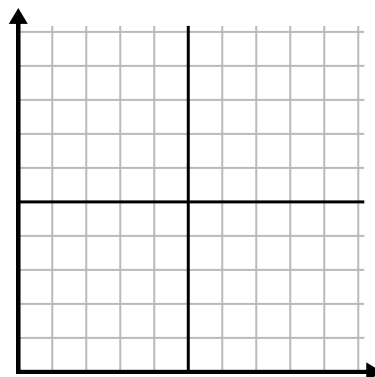
3)

Día	1	2	3	4	5	6
Comidas vendidas	800	100	500	600	900	200



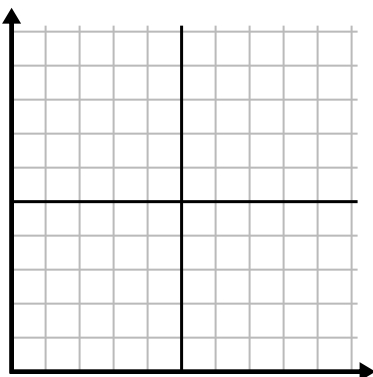
4)

Mes	1	2	3	4	5
Precio de la factura eléctrica	50	25	225	100	175



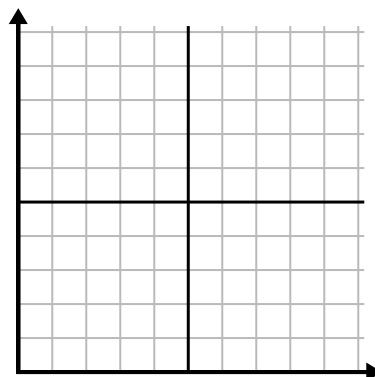
5)

Día	1	2	3	4	5	6
Mensajes enviados	20	15	40	5	30	50



6)

Año	1	2	3	4	5	6	7
Cajas de bolígrafos utilizados	2	8	5	10	6	1	9

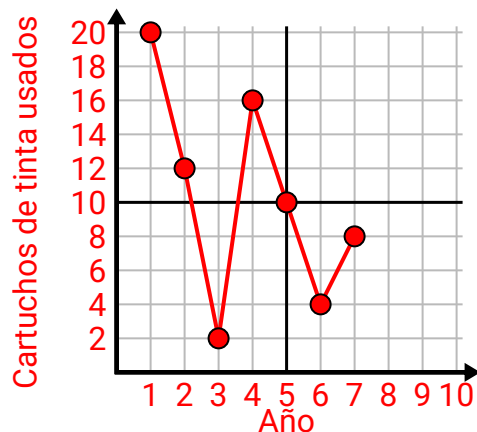




Complete la cuadrícula utilizando la gráfica.

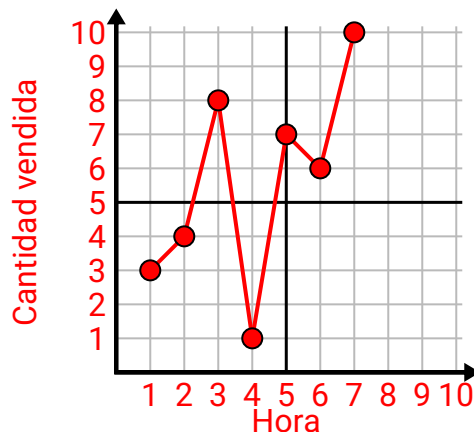
1)

Año	1	2	3	4	5	6	7
Cartuchos de tinta usados	20	12	2	16	10	4	8



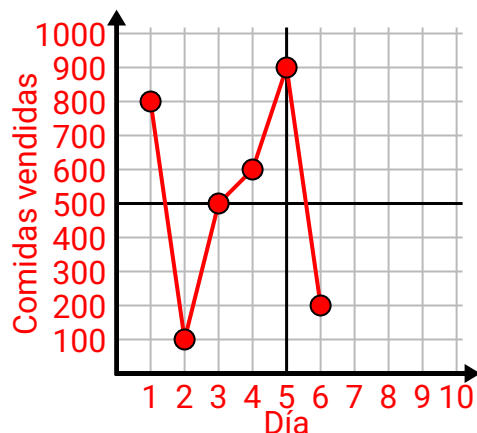
2)

Hora	1	2	3	4	5	6	7
Cantidad vendida	3	4	8	1	7	6	10



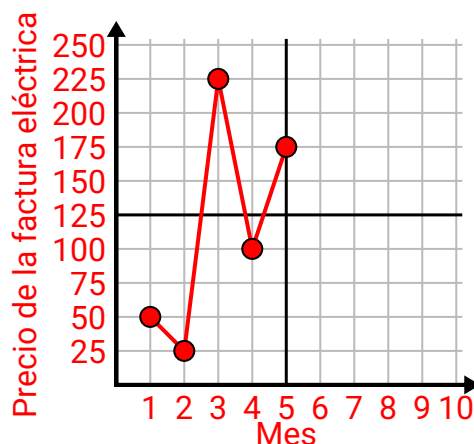
3)

Día	1	2	3	4	5	6
Comidas vendidas	800	100	500	600	900	200



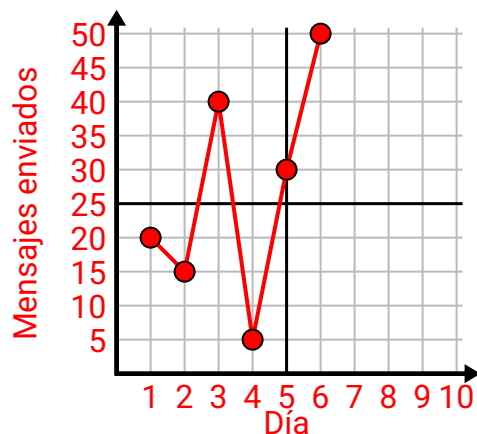
4)

Mes	1	2	3	4	5
Precio de la factura eléctrica	50	25	225	100	175



5)

Día	1	2	3	4	5	6
Mensajes enviados	20	15	40	5	30	50



6)

Año	1	2	3	4	5	6	7
Cajas de bolígrafos utilizados	2	8	5	10	6	1	9

