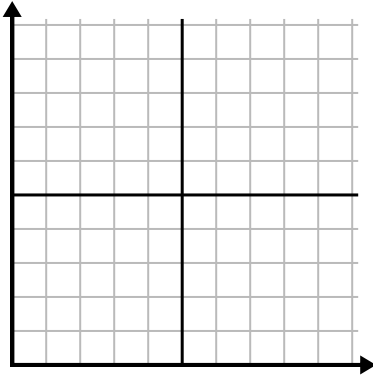




Complete la cuadrícula utilizando la gráfica.

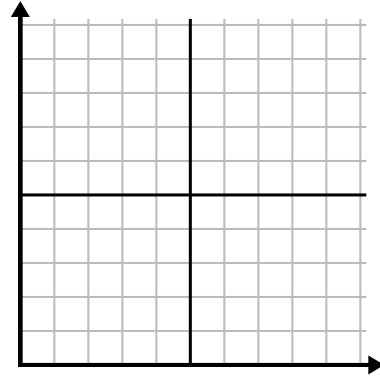
1)

Día	1	2	3	4	5
Comidas vendidas	1,000	300	900	100	700



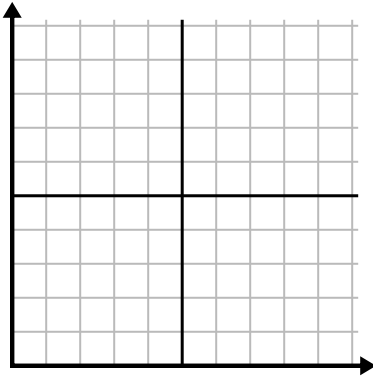
2)

Día	1	2	3	4	5	6
Mensajes enviados	40	30	50	15	25	10



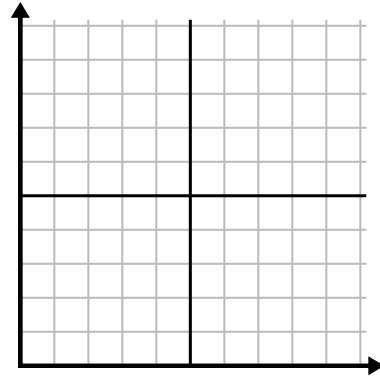
3)

Año	1	2	3	4	5	6
Cajas de bolígrafos utilizados	10	3	9	1	2	6



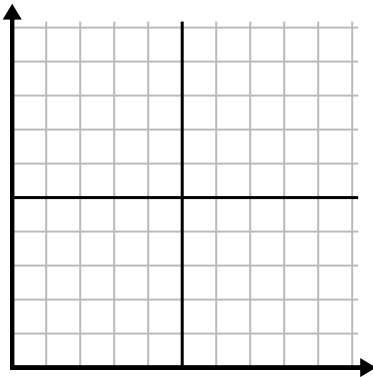
4)

Año	1	2	3	4	5
Cartuchos de tinta usados	2	18	4	20	12



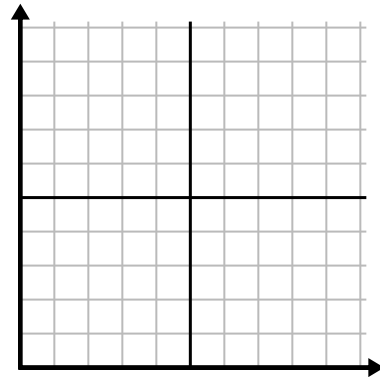
5)

Hora	1	2	3	4	5	6
Cantidad vendida	6	5	3	4	7	9



6)

Semana	1	2	3	4	5	6
Agua usada (galones)	10	60	80	70	20	40

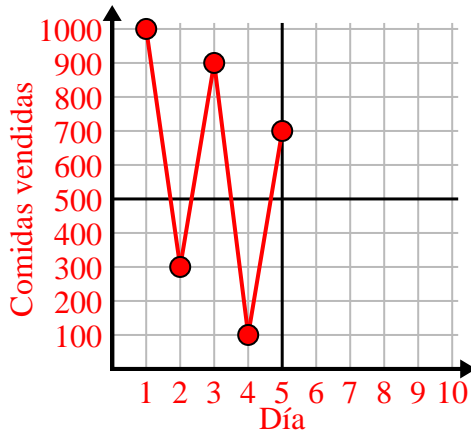




Complete la cuadrícula utilizando la gráfica.

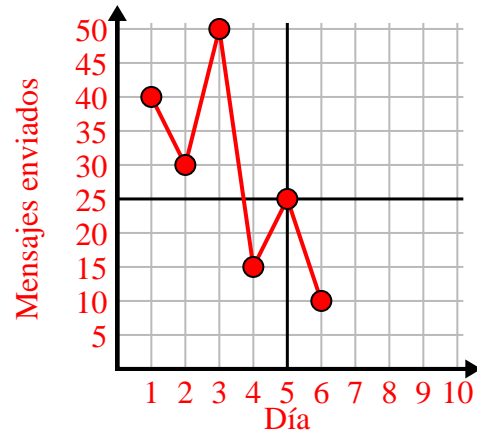
1)

Día	1	2	3	4	5
Comidas vendidas	1,000	300	900	100	700



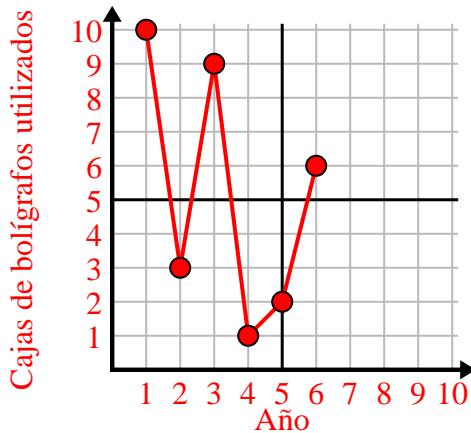
2)

Día	1	2	3	4	5	6
Mensajes enviados	40	30	50	15	25	10



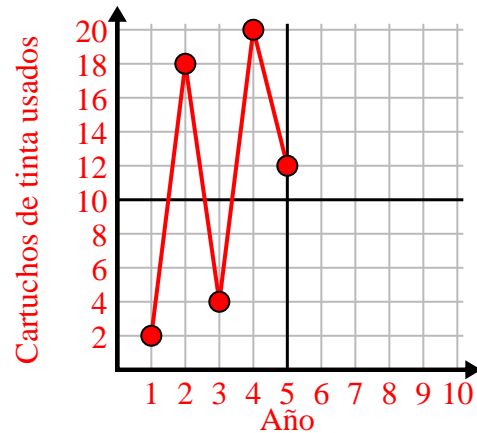
3)

Año	1	2	3	4	5	6
Cajas de bolígrafos utilizados	10	3	9	1	2	6



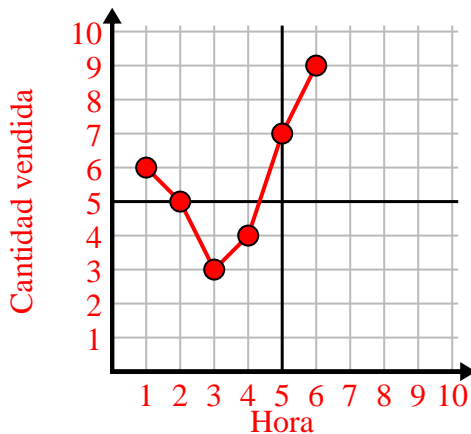
4)

Año	1	2	3	4	5
Cartuchos de tinta usados	2	18	4	20	12



5)

Hora	1	2	3	4	5	6
Cantidad vendida	6	5	3	4	7	9



6)

Semana	1	2	3	4	5	6
Agua usada (galones)	10	60	80	70	20	40

