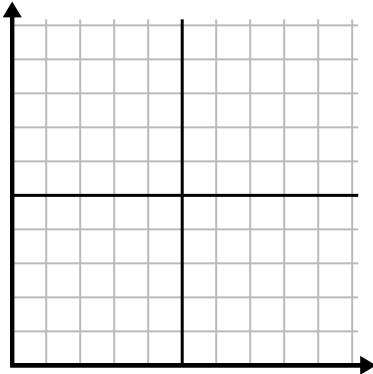




Complete la cuadrícula utilizando la gráfica.

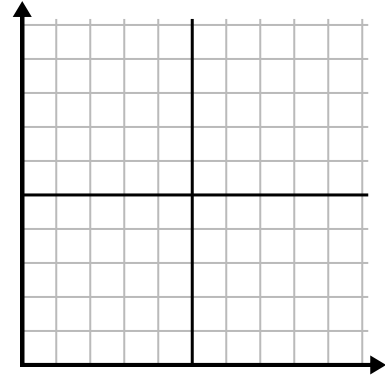
1)

Mes	1	2	3	4	5	6	7
Precio de la factura eléctrica	125	200	250	150	25	50	100



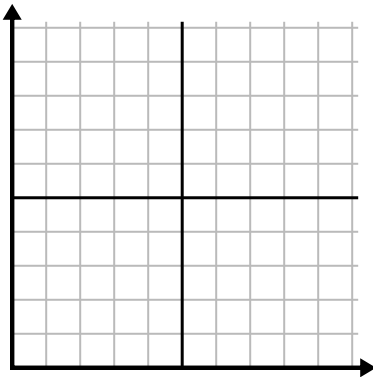
2)

Año	1	2	3	4	5
Cajas de bolígrafos utilizados	3	5	2	9	8



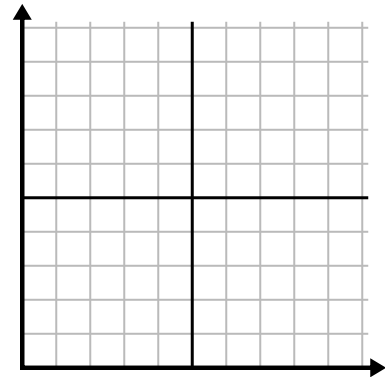
3)

Día	1	2	3	4	5
Vídeos de Youtube vistos	300	240	90	120	180



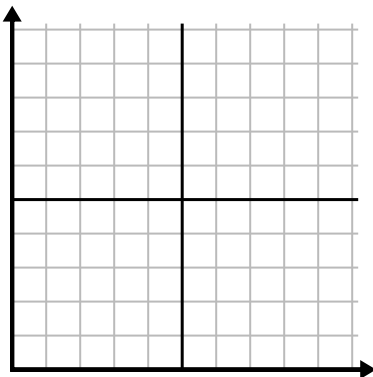
4)

Semana	1	2	3	4	5	6
Horas de televisión vistas	35	5	30	50	40	10



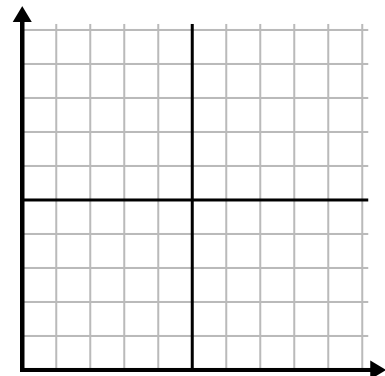
5)

Día	1	2	3	4	5
Calorías quemadas	20	200	100	120	140



6)

Semana	1	2	3	4	5	6	7
Agua usada (galones)	50	70	30	40	20	90	60

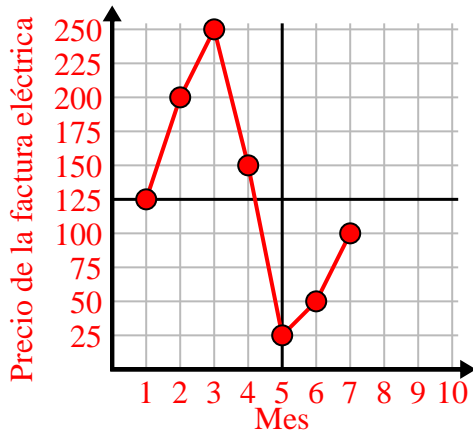




Complete la cuadrícula utilizando la gráfica.

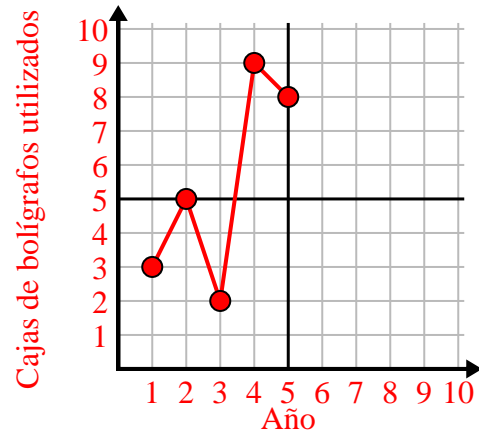
1)

Mes	1	2	3	4	5	6	7
Precio de la factura eléctrica	125	200	250	150	25	50	100



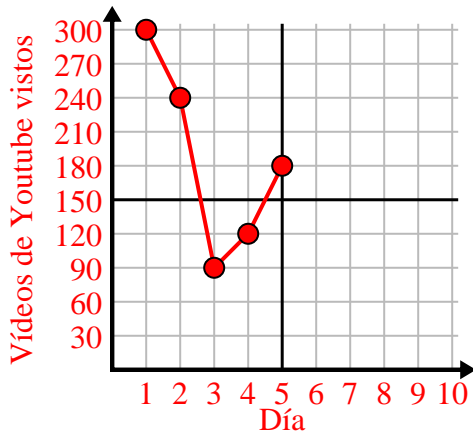
2)

Año	1	2	3	4	5
Cajas de bolígrafos utilizados	3	5	2	9	8



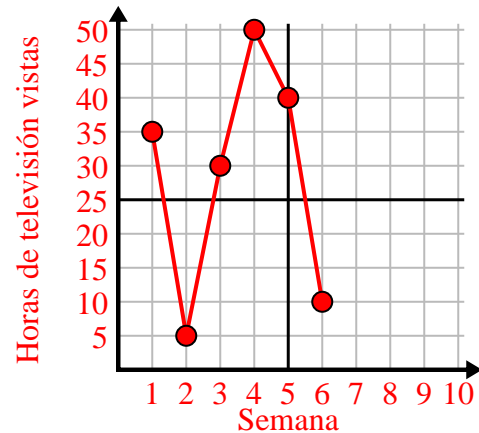
3)

Día	1	2	3	4	5
Vídeos de Youtube vistos	300	240	90	120	180



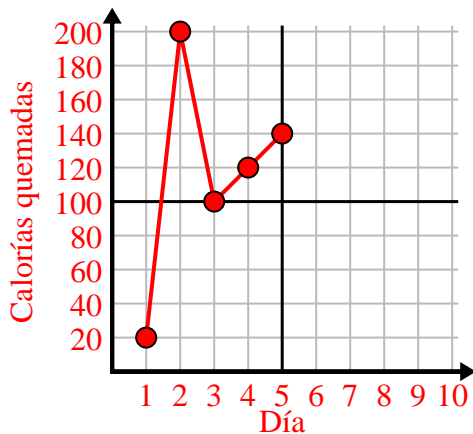
4)

Semana	1	2	3	4	5	6
Horas de televisión vistas	35	5	30	50	40	10



5)

Día	1	2	3	4	5
Calorías quemadas	20	200	100	120	140



6)

Semana	1	2	3	4	5	6	7
Agua usada (galones)	50	70	30	40	20	90	60

