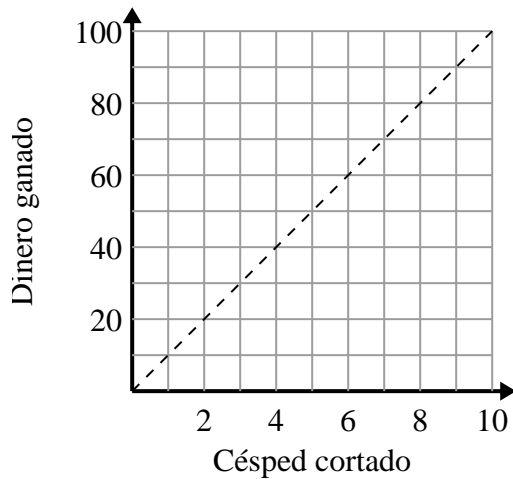




Determina qué afirmaciones sobre la gráfica son verdaderas.

### Respuestas

1)



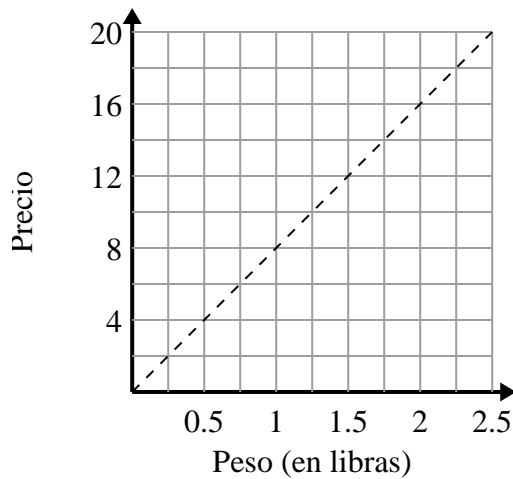
- A. El punto (90 , 9) muestra que cortar 9 céspedes te hará ganar \$90.
- B. El punto (10 , 1) muestra que podrías ganar \$10 por cortar 1 césped.
- C. El punto (8 , 80) muestra que cortar 8 céspedes te hará ganar \$80.
- D. El punto (1 , 10) muestra que cortar 1 césped te hará ganar \$10.

1. \_\_\_\_\_

2. \_\_\_\_\_

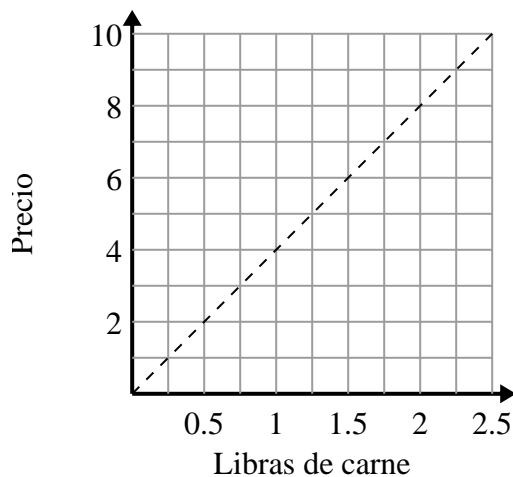
3. \_\_\_\_\_

2)



- A. El punto (1.75 , 14) muestra que costaría \$14 por 1.75 libras.
- B. El punto (2 , 16) muestra que 2 libras costarán \$ 16.
- C. El punto (4 , 0.5) muestra que 0.5 libras costarán \$ 4.
- D. El punto (6 , 0.75) muestra que costaría \$6 por 0.75 libras.

3)



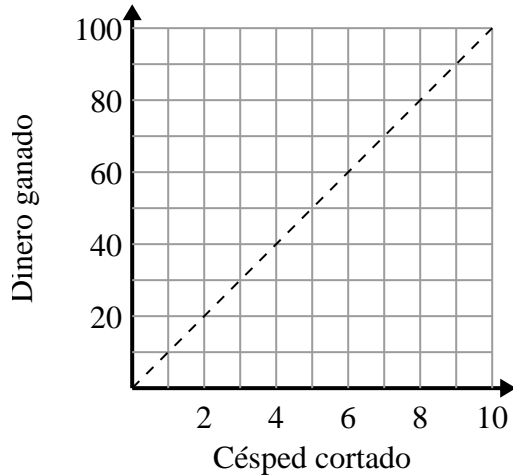
- A. El punto (8 , 2) muestra que con \$8 se compran 2 libras de carne.
- B. El punto (4 , 1) muestra que comprar 1 libras de carne cuesta \$4.
- C. El punto (3 , 0.75) muestra que comprar 0.75 libras de carne cuesta \$3.
- D. El punto (0.75 , 3) muestra que con \$3 se compran 0.75 libras de carne.



Determina qué afirmaciones sobre la gráfica son verdaderas.

**Respuestas**

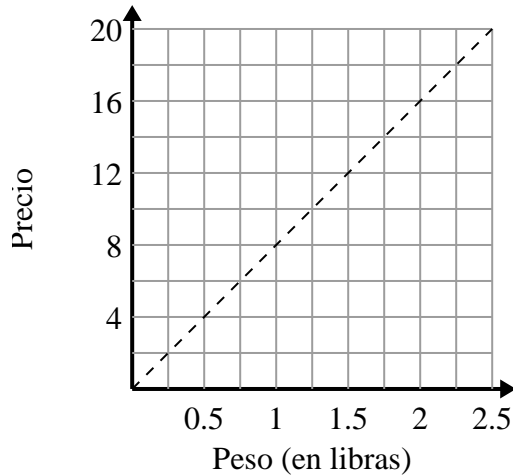
1)



- A. El punto (90 , 9) muestra que cortar 9 céspedes te hará ganar \$90.
- B. El punto (10 , 1) muestra que podrías ganar \$10 por cortar 1 césped.
- C. El punto (8 , 80) muestra que cortar 8 céspedes te hará ganar \$80.
- D. El punto (1 , 10) muestra que cortar 1 césped te hará ganar \$10.

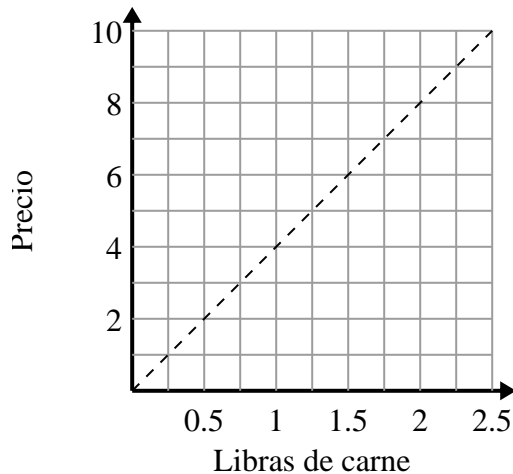
1. **C,D**2. **A,B**3. **D**

2)



- A. El punto (1.75 , 14) muestra que costaría \$14 por 1.75 libras.
- B. El punto (2 , 16) muestra que 2 libras costarán \$ 16.
- C. El punto (4 , 0.5) muestra que 0.5 libras costarán \$ 4.
- D. El punto (6 , 0.75) muestra que costaría \$6 por 0.75 libras.

3)



- A. El punto (8 , 2) muestra que con \$8 se compran 2 libras de carne.
- B. El punto (4 , 1) muestra que comprar 1 libras de carne cuesta \$4.
- C. El punto (3 , 0.75) muestra que comprar 0.75 libras de carne cuesta \$3.
- D. El punto (0.75 , 3) muestra que con \$3 se compran 0.75 libras de carne.