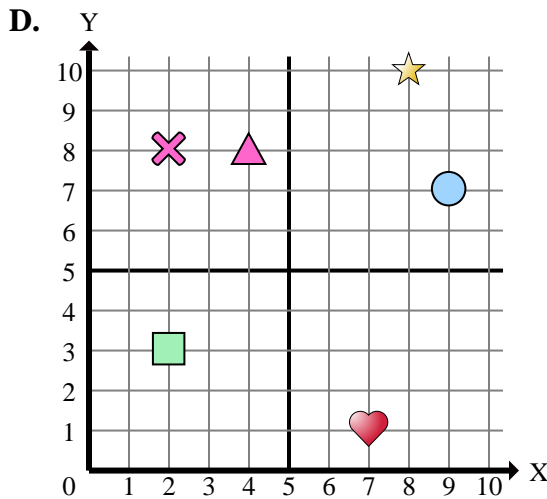
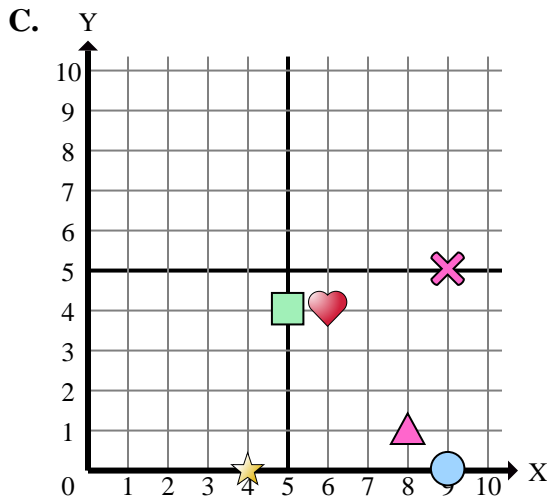
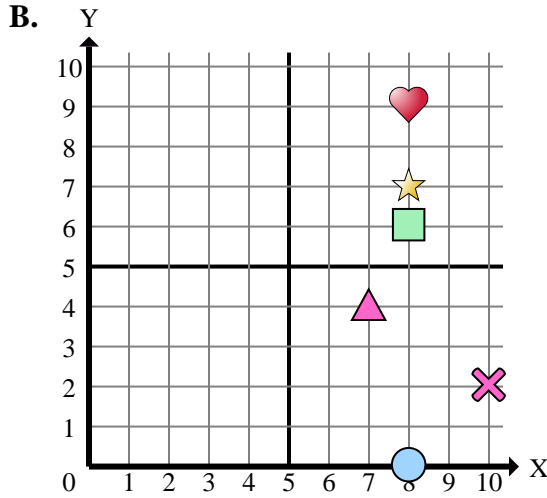
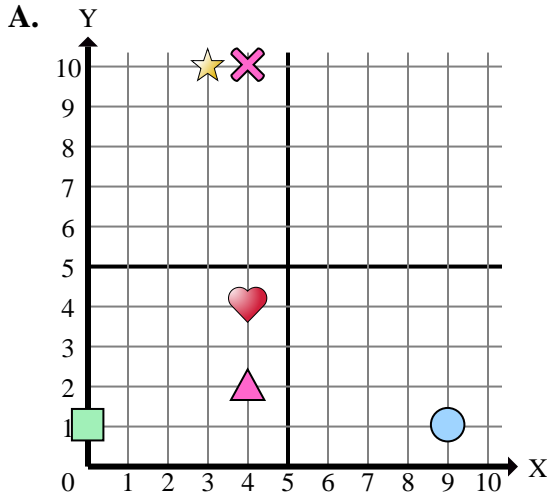




Determinar cuál plano cartesiano corresponde a cada pregunta.



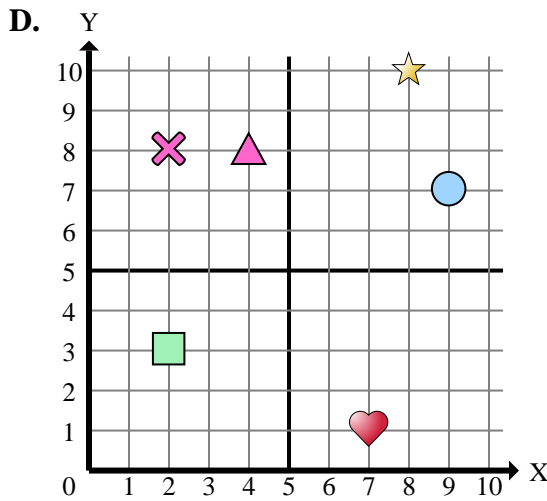
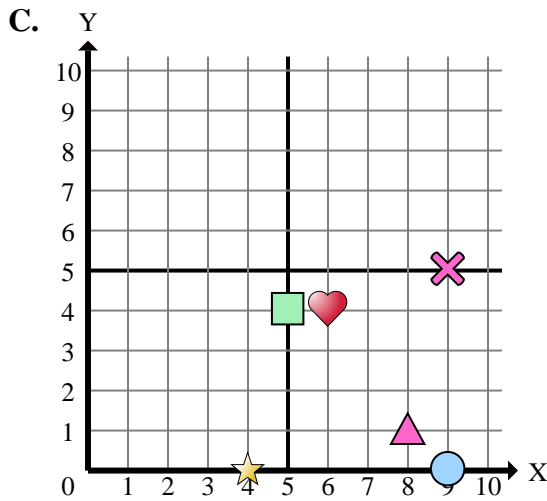
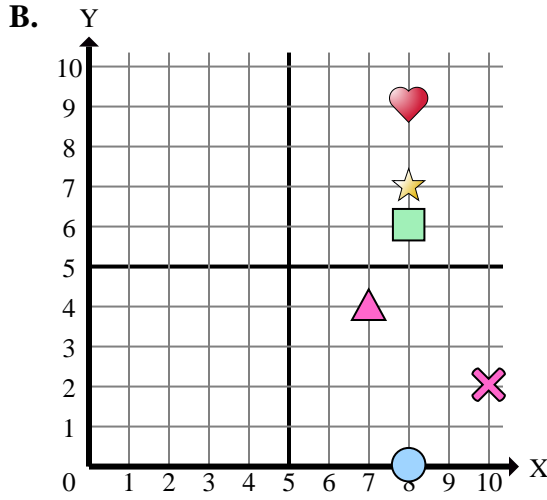
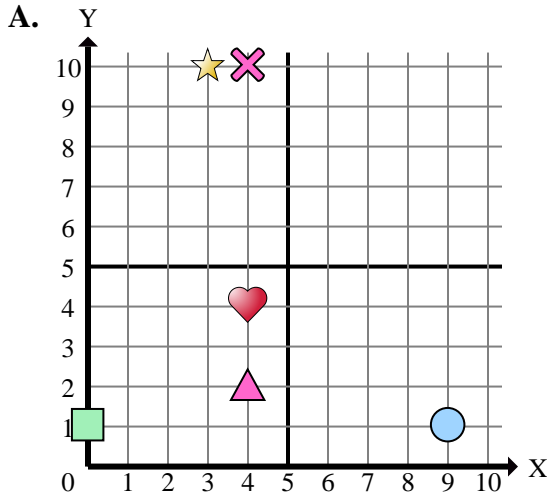
**Respuestas**

1. \_\_\_\_\_
2. \_\_\_\_\_
3. \_\_\_\_\_
4. \_\_\_\_\_
5. \_\_\_\_\_
6. \_\_\_\_\_
7. \_\_\_\_\_
8. \_\_\_\_\_
9. \_\_\_\_\_
10. \_\_\_\_\_
11. \_\_\_\_\_
12. \_\_\_\_\_
13. \_\_\_\_\_
14. \_\_\_\_\_
15. \_\_\_\_\_

- 1) ¿Qué coordenadas del plano tiene una forma en (4 , 0)?
- 2) ¿Qué coordenadas del plano tiene una forma en (3 , 10)?
- 3) ¿Qué coordenadas del plano tiene una forma en (4 , 8)?
- 4) ¿Qué coordenadas del plano tiene una forma en (4 , 4)?
- 5) ¿Qué coordenadas del plano tiene una forma en (10 , 2)?
- 6) ¿Qué coordenadas del plano tiene una forma en (8 , 6)?
- 7) ¿Qué coordenadas del plano tiene una forma en (4 , 2)?
- 8) ¿Qué coordenadas del plano tiene una forma en (4 , 10)?
- 9) ¿Qué coordenadas del plano tiene una forma en (8 , 0)?
- 10) ¿Qué coordenadas del plano tiene una forma en (8 , 1)?
- 11) ¿Qué coordenadas del plano tiene una forma en (2 , 3)?
- 12) ¿Qué coordenadas del plano tiene una forma en (8 , 10)?
- 13) ¿Qué coordenadas del plano tiene una forma en (6 , 4)?
- 14) ¿Qué coordenadas del plano tiene una forma en (9 , 0)?
- 15) ¿Qué coordenadas del plano tiene una forma en (9 , 7)?



Determinar cuál plano cartesiano corresponde a cada pregunta.



- 1) ¿Qué coordenadas del plano tiene una forma en (4 , 0)?
- 2) ¿Qué coordenadas del plano tiene una forma en (3 , 10)?
- 3) ¿Qué coordenadas del plano tiene una forma en (4 , 8)?
- 4) ¿Qué coordenadas del plano tiene una forma en (4 , 4)?
- 5) ¿Qué coordenadas del plano tiene una forma en (10 , 2)?
- 6) ¿Qué coordenadas del plano tiene una forma en (8 , 6)?
- 7) ¿Qué coordenadas del plano tiene una forma en (4 , 2)?
- 8) ¿Qué coordenadas del plano tiene una forma en (4 , 10)?
- 9) ¿Qué coordenadas del plano tiene una forma en (8 , 0)?
- 10) ¿Qué coordenadas del plano tiene una forma en (8 , 1)?
- 11) ¿Qué coordenadas del plano tiene una forma en (2 , 3)?
- 12) ¿Qué coordenadas del plano tiene una forma en (8 , 10)?
- 13) ¿Qué coordenadas del plano tiene una forma en (6 , 4)?
- 14) ¿Qué coordenadas del plano tiene una forma en (9 , 0)?
- 15) ¿Qué coordenadas del plano tiene una forma en (9 , 7)?

**Respuestas**

1.           **C**
2.           **A**
3.           **D**
4.           **A**
5.           **B**
6.           **B**
7.           **A**
8.           **A**
9.           **B**
10.          **C**
11.          **D**
12.          **D**
13.          **C**
14.          **C**
15.          **D**