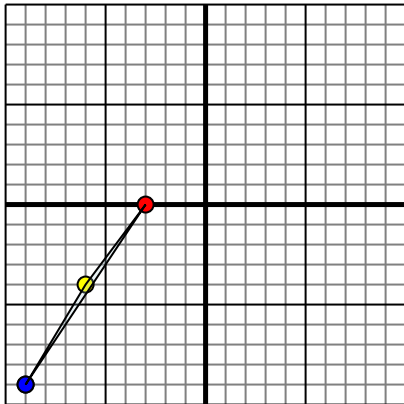




Reflejar cada figura como se describe.

1)

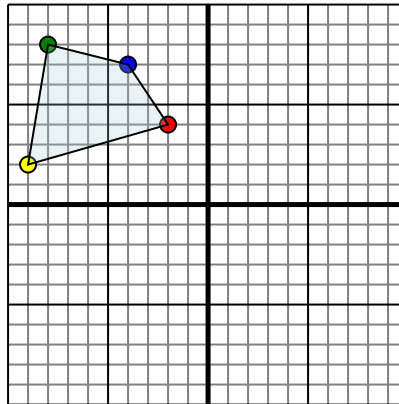


La figura de arriba tiene las siguientes coordenadas:

- A. (-3,0)
- B. (-6,-4)
- C. (-9,-9)

Refleja la figura sobre el eje X.

2)

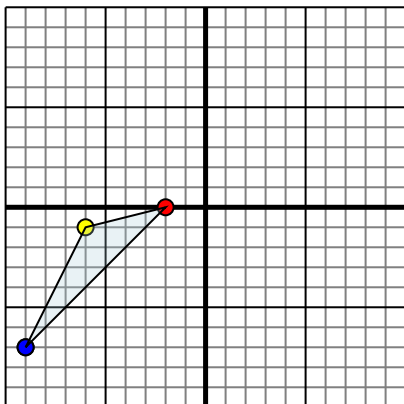


La figura de arriba tiene las siguientes coordenadas:

- A. (-2,4)
- B. (-9,2)
- C. (-8,8)
- D. (-4,7)

Refleja la figura sobre el eje X.

3)

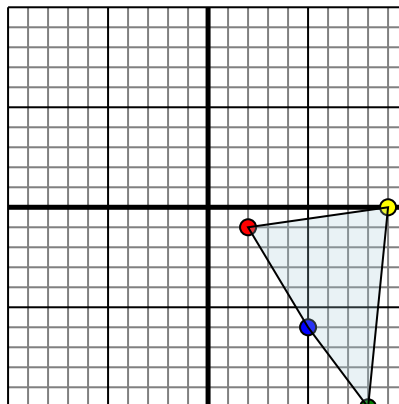


La figura de arriba tiene las siguientes coordenadas:

- A. (-2,0)
- B. (-6,-1)
- C. (-9,-7)

Refleja la figura sobre el eje X.

4)



La figura de arriba tiene las siguientes coordenadas:

- A. (2,-1)
- B. (9,0)
- C. (8,-10)
- D. (5,-6)

Refleja la figura sobre el eje X.

Respuestas

1. _____

2. _____

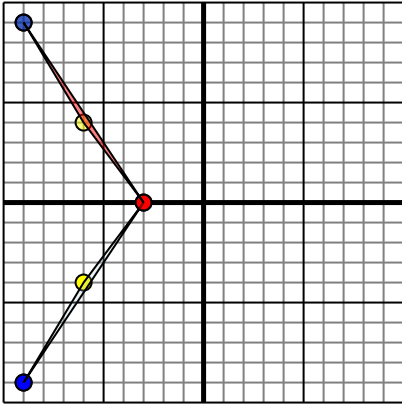
3. _____

4. _____



Reflejar cada figura como se describe.

1)

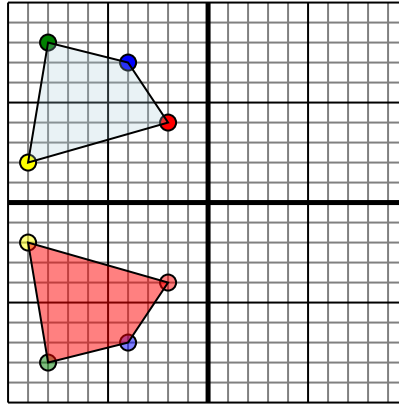


La figura de arriba tiene las siguientes coordenadas:

- A. (-3,0)
- B. (-6,-4)
- C. (-9,-9)

Refleja la figura sobre el eje X.

2)

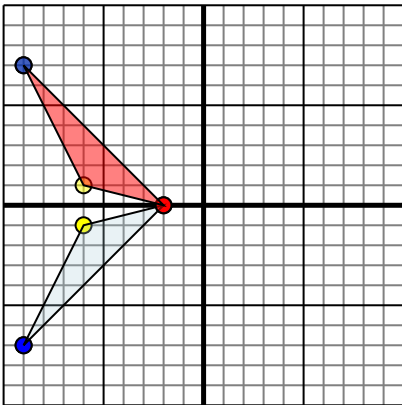


La figura de arriba tiene las siguientes coordenadas:

- A. (-2,4)
- B. (-9,2)
- C. (-8,8)
- D. (-4,7)

Refleja la figura sobre el eje X.

3)

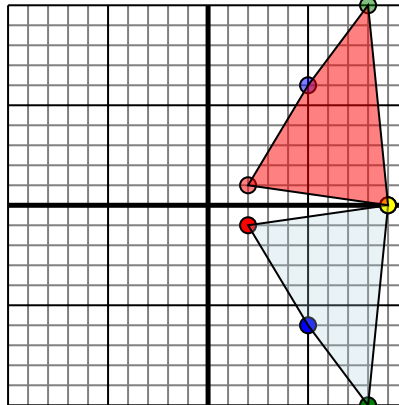


La figura de arriba tiene las siguientes coordenadas:

- A. (-2,0)
- B. (-6,-1)
- C. (-9,-7)

Refleja la figura sobre el eje X.

4)



La figura de arriba tiene las siguientes coordenadas:

- A. (2,-1)
- B. (9,0)
- C. (8,10)
- D. (5,-6)

Refleja la figura sobre el eje X.

Respuestas1. -3,0 -6,4 -9,9 gráfica2. -2,-4 -9,-2 -8,-8 -4,-7 gráfica3. -2,0 -6,1 -9,7 gráfica4. 2,1 9,0 8,10 5,6 gráfica