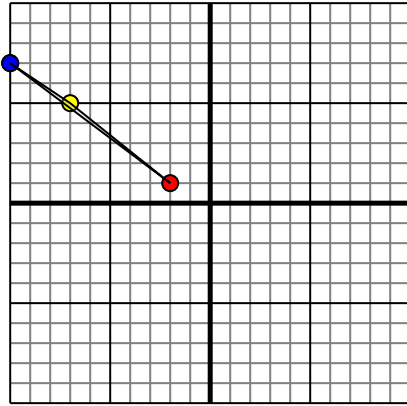




Reflejar cada figura como se describe.

1)

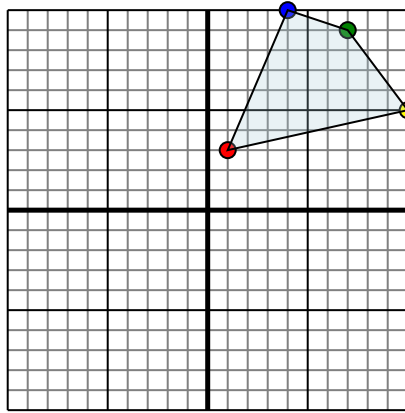


La forma anterior tiene las siguientes coordenadas:

- A. (-2,1)
- B. (-7,5)
- C. (-10,7)

Reflejar la forma sobre el eje y.

2)

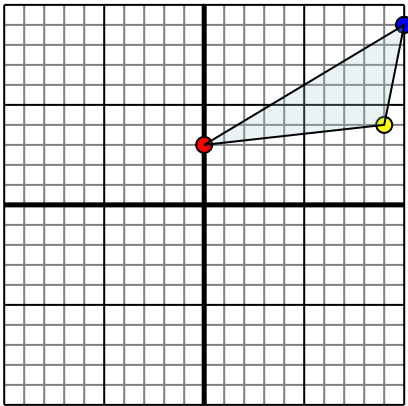


La forma anterior tiene las siguientes coordenadas:

- A. (1,3)
- B. (10,5)
- C. (7,9)
- D. (4,10)

Reflejar la forma sobre el eje y.

3)

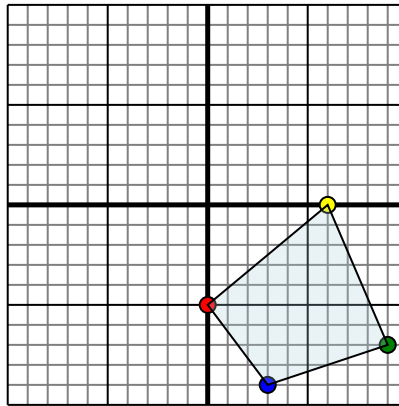


La forma anterior tiene las siguientes coordenadas:

- A. (0,3)
- B. (9,4)
- C. (10,9)

Reflejar la forma sobre el eje y.

4)



La forma anterior tiene las siguientes coordenadas:

- A. (0,-5)
- B. (6,0)
- C. (9,-7)
- D. (3,-9)

Reflejar la forma sobre el eje y.

Respuestas

1. _____

2. _____

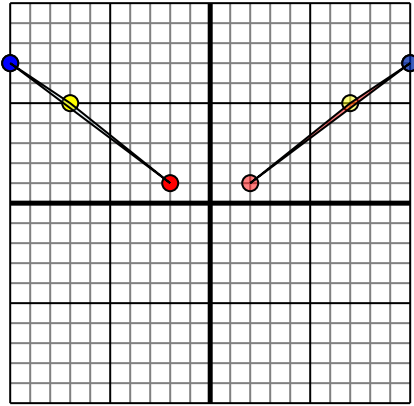
3. _____

4. _____



Reflejar cada figura como se describe.

1)

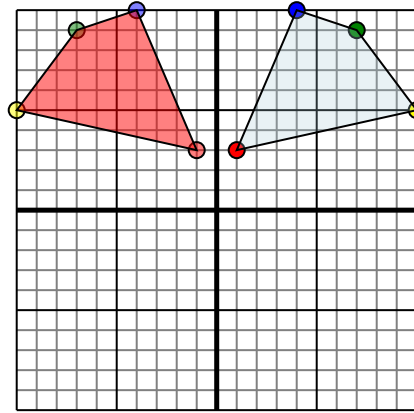


La forma anterior tiene las siguientes coordenadas:

- A. (-2,1)
- B. (-7,5)
- C. (-10,7)

Reflejar la forma sobre el eje y.

2)

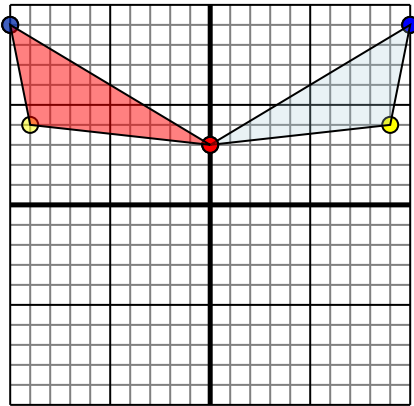


La forma anterior tiene las siguientes coordenadas:

- A. (1,3)
- B. (10,5)
- C. (7,9)
- D. (4,10)

Reflejar la forma sobre el eje y.

3)

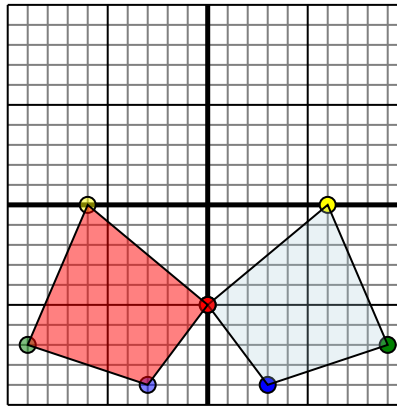


La forma anterior tiene las siguientes coordenadas:

- A. (0,3)
- B. (9,4)
- C. (10,9)

Reflejar la forma sobre el eje y.

4)



La forma anterior tiene las siguientes coordenadas:

- A. (0,-5)
- B. (6,0)
- C. (9,-7)
- D. (3,-9)

Reflejar la forma sobre el eje y.

Respuestas

1. **2,1** **7,5** **10,7** gráfica
2. **-1,3** **-10,5** **-7,9** **-4,10** gráfica
3. **0,3** **-9,4** **-10,9** gráfica
4. **0,-5** **-6,0** **-9,-7** **-3,-9** gráfica