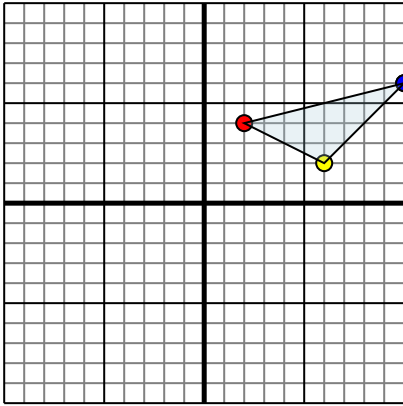




Reflejar cada figura como se describe.

1)

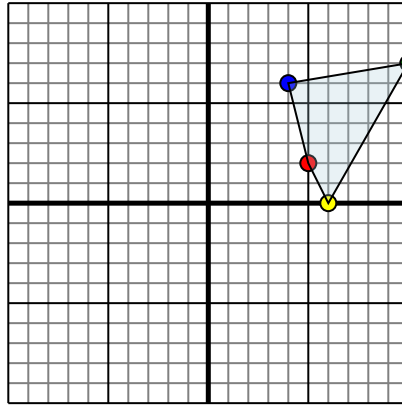


La forma anterior tiene las siguientes coordenadas:

- A. (2,4)
- B. (6,2)
- C. (10,6)

Reflejar la forma sobre el eje x.

2)

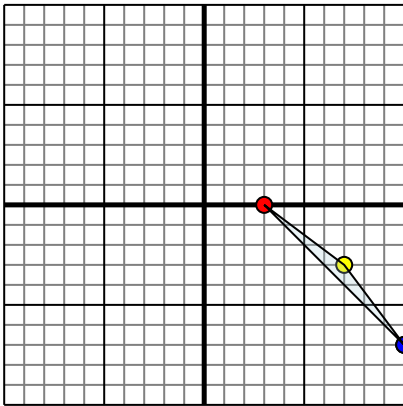


La forma anterior tiene las siguientes coordenadas:

- A. (5,2)
- B. (6,0)
- C. (10,7)
- D. (4,6)

Reflejar la forma sobre el eje y.

3)

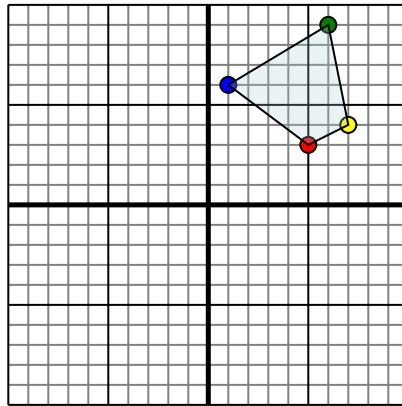


La forma anterior tiene las siguientes coordenadas:

- A. (3,0)
- B. (7,-3)
- C. (10,-7)

Reflejar la forma sobre el eje x.

4)



La forma anterior tiene las siguientes coordenadas:

- A. (5,3)
- B. (7,4)
- C. (6,9)
- D. (1,6)

Reflejar la forma sobre el eje y.

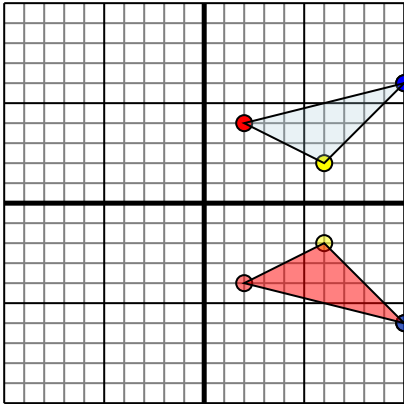
**Respuestas**

- 1. \_\_\_\_\_
- 2. \_\_\_\_\_
- 3. \_\_\_\_\_
- 4. \_\_\_\_\_



Reflejar cada figura como se describe.

1)

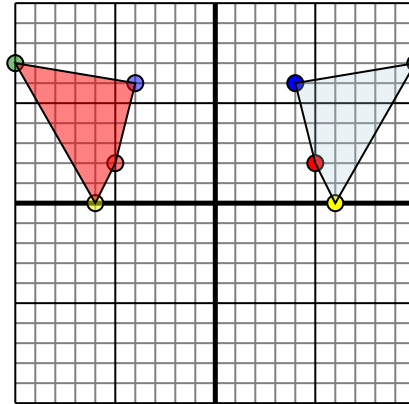


La forma anterior tiene las siguientes coordenadas:

- A. (2,4)
- B. (6,2)
- C. (10,6)

Reflejar la forma sobre el eje x.

2)

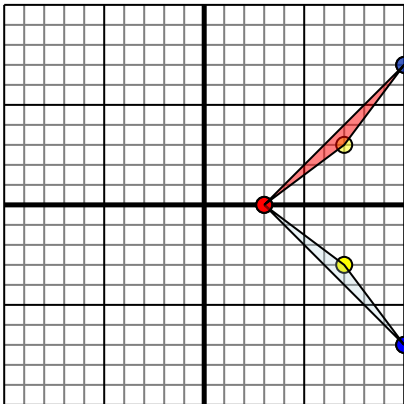


La forma anterior tiene las siguientes coordenadas:

- A. (5,2)
- B. (6,0)
- C. (10,7)
- D. (4,6)

Reflejar la forma sobre el eje y.

3)

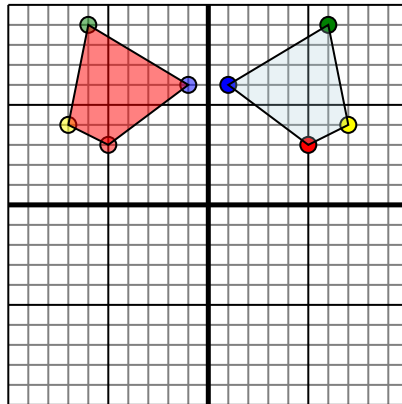


La forma anterior tiene las siguientes coordenadas:

- A. (3,0)
- B. (7,-3)
- C. (10,-7)

Reflejar la forma sobre el eje x.

4)



La forma anterior tiene las siguientes coordenadas:

- A. (5,3)
- B. (7,4)
- C. (6,9)
- D. (1,6)

Reflejar la forma sobre el eje y.

**Respuestas**

1. 2,-4 6,-2 10,-6 gráfica
2. -5,2 -6,0 -10,7 -4,6 gráfica
3. 3,0 7,3 10,7 gráfica
4. -5,3 -7,4 -6,9 -1,6 gráfica