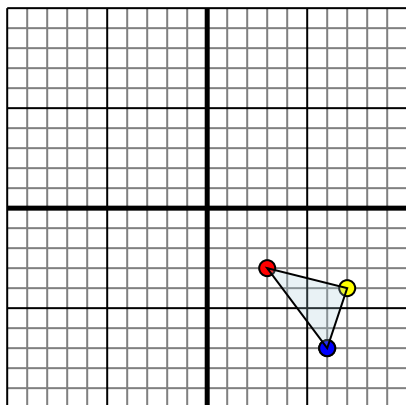




Reflejar cada figura como se describe.

Respuestas

1)

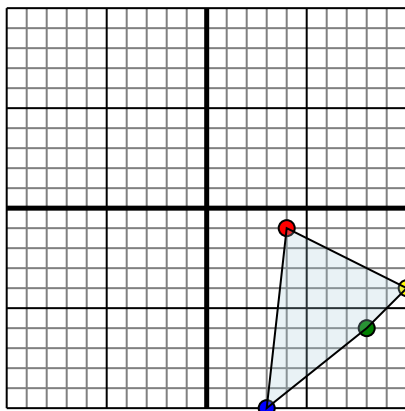


La forma anterior tiene las siguientes coordenadas:

- A. (3,-3)
- B. (7,-4)
- C. (6,-7)

Reflejar la forma sobre el eje x.

2)

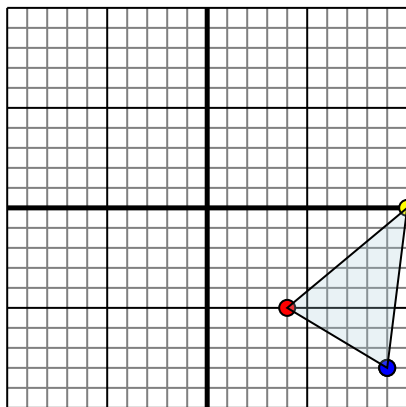


La forma anterior tiene las siguientes coordenadas:

- A. (4,-1)
- B. (10,-4)
- C. (8,-6)
- D. (3,-10)

Reflejar la forma sobre el eje x.

3)

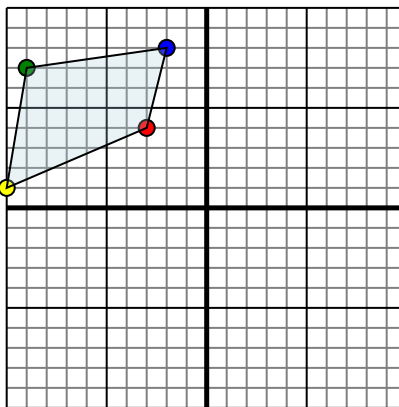


La forma anterior tiene las siguientes coordenadas:

- A. (4,-5)
- B. (10,0)
- C. (9,-8)

Reflejar la forma sobre el eje y.

4)



La forma anterior tiene las siguientes coordenadas:

- A. (-3,4)
- B. (-10,1)
- C. (-9,7)
- D. (-2,8)

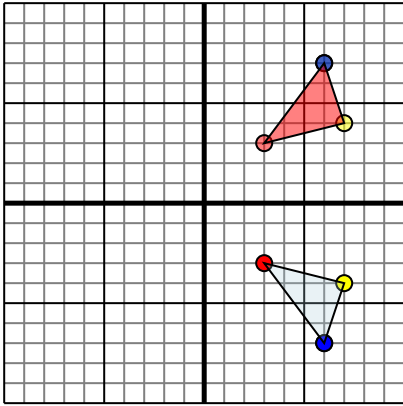
Reflejar la forma sobre el eje x.

- 1. _____
- 2. _____
- 3. _____
- 4. _____



Reflejar cada figura como se describe.

1)

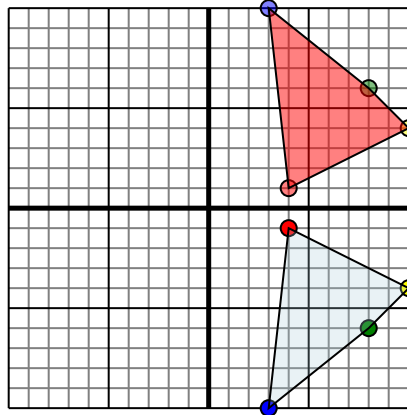


La forma anterior tiene las siguientes coordenadas:

- A. (3,-3)
- B. (7,-4)
- C. (6,-7)

Reflejar la forma sobre el eje x.

2)

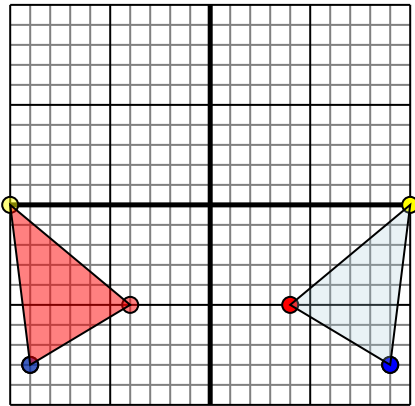


La forma anterior tiene las siguientes coordenadas:

- A. (4,-1)
- B. (10,-4)
- C. (8,-6)
- D. (3,-10)

Reflejar la forma sobre el eje x.

3)

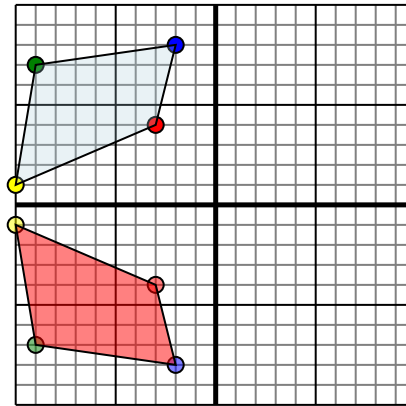


La forma anterior tiene las siguientes coordenadas:

- A. (4,-5)
- B. (10,0)
- C. (9,-8)

Reflejar la forma sobre el eje y.

4)



La forma anterior tiene las siguientes coordenadas:

- A. (-3,4)
- B. (-10,1)
- C. (-9,7)
- D. (-2,8)

Reflejar la forma sobre el eje x.

Respuestas

1. **3,3** **7,4** **6,7** gráfica
2. **4,1** **10,4** **8,6** **3,10** gráfica
3. **-4,-5** **-10,0** **-9,-8** gráfica
4. **-3,-4** **-10,-1** **-9,-7** **-2,-8** gráfica