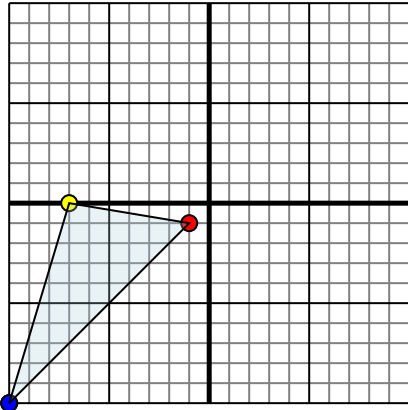




Reflejar cada figura como se describe.

Respuestas

1)

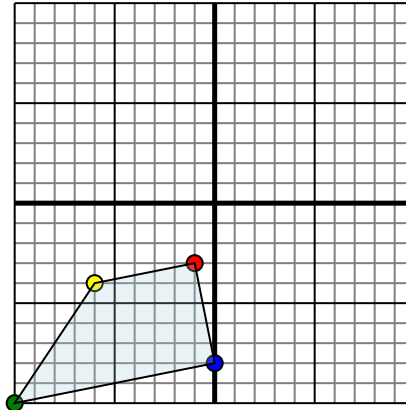


La forma anterior tiene las siguientes coordenadas:

- A. (-1,-1)
- B. (-7,0)
- C. (-10,-10)

Reflejar la forma sobre el eje x.

2)

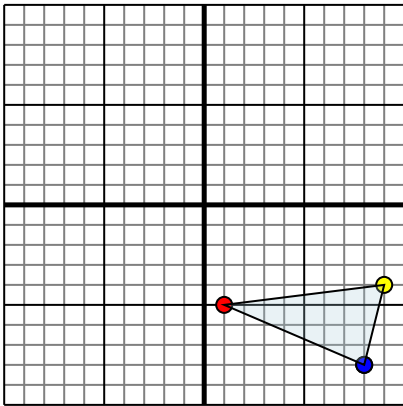


La forma anterior tiene las siguientes coordenadas:

- A. (-1,-3)
- B. (-6,-4)
- C. (-10,-10)
- D. (0,-8)

Reflejar la forma sobre el eje x.

3)

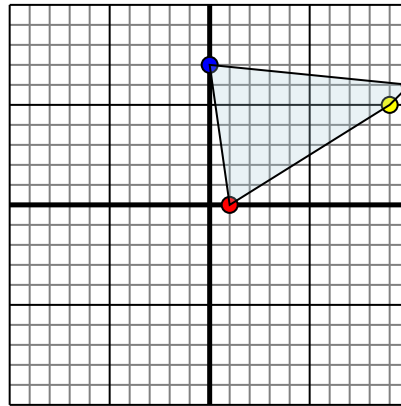


La forma anterior tiene las siguientes coordenadas:

- A. (1,-5)
- B. (9,-4)
- C. (8,-8)

Reflejar la forma sobre el eje x.

4)



La forma anterior tiene las siguientes coordenadas:

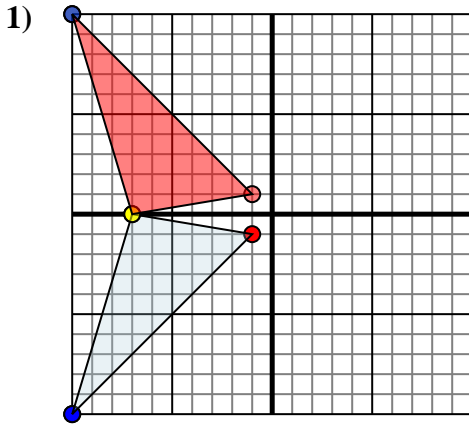
- A. (1,0)
- B. (9,5)
- C. (10,6)
- D. (0,7)

Reflejar la forma sobre el eje x.

- 1. _____
- 2. _____
- 3. _____
- 4. _____



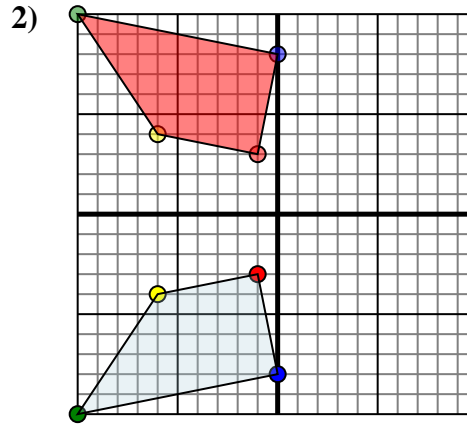
Reflejar cada figura como se describe.



La forma anterior tiene las siguientes coordenadas:

- A. (-1,-1)
- B. (-7,0)
- C. (-10,-10)

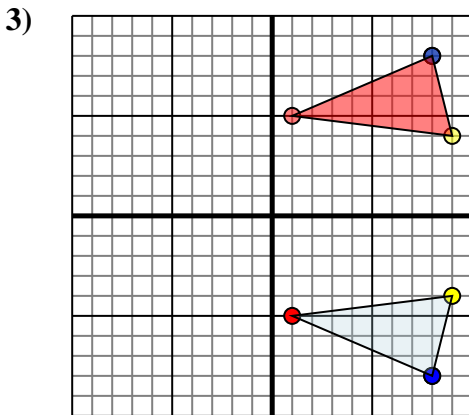
Reflejar la forma sobre el eje x.



La forma anterior tiene las siguientes coordenadas:

- A. (-1,-3)
- B. (-6,-4)
- C. (-10,-10)
- D. (0,-8)

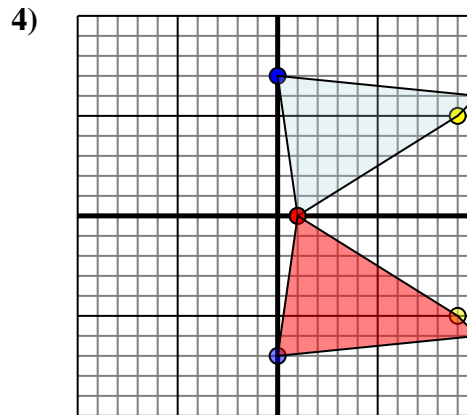
Reflejar la forma sobre el eje x.



La forma anterior tiene las siguientes coordenadas:

- A. (1,-5)
- B. (9,-4)
- C. (8,-8)

Reflejar la forma sobre el eje x.



La forma anterior tiene las siguientes coordenadas:

- A. (1,0)
- B. (9,5)
- C. (10,6)
- D. (0,7)

Reflejar la forma sobre el eje x.

Respuestas

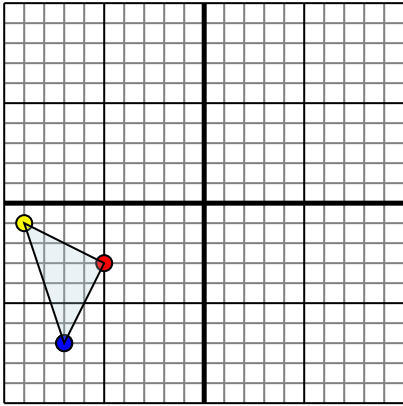
1. **-1,1** **-7,0** **-10,10** gráfica
2. **-1,3** **-6,4** **-10,10** **0,8** gráfica
3. **1,5** **9,4** **8,8** gráfica
4. **1,0** **9,-5** **10,-6** **0,-7** gráfica



Reflejar cada figura como se describe.

Respuestas

1)

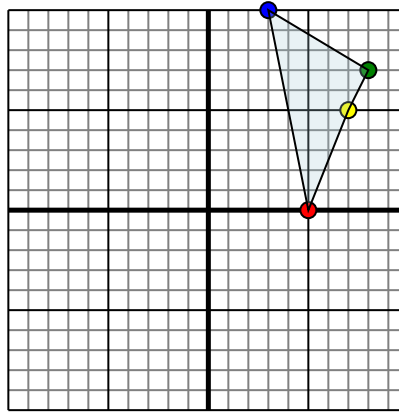


La forma anterior tiene las siguientes coordenadas:

- A. (-5,-3)
- B. (-9,-1)
- C. (-7,-7)

Reflejar la forma sobre el eje x.

2)

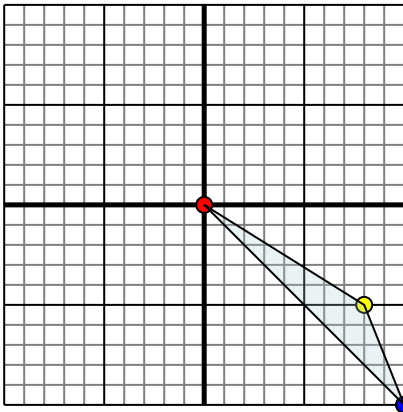


La forma anterior tiene las siguientes coordenadas:

- A. (5,0)
- B. (7,5)
- C. (8,7)
- D. (3,10)

Reflejar la forma sobre el eje x.

3)

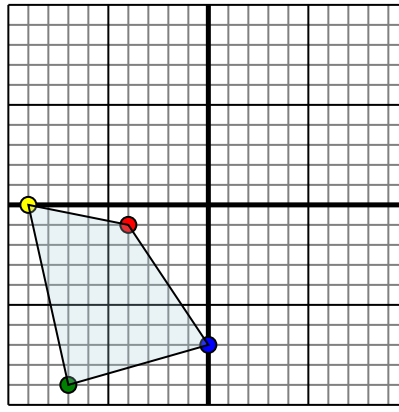


La forma anterior tiene las siguientes coordenadas:

- A. (0,0)
- B. (8,-5)
- C. (10,-10)

Reflejar la forma sobre el eje y.

4)



La forma anterior tiene las siguientes coordenadas:

- A. (-4,-1)
- B. (-9,0)
- C. (-7,-9)
- D. (0,-7)

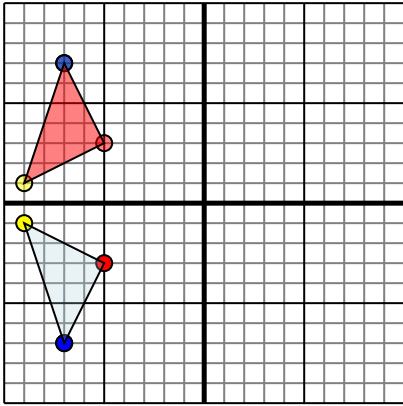
Reflejar la forma sobre el eje y.

- 1. _____
- 2. _____
- 3. _____
- 4. _____



Reflejar cada figura como se describe.

1)

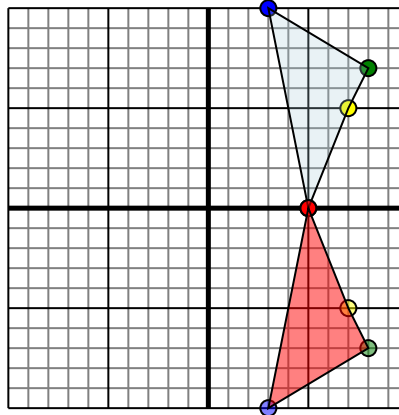


La forma anterior tiene las siguientes coordenadas:

- A. (-5,-3)
- B. (-9,-1)
- C. (-7,-7)

Reflejar la forma sobre el eje x.

2)

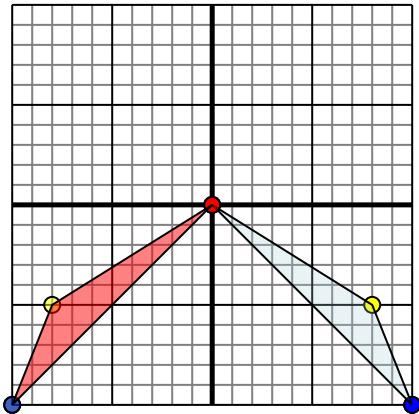


La forma anterior tiene las siguientes coordenadas:

- A. (5,0)
- B. (7,5)
- C. (8,7)
- D. (3,10)

Reflejar la forma sobre el eje x.

3)

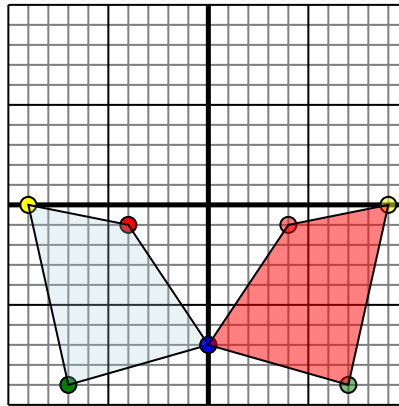


La forma anterior tiene las siguientes coordenadas:

- A. (0,0)
- B. (8,-5)
- C. (10,-10)

Reflejar la forma sobre el eje y.

4)



La forma anterior tiene las siguientes coordenadas:

- A. (-4,-1)
- B. (-9,0)
- C. (-7,-9)
- D. (0,-7)

Reflejar la forma sobre el eje y.

Respuestas

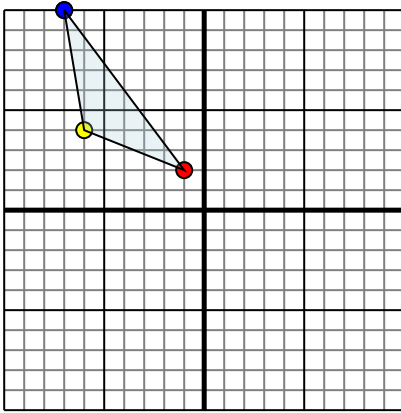
1. **-5,3** **-9,1** **-7,7** gráfica
2. **5,0** **7,-5** **8,-7** **3,-10** gráfica
3. **0,0** **-8,-5** **-10,-10** gráfica
4. **4,-1** **9,0** **7,-9** **0,-7** gráfica



Reflejar cada figura como se describe.

Respuestas

1)

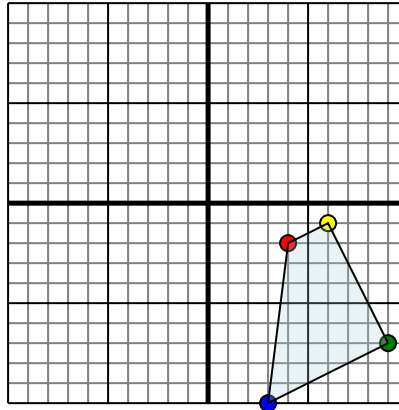


La forma anterior tiene las siguientes coordenadas:

- A. (-1,2)
- B. (-6,4)
- C. (-7,10)

Reflejar la forma sobre el eje y.

2)

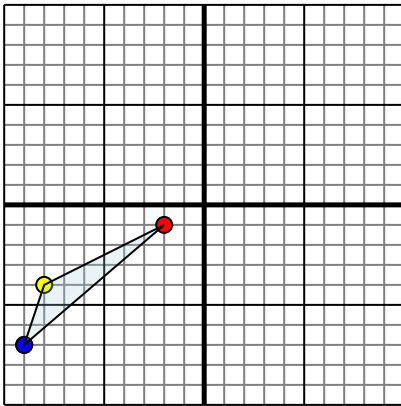


La forma anterior tiene las siguientes coordenadas:

- A. (4,-2)
- B. (6,-1)
- C. (9,-7)
- D. (3,-10)

Reflejar la forma sobre el eje x.

3)

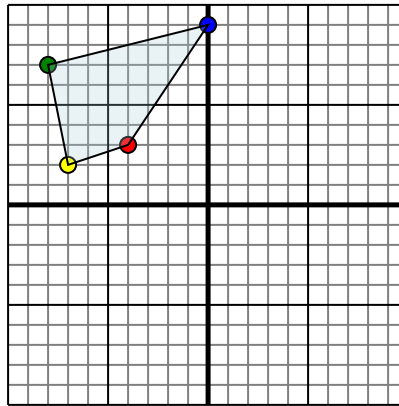


La forma anterior tiene las siguientes coordenadas:

- A. (-2,-1)
- B. (-8,-4)
- C. (-9,-7)

Reflejar la forma sobre el eje x.

4)



La forma anterior tiene las siguientes coordenadas:

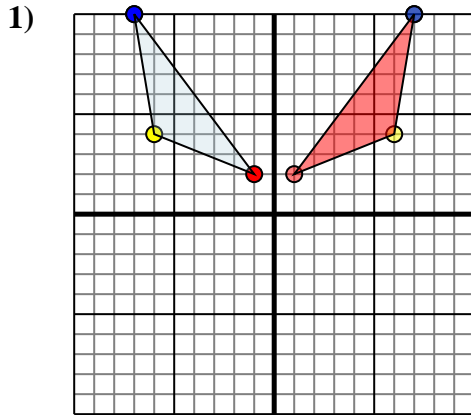
- A. (-4,3)
- B. (-7,2)
- C. (-8,7)
- D. (0,9)

Reflejar la forma sobre el eje y.

- 1. _____
- 2. _____
- 3. _____
- 4. _____



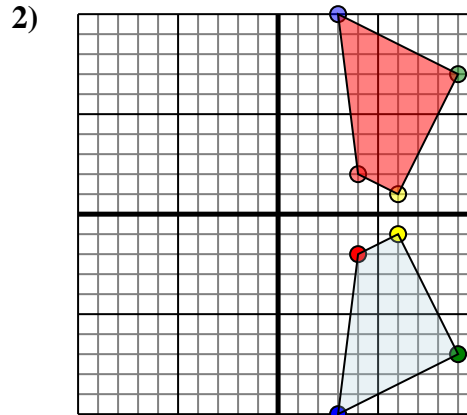
Reflejar cada figura como se describe.



La forma anterior tiene las siguientes coordenadas:

- A. (-1,2)
- B. (-6,4)
- C. (-7,10)

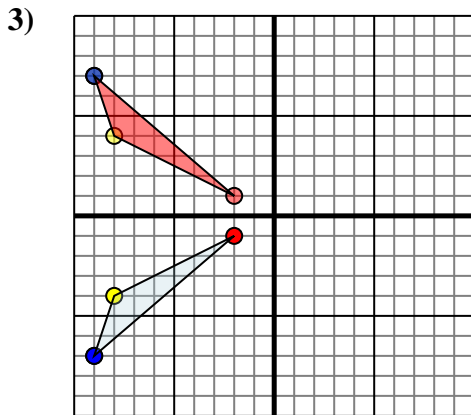
Reflejar la forma sobre el eje y.



La forma anterior tiene las siguientes coordenadas:

- A. (4,-2)
- B. (6,-1)
- C. (9,-7)
- D. (3,-10)

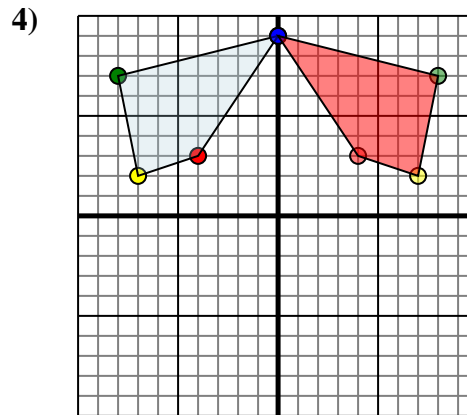
Reflejar la forma sobre el eje x.



La forma anterior tiene las siguientes coordenadas:

- A. (-2,-1)
- B. (-8,-4)
- C. (-9,-7)

Reflejar la forma sobre el eje x.



La forma anterior tiene las siguientes coordenadas:

- A. (-4,3)
- B. (-7,2)
- C. (-8,7)
- D. (0,9)

Reflejar la forma sobre el eje y.

Respuestas

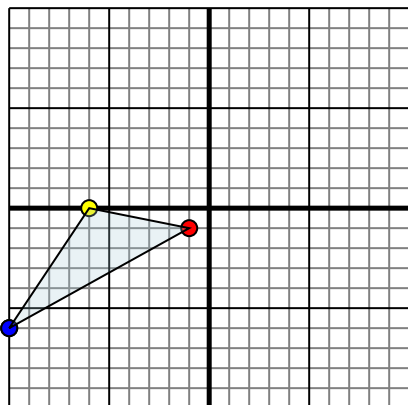
1. **1,2** **6,4** **7,10** gráfica
2. **4,2** **6,1** **9,7** **3,10** gráfica
3. **-2,1** **-8,4** **-9,7** gráfica
4. **4,3** **7,2** **8,7** **0,9** gráfica



Reflejar cada figura como se describe.

Respuestas

1)

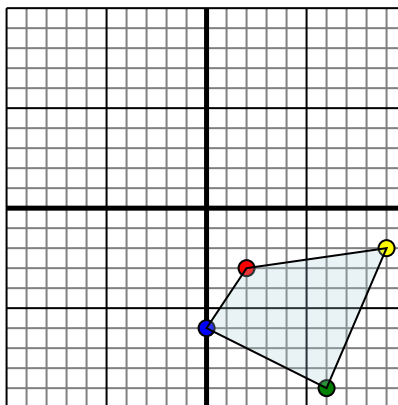


La forma anterior tiene las siguientes coordenadas:

- A. (-1,-1)
- B. (-6,0)
- C. (-10,-6)

Reflejar la forma sobre el eje x.

2)

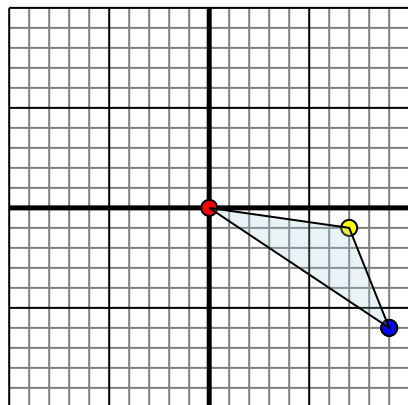


La forma anterior tiene las siguientes coordenadas:

- A. (2,-3)
- B. (9,-2)
- C. (6,-9)
- D. (0,-6)

Reflejar la forma sobre el eje y.

3)

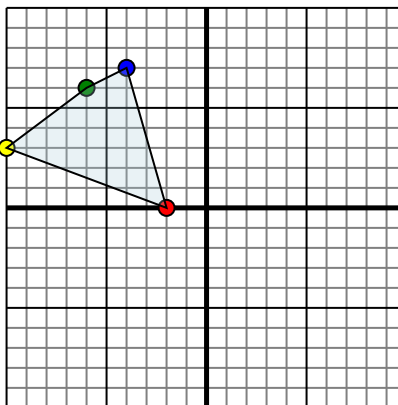


La forma anterior tiene las siguientes coordenadas:

- A. (0,0)
- B. (7,-1)
- C. (9,-6)

Reflejar la forma sobre el eje x.

4)



La forma anterior tiene las siguientes coordenadas:

- A. (-2,0)
- B. (-10,3)
- C. (-6,6)
- D. (-4,7)

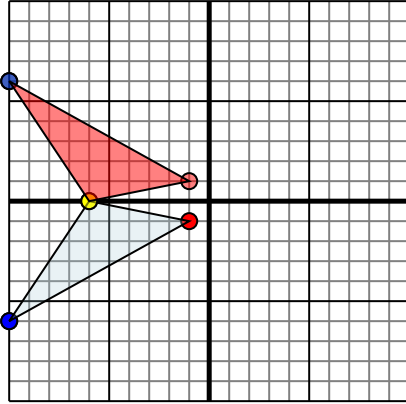
Reflejar la forma sobre el eje x.

- 1. _____
- 2. _____
- 3. _____
- 4. _____



Reflejar cada figura como se describe.

1)

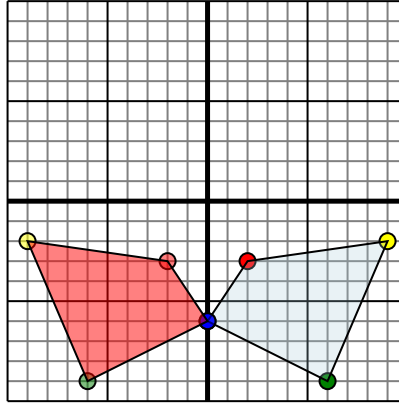


La forma anterior tiene las siguientes coordenadas:

- A. (-1,-1)
- B. (-6,0)
- C. (-10,-6)

Reflejar la forma sobre el eje x.

2)

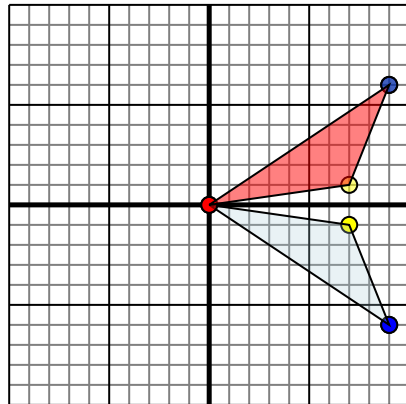


La forma anterior tiene las siguientes coordenadas:

- A. (2,-3)
- B. (9,-2)
- C. (6,-9)
- D. (0,-6)

Reflejar la forma sobre el eje y.

3)

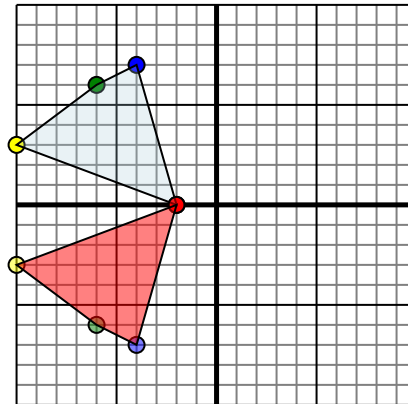


La forma anterior tiene las siguientes coordenadas:

- A. (0,0)
- B. (7,-1)
- C. (9,-6)

Reflejar la forma sobre el eje x.

4)



La forma anterior tiene las siguientes coordenadas:

- A. (-2,0)
- B. (-10,3)
- C. (-6,6)
- D. (-4,7)

Reflejar la forma sobre el eje x.

Respuestas

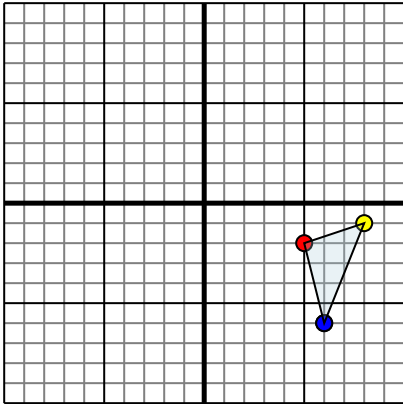
1. **-1,1** **-6,0** **-10,6** gráfica
2. **-2,-3** **-9,-2** **-6,-9** **0,-6** gráfica
3. **0,0** **7,1** **9,6** gráfica
4. **-2,0** **-10,3** **-6,6** **-4,7** gráfica



Reflejar cada figura como se describe.

Respuestas

1)

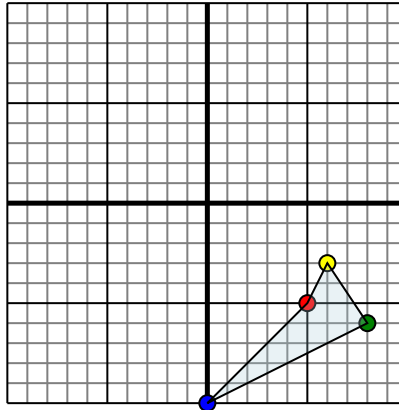


La forma anterior tiene las siguientes coordenadas:

- A. (5,-2)
- B. (8,-1)
- C. (6,-6)

Reflejar la forma sobre el eje x.

2)

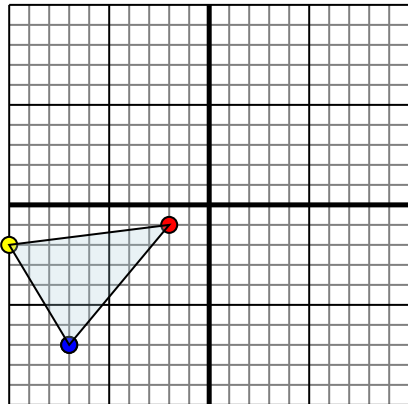


La forma anterior tiene las siguientes coordenadas:

- A. (5,-5)
- B. (6,-3)
- C. (8,-6)
- D. (0,-10)

Reflejar la forma sobre el eje y.

3)

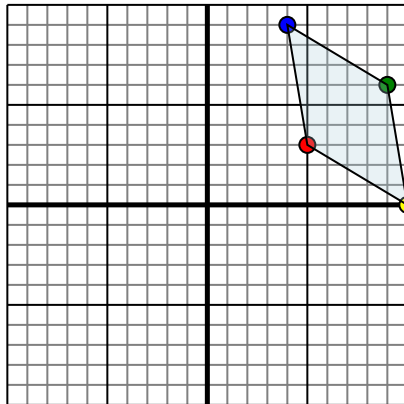


La forma anterior tiene las siguientes coordenadas:

- A. (-2,-1)
- B. (-10,-2)
- C. (-7,-7)

Reflejar la forma sobre el eje x.

4)



La forma anterior tiene las siguientes coordenadas:

- A. (5,3)
- B. (10,0)
- C. (9,6)
- D. (4,9)

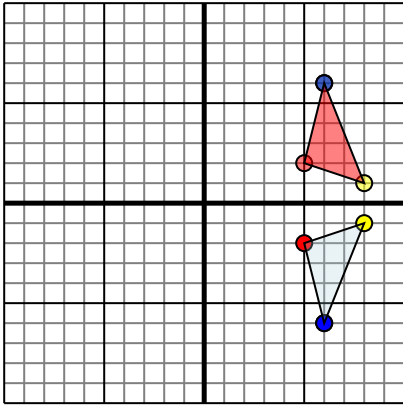
Reflejar la forma sobre el eje x.

- 1. _____
- 2. _____
- 3. _____
- 4. _____



Reflejar cada figura como se describe.

1)

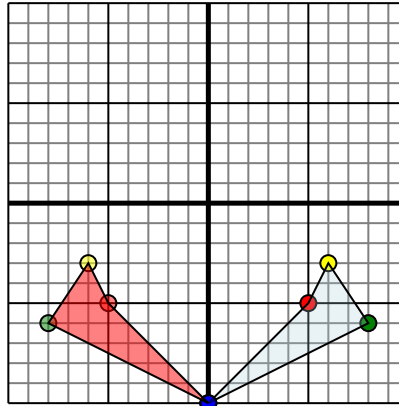


La forma anterior tiene las siguientes coordenadas:

- A. (5,-2)
- B. (8,-1)
- C. (6,-6)

Reflejar la forma sobre el eje x.

2)

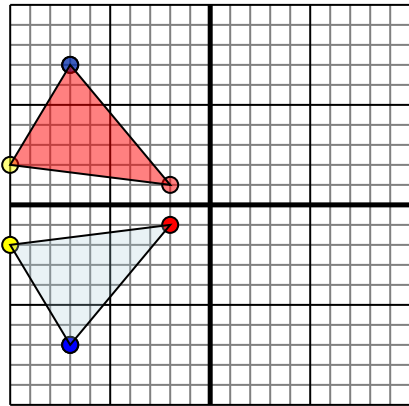


La forma anterior tiene las siguientes coordenadas:

- A. (5,-5)
- B. (6,-3)
- C. (8,-6)
- D. (0,-10)

Reflejar la forma sobre el eje y.

3)

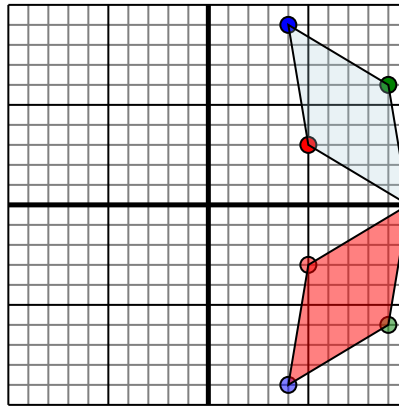


La forma anterior tiene las siguientes coordenadas:

- A. (-2,-1)
- B. (-10,-2)
- C. (-7,-7)

Reflejar la forma sobre el eje x.

4)



La forma anterior tiene las siguientes coordenadas:

- A. (5,3)
- B. (10,0)
- C. (9,6)
- D. (4,9)

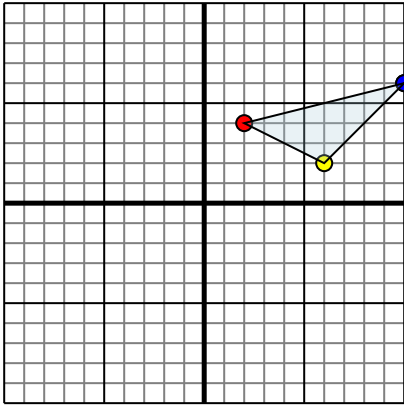
Reflejar la forma sobre el eje x.

Respuestas1. **5,2 8,1 6,6** gráfica2. **-5,-5 -6,-3 -8,-6 0,-10** gráfica3. **-2,1 -10,2 -7,7** gráfica4. **5,-3 10,0 9,-6 4,-9** gráfica



Reflejar cada figura como se describe.

1)

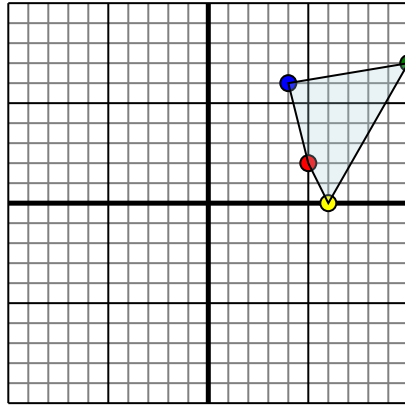


La forma anterior tiene las siguientes coordenadas:

- A. (2,4)
- B. (6,2)
- C. (10,6)

Reflejar la forma sobre el eje x.

2)

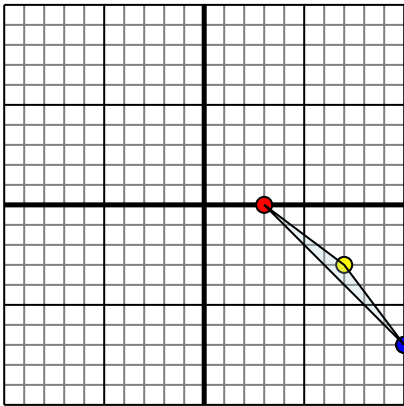


La forma anterior tiene las siguientes coordenadas:

- A. (5,2)
- B. (6,0)
- C. (10,7)
- D. (4,6)

Reflejar la forma sobre el eje y.

3)

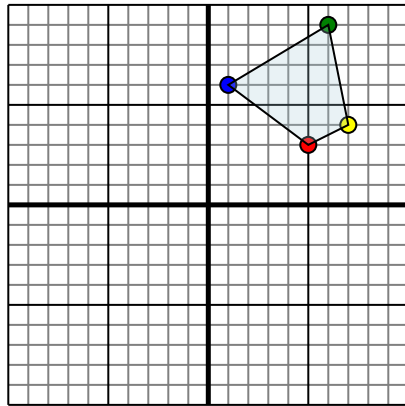


La forma anterior tiene las siguientes coordenadas:

- A. (3,0)
- B. (7,-3)
- C. (10,-7)

Reflejar la forma sobre el eje x.

4)



La forma anterior tiene las siguientes coordenadas:

- A. (5,3)
- B. (7,4)
- C. (6,9)
- D. (1,6)

Reflejar la forma sobre el eje y.

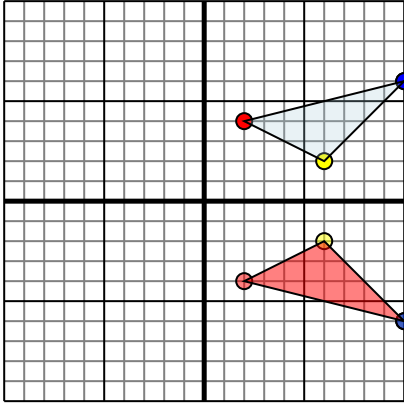
Respuestas

- 1. _____
- 2. _____
- 3. _____
- 4. _____



Reflejar cada figura como se describe.

1)

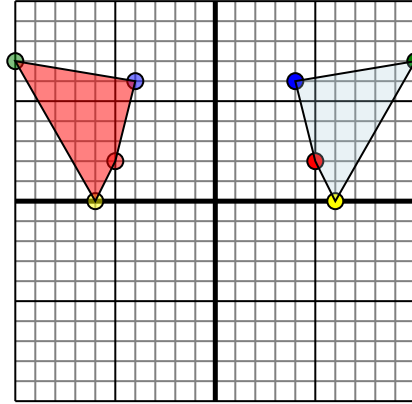


La forma anterior tiene las siguientes coordenadas:

- A. (2,4)
- B. (6,2)
- C. (10,6)

Reflejar la forma sobre el eje x.

2)

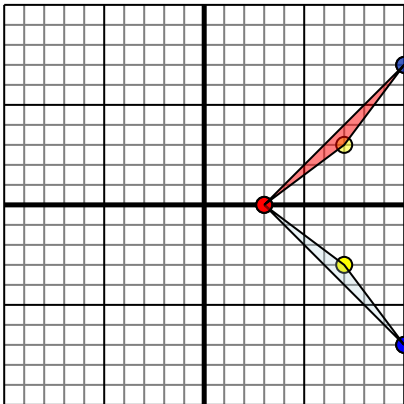


La forma anterior tiene las siguientes coordenadas:

- A. (5,2)
- B. (6,0)
- C. (10,7)
- D. (4,6)

Reflejar la forma sobre el eje y.

3)

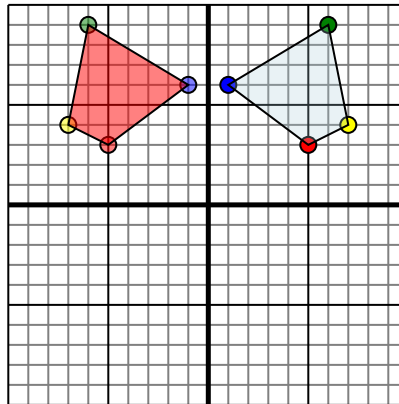


La forma anterior tiene las siguientes coordenadas:

- A. (3,0)
- B. (7,-3)
- C. (10,-7)

Reflejar la forma sobre el eje x.

4)



La forma anterior tiene las siguientes coordenadas:

- A. (5,3)
- B. (7,4)
- C. (6,9)
- D. (1,6)

Reflejar la forma sobre el eje y.

Respuestas

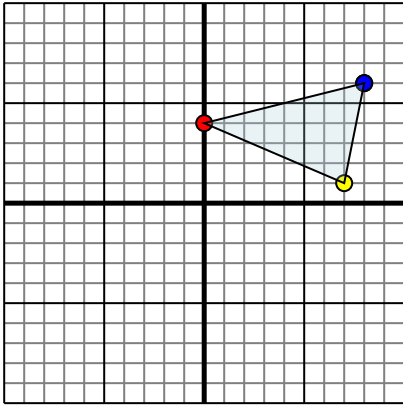
1. **2,-4** **6,-2** **10,-6** gráfica
2. **-5,2** **-6,0** **-10,7** **-4,6** gráfica
3. **3,0** **7,3** **10,7** gráfica
4. **-5,3** **-7,4** **-6,9** **-1,6** gráfica



Reflejar cada figura como se describe.

Respuestas

1)

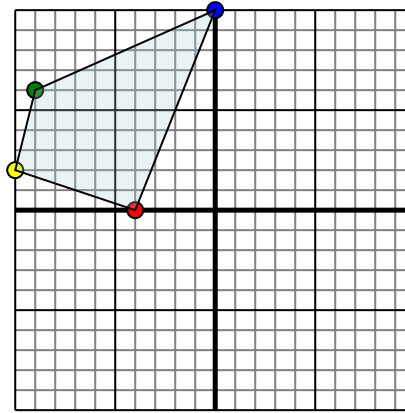


La forma anterior tiene las siguientes coordenadas:

- A. (0,4)
- B. (7,1)
- C. (8,6)

Reflejar la forma sobre el eje x.

2)

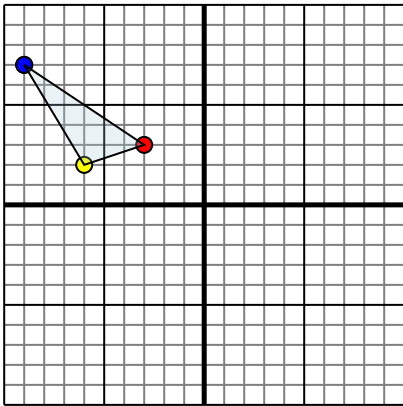


La forma anterior tiene las siguientes coordenadas:

- A. (-4,0)
- B. (-10,2)
- C. (-9,6)
- D. (0,10)

Reflejar la forma sobre el eje y.

3)

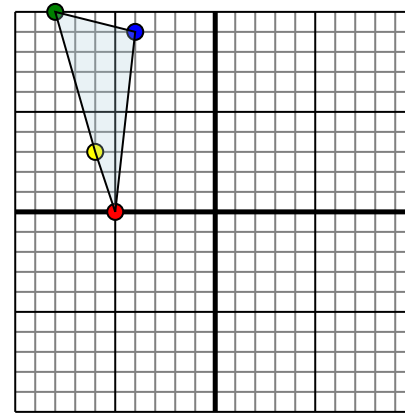


La forma anterior tiene las siguientes coordenadas:

- A. (-3,3)
- B. (-6,2)
- C. (-9,7)

Reflejar la forma sobre el eje y.

4)



La forma anterior tiene las siguientes coordenadas:

- A. (-5,0)
- B. (-6,3)
- C. (-8,10)
- D. (-4,9)

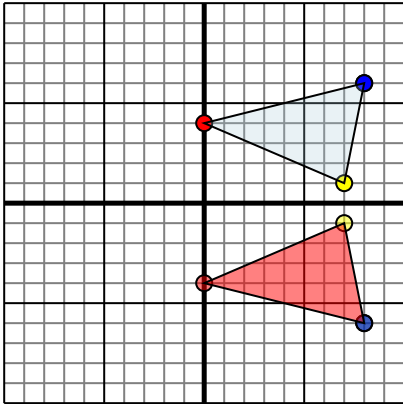
Reflejar la forma sobre el eje x.

- 1. _____
- 2. _____
- 3. _____
- 4. _____



Reflejar cada figura como se describe.

1)

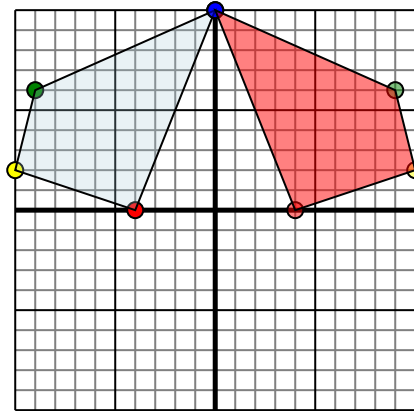


La forma anterior tiene las siguientes coordenadas:

- A. (0,4)
- B. (7,1)
- C. (8,6)

Reflejar la forma sobre el eje x.

2)

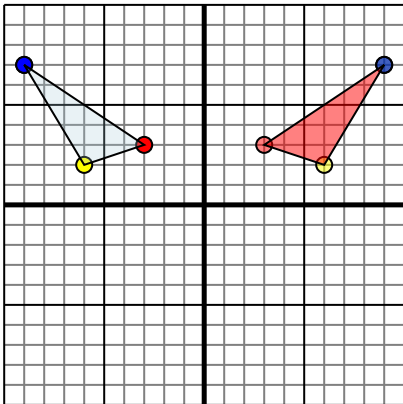


La forma anterior tiene las siguientes coordenadas:

- A. (-4,0)
- B. (-10,2)
- C. (-9,6)
- D. (0,10)

Reflejar la forma sobre el eje y.

3)

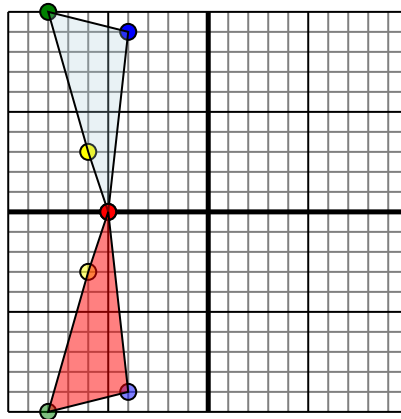


La forma anterior tiene las siguientes coordenadas:

- A. (-3,3)
- B. (-6,2)
- C. (-9,7)

Reflejar la forma sobre el eje y.

4)



La forma anterior tiene las siguientes coordenadas:

- A. (-5,0)
- B. (-6,3)
- C. (-8,10)
- D. (-4,9)

Reflejar la forma sobre el eje x.

Respuestas

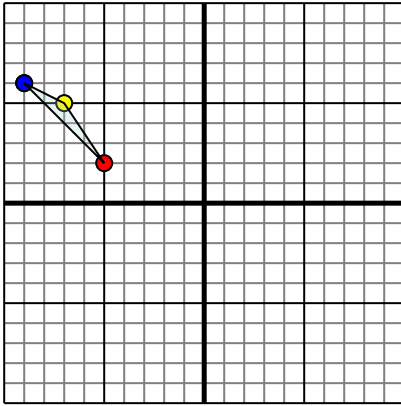
1. **0,-4** **7,-1** **8,-6** gráfica
2. **4,0** **10,2** **9,6** **0,10** gráfica
3. **3,3** **6,2** **9,7** gráfica
4. **-5,0** **-6,-3** **-8,-10** **-4,-9** gráfica



Reflejar cada figura como se describe.

Respuestas

1)

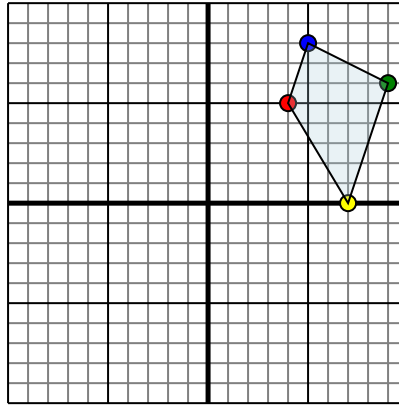


La forma anterior tiene las siguientes coordenadas:

- A. (-5,2)
- B. (-7,5)
- C. (-9,6)

Reflejar la forma sobre el eje x.

2)

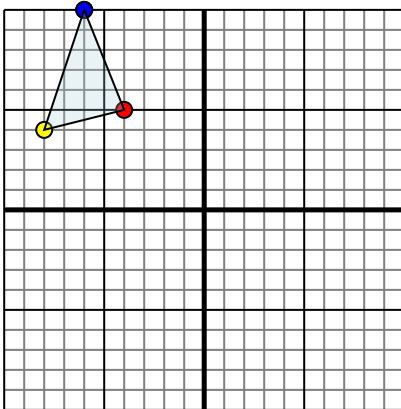


La forma anterior tiene las siguientes coordenadas:

- A. (4,5)
- B. (7,0)
- C. (9,6)
- D. (5,8)

Reflejar la forma sobre el eje y.

3)

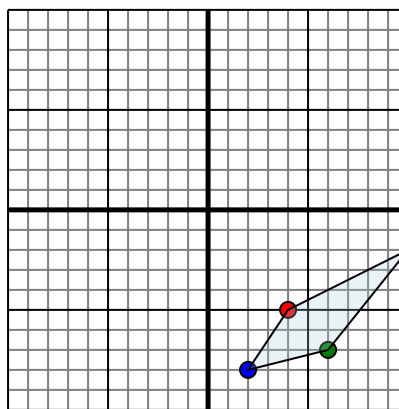


La forma anterior tiene las siguientes coordenadas:

- A. (-4,5)
- B. (-8,4)
- C. (-6,10)

Reflejar la forma sobre el eje x.

4)



La forma anterior tiene las siguientes coordenadas:

- A. (4,-5)
- B. (10,-2)
- C. (6,-7)
- D. (2,-8)

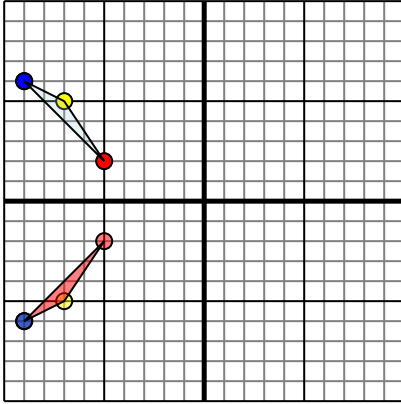
Reflejar la forma sobre el eje x.

- 1. _____
- 2. _____
- 3. _____
- 4. _____



Reflejar cada figura como se describe.

1)

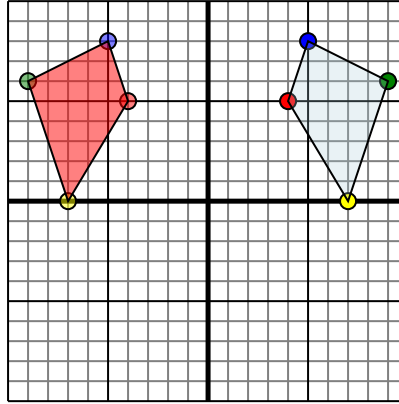


La forma anterior tiene las siguientes coordenadas:

- A. (-5,2)
- B. (-7,5)
- C. (-9,6)

Reflejar la forma sobre el eje x.

2)

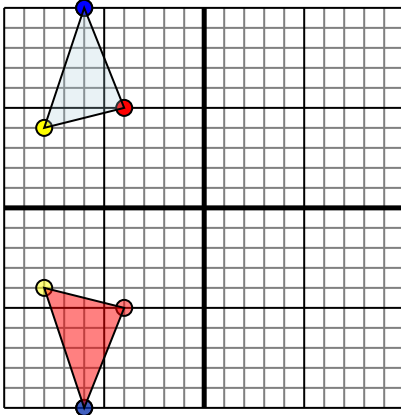


La forma anterior tiene las siguientes coordenadas:

- A. (4,5)
- B. (7,0)
- C. (9,6)
- D. (5,8)

Reflejar la forma sobre el eje y.

3)

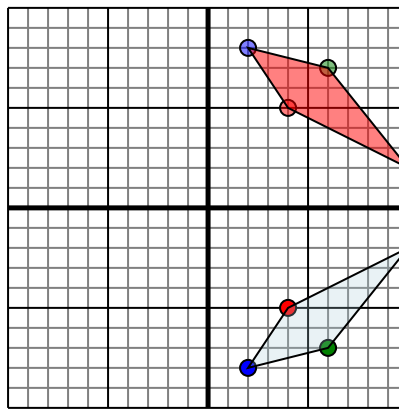


La forma anterior tiene las siguientes coordenadas:

- A. (-4,5)
- B. (-8,4)
- C. (-6,10)

Reflejar la forma sobre el eje x.

4)



La forma anterior tiene las siguientes coordenadas:

- A. (4,-5)
- B. (10,-2)
- C. (6,-7)
- D. (2,-8)

Reflejar la forma sobre el eje x.

Respuestas

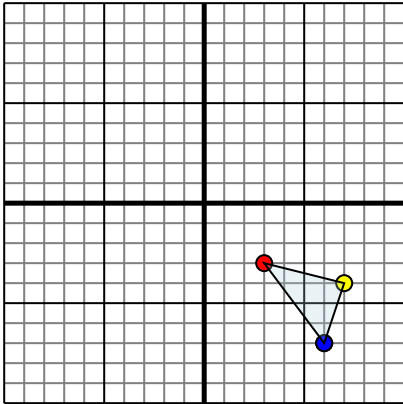
1. -5,-2 -7,-5 -9,-6 gráfica
2. -4,5 -7,0 -9,6 -5,8 gráfica
3. -4,-5 -8,-4 -6,-10 gráfica
4. 4,5 10,2 6,7 2,8 gráfica



Reflejar cada figura como se describe.

Respuestas

1)

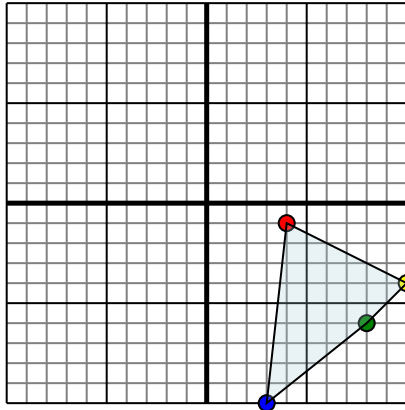


La forma anterior tiene las siguientes coordenadas:

- A. (3,-3)
- B. (7,-4)
- C. (6,-7)

Reflejar la forma sobre el eje x.

2)

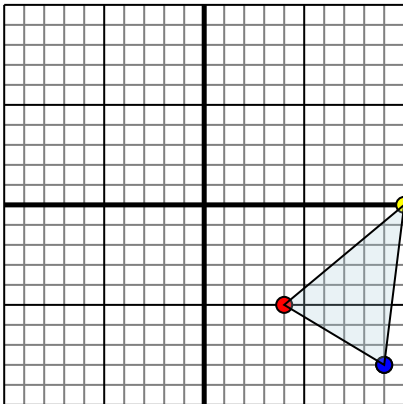


La forma anterior tiene las siguientes coordenadas:

- A. (4,-1)
- B. (10,-4)
- C. (8,-6)
- D. (3,-10)

Reflejar la forma sobre el eje x.

3)

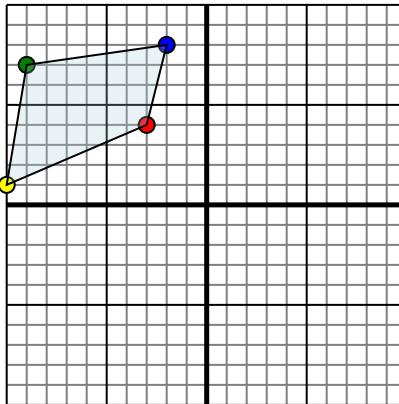


La forma anterior tiene las siguientes coordenadas:

- A. (4,-5)
- B. (10,0)
- C. (9,-8)

Reflejar la forma sobre el eje y.

4)



La forma anterior tiene las siguientes coordenadas:

- A. (-3,4)
- B. (-10,1)
- C. (-9,7)
- D. (-2,8)

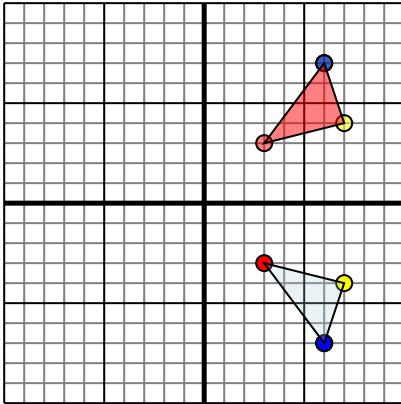
Reflejar la forma sobre el eje x.

- 1. _____
- 2. _____
- 3. _____
- 4. _____



Reflejar cada figura como se describe.

1)

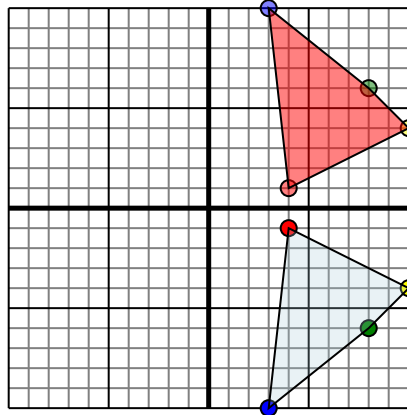


La forma anterior tiene las siguientes coordenadas:

- A. (3,-3)
- B. (7,-4)
- C. (6,-7)

Reflejar la forma sobre el eje x.

2)

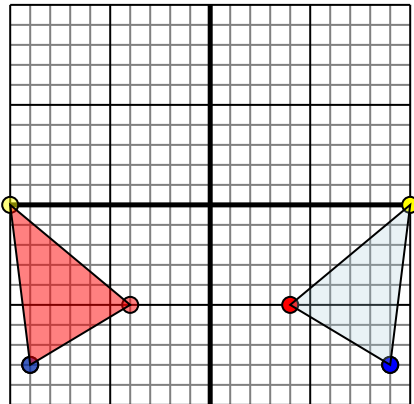


La forma anterior tiene las siguientes coordenadas:

- A. (4,-1)
- B. (10,-4)
- C. (8,-6)
- D. (3,-10)

Reflejar la forma sobre el eje x.

3)

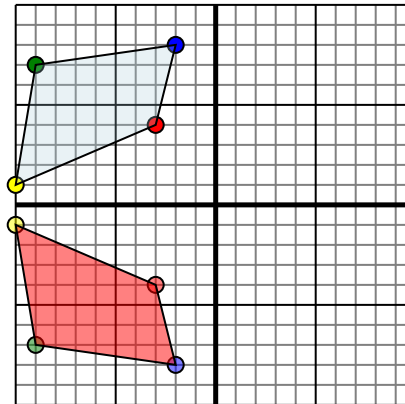


La forma anterior tiene las siguientes coordenadas:

- A. (4,-5)
- B. (10,0)
- C. (9,-8)

Reflejar la forma sobre el eje y.

4)



La forma anterior tiene las siguientes coordenadas:

- A. (-3,4)
- B. (-10,1)
- C. (-9,7)
- D. (-2,8)

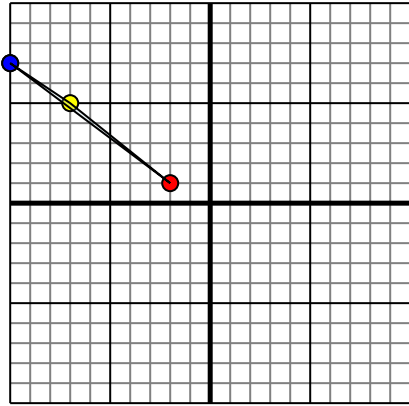
Reflejar la forma sobre el eje x.

Respuestas1. **3,3 7,4 6,7** gráfica2. **4,1 10,4 8,6 3,10** gráfica3. **-4,-5 -10,0 -9,-8** gráfica4. **-3,-4 -10,-1 -9,-7 -2,-8** gráfica



Reflejar cada figura como se describe.

1)

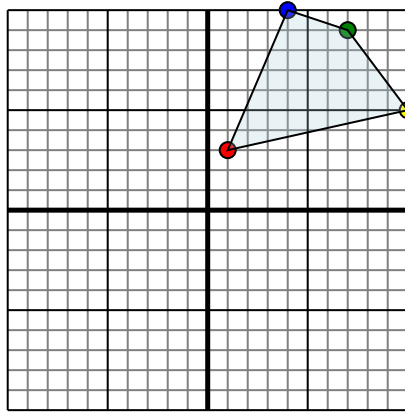


La forma anterior tiene las siguientes coordenadas:

- A. (-2,1)
- B. (-7,5)
- C. (-10,7)

Reflejar la forma sobre el eje y.

2)

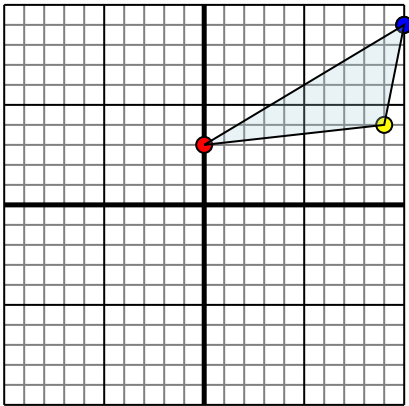


La forma anterior tiene las siguientes coordenadas:

- A. (1,3)
- B. (10,5)
- C. (7,9)
- D. (4,10)

Reflejar la forma sobre el eje y.

3)

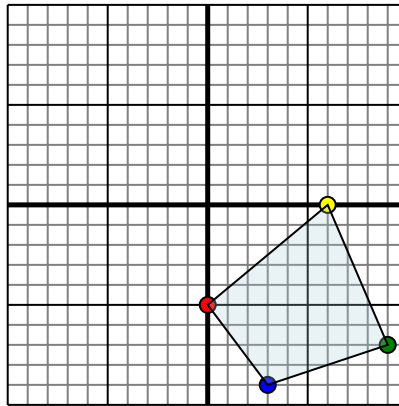


La forma anterior tiene las siguientes coordenadas:

- A. (0,3)
- B. (9,4)
- C. (10,9)

Reflejar la forma sobre el eje y.

4)



La forma anterior tiene las siguientes coordenadas:

- A. (0,-5)
- B. (6,0)
- C. (9,-7)
- D. (3,-9)

Reflejar la forma sobre el eje y.

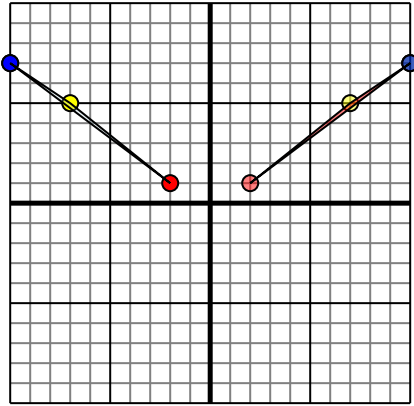
Respuestas

- 1. _____
- 2. _____
- 3. _____
- 4. _____



Reflejar cada figura como se describe.

1)

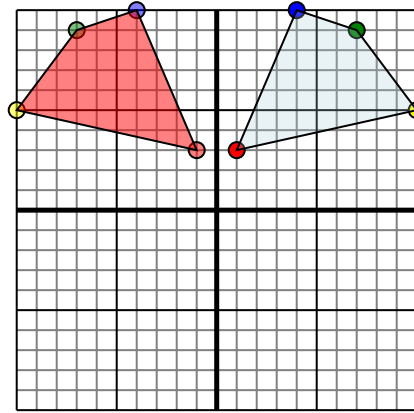


La forma anterior tiene las siguientes coordenadas:

- A. (-2,1)
- B. (-7,5)
- C. (-10,7)

Reflejar la forma sobre el eje y.

2)

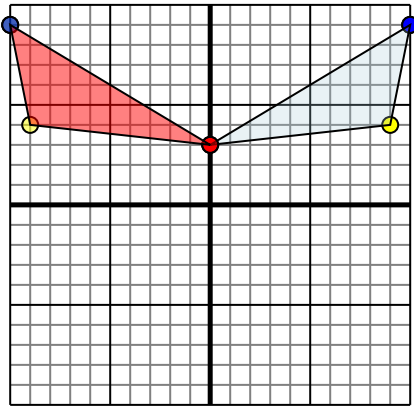


La forma anterior tiene las siguientes coordenadas:

- A. (1,3)
- B. (10,5)
- C. (7,9)
- D. (4,10)

Reflejar la forma sobre el eje y.

3)

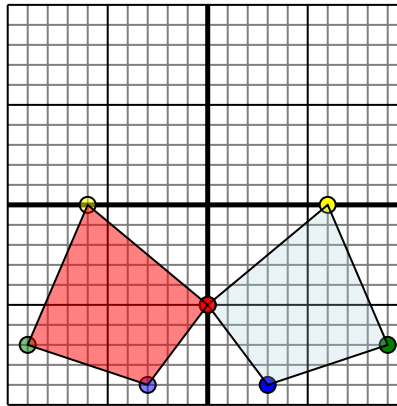


La forma anterior tiene las siguientes coordenadas:

- A. (0,3)
- B. (9,4)
- C. (10,9)

Reflejar la forma sobre el eje y.

4)



La forma anterior tiene las siguientes coordenadas:

- A. (0,-5)
- B. (6,0)
- C. (9,-7)
- D. (3,-9)

Reflejar la forma sobre el eje y.

Respuestas

1. **2,1** **7,5** **10,7** gráfica
2. **-1,3** **-10,5** **-7,9** **-4,10** gráfica
3. **0,3** **-9,4** **-10,9** gráfica
4. **0,-5** **-6,0** **-9,-7** **-3,-9** gráfica