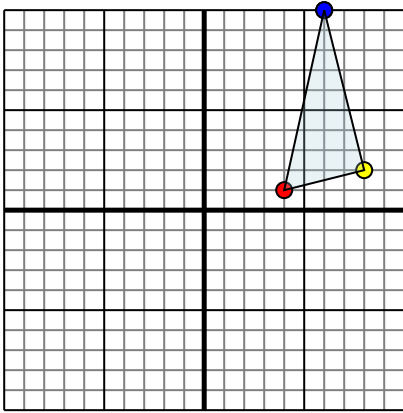




Reflejar cada figura como se describe.

Respuestas

1)

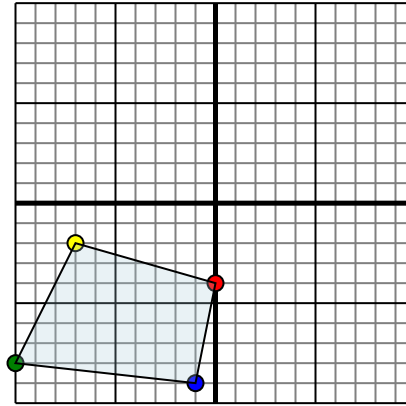


La forma anterior tiene las siguientes coordenadas:

- A. (4,1)
- B. (8,2)
- C. (6,10)

Reflejar la forma sobre el eje x.

2)

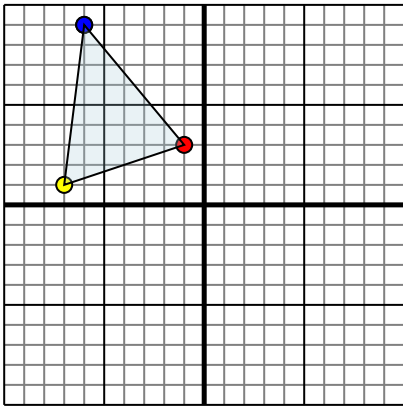


La forma anterior tiene las siguientes coordenadas:

- A. (0,-4)
- B. (-7,-2)
- C. (-10,-8)
- D. (-1,-9)

Reflejar la forma sobre el eje y.

3)

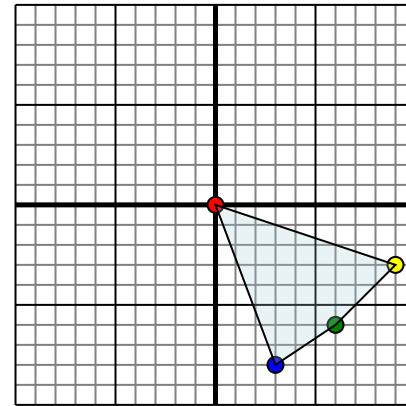


La forma anterior tiene las siguientes coordenadas:

- A. (-1,3)
- B. (-7,1)
- C. (-6,9)

Reflejar la forma sobre el eje y.

4)



La forma anterior tiene las siguientes coordenadas:

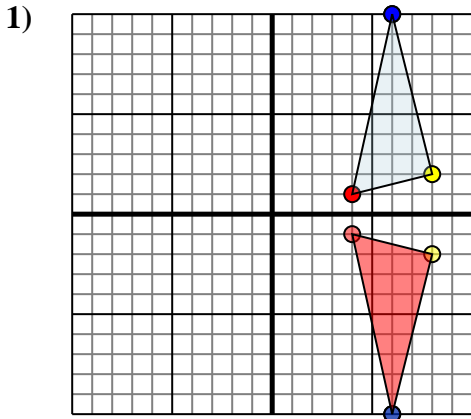
- A. (0,0)
- B. (9,-3)
- C. (6,-6)
- D. (3,-8)

Reflejar la forma sobre el eje y.

- 1. _____
- 2. _____
- 3. _____
- 4. _____



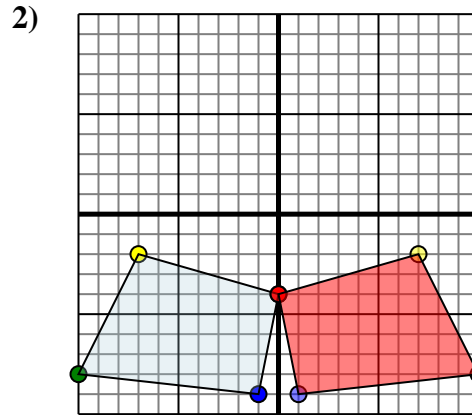
Reflejar cada figura como se describe.



La forma anterior tiene las siguientes coordenadas:

- A. (4,1)
- B. (8,2)
- C. (6,10)

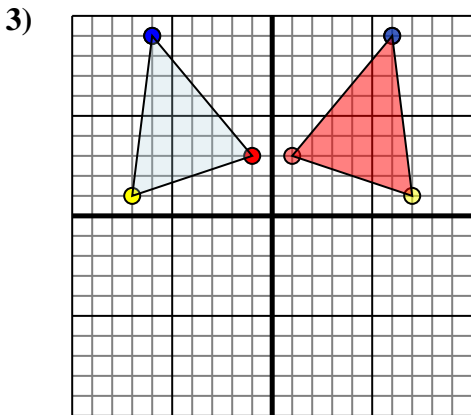
Reflejar la forma sobre el eje x.



La forma anterior tiene las siguientes coordenadas:

- A. (0,-4)
- B. (-7,-2)
- C. (-10,-8)
- D. (-1,-9)

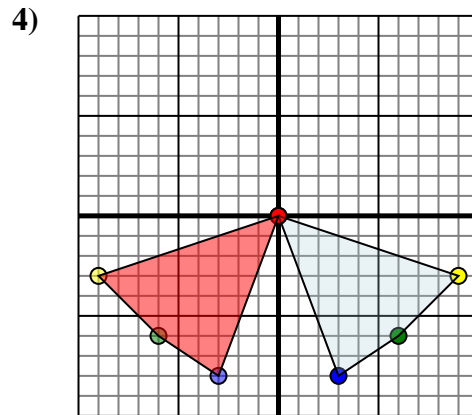
Reflejar la forma sobre el eje y.



La forma anterior tiene las siguientes coordenadas:

- A. (-1,3)
- B. (-7,1)
- C. (-6,9)

Reflejar la forma sobre el eje y.



La forma anterior tiene las siguientes coordenadas:

- A. (0,0)
- B. (9,-3)
- C. (6,-6)
- D. (3,-8)

Reflejar la forma sobre el eje y.

Respuestas

1. **4,-1** **8,-2** **6,-10** gráfica
2. **0,-4** **7,-2** **10,-8** **1,-9** gráfica
3. **1,3** **7,1** **6,9** gráfica
4. **0,0** **-9,-3** **-6,-6** **-3,-8** gráfica