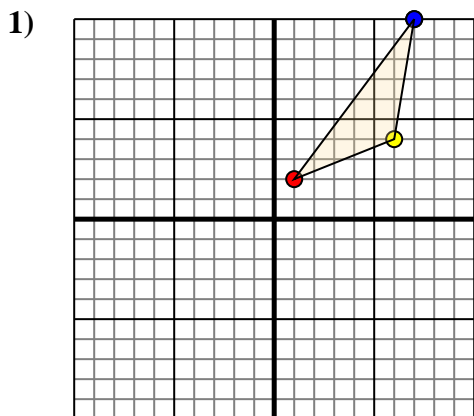




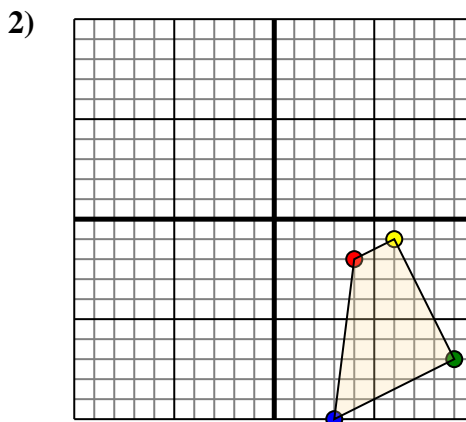
Trasladar cada figura como se describe.



La forma anterior tiene las siguientes coordenadas:

- A. (1,2)
- B. (6,4)
- C. (7,10)

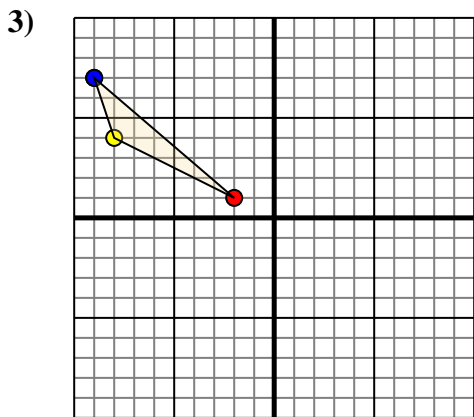
Mueva la forma 5 unidades a la izquierda y 7 unidades a la hacia abajo.



La forma anterior tiene las siguientes coordenadas:

- A. (4,-2)
- B. (6,-1)
- C. (9,-7)
- D. (3,-10)

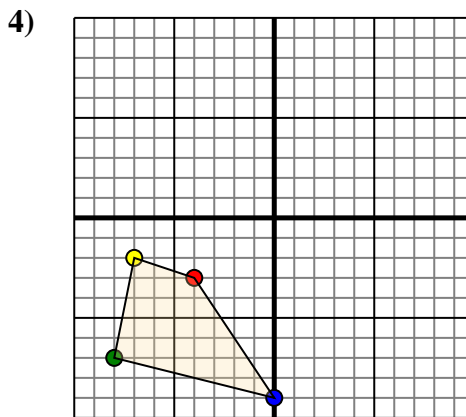
Mueva la forma 3 unidades a la izquierda y 6 unidades a la hacia arriba.



La forma anterior tiene las siguientes coordenadas:

- A. (-2,1)
- B. (-8,4)
- C. (-9,7)

Mueva la forma 9 unidades a la derecha y 6 unidades a la hacia abajo.



La forma anterior tiene las siguientes coordenadas:

- A. (-4,-3)
- B. (-7,-2)
- C. (-8,-7)
- D. (0,-9)

Mueva la forma 5 unidades a la derecha y 3 unidades a la hacia arriba.

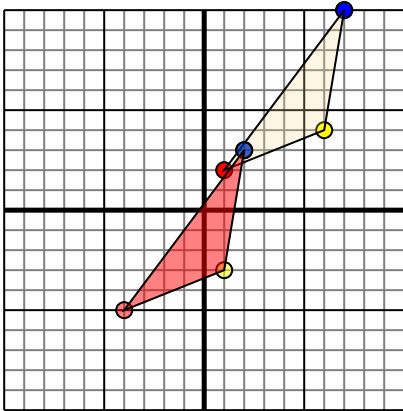
Respuestas

- 1. _____ [gráfica](#)
- 2. _____ [gráfica](#)
- 3. _____ [gráfica](#)
- 4. _____ [gráfica](#)



Trasladar cada figura como se describe.

1)

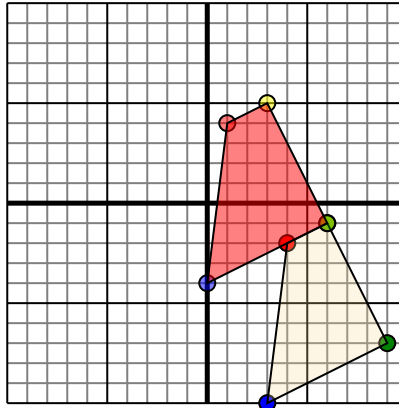


La forma anterior tiene las siguientes coordenadas:

- A. (1,2)
- B. (6,4)
- C. (7,10)

Mueva la forma 5 unidades a la izquierda y 7 unidades a la hacia abajo.

2)

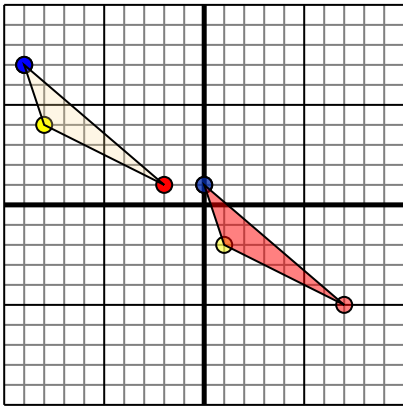


La forma anterior tiene las siguientes coordenadas:

- A. (4,-2)
- B. (6,-1)
- C. (9,-7)
- D. (3,-10)

Mueva la forma 3 unidades a la izquierda y 6 unidades a la hacia arriba.

3)

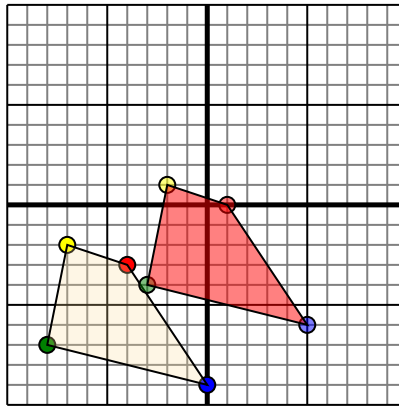


La forma anterior tiene las siguientes coordenadas:

- A. (-2,1)
- B. (-8,4)
- C. (-9,7)

Mueva la forma 9 unidades a la derecha y 6 unidades a la hacia abajo.

4)



La forma anterior tiene las siguientes coordenadas:

- A. (-4,-3)
- B. (-7,-2)
- C. (-8,-7)
- D. (0,-9)

Mueva la forma 5 unidades a la derecha y 3 unidades a la hacia arriba.

Respuestas

1. -4,-5 1,-3 2,3 [gráfica](#)
2. 1,4 3,5 6,-1 0,-4 [gráfica](#)
3. 7,-5 1,-2 0,1 [gráfica](#)
4. 1,0 -2,1 -3,-4 5,-6 [gráfica](#)