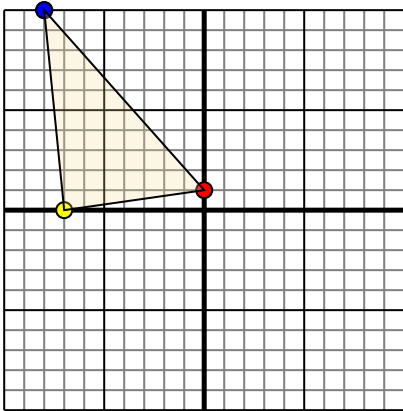




Trasladar cada figura como se describe.

Respuestas

1)

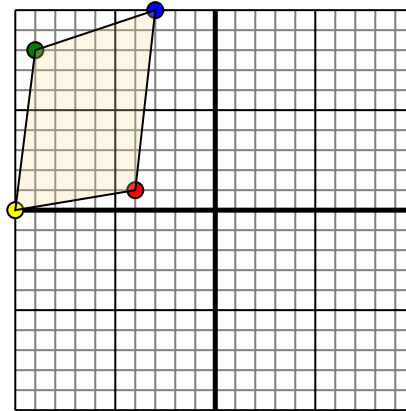


La forma anterior tiene las siguientes coordenadas:

- A. (0,1)
- B. (-7,0)
- C. (-8,10)

Mueva la forma 6 unidades a la derecha y 3 unidades a la hacia abajo.

2)

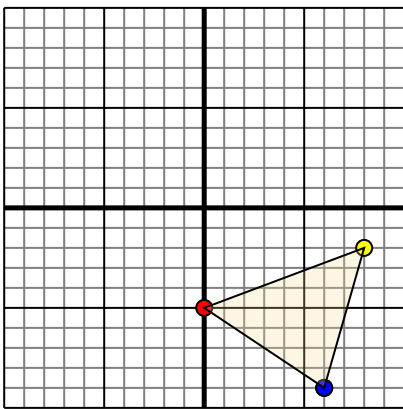


La forma anterior tiene las siguientes coordenadas:

- A. (-4,1)
- B. (-10,0)
- C. (-9,8)
- D. (-3,10)

Mueva la forma 4 unidades a la derecha y 10 unidades a la hacia abajo.

3)

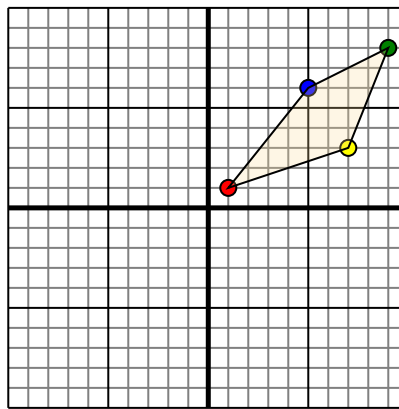


La forma anterior tiene las siguientes coordenadas:

- A. (0,-5)
- B. (8,-2)
- C. (6,-9)

Mueva la forma 7 unidades a la a la izquierda y 10 unidades a la hacia arriba.

4)



La forma anterior tiene las siguientes coordenadas:

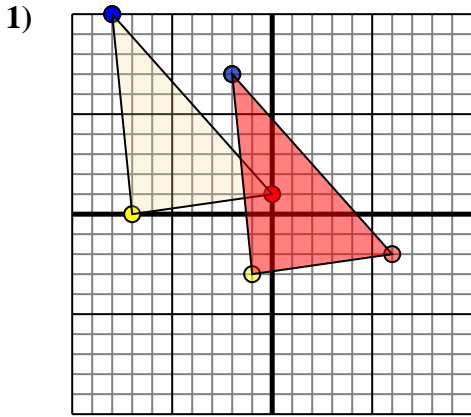
- A. (1,1)
- B. (7,3)
- C. (9,8)
- D. (5,6)

Mueva la forma 10 unidades a la a la izquierda y 3 unidades a la hacia abajo.

- 1. _____ [gráfica](#)
- 2. _____ [gráfica](#)
- 3. _____ [gráfica](#)
- 4. _____ [gráfica](#)



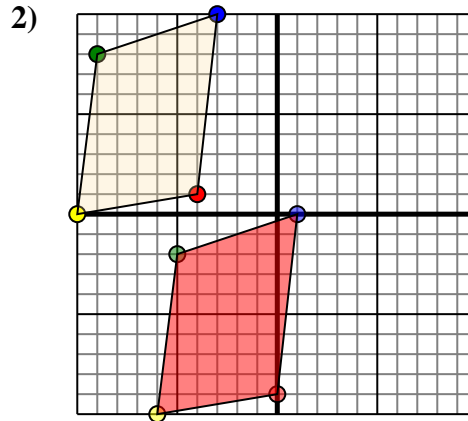
Trasladar cada figura como se describe.



La forma anterior tiene las siguientes coordenadas:

- A. (0,1)
- B. (-7,0)
- C. (-8,10)

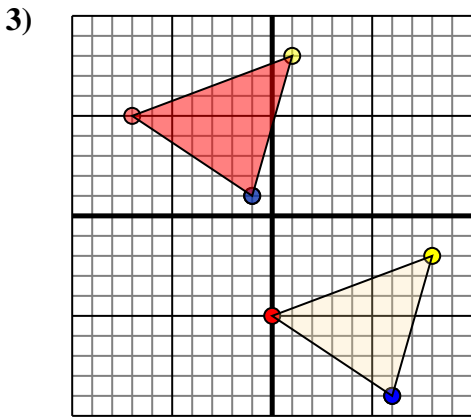
Mueva la forma 6 unidades a la derecha y 3 unidades a la hacia abajo.



La forma anterior tiene las siguientes coordenadas:

- A. (-4,1)
- B. (-10,0)
- C. (-9,8)
- D. (-3,10)

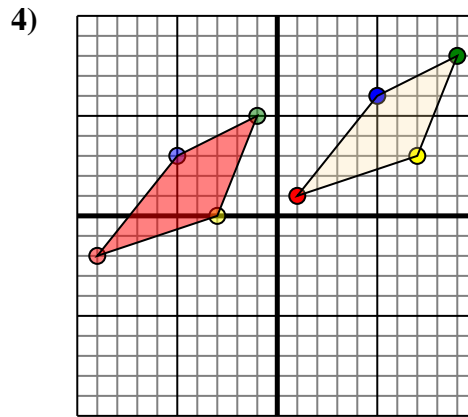
Mueva la forma 4 unidades a la derecha y 10 unidades a la hacia abajo.



La forma anterior tiene las siguientes coordenadas:

- A. (0,-5)
- B. (8,-2)
- C. (6,-9)

Mueva la forma 7 unidades a la a la izquierda y 10 unidades a la hacia arriba.



La forma anterior tiene las siguientes coordenadas:

- A. (1,1)
- B. (7,3)
- C. (9,8)
- D. (5,6)

Mueva la forma 10 unidades a la a la izquierda y 3 unidades a la hacia abajo.

Respuestas

1. **6,-2** **-1,-3** **-2,7** [gráfica](#)
2. **0,-9** **-6,-10** **-5,-2** **1,0** [gráfica](#)
3. **-7,5** **1,8** **-1,1** [gráfica](#)
4. **-9,-2** **-3,0** **-1,5** **-5,3** [gráfica](#)