


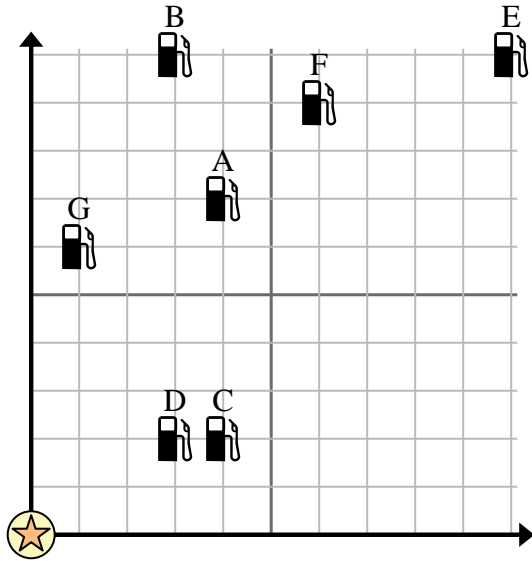




Usa la cuadrícula para resolver cada problema.

-  = Gasolinera
-  = Centro comercial
-  = 1 Square Milla






- 1) Los inversores querían construir una nueva estación de servicio, pero querían asegurarse de que estuviera al menos a 2 millas de una estación preexistente. ¿Deberían construir una gasolinera a 9 millas al este y 5 millas al norte del centro comercial?
- 2) ¿Qué gasolinera está más cerca del centro comercial?
- 3) ¿Qué gasolinera está más lejos del centro comercial?
- 4) ¿Qué gasolinera está más lejos de south? ¿Estación G o estación C?
- 5) Si fueras 6 millas al este y 9 millas al norte desde el centro comercial, ¿en qué gasolinera terminarías?

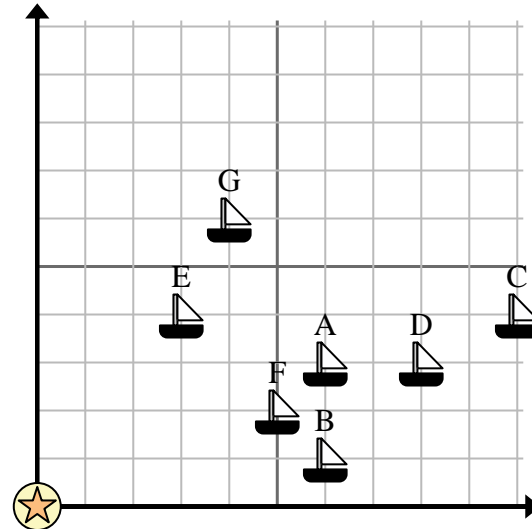
Respuestas

1. _____
2. _____
3. _____
4. _____
5. _____
6. _____
7. _____
8. _____
9. _____
10. _____

- 6) Un barco nuevo quería pescar, pero el capitán quería asegurarse de que estuvieran al menos a 2 millas de otro barco. Si navegaba 6 millas al este y 7 millas al norte, ¿le vendría bien ese lugar?




-  = Barco
-  = Boya
-  = 1 Square Milla

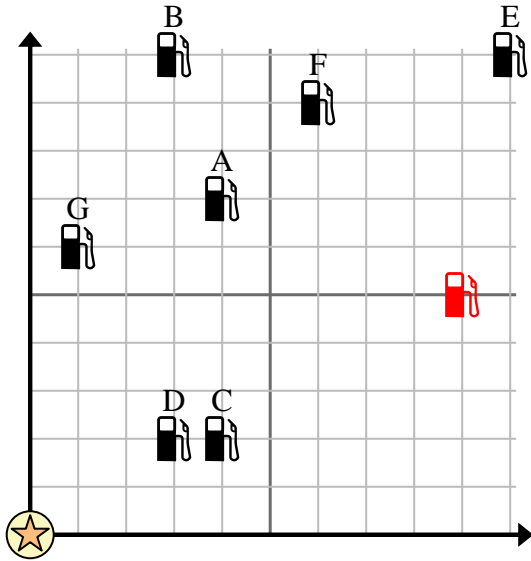
- 7) ¿Qué barco está más cerca de la boya?
- 8) ¿Qué barco está más lejos de la boya?
- 9) ¿Qué barco está más lejos de south? ¿Enviar G o enviar C?
- 10) ¿Qué barco está a 5 millas al este y 2 millas al norte de la boya?





Usa la cuadrícula para resolver cada problema.




-  = Gasolinera
-  = Centro comercial
-  = 1 Square Milla



- 1) Los inversores querían construir una nueva estación de servicio, pero querían asegurarse de que estuviera al menos a 2 millas de una estación preexistente. ¿Deberían construir una gasolinera a 9 millas al este y 5 millas al norte del centro comercial?
- 2) ¿Qué gasolinera está más cerca del centro comercial?
- 3) ¿Qué gasolinera está más lejos del centro comercial?
- 4) ¿Qué gasolinera está más lejos de south? ¿Estación G o estación C?
- 5) Si fueras 6 millas al este y 9 millas al norte desde el centro comercial, ¿en qué gasolinera terminarías?

Respuestas

1. si
2. D
3. E
4. C
5. F
6. si
7. E
8. C
9. C
10. F

- 6) Un barco nuevo quería pescar, pero el capitán quería asegurarse de que estuvieran al menos a 2 millas de otro barco. Si navegaba 6 millas al este y 7 millas al norte, ¿le vendría bien ese lugar?
-  = Barco
 -  = Boya
 -  = 1 Square Milla

- 7) ¿Qué barco está más cerca de la boya?
- 8) ¿Qué barco está más lejos de la boya?
- 9) ¿Qué barco está más lejos de south? ¿Enviar G o enviar C?
- 10) ¿Qué barco está a 5 millas al este y 2 millas al norte de la boya?

