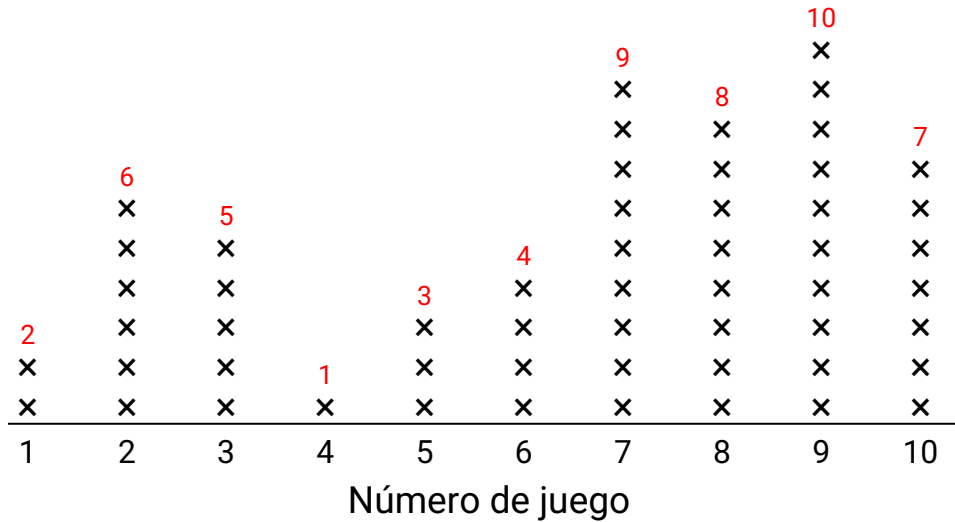


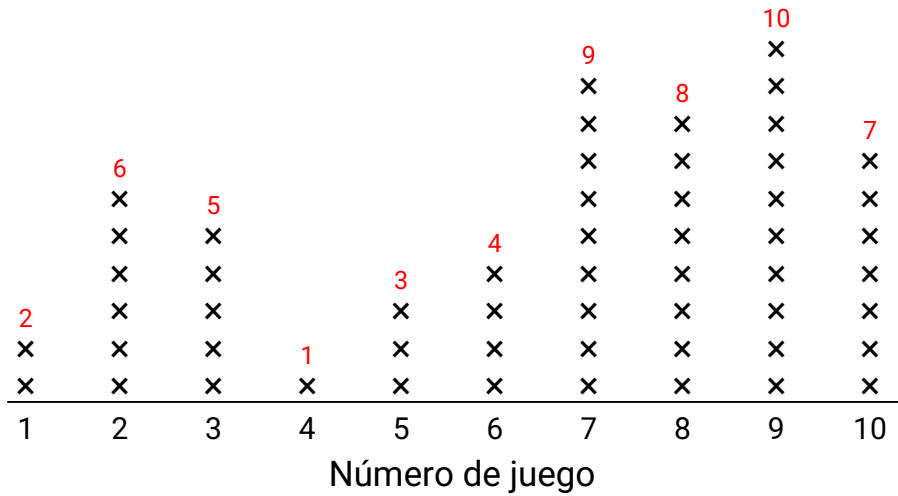


Usa la gráfica de líneas para responder cada pregunta.


**Respuestas**



1) ¿Cuál es el total combinado de jonrones que anotaron en el juego 8 y el juego 3?

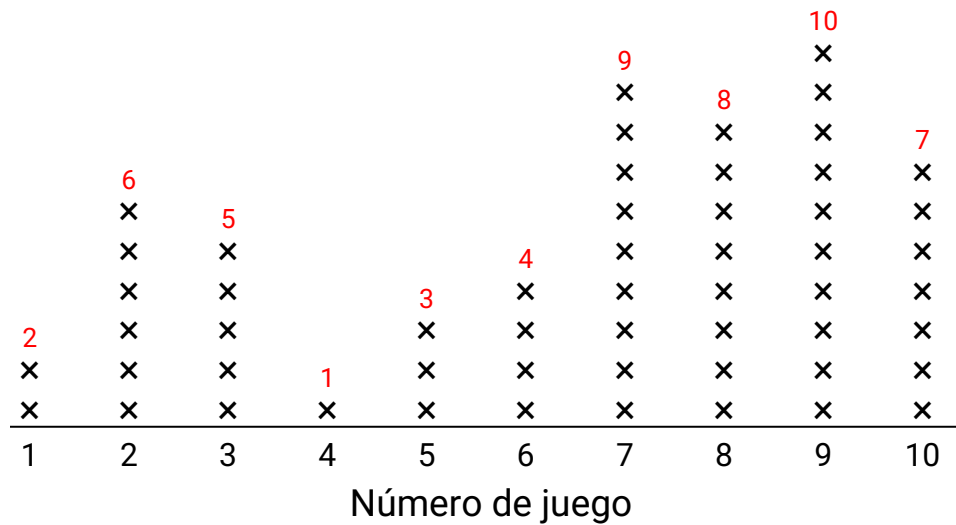


2) ¿En qué juego hicieron la menor cantidad de jonrones?





Usa la gráfica de líneas para responder cada pregunta.



1) ¿Cuál es el total combinado de jonrones que anotaron en el juego 8 y el juego 3?

Cada x = 1 carrera

Cada x = 1 carrera

Cada x = 1 carrera

**Respuestas**

1. **13**
2. **4**
3. **9**
4. **7**
5. **6**
6. **6**
7. **9**
8. **4**
9. **2,7,8,9,10**
10. **6**
11. **2**

2) ¿En qué juego hicieron la menor cantidad de jonrones?