



Medir cada una de las barras (en centímetros) y después generar una gráfica de líneas basado en la información.

Respuestas1) 


1. _____

2) 

2. _____

3) 

3. _____

4) 

4. _____

5) 

5. _____

6) 

6. _____

7) 

7. _____

8) 


8. _____

9) 

9. _____

10) 


10. _____

11) 

11. _____

12) 

12. _____

13) 

13. _____

14) 

14. _____

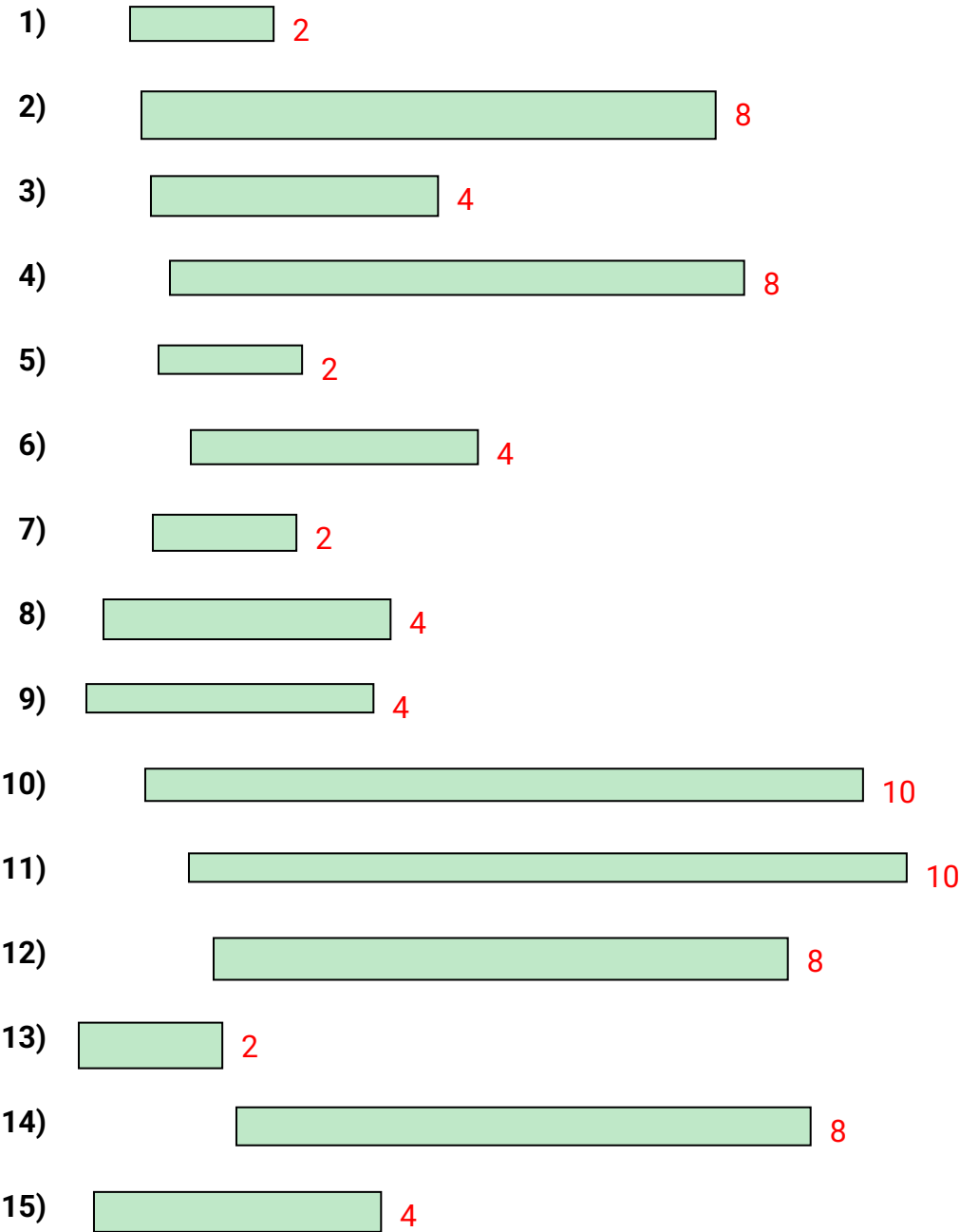
15) 

15. _____

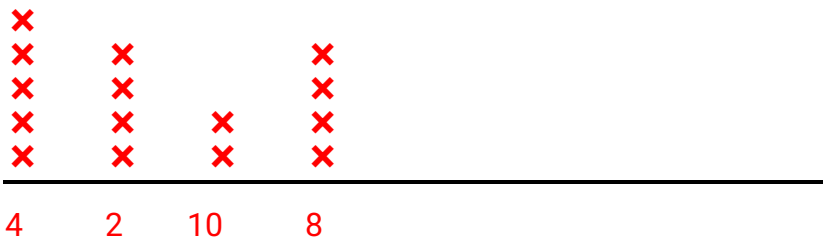
Line Plot



Medir cada una de las barras (en centímetros) y después generar una gráfica de líneas basado en la información.



Line Plot



Respuestas

1. 2
2. 8
3. 4
4. 8
5. 2
6. 4
7. 2
8. 4
9. 4
10. 10
11. 10
12. 8
13. 2
14. 8
15. 4