



Medir cada una de las barras (en centímetros) y después generar una gráfica de líneas basado en la información.


Respuestas



1. _____



2. _____




3. _____



4. _____



5. _____



6. _____




7. _____



8. _____




9. _____




10. _____




11. _____



12. _____



13. _____



14. _____



15. _____

Line Plot



Medir cada una de las barras (en centímetros) y después generar una gráfica de líneas basado en la información.

Respuestas



- 1. 8
- 2. 8
- 3. 8
- 4. 10
- 5. 5
- 6. 4
- 7. 5
- 8. 6
- 9. 8
- 10. 8
- 11. 10
- 12. 10
- 13. 4
- 14. 5
- 15. 10

Line Plot

