



Medir cada una de las barras (en centímetros) y después generar una gráfica de líneas basado en la información.

Respuestas



1. _____



2. _____




3. _____




4. _____



5. _____



6. _____



7. _____




8. _____



9. _____



10. _____



11. _____



12. _____



13. _____



14. _____



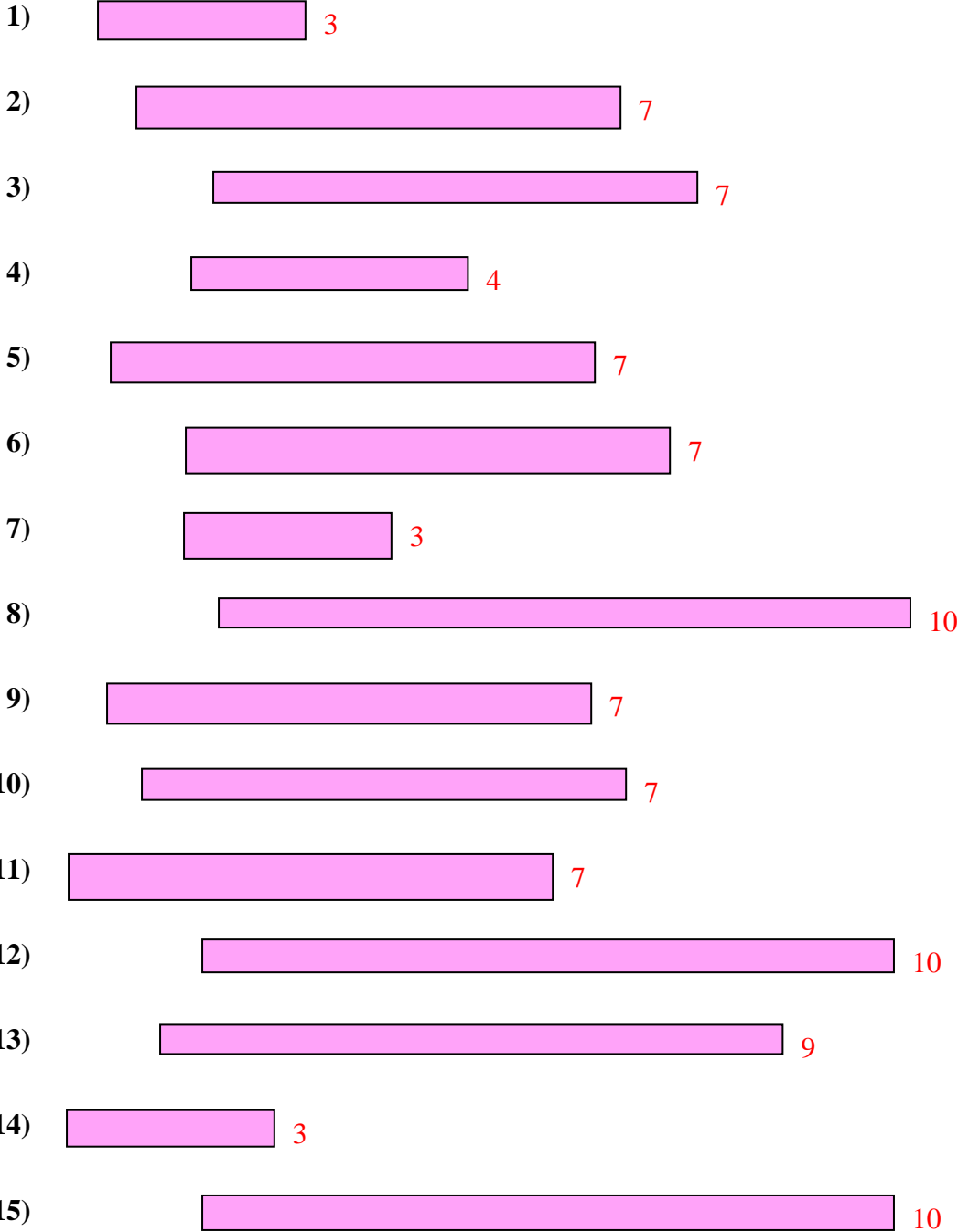
15. _____

Line Plot



Medir cada una de las barras (en centímetros) y después generar una gráfica de líneas basado en la información.

Respuestas



- 1. 3
- 2. 7
- 3. 7
- 4. 4
- 5. 7
- 6. 7
- 7. 3
- 8. 10
- 9. 7
- 10. 7
- 11. 7
- 12. 10
- 13. 9
- 14. 3
- 15. 10

Line Plot

