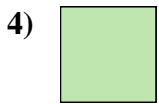





Medir el ancho de cada bloque en pulgadas y en centímetros.



Respuestas

Ej. 1 2-3

1. _____

2. _____

3. _____

4. _____

5. _____

6. _____

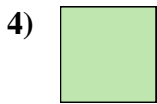

7. _____

8. _____

9. _____



Medir el ancho de cada bloque en pulgadas y en centímetros.



Respuestas

- Ej. 1 2 - 3
1. 1 1/2 3 - 4
2. 5 12 - 13
3. 5 1/2 13 - 14
4. 0 1/2 1 - 2
5. 3 7 - 8
6. 2 5 - 6
7. 4 10 - 11
8. 4 1/2 11 - 12
9. 3 1/2 8 - 9