
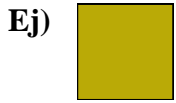




Medir el ancho de cada bloque en pulgadas y en centímetros.



Respuestas

Ej. 0 1/2 1 - 2

1. _____

2. _____

3. _____

4. _____

5. _____

6. _____


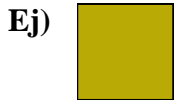
7. _____

8. _____

9. _____



Medir el ancho de cada bloque en pulgadas y en centímetros.



Respuestas

Ej. 0 1/2 1 - 2

1. 1 2 - 3

2. 5 1/2 13 - 14

3. 3 7 - 8

4. 4 10 - 11

5. 2 1/2 6 - 7

6. 3 1/2 8 - 9

7. 1 1/2 3 - 4

8. 2 5 - 6

9. 5 12 - 13